



2017 年山东公务员考试

行测真题



扫描二维码, 关注厚职公考官方公众号获取更多真题和资料
厚职公考网 (www.houzhiwang.com) 整理提供



2017 年山东省公务员 考试行政职业能力测验真题卷

第一部分 言语理解与表达

(共 30 题, 参考时限 30 分钟)

本部分包括逻辑填空和片段阅读两种题型。

一、逻辑填空。从题后所给的四个选项中选出最符合文意的一项。

1. 美好的记忆, 相信没有人舍得删除。从有利于人们身心健康的方向出发, 科学家对于删除记忆的研究, 从使人_____痛苦开始。

填入画横线部分最恰当的一项是 ()

- A. 逃离
- B. 忘却
- C. 摆脱
- D. 体验

2. 解决当今人类遭遇的各种难题和危机, 单靠一种文明价值的智慧和能量, 常常显得_____。只有充分挖掘和利用各种不同禀性的文明价值资源, 才能帮助人类破解难题、走出危机。

填入画横线部分最恰当的一项是 ()

- A. 捉襟见肘
- B. 格格不入
- C. 于事无补
- D. 顾此失彼

3. 只要观察一下语言的变迁史, 就会发现, 语言体系一直具有强悍的自我_____机制, 会以一种温和的集体_____模式, 淘汰那些失效的语词。这意味着语言会利用时间效应来进行自我筛选和自我净化, 只有数量很少的新语词能够穿越这种“时间筛子”, 成为上一历史时段的“舌尖遗产”。

依次填入画横线部分最恰当的一项是 ()

- A. 更新 清洁
- B. 完善 舍弃
- C. 过滤 遗忘
- D. 修正 扫除

4. 从一开始, 网络的开拓者们就相信: 如果互联网要变成一个全球化的体系, 一个开放、合作和透明的管理模式是_____的。而这种模式基于自愿采纳原则, 因为分享是它最大的_____。

依次填入画横线部分最恰当的一项是 ()

- A. 必不可少 回报
- B. 与生俱来 亮点
- C. 不可或缺 创新
- D. 事半功倍 动力

5. 不可否认, _____的阻隔, 是阻碍情感交流的一个重要原因。但无论是语音聊天, 还是视频通讯, 其_____便是不断缩短空间的距离。我们或许无法做到“父母在, 不远游”, 但至少可以多跟家人分享一下自己的喜怒哀乐, 让父母在亲情的喃语中得到心灵的慰藉。

依次填入画横线部分最恰当的一项是 ()

- A. 时空 意义



- B. 地域 初衷
- C. 环境 作用
- D. 信息 目的

6. 在很长的一个时期内, 南极洲对人们来说是一个_____的地方, 古代和中世纪的地理学家, 往往把南极周围画成一片无边无际的海洋, 或者画成一个环形的海岛。从 16 世纪起, 在几乎所有的地图上都画着南极的土地, 但地理学家都是凭着自己的_____画出来的, 因为谁也没有见过这块土地。

依次填入画横线部分最恰当的一项是 ()

- A. 广阔无垠 经验
- B. 神秘莫测 理解
- C. 人迹罕至 推理
- D. 一无所知 想象

7. 我们这一辈人所享受到的现代生活, 就像一座越来越豪华、先进、舒适的大厦。生活在这样一座大厦中, 不能只是_____。每个人不管这一辈子有多长, 也不管能力大还是能力小, 总要多多少少为这座大厦的发展和完善_____, 多多少少为这个世界留下点什么。

依次填入画横线部分最恰当的一项是 ()

- A. 坐享其成 添砖加瓦
- B. 好逸恶劳 出谋划策
- C. 得过且过 竭尽全力
- D. 拈轻怕重 精益求精

8. 说德语的人方向感和次序感更强, 说英语的人则更重视动作本身。根据英国最新研究结果, 不同语言语法上的_____会显著影响到以其为母语的人的认知能力。熟练掌握一门外语, 能使人在_____中获得认知能力的扩展。

依次填入画横线部分最恰当的一项是 ()

- A. 差异 潜移默化
- B. 特点 耳濡目染
- C. 对比 日积月累
- D. 区别 不知不觉

9. 在娱乐方式多元化的今天, “_____”是不少人 (特别是中青年群体) 对待戏曲的态度。这里面固然存在_____的偏见、难以静下心来欣赏戏曲之美等因素, 却也有另一个无法回避的原因: 一些戏曲虽然与观众之间没有屏幕之隔, 却用艺术化的表演, 讲述着与观众距离较远的生活。

依次填入画横线部分最恰当的一项是 ()

- A. 望洋兴叹 我行我素
- B. 望而生畏 一叶障目
- C. 敬而远之 先入为主
- D. 知难而退 固步自封

10. 晚明江南的富裕, 提供了附庸风雅的环境与条件, 使得饮茶风尚引发了名牌效应。先是苏州虎丘茶风行, 然后有大方和尚以虎丘制茶法在徽州松萝山制茶, 造就了明末_____的松萝茶。一旦成了名牌, 人们追求时尚, _____, 商家就有了商机, 争相仿制, 价格也直线上升。

依次填入画横线部分最恰当的一项是 ()

- A. 如雷贯耳 一掷千金



- B. 闻名遐尔 如影随形
- C. 声名鹊起 趋之若鹜
- D. 风靡一时 蜂拥而至

二、片段阅读。每道题包含一段文字, 要求你从四个选项中选出最恰当的一项, 你的选择必须与题干要求相符合。

11. 长期处于草根状态的民间文化, 大多难有连续性的书面记载。“非遗”申报的制度化要求, 使申报本身成为步履维艰、绞尽脑汁的过程。最终, 可能表格填得工工整整, 视频也做得精美绝伦, 但在一定程度上, 却是将原本活态的文化形式化的过程。如此, 便失去了申报“非遗”最初的意义与目的。

这段文字意在强调 ()

- A. 我国的民间文化缺乏系统化和连续性的传承
- B. “非遗”申报制度与民间文化的特点不相适应
- C. 民间文化在申报“非遗”时遇到了极大的阻力
- D. 教条化的评价标准抑制了民间文化的生命力

12. _____。在中国, 新经济大多属于行政管理的范畴, 在企业的准入、监管乃至人事制度领域, 均存在不少过去体制遗留的障碍。应尽快推出负面清单, 为新经济松绑。在旧经济保持增量的同时, 通过新经济提质。未来, 高科技产业和高附加值的现代服务业, 将是中国经济的新引擎。与过往靠基础设施投资和制造业拉动经济增长的模式相比, 政府调控与监管的观念、体制均需转变。过去那种把持行政审批来大上项目的做法, 显然是行不通了。

填入画横线部分最恰当的一项是 ()

- A. 中国发展方式转型迫切需要现代国家治理体系
- B. 经济模式创新急需打破思维方式的禁锢
- C. 要发展经济, 需要厘清市场与政府的边界
- D. 新经济是否能发展, 取决于新技术能否及时补位

13. 无论出于什么原因, 网络语言低俗化都对网络文明建设造成了危害, 甚至会从网上转到网下, 降低整个社会的文明程度。当前, 网络语言的发展路径已经很清晰: 从虚拟空间进入口语表达, 再进入书面语, 最终有可能沉淀到语言应用的各个方面。如果任由网络低俗语言发展, 久而久之它们就会成为约定俗成的惯用语, 其负面效应不容忽视。

这段文字意在说明 ()

- A. 网络语言低俗化的负面效应已开始凸显
- B. 网络语言低俗化将会影响社会文明程度
- C. 应该警惕网络语言向习惯语转化的可能
- D. 急需采取措施治理网络语言低俗化趋势

14. 研究者对大熊猫肠道内的微生物进行分析后发现, 虽然原本食肉的熊猫为了适应食物稀缺的环境而在距今 240 万到 200 万年间转为以竹子为食, 并为此进化出了强壮的颌骨, 但它们却没有进化出更长的消化道或分泌特定消化酶的能力, 从而无法有效地分解竹纤维素。

最适合做这段文字标题的是 ()

- A. 口是腹非
- B. 竹子与熊猫
- C. 尚未完成的进化
- D. 适应环境还是改变自己



15. 必读的书目都是被规定的经典, 学生没有相对自由的选择权, 而学生的喜好倾向、阅读能力各有不同, 对于经典书目的阅读水准也千差万别。以作业形式出现的阅读要求, 过多地讲究对段意的概括、人物的分析、读后的感想。这些阅读技法实则困囿了学生的视野, 不仅徒增负担, 也降低了他们的兴趣。殊不知, “_____”, 通过阅读要教会学生的不单是阅读的技法, 更重要的是帮助他们培养一种洞察、鉴赏和运用的能力。

填入画横线部分最恰当的一项是 ()

- A. 授人以鱼, 不如授人以渔
- B. 欲速则不达, 见小利则大事不成
- C. 形而上者谓之道, 形而下者谓之器
- D. 知之者不如好之者, 好之者不如乐之者

16. 近年来跨境电商以 30%左右的增速在持续高速发展, 但进口商品增值税等税收占全国总税收比重却持续下降, 2015 年进口商品税收比 2014 年下降了近 2000 亿元。进口商品税收不仅未能伴随跨境电商的发展而同步增长, 反而出现了较大幅度的下降。跨境电商税收新政有助于促进跨境电商与一般贸易税收体制的接轨, 也有助于形成相关税收正常的增长机制。

这段文字意在说明 ()

- A. 进口商品税收与跨境电商发展密切相关
- B. 跨境电商税收新政出台有助于增加税收
- C. 跨境电商与一般贸易税收体制如何接轨
- D. 如何建立跨境电商税收正常的增长机制

17. 农村衰败、故乡消失, 这是近些年媒体人提出的议题。学者的观察、时评人的关注, 使得正在发生巨变的农村, 被搬入舆论平台的焦点地带, 农村话题时常与娱乐话题一起, 成为社交媒体上的热搜词。但在这个长达十年的农村话题讨论期内, 作家是缺席的。虽然有一种观点认为, 作家面向社会发言最好的方式是作品, 但也有不少人认为, 作家不能仅仅通过写作虚构作品承担社会责任, 巴尔扎克、雨果、托尔斯泰等国外作家, 往往会通过行动以及公开演讲等方式, 对公共事务和社会问题发表意见。

最适合做本段文字标题的是 ()

- A. 农村题材在今天缘何不再吃香
- B. 现代舆论话题中作家的边缘化
- C. 作家在农村衰败议题中的失语
- D. 中外作家应对社会事务的不同

18. 在历史上, 文字有被神圣化的倾向。制度化教育基本上以抄本、刻本和印本上所记载的知识为核心, 而民众在千百年间形成的口耳相传的知识, 长期得不到应有的关注。在今天的教育制度和知识体系中, 虽然有民俗学、文化人类学等关注民众知识和文化的学科, 但总体而言, 这种倾向一直没有得到有效矫正。从 20 世纪中叶开始, 越来越多的学者意识到, 以往偏重书面文化、轻视口头传承的倾向, 给整体把握人类文明进程和知识体系带来了诸多弊端和限制。这种认识上的转变, 形成了人文学术的某些新趋向和新领域, 如“口述历史”“口头诗学”等。

这段文字意在说明 ()

- A. 学术界正在改变口头传承不受重视的状况
- B. 文字被神圣化的倾向需要进一步纠正
- C. 民间文化应纳入现代教育制度和知识体系中
- D. 口头文化是人文学术发展的新趋向和新领域



19. 在亚当·斯密所处的古典时期, 经济学本来在财富增长和人的幸福之间存在一个契合点的, 即理性人趋利避害的自利性选择有一个经济伦理的约束, 这便是后来帕累托改进条件所要求的不损人前提下的利己。可是经济学本身承担的是最大化利益的学科任务, 并且不断引入数学工具和抽象逻辑演绎的分析方法, 这就使经济学越来越成为一个工具理性占上风的学科, 朝着“中性”的、“非价值”判断的、“非道德”选择的趋势发展。

根据这段文字, 我们可以知道 ()

- A. 经济伦理对经济学的约束越来越小
- B. 古典经济学未使用抽象逻辑演绎的方法进行分析
- C. 亚当·斯密时期, 经济学是一门以工具理性为主的学科
- D. 数学工具的引入打破了财富增长和人的幸福之间的契合点

20. 世人所理解的国学, 大都是“中国固有的或传统的学术文化”。而晚清以降的中国文化, 因其接受了西学的洗礼, 很容易被剔除出去。这也是很多大学的国学院在确定研究对象时, 将边界划到辛亥革命的缘故。这么一来, 国学也就成了“博物馆文化”——很优雅, 也很美丽, 但与现实生活越来越远。如何让中国文化重新“血脉贯通”, 是每一个关心国学命运的读书人都必须认真考虑的。

这段文字认为, 国学研究应该 ()

- A. 古今贯通
- B. 西体中用
- C. 去粗取精
- D. 溯本求源

21. 长期以来, 由于我国奉行防御性国防政策, 在战区空间划设上基本立足本土与近海防御, 依照“守疆卫士”模式而建, 军事触角很少延伸到疆土之外。但未来, 我国所面临的发展危机将远远大于生存危机, 要适应维护国家安全与发展利益新要求, 应将周边、海外以及新型安全领域纳入战区经略范围, 进一步拓展战区任务职能, 使其更具外向性、开放性、积极性。尤其是随着多极化、全球化与信息化的飞速发展, 国家传统安全领域开始向太空、网络、信息、电磁等领域拓展, 未来战区经略范围应进一步向太空及临近空间拓展延伸, 着力形成强而有力的多维立体战区空间态势。

这段文字意在表明, 我国 ()

- A. 应拓展国防防御的范围
- B. 国防面临严峻的发展危机
- C. 传统安全领域受到新的挑战
- D. 国防战区经略要顺应时代要求

22. 对于电影文化的保护, 博物馆、档案馆、图书馆、音像资料和私人收藏馆都分担了部分保护职能, 看似大家在争着保护电影文化遗产, 实际上却反映出保护工作的碎片化趋势。每个机构保护一点点, 机构之间缺乏沟通和交流, 缺乏基于保护维度的统一管理。这种碎片化的保护是非常低效的, 因为缺乏沟通必然导致搞不清保护对象的家底, 致使一些保护对象就处于未保护状态。保护对象的分散大大增加了遗产合理利用的难度, 保护的意义和价值就会大打折扣。

这段文字意在说明 ()

- A. 保护主体的分散化, 使电影保护工作困难重重
- B. 沟通是解决电影文化保护工作碎片化的途径
- C. 没有统一的保护制度, 电影文化遗产难以传承
- D. 碎片化分工管理不利于电影文化遗产的保护

23. 大数据时代的到来已经毋庸置疑。在这种情况下, 数据成为一种无形的资源, 但很少有人知道如何将



这种资产“变现”。对于一个普通的企业而言, 企业不仅拥有宝贵的客户数据, 同样也拥有供应商数据以及内部财务、设计、制造、管理等数据, 而在过去的数十年间, 许多中国企业都已经一步步完成信息化应用, 各种信息化工具正在将企业的运营数据化。但少有企业真正从纷繁复杂的数据中获取更多有价值的信息, 数据成为一种资产, 这在很长一段时间内其实只是停留在了表面。

这段文字意在说明 ()

- A. 企业应使用信息化工具实现运营的数据化
- B. 企业应该进一步挖掘数据资产的潜在价值
- C. 将数据变成资产是企业大数据应用的主要目的
- D. 现有数据模式难以满足企业运营数据化的需要

24. ①大约 10 年前, 科学家对生物炭产生了兴趣

②但这项技术渐渐被人遗忘, 其他地方的农民则没有使用生物炭的习惯

③现在, 虽然这个想法已经渐渐淡出人们的视野, 但土壤学家却开始探索将生物炭用于农业以治理污染

④尽管农民们最近才开始接触生物炭, 但实际上生物炭有着悠久的历史

⑤千百年前, 生活在亚马逊河流域的人们就通过加热有机物制造出了生物炭, 并用它造就了被称为“亚马逊黑土”的肥沃土壤

⑥当时, 人们开始关注全球变暖问题, 一部分人期望可以用生物炭将大量碳元素封存在地下

将以上 6 个句子重新排列, 语序正确的是 ()

- A. ④⑤②①⑥③
- B. ④③①⑤⑥②
- C. ⑤①⑥④③②
- D. ⑤⑥②①③④

25. ①但这一技术并不是魔术, 也不是漫画书作者的幻想, 这是在对视频处理和图像的数学表现进行了基础研究后所得到的结果

②现在, “视频显微镜”让我们感觉自己就是一名探险家

③我们发现了一个全新的世界, 在这个世界里, 各种平时看不到的现象变得一目了然

④利用“视频显微镜”来观测那些看不见的微运动, 感觉就像戴上了魔术眼镜或是突然获得了超人般的视觉

⑤这就像几个世纪前出现的第一部光学显微镜, 它帮助人们识别出对健康和安全有威胁的因素

⑥我们在很早之前就已经知道了微运动的存在, 但从未用双眼真正看到过, 软件第一次为科学家展示了这些运动

将以上 6 个句子重新排列, 语序正确的是 ()

- A. ②③④①⑤⑥
- B. ③②④⑤⑥①
- C. ④①⑥⑤②③
- D. ⑥①④③②⑤

26. ①旧大陆的大西洋沿岸, 漂浮的低气压风暴穿越墨西哥洋流的温暖水域, 在西欧形成了比较湿润和温暖的气候

②接着, 这又为原始人类和其他大型食肉动物提供了丰富的食物来源

③因此, 植物生长茂盛, 维持了北极圈以南地区大量食草动物的生存, 比如猛犸象、驯鹿、野牛等

④大约 3 万年前, 欧洲、亚洲北部和美洲的冰川开始融化



⑤触发人类历史的生态变化都与北半球大陆冰川最后一次消退有关

⑥在光秃秃的地表上, 冻原和稀疏的森林首次生长出来

将以上 6 个句子重新排列, 语序正确的是 ()

- A. ①②⑤④⑥③
- B. ④⑥①②③⑤
- C. ⑤④⑥①③②
- D. ⑥①③⑤④②

27. 以往城市的规模取决于周围地区所能生产的粮食数量, 因而, 人口最稠密的城市都分布于流域地区, 如尼罗河流域、新月沃地等。随着工业革命的发展和工厂体系的建立, 大批的人涌入新的工业中心。新城市大量人口因为能从世界各地获得粮食而得到供养。技术和医学上的进步能充分供应洁净的水、改善集中式排水系统和垃圾处理系统、保证充足的粮食供应以及预防和控制传染病, 这些进步使城市生活变得更加舒适, 世界各地的城市也因而开始以极快的速度发展。

这段文字主要说的是 ()

- A. 工业革命推动了世界各地的城市化进程
- B. 工业革命的发生改变了人们的生活方式
- C. 粮食获取渠道的扩展使城市人口迅速增长
- D. 技术和医学的进步提高了人们的生活水平

28. 中国的古代城市都有城墙吗? 在人们以往的印象中, 古代的城市似乎必然有城墙, 尤其是都城, 高耸的城墙彰显着皇权的至高无上, 城墙的失守往往意味着帝国的末日。明清北京城、元大都、北宋汴梁城、隋唐长安城与东都洛阳城……这些城内的里坊格局, 外围的高大城郭, 构成了帝国都城最鲜明的物化表征。

这段文字接下来最有可能讲的是 ()

- A. 帝国都城的发展演变
- B. 古代都城城墙的作用
- C. 皇权与城市格局的关系
- D. 没有城墙的中国古代城市

29. “报刊的有机运动”是马克思提出的关于报刊报道新闻的过程理论, 它被通俗地解释为新闻真实是一个动态的过程。很多时候, 在事件发生初期, 由于报道的不深入, 没有充分的消息源, 新闻传达给受众的信息往往是片面的, 受众的判断也建立在这种片面的事实上。这正是新闻传播的一种特性, 无论是受过专业训练的记者, 还是现在活跃在各种社交平台的“公民记者”, 都没有能力以“上帝视角”观察事件。而且, 新闻报道不是给出最终结论的判决, 而是对一个阶段所发生的新闻事实的描述。

这段文字旨在强调 ()

- A. 新闻真实是客观实际不断演变的过程
- B. 新闻应充分挖掘消息源进行深入报道
- C. 新闻报道是与事实真相逐渐接近的过程
- D. 专业记者和公民记者都难以达到新闻真实

30. 目前新媒体的出版呈现出碎片化、标题化、娱乐化的趋势, 内容杂乱, 不成体系。这既和新媒体的内容展现方式以及人们的浅阅读习惯有关, 同时也是因为新媒体的海量内容要在很短时间内处理, 编辑力量跟不上, 顾不上精耕细作。一旦新媒体结束跑马圈地阶段, 腾出手来开始培养自己的编辑队伍, 或高薪聘用传统出版业的编辑, 那么, 这种状况就会得到改观。

文中画横线部分“这种状况”指的是 ()



- A. 新媒体在内容生产方面的问题
- B. 人们的浅阅读习惯
- C. 新媒体编辑力量不足
- D. 海量信息无法得到及时有效处理

第二部分 常识判断

(共 20 题, 参考时限 15 分钟)

从以下四个选项中选择最符合题意的一项。

31. 关于我国的国家制度, 下列说法错误的是 ()
- A. 我国是人民民主专政的社会主义国家
 - B. 我国人民行使国家权力的机关是各级人民政府
 - C. 我国的国家机构实行民主集中制原则
 - D. 我国经济制度的基础是全民所有制和劳动群众集体所有制
32. 关于我国巡回法庭, 下列说法错误的是 ()
- A. 巡回法庭作出的判决、裁定和决定, 是最高人民法院的判决、裁定和决定
 - B. 最高人民法院设立巡回法庭是对我国二审终审制的变通规定
 - C. 巡回法庭的受案范围暂不包括最高人民检察院抗诉的案件
 - D. 巡回法庭根据审判工作需要, 可以在巡回区内接待来访
33. 某选区共有选民 1889 人, 张某是候选人之一。在下列情况下, 张某可以当选为该选区人大代表的是 ()
- A. 参加投票的有 889 人, 张某获选票 880 张
 - B. 参加投票的有 1770 人, 张某获选票 1781 张
 - C. 参加投票的有 1881 人, 张某获选票 697 张
 - D. 参加投票的有 1001 人, 张某获选票 792 张
34. 赵某逛电器商场, 准备购买一台豆浆机, 其享有的权利不包括 ()
- A. 人身、财产安全不受损害的权利
 - B. 选择购买何种品牌豆浆机的权利
 - C. 拒绝保安因商场失窃而提出搜查其背包的权利
 - D. 购买一台低价促销、有轻微划痕的豆浆机, 一个月后以商品存在瑕疵为由提出退货的权利
35. 小张与小刘是夫妻, 婚后小张患精神病, 完全丧失辨认自己行为的能力, 小刘准备离婚。下列说法符合法律规定的是 ()
- A. 小刘是小张第一顺位法定监护人, 但其不能在离婚诉讼中作为小张的诉讼代理人
 - B. 小张的父亲作为小张的诉讼代理人参加离婚诉讼后, 可以根据小张与小刘感情破裂的实际情况, 代替小张对是否同意离婚作出意思表示
 - C. 小张的父亲作为小张的诉讼代理人, 如果不能到庭, 法院不能判决准予离婚
 - D. 如果小刘愿意放弃全部夫妻共同财产, 则可以与小张协议离婚
36. 根据我国《刑事诉讼法》的规定, 下列证据应当予以直接排除的是 ()
- A. 采用刑讯逼供的方法收集的犯罪嫌疑人的供述
 - B. 收集犯罪嫌疑人贪污所得现金不符合法定程序的
 - C. 收集合同诈骗罪涉案支票不符合法定程序, 可能严重影响司法公正的
 - D. 收集盗窃自行车不符合法定程序, 不会影响司法公正, 但无法作出合理解释的



37. 关于国家的政治制度, 下列说法错误的是 ()
- A. 日本、泰国是君主立宪制国家
 - B. 德国、俄罗斯是联邦制国家
 - C. 英国是典型的多党制国家
 - D. 美国是典型的两党制国家
38. 与其他投资基金相比, 下列哪项不是货币型基金的特点 ()
- A. 高流动性
 - B. 风险性较高
 - C. 收益率较低
 - D. 投资费用低
39. 同时具备“三国时期”“皇帝”“邳下文人集团”这三种特征的历史人物是 ()
- A. 曹操
 - B. 曹丕
 - C. 刘邦
 - D. 刘备
40. 关于这幅图中的人物, 下列说法不正确的是 ()



- A. 曾东渡日本传播佛法
 - B. 曾在古印度学习佛教圣典
 - C. 大雁塔用于安置他所带回的佛经
 - D. 《大唐西域记》是由其口述、弟子记录的游记
41. 沉积是自然界中一种重要的成岩过程, 下列关于沉积的说法正确的是 ()
- A. 在构成岩石圈的三大岩类中, 沉积岩所占比例最大
 - B. 由于沉积过程中的压实作用, 沉积岩的岩体内不存在孔隙
 - C. 在搬运过程中, 当水动力减弱时, 较重的碎屑会先沉积下来
 - D. 沉积物一旦稳定成岩, 就不会再被剥蚀搬运
42. 下列关于极光的说法正确的是 ()
- A. 多出现在高磁纬地区上空
 - B. 是地球所特有的现象
 - C. 是极昼、极夜现象产生的原因
 - D. 水汽、磁场和带电粒子是其产生的必要条件
43. 中国古代的姓、氏、名、字各有不同的意义。下列哪个人物的称谓是由姓和名构成的 ()
- A. 鲁班
 - B. 屈原
 - C. 苏东坡
 - D. 辛弃疾
44. 下列关于诗句所描述的节日, 对应正确的是 ()
- ①东篱把酒黄昏后, 有暗香盈袖
 - ②雨中禁火空斋冷, 江上流莺独坐听



③莫唱江南古调, 怨抑难招, 楚江沉魄

- A. 元宵 清明 中秋
- B. 重阳 寒食 端午
- C. 中秋 寒食 端午
- D. 元宵 清明 重阳

45. “秦时明月汉时关, 万里长征人未还。但使龙城飞将在, 不教胡马度阴山。”关于《出塞》这首诗, 下列说法错误的是 ()

- A. 我国的 800 毫米年等降水量线经过阴山山脉
- B. “胡”是中国古代对北方和西方各少数民族的泛称
- C. 作者被誉为“七绝圣手”
- D. “飞将”指的是西汉名将李广

46. 旅行者 2 号探测器于 1977 年 8 月 20 日在肯尼迪航天中心成功发射升空, 近探过太阳系的四颗行星后, 飞向了外太空。这四颗行星依次为 ()

- A. 水星、金星、火星、天王星
- B. 水星、金星、木星、天王星
- C. 木星、土星、天王星、海王星
- D. 木星、火星、天王星、海王星

47. 下列哪一事件不是发生在魏晋南北朝时期 ()

- A. 七国之乱
- B. 五胡乱华
- C. 王与马, 共天下
- D. 梁武帝舍身佛寺

48. 关于历史上的“南北”, 下列说法错误的是 ()

- A. 禅宗自五祖弘忍之后分为南宗和北宗
- B. 董其昌将唐代以来的山水画分为南、北两宗
- C. “南洪北孔”指清代戏曲作家洪昇和孔尚任
- D. 李煜是南北朝时期南朝的帝王

49. 下列哪组成语均属于谦辞 ()

- A. 不吝赐教、班门弄斧
- B. 抛砖引玉、望尘莫及
- C. 洗耳恭听、蓬荜生辉
- D. 高抬贵手、一孔之见

50. 关于地质年代与地层, 下列说法错误的是 ()

- A. 当岩层之间有切割现象时, 被切割的岩层比切割的岩层古老
- B. 发现大量三叶虫化石的岩层比发现大量鱼类化石的岩层古老
- C. 放射性同位素方法可用来测定岩层的形成年代
- D. 在全球范围内, 形成于同一地质时期的岩层岩性都是相同的

第三部分 数量关系

(共 10 题, 参考时限 15 分钟)

在这部分试题中, 每道题呈现一段表述数字关系的文字, 要求你迅速、准确地计算出答案。

51. 小张的孩子出生的月份乘以 29, 出生的日期乘以 24, 所得的两个乘积加起来刚好等于 900。问孩子出生在哪一个季度 ()



- A. 第一季度
- B. 第二季度
- C. 第三季度
- D. 第四季度

52. 小王和小刘两人分别从甲镇和乙镇同时出发, 匀速相向而行, 1 小时后他们在甲镇和乙镇之间的丙镇相遇, 相遇后两人继续前进, 小刘在小王到达乙镇 27 分钟之后到达甲镇, 那么小王和小刘的速度之比为 ()

- A. 5 : 4
- B. 6 : 5
- C. 3 : 2
- D. 4 : 3

53. 某零件加工厂采用计件工资。已知合格品每件 1 元, 优良品每件 2 元, 瑕疵品不得工资。当生产的优良品达到生产总数的 30% 时, 可额外获得 400 元奖励。某工人生产了 3000 个零件, 共获得计件工资 4000 元, 请问该工人生产的零件中, 合格品最多为多少个 ()

- A. 2100
- B. 2000
- C. 1800
- D. 1200

54. 钢铁厂某年总产量的 $\frac{1}{6}$ 为型钢类, $\frac{1}{7}$ 为钢板类, 钢管类的产量正好是型钢和钢板产量之差的 14 倍, 而钢丝的产量正好是钢管和型钢产量之和的一半, 而其他产品共为 3 万吨。问该钢铁厂当年的产量为 () 万吨

- A. 48
- B. 42
- C. 36
- D. 28

55. 某部门从 8 名员工中选派 4 人参加培训, 其中 2 人参加计算机培训, 1 人参加英语培训, 1 人参加财务培训, 问不同的选法有多少种 ()

- A. 256
- B. 840
- C. 1680
- D. 5040

56. 有 A、B 两家工厂分别建在河流的上游和下游, 甲、乙两船分别从 A、B 港口出发前往两地中间的 C 港口。C 港与 A 厂的距离比其与 B 厂的距离远 10 公里。乙船出发后经过 4 小时到达 C 港, 甲船在乙船出发 1 小时后出发, 正好与乙船同时到达。已知两船在静水中的速度都是 32 公里/小时, 问河水流速是 () 公里/小时

- A. 4
- B. 5
- C. 6
- D. 7

57. 某蔬菜生产基地欲将一批西红柿运往 A 市销售, 有火车和汽车两种运输方式可选。火车运费 15 元/公里; 汽车运费 20 元/公里。火车的装箱费用比汽车高 1500 元, 选择汽车将比选择火车的总费用高 600 元, 问蔬菜生产基地距 A 市多少公里 ()



- A. 360
- B. 420
- C. 480
- D. 540

58. 某统计部门对某地 1000 户居民的月均收入进行调查, 调查结果如下表所示。问下列关于被调查居民月均收入的算术平均数, 表述正确的是 ()

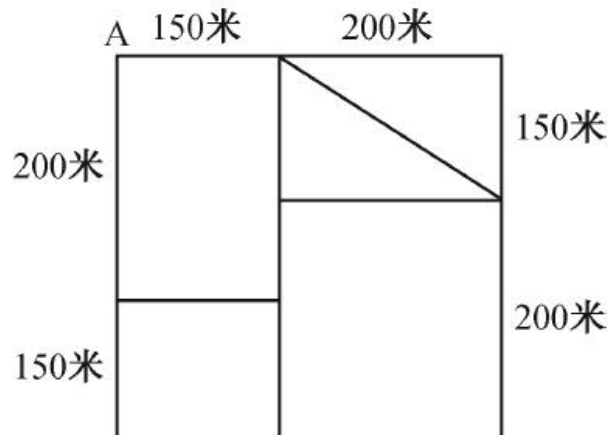
月均收入区间 (X 元)	占比 (%)
$X < 2000$	20
$2000 \leq X < 4000$	25
$4000 \leq X < 7000$	54
$X \geq 7000$	1
合计	100

- A. 可能为 1500 元
- B. 可能为 3000 元
- C. 不可能为 5000 元
- D. 不可能为 12000 元

59. 一副卡牌上面写着 1 到 10 的数字, 甲和乙从中分别随机抽取三张牌, 并比较其中较大的两张牌的牌面之积, 数字大的人获胜。甲先抽出三张牌, 上面的数字分别是 2、6 和 8, 问乙从剩下的牌中抽取三张牌的话, 其胜过甲的概率 ()

- A. 高于 60%
- B. 在 50%~60%之间
- C. 在 40%~50%之间
- D. 低于 40%

60. 某社区道路如下图所示, 社区民警早上 9 点整从 A 处的办公室出发, 以每分钟 50 米的速度对社区内每一条道路进行巡查 (要求完整走过整个社区内的每一段道路), 问他最早什么时候能完成任务返回办公室 ()



- A. 9:54
- B. 9:50
- C. 9:47



D. 10:00

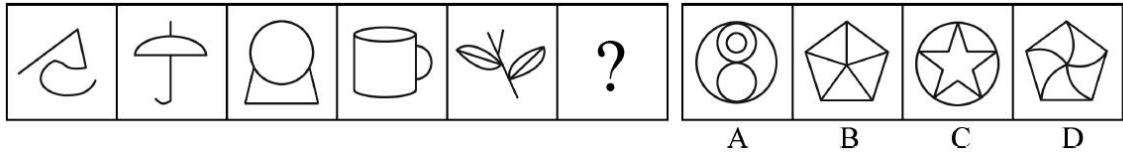
第四部分 判断推理

(共 40 题, 参考时限 40 分钟)

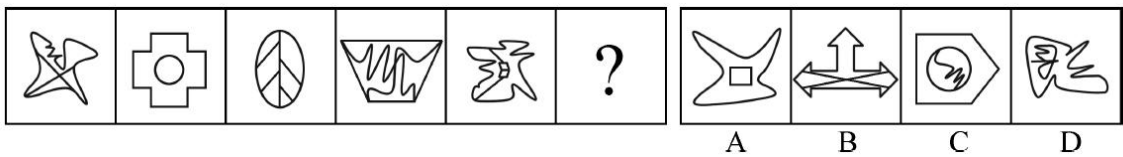
本部分包括图形推理、定义判断、类比推理和逻辑判断四种题型。

一、图形推理。请按每道题的答题要求作答。

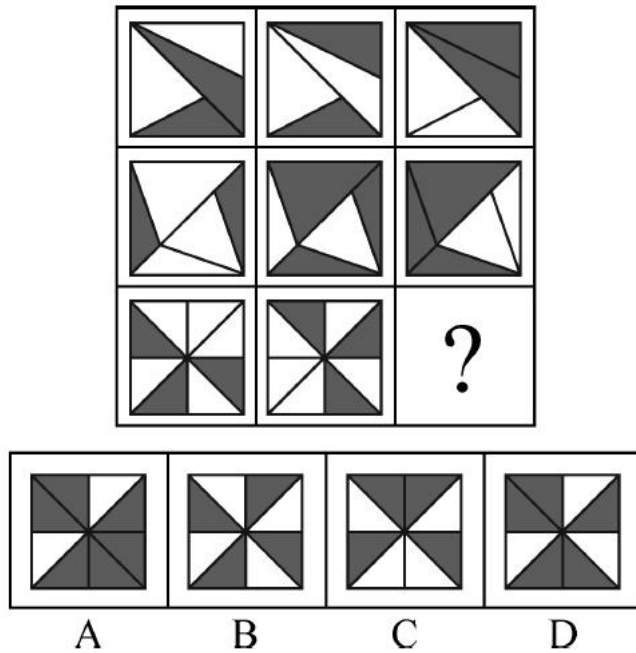
61. 从所给的四个选项中, 选出最合适的一个填入问号处, 使之呈现一定的规律性 ()



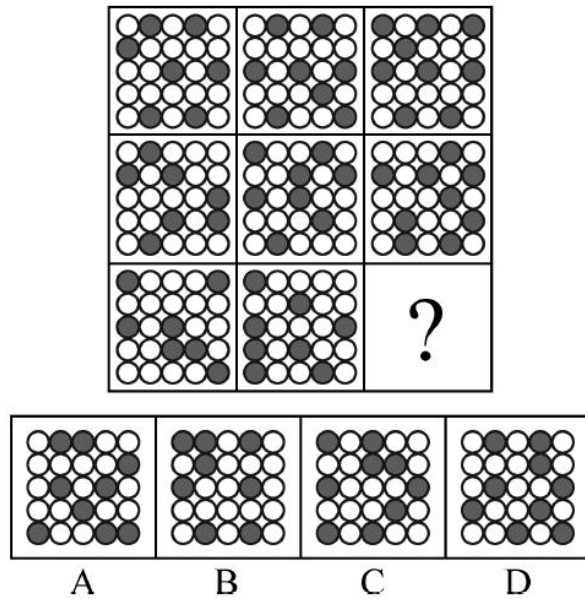
62. 从所给的四个选项中, 选出最合适的一个填入问号处, 使之呈现一定的规律性 ()



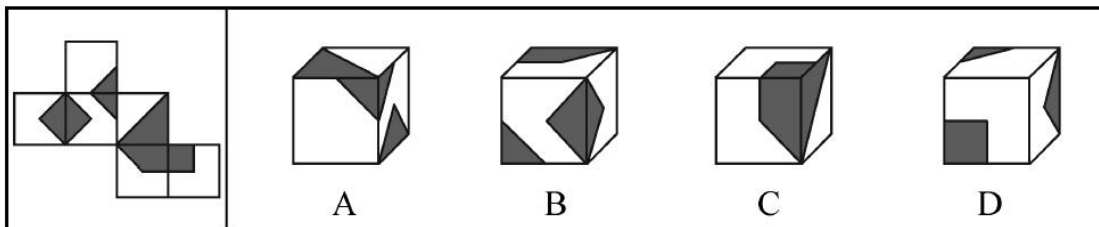
63. 从所给的四个选项中, 选出最合适的一个填入问号处, 使之呈现一定的规律性 ()



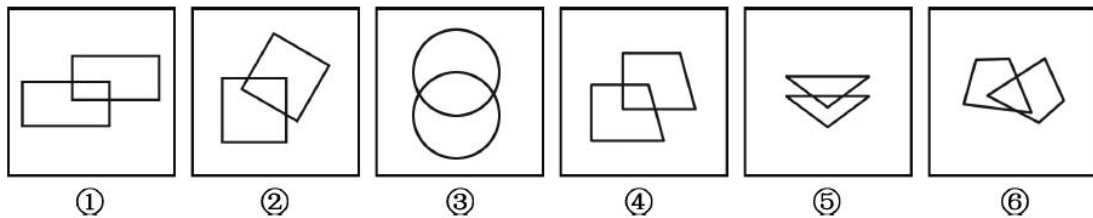
64. 从所给的四个选项中, 选出最合适的一个填入问号处, 使之呈现一定的规律性 ()



65. 左边给定的是纸盒的外表面, 下列哪项能由它折叠而成 ()

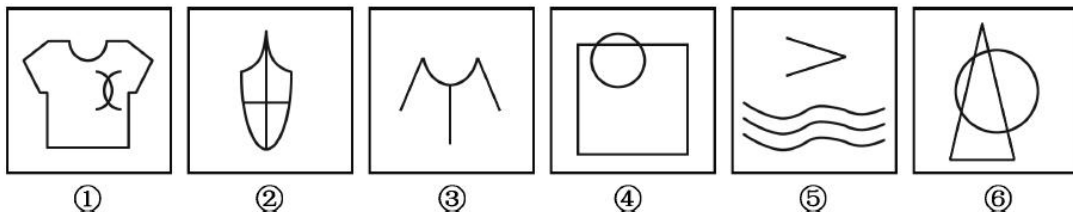


66. 把下面的六个图形分为两类, 使每一类图形都有各自的共同特征或规律, 分类正确的一项是 ()



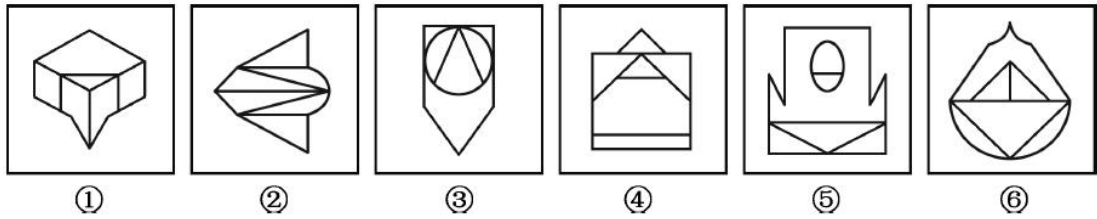
- A. ①④⑤ ②③⑥
- B. ①②④ ③⑤⑥
- C. ①②⑤ ③④⑥
- D. ①②⑥ ③④⑤

67. 把下面的六个图形分为两类, 使每一类图形都有各自的共同特征或规律, 分类正确的一项是 ()



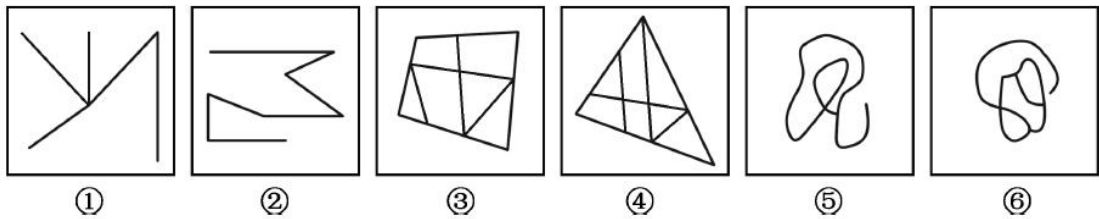
- A. ①②④ ③⑤⑥
- B. ①②⑤ ③④⑥
- C. ①③⑥ ②④⑤
- D. ①⑤⑥ ②③④

68. 把下面的六个图形分为两类, 使每一类图形都有各自的共同特征或规律, 分类正确的一项是 ()



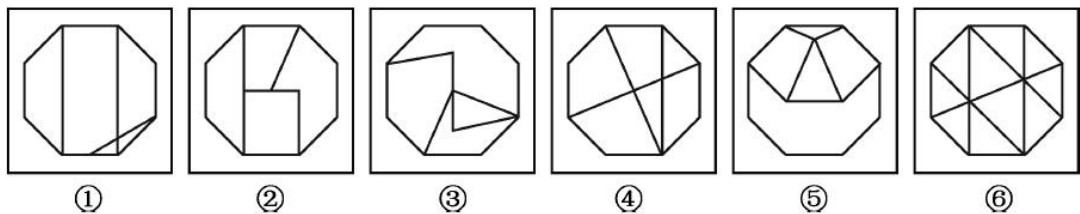
- A. ①②⑥ ③④⑤
 B. ①③⑤ ②④⑥
 C. ①②④ ③⑤⑥
 D. ①④⑥ ②③⑤

69. 把下面的六个图形分为两类, 使每一类图形都有各自的共同特征或规律, 分类正确的一项是 ()



- A. ①②③ ④⑤⑥
 B. ①③⑤ ②④⑥
 C. ①②⑥ ③④⑤
 D. ①④⑥ ②③⑤

70. 把下面的六个图形分为两类, 使每一类图形都有各自的共同特征或规律, 分类正确的一项是 ()



- A. ①②③ ④⑤⑥
 B. ①③④ ②⑤⑥
 C. ①③⑥ ②④⑤
 D. ①④⑥ ②③⑤

二、定义判断。每道题先给出定义, 然后列出四种情况, 要求你严格依据定义, 从中选出一个最符合或最不符合该定义的答案。注意: 假设这个定义是正确的, 不容置疑的。

71. 危险犯, 指行为人实施的危害行为造成法律规定的危险状态作为既遂标志的犯罪。这类犯罪不是以造成物质性的和有形的犯罪结果为标准, 而以法定的客观危险状态的具备为标志。

根据上述定义, 以下属于危险犯的是 ()

- A. 猥亵儿童
 B. 商业诈骗
 C. 诬告陷害
 D. 醉酒驾驶

72. 民族昆虫学是研究在一定社会中人类与昆虫相互关系的各种形式的学科。在研究昆虫的同时, 研究社会的结构、人类的行为和昆虫之间的相互作用。



根据上述定义, 以下各项中不属于民族昆虫学的研究范围的是 ()

- A. 研究具有某种宗教信仰的人食用昆虫的方式
- B. 研究某一民族将蝴蝶标本作为衣饰的原因
- C. 研究某一地区的人们利用昆虫娱乐的方式和原因
- D. 研究某一国家昆虫学的发展历史

73. 税负转嫁, 是指在商品交易过程中纳税人通过提高销售价格或压低购进价格的方法, 将税收负担转移给购买者或供应者的一种经济现象。

根据上述定义, 下列选项没有反映税负转嫁现象的是 ()

- A. 提高烟草消费税后, 某烟草批发商将进口卷烟价格相应提高了, 进口卷烟的消费量明显下降
- B. 对棉纱制造商征收棉纱税后, 制造商开始提高棉纱出厂价格, 因此批发商也提高了价格
- C. 对化妆品在零售环节征税, 零售商要求供应商降低货物价格, 供应商又以同样方式要求制造商降低价格
- D. 营业税提高后, 织布厂在将布匹卖给印染厂时提高了价格, 同时减少了本厂职工的工资

74. 去个性化, 是指个人在群体压力或群体意识影响下, 自我导向功能的削弱或责任感丧失, 产生一些个人单独活动时不会出现的行为。去个性化有两个特点: 一是身份的隐匿; 二是责任感的模糊化。

根据上述定义, 以下情境不属于去个性化的是 ()

- A. 网站论坛里面, 一些匿名网友随意转发不实信息
- B. 路上老人跌倒, 很多人在旁围观但无人伸出援手
- C. 足球比赛现场, 球迷为裁判是否误判而争执打闹
- D. 某大型集会时, 两小偷趁乱偷走价值连城的古董

75. 产品责任, 是指产品在使用过程中因其缺陷 (包括设计缺陷、制造缺陷和警示说明缺陷) 而造成用户、消费者或公众的人身伤亡或财产损失时, 依法应当由产品供给方 (包括制造者、销售者、修理者等) 承担的民事损害赔偿责任。

根据上述定义, 以下情况明确属于产品供给方承担产品责任的是 ()

- A. 某高架桥因使用不达标准的钢筋导致坍塌造成行人受伤
- B. 未经过敏皮试的患者在注射青霉素之后死亡
- C. 市民购买酸奶后未冷藏, 饮用后生病住院
- D. 某婴儿误食成人维生素导致急性中毒

76. 众筹, 即大众筹资或群众筹资, 是指用“团购+预购”的形式, 向网友募集项目资金的模式, 由发起人、跟投人、平台构成, 利用互联网传播的特性, 让小企业、艺术家或个人对公众展示他们的创意, 争取大家的关注和支持, 进而获得所需要的资金援助, 具有低门槛、多样性、依靠大众力量、注重创意的特征。

根据以上定义, 以下行为属于众筹的是 ()

A. 某地区盛产西瓜, 小赵在网上发布消息组织预购, 很多网友参与“团购”, 瓜农根据预订信息种植, 每年都能很快将西瓜销售一空

B. 小李希望为小区老人建设一个日常活动的活动区, 他在小区的网站上发起集资活动, 很快获得小区居民的响应, 筹集到所需的经费

C. 小辛设计了一个宠物喂食器, 网友看到他“晒”的照片, 纷纷要求购买, 小辛集中接受了一批网友预订, 用预订的费用进行了批量生产

D. 小唐设计了一个养鸡场自动捡蛋机, 为了批量生产, 他在网上介绍自己的项目, 一家投资公司看到之后, 为小唐提供了生产所需的全部费用

77. “饥饿营销”是指商品提供者有意调低产量, 以期达到调控供求关系、制造供不应求“假象”、维持商



品较高售价和利润率的目的。饥饿营销比较适合一些单价较高、不容易形成单个商品重复购买的行业。

根据上述定义, 下列属于饥饿营销的是 ()

- A. 某厂商设计了新款笔记本电脑, 与该品牌以往的一贯风格相差甚远, 该厂商不确定是否能被市场接受, 限量生产了 3 万台, 上市后市场反应异常火爆, 供不应求
- B. 某汽车品牌推出新款, 很多人排队等候, 甚至愿意加价购买, 厂家宣称该款汽车产量有限, 一直限量限售, 以扩大“热销”影响
- C. 某品牌一款经典白球鞋, 一直销量稳定, 近期受时尚界刮起的“怀旧风”影响, 白球鞋销量大增, 供不应求
- D. 近期高档白酒滞销, 某知名品牌白酒生产商为保证效益, 主动限产, 调高售价, 销售额未出现明显下滑

78. 一次文献, 又称原始文献, 指以作者本人的工作经验、观察或者实际研究成果为依据而创作的具有一定发明创造和一定新见解的原始文献。二次文献是对一次文献进行加工整理后的产物, 即对无序的一次文献的外部特征如题名、作者、出处等进行著录, 将其内容提炼压缩成提要或文摘, 并按照一定的学科或专业加以有序化而形成的文献形式。

根据上述定义, 下列属于二次文献的是 ()

- A. 小刘摘抄优美词句的“好词好句”手册
- B. 小李整理实验记录、处理数据后写出的文章
- C. 小郭从出版社拿到的经济类新书目录和简介
- D. 小赵购买的急救手册

79. 睡眠者效应指的是信源可信性的传播效果会随时间推移而发生变化的现象。也就是说, 传播结束一段时间后, 高可信性信源带来的正效果在下降, 而低可信性信源带来的负效果却朝向正效果转化。

根据上述定义, 以下哪项属于睡眠者效应 ()

- A. 名人广告只能带来短期内销售额的增加, 时间一长, 产品的销售额就迅速下降了
- B. 某产品由于名称容易使人产生不好的联想, 尽管质量上乘, 但是一直打不开市场
- C. 小李前一天晚上看中的一件非常满意的商品, 第二天早上一看, 觉得不过如此, 她迅速取消了订单
- D. 爱看武侠小说的李某年轻时常常有打抱不平的冲动, 40 岁之后的他变得谨慎持重了

80. 预防成本是指为预防不良产品或服务出现而支付的成本。它包括计划与管理系统、人员训练、品质管制过程, 以及加强对设计和生产两阶段的注意以减少不良产品出现的机率所产生的种种成本, 这类成本一般都发生在生产之前。

根据上述定义, 下列不属于“预防成本”的是 ()

- A. 某家具公司为搜集产品质量情报并对资料进行分析研究所支付的费用
- B. 某汽车厂商针对新型跑车的设计方案进行评价、试制和质量评审所支付的费用
- C. 某手机企业为改进手机品质在公司设立“产品升级奖”所产生的费用
- D. 某购物网站定期举办特惠活动, 期间印制宣传手册或影像资料所花费的广告费用

三、类比推理。每道题先给出一组相关的词, 要求你在备选答案中找出一组与之在逻辑关系上最为贴近、相似或匹配的词。

- 81. 烟灰：烟灰缸
 - A. 黑板：黑板擦
 - B. 鼠标：鼠标垫
 - C. 首饰：首饰盒
 - D. 领带：领带夹



82. 上衣：领袖
- A. 兄弟：手足
 - B. 时间：岁月
 - C. 身体：耳目
 - D. 动物：鹰犬
83. 进展：变化
- A. 妥协：退让
 - B. 口角：冲突
 - C. 开花：结果
 - D. 喜欢：信任
84. 作茧自缚：化蛹成蝶
- A. 灯蛾扑火：化羽归尘
 - B. 雨润花开：春华秋实
 - C. 鱼翔浅底：鹰击长空
 - D. 凤凰浴火：涅槃重生
85. 风：风车：旋转
- A. 水：金鱼：游动
 - B. 雷：闪电：暴雨
 - C. 电：电车：行驶
 - D. 火：木柴：燃烧
86. 玫瑰：植物：动物
- A. 童话：书籍：影像
 - B. 画眉：鸟：鱼
 - C. 镜片：太阳镜：墨镜
 - D. 雾：雨：风
87. 口试：笔试：招聘
- A. 摄影：购物：旅游
 - B. 招标：中标：建设
 - C. 批发：零售：销售
 - D. 出口：内销：商品
88. 年号：历法：计时
- A. 股票：基金：投资
 - B. 水坝：城墙：防洪
 - C. 火把：流星：照明
 - D. 手机：信函：洽谈
89. 家庭 对于 () 相当于 细胞 对于 ()
- A. 社会 生物
 - B. 住房 细胞核
 - C. 规范 秩序
 - D. 和谐 营养



90. 插图 对于 () 相当于 () 对于 小说

- A. 漫画 散文
- B. 图画 语言
- C. 正文 文学
- D. 读物 序言

四、逻辑判断。每道题给出一段陈述, 这段陈述被假设是正确的, 不容置疑的。要求你根据这段陈述, 选择一个答案。注意: 正确的答案应与所给的陈述相符合, 不需要任何附加说明即可以从陈述中直接推出。

91. 人们已经知道: 如果果蝇体内的 w 基因发挥作用, 雄性果蝇就不会向雌性果蝇求爱, 转而追求同性。因此果蝇的同性恋行为被认为是由遗传因素决定的。最近, 研究人员培养出 w 基因发挥作用的雄性果蝇, 然后利用这种果蝇进行了实验。他们发现, 果蝇的同性恋行为不仅受遗传因素影响, 社会因素也发挥了很大的促进作用。

以下哪项如果为真, 最能支持研究人员的发现 ()

- A. 如果这种雄性果蝇羽化为成虫后, 只要进行一天以上的集体饲养, 雄性果蝇就开始追逐其他雌性果蝇, 显示出求爱行为; 但如果这种果蝇羽化后是一只只隔离饲养的, 则不会出现此种行为
- B. 如果这种雄性果蝇羽化后是一只只隔离饲养的, 若干天后, 果蝇就开始表现出对其他雄性果蝇的求爱行为; 如果这种雄性果蝇羽化为成虫后是集体饲养的, 则不会出现此种行为
- C. 如果这种雄性果蝇羽化为成虫后, 只要进行一天以上的集体饲养, 雄性果蝇就开始追逐其他雄性果蝇, 显示出同性恋的求爱行为; 但如果这种果蝇羽化后是一只只隔离饲养的, 则不会出现此种行为
- D. 如果这种雄性果蝇羽化后是一只只隔离饲养的, 若干天后, 果蝇就开始表现出对其他雌性果蝇的求爱行为; 如果这种雄性果蝇羽化为成虫后是集体饲养的, 则不会出现此种行为

92. 车主信息会影响汽车保费, 比如年龄较大、女性、高学历的车主, 保费相对较低, 25 岁以下的年轻人保费较高, 出过交通事故的车主保费高; 另外, 汽车价格、车型、车龄甚至颜色都会影响保险费用。高价新车不一定比低价旧车保费贵, 因为新车、好车的防盗装置、安全装置多; 特定车型颜色鲜艳的车保费贵, 比如爱开红色跑车的人, 性格比较奔放, 开车时相对不太谨慎。

根据上文, 最有可能推出的是 ()

- A. 有过交通事故的红色跑车的 18 岁男性车主所交的保费高
- B. 开豪华跑车的女性要比开平价汽车的男性所交的保费高
- C. 大龄、有研究生学历并购买新车的女性车主所交的保费低
- D. 谨慎细致的车主要比奔放活泼的车主所交的保费低

93. 奇虾是一类已经灭绝的大型无脊椎海洋动物, 是目前已知最庞大的寒武纪动物。化石表明这种动物口器有十几排牙齿, 直径有 25 厘米, 粪便化石长 10 厘米, 粗 5 厘米。由此推测, 奇虾体长可能超过 2 米。

以下哪项如果为真, 最能支持上述推测 ()

- A. 寒武纪时期, 海洋虾类食物充足
- B. 25 厘米直径的巨口奇虾可掠食当时的任何大型生物
- C. 对于大型无脊椎动物而言, 牙齿越多身体越长
- D. 寒武纪时期的海洋虾类, 其牙齿和体长有比较固定的构成比例

94. 在亚洲某国山区, 二月份和三月份出生的新生儿体质普遍不如其他月份的新生儿好。当地医务所的工作人员经过调查后认为, 导致这一现象的主要原因是冬季的食物比较匮乏, 孕妇不能很好地补充营养从而导致了新生儿体质虚弱。

以下哪项如果为真, 最能支持上述调查结论 ()



- A. 该山区中少数能为孕妇提供足够营养的富有家庭在冬天依然生下体质虚弱的婴儿
- B. 决定新生儿体质的时期是生产前半年的营养情况, 而非当月的营养情况
- C. 该山区的孕妇普遍患有一种冬季发作的疾病, 这会使得她们体质下降进而影响婴儿的健康
- D. 该山区为数不多的几种冬季食物中普遍缺乏某种微量元素, 这恰是新生儿所急需的

95. 研究显示, 黑、灰色汽车是盗贼的最爱, 亮色汽车很少被问津, 白色汽车失窃率最低。心理学家分析认为, 偷车贼往往有“黑暗型人格”, 选择和自己性格颜色相反的汽车倒卖, 让他们感觉不踏实。相比新款或豪车而言, 盗车贼偏好有着三年车龄左右的大众车型, 这种车保值且好转手。

根据上文, 最有可能推出的是 ()

- A. 三年车龄的红色大众车型最易被盗
- B. 暗色系汽车在二手车市场最为畅销
- C. 崭新的白色豪华汽车不容易被盗
- D. 最畅销的车型也是最易被盗的车型

96. 水力压裂是一项有广泛应用前景的油气井增产措施, 这种方法利用地面高压泵, 通过井筒向油层挤注具有较高粘度的压裂液, 将油层压开并产生裂缝, 使油层与井筒之间建立起一条新的流体通道。压裂之后, 油气井的产量一般会大幅度增长。但这种技术会给环境带来极大的破坏。

补充以下哪项论据, 可以得到以上结论 ()

- A. 当注入压裂液的速度超过油层的吸收能力时, 井底油层会形成很高的压力
- B. 为保证已压开的裂缝不致于闭合, 需要注入顶替液进入裂缝, 将其支撑起来
- C. 油气田的开发会影响附近居民的生活, 居民用水的管道需要绕开井筒所在位置
- D. 向地表以下注入高强度的压裂液, 可能会激活休眠地质断层, 从而引发地震

97. 快乐是非常个人的, 也是非常主观的, 它与物质、环境相关, 但是更主要的是取决于一个人的心态。他人的快乐, 未必是自己的快乐; 自己的快乐, 也未必是他人的快乐; 将自己的快乐告诉别人, 未必能给他人带来快乐; 别人将快乐告诉自己, 也未必会给自己带来快乐。

根据以上陈述, 能够得出以下哪项 ()

- A. 他人的快乐可能给自己带来快乐
- B. 自己的快乐可能是他人的快乐
- C. 他人的快乐可能不是自己的快乐
- D. 自己的快乐可能给他人带来快乐

98. 在下列的正方形矩阵中, 每个小方格可填入一个汉字, 要求每行每列以及粗线框成的 4 个小正方形中均含有天、地、日、月四个汉字。

根据上述条件, 方格①中应填入的汉字是 ()

			月
	地	日	
		①	
天			

- A. 地
- B. 天
- C. 月



D. 日

99. 某项研究中, 研究者追踪了该国 19 万名在 1974 年至 1994 年期间出生的人的医疗数据, 他们在 2006 年至 2012 年期间做过智力测试。在做智力测试时, 大约有 35% 的调查对象正因感染而住院。研究人员发现, 那些因感染而住院者的智商分数平均比一般人低 1.76 分。而那些因感染住了 5 次及以上医院的人, 智商分数平均比一般人低 9.44 分。研究人员指出, 人体感染会造成个体智商下降。

以下哪项如果为真, 最能削弱以上结论 ()

- A. 大脑周围组织感染会影响大脑的智力水平
- B. 有证据表明, 感染会影响痴呆病人的认知能力
- C. 智商是对心智能力的评价方式, 存在着测量误差
- D. 患病使得患者情绪紧张, 测试时注意力不集中

100. 学校工会举办“教工好声音”歌唱比赛, 赛后参赛者们预测比赛结果。张老师说:“如果我能获奖, 那么李老师也能获奖。”李老师说:“如果我能获奖, 那么刘老师也能获奖。”刘老师说:“如果田老师没获奖, 那么我也不能获奖。”比赛结果公布后发现, 上述 3 位老师说的都对, 并且上述四位老师中有三位获奖。

由此可以推出没有获奖的是 ()

- A. 张老师
- B. 李老师
- C. 刘老师
- D. 田老师

第五部分 资料分析

(共 20 题, 参考时限 20 分钟)

所给出的图、表、文字或综合资料均有若干个问题要你回答, 请根据材料提供的信息进行分析、比较、计算和判断处理。

一、根据以下资料, 回答 101~105 题。

2016 年 1 季度, 全国规模以上文化及相关产业企业共 4.7 万家, 实现营业收入 16719 亿元, 比上年同期增长 8.6%, 增速比上年全年提高 1.7 个百分点。



2016年1季度全国规模以上文化及相关产业企业营业收入

	收入(亿元)	增速(%)
总计	16719	8.6
按产业分:		
其中:新闻出版发行服务	579	13.9
广播电影电视服务	325	24.2
文化艺术服务	54	25.0
文化信息传输服务	1131	27.8
文化创意和设计服务	2041	12.2
文化休闲娱乐服务	223	25.0
工艺美术品的生产	3272	4.4
文化产品生产的辅助生产	1828	7.6
文化用品的生产	6422	6.3
文化专用设备的生产	844	3.1
按区域分:		
其中:东部地区	12528	7.9
中部地区	2825	12.7
西部地区	1130	10.6
东北地区	237	-5.0

101. 如全国规模以上文化及相关产业企业数量无变化, 则2016年1季度平均每家全国规模以上文化及相关产业企业的营业收入约比上年同期增长多少万元()

- A. 60 B. 150 C. 280 D. 500

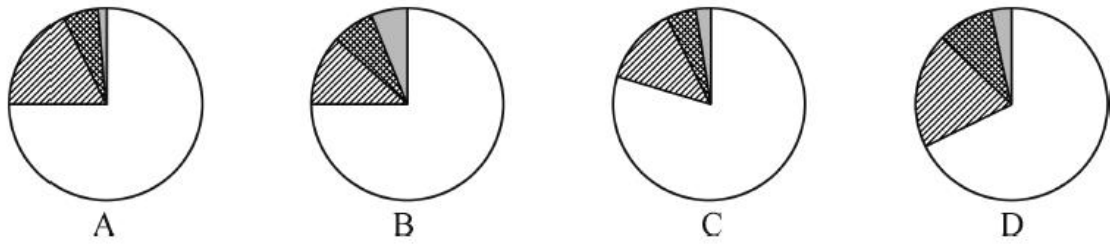
102. 在2016年1季度营业收入增速快于1%的产业中, 当季营业收入高于全产业规模以上企业总营业收入5%的产业有几个()

- A. 1 B. 2 C. 3 D. 4

103. 合并计算2016年1季度营业收入最高的两个产业, 其营业收入总体增速最接近以下哪个数字()

- A. 4.4 B. 5.1 C. 5.7 D. 6.4

104. 以下哪个饼图能够最准确地反映全国各地区2016年1季度规模以上文化及相关产业营业收入的比重关系()



105. 关于 2016 年 1 季度全国规模以上文化及相关产业营业收入状况, 能够从上述资料中推出的是 ()

- A. 生产相关产业营业收入增速快于服务相关产业
- B. 总体营业收入增速快于上年同期水平
- C. 营业收入最低的行业, 营业收入增速最快
- D. 中西部地区企业营业收入占全国总体的比重上升

二、根据以下资料, 回答 106~110 题。

2016 年 3 月我国煤及褐煤进口量为 1969 万吨, 环比增长 45.42%, 同比增长 15.62%。3 月我国出口煤及褐煤 127 万吨, 环比增长 36 万吨, 同比增长 296.88%。

2016 年 1~3 月我国煤及褐煤进出口情况

进出口	3 月		1~3 月		2015 年 1~3 月	
	量 (万吨)	额 (万元)	量 (万吨)	额 (万元)	量 (万吨)	额 (万元)
进口	1969	606065	4846	1499109	4904	1985165
出口	127	60027	279	132989	98	67074

3 月全国钢材出口量 998 万吨, 环比增长 23.06%, 同比增长 29.46%; 1~3 月累计出口钢材 2783 万吨, 累计同比增长 7.9%。3 月份进口钢材 127 万吨, 环比增长 36.56%, 同比增长 45.08%; 1~3 月累计进口钢材 313 万吨, 累计同比下降 3.3%。

铁矿石、原油、铜等大宗商品主要进口商品价格持续低位。2016 年一季度, 我国进口铁矿石 2.42 亿吨, 增长 6.5%; 原油 9110 万吨, 增长 13.4%; 铜 143 万吨, 增长 30.1%。同期, 进口煤及褐煤 4846 万吨, 下降 1.2%; 成品油 775 万吨, 下降 1.9%; 钢材 313 万吨, 下降 3.3%。同期, 我国进口价格总体下跌 11.5%。其中, 铁矿石进口均价同比下跌 30.8%, 原油下跌 37.2%, 成品油下跌 25.9%, 煤及褐煤下跌 23.6%, 铜下跌 17.1%, 钢材下跌 11.3%。

106. 2016 年 3 月我国出口煤及褐煤环比约增长多少个百分点 ()

- A. 25
- B. 30
- C. 35
- D. 40

107. 2016 年 1~3 月我国煤及褐煤进口量约比上年同期 ()

- A. 下降 1%
- B. 下降 8%
- C. 增加 1%
- D. 增加 8%

108. 2016 年第一季度进口均价同比下降幅度超过 30% 的有 ()

- A. 煤、铜
- B. 铜、钢材
- C. 铁矿石、原油
- D. 铁矿石、成品油

109. 2015 年 3 月份进口钢材约为多少万吨 ()

- A. 61.3
- B. 73.5
- C. 87.5
- D. 101.3

110. 能够从上述资料中推出的是 ()

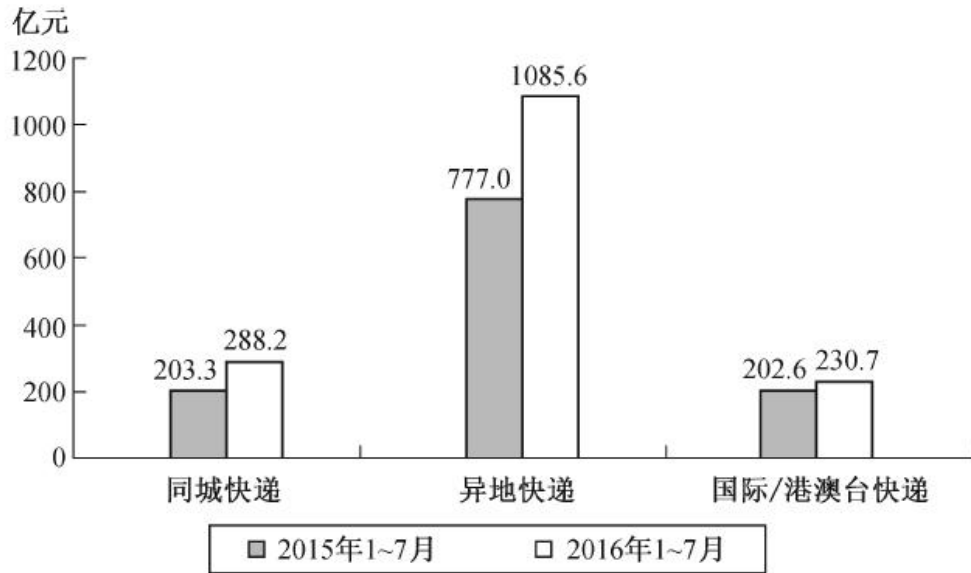
- A. 2016 年一季度原油进口量是铜的 6 倍
- B. 2016 年 3 月份钢材出口量环比增长超过 200 万吨
- C. 2016 年第一季度铁矿石进口均价降幅高于原油
- D. 2016 年 1~2 月钢材月均进口量不到 100 万吨



三、根据以下资料, 回答111~115题。

2016年1~7月份, 同城、异地、国际/港澳台快递业务量分别占全部快递业务量的24.4%、73.5%和2.1%, 业务收入如下图所示:

分专业快递业务收入比较



1~7月份, 东、中、西部地区快递业务收入的比重分别为81.2%、10.7%和8.1%, 业务量比重分别为81.2%、11.8%和7.0%。与上年同期相比, 东部地区快递业务收入比重下降了0.5个百分点, 快递业务量比重下降了0.4个百分点; 中部地区快递业务收入比重上升了0.3个百分点, 快递业务量比重上升了0.4个百分点; 西部地区快递业务收入比重上升了0.2个百分点, 快递业务量比重持平。

2016年全国邮政行业发展情况

指标名称	单位	业务规模		增速 (%)	
		1~7月	7月	1~7月	7月
一、邮政行业业务收入	亿元	2887.6	411.8	31.9	29.7
其中: 快递业务收入	亿元	2026.0	311.4	42.9	40.4
二、邮政行业业务总量	亿元	3823.2	584.9	48.8	46.7
其中: 函件	万件	221974.7	27251.9	-22.1	-24.1
包裹	万件	1630.1	187.6	-44.0	-25.4
快递	万件	1574731.0	249640.6	55.9	52.2
订销报纸累计数	万份	1054980.0	150969.0	-4.1	-6.2
订销杂志累计数	万份	51447.5	7070.8	-16.1	-13.4

111. 与上年同期相比, 2016年1~7月国际/港澳台业务收入占同城、异地和国际/港澳台快递业务总收入的比重 ()

- A. 下降了不到5个百分点
- B. 下降了5个百分点以上
- C. 上升了不到5个百分点
- D. 上升了5个百分点以上

112. 2015年1~7月份, 中部地区快递业务收入的比重为 ()



- A. 10.4% B. 11.0% C. 11.5% D. 12.1%

113. 在函件、包裹、快递中, 2016年7月业务量超过上半年月均业务量的有几类 ()

- A. 0 B. 1 C. 2 D. 3

114. 2016年7月, 全国日均订销报纸多少万份 ()

- A. 4870 B. 5032 C. 5206 D. 5392

115. 能够从上述资料中推出的是 ()

- A. 2016年7月的函件数量是包裹数量的不到100倍
B. 2016年7月快递业务收入占邮政行业业务收入的比重高于75%
C. 2016年1~7月中、西部地区的快递业务量所占比重均比上年同期有所上升
D. 2016年1~7月国际/港澳台快递收入同比增速快于同城快递业务和异地快递业务

四、根据以下资料, 回答116~120题。

2016年4月份我国全社会用电量4569亿千瓦时, 同比增长1.9%。其中, 第一产业用电量86亿千瓦时, 同比增长12.5%; 第二产业用电量3316亿千瓦时, 同比增长0.6%; 第三产业用电量569亿千瓦时, 同比增长5.8%; 城乡居民生活用电量598亿千瓦时, 同比增长4.1%。

1~4月份, 我国全社会用电量18093亿千瓦时, 同比增长2.9%。从不同产业看, 第一产业用电量270亿千瓦时, 同比增长9.1%; 第二产业用电量12595亿千瓦时, 同比增长0.2%; 第三产业用电量2516亿千瓦时, 同比增长10.0%, 增速比上年同期提高2.1个百分点; 城乡居民生活用电量2711亿千瓦时, 同比增长9.5%, 增速比上年同期提高5.4个百分点。

从不同省份看, 1~4月份全社会用电量增速前十位的省份依次为: 西藏(17.1%)、新疆(12.5%)、江西(8.3%)、陕西(7.4%)、安徽(7.1%)、北京(6.6%)、浙江(5.7%)、广东(4.8%)、海南(4.8%)、湖北(4.7%)。

116. 2016年4月第二、三产业用电量占同期我国全社会用电量的比重约为 ()

- A. 95% B. 98% C. 75% D. 85%

117. 2016年第一产业第一季度月均用电量约为多少亿千瓦时 ()

- A. 50 B. 60 C. 90 D. 180

118. 2016年1~4月, 第一、二、三产业中, 用电量占全社会用电量比重高于上年同期水平的产业有 () 个

- A. 0 B. 1 C. 2 D. 3

119. 与2014年同期相比, 2016年1~4月第三产业用电量上升了约 ()

- A. 15% B. 19% C. 23% D. 27%

120. 能够从上述资料中推出的是 ()

- A. 2016年第一季度全社会月均用电量高于4月水平
B. 2016年一季度我国全社会用电量同比增速超过2.9%
C. 2015年1~4月城乡居民生活用电量同比增长接近15%
D. 2016年1~4月份全社会用电量增速前5位的省份均来自西部地区



参考答案与解析

1. 【解析】B。根据横线前的“删除记忆”可知, 横线处所填词语应与之相对应, 表示使人忘记痛苦。B项“忘却”即忘记, 与“删除记忆”形成对应, 且与“痛苦”搭配得当, 符合语境。B项当选。

2. 【解析】A。根据文中“单靠一种”“只有充分挖掘和利用各种不同禀性的文明价值资源”可知, 横线处所填成语应表示只靠一种文明解决人类难题并不够, 应付不过来。A项“捉襟见肘”比喻顾此失彼, 穷于应付, 符合文意。B项“格格不入”形容彼此不协调, 不相容, 文段强调的是力量不够而非不协调, 排除。C项“于事无补”指对事情毫无益处, 用在此处程度过重, 排除。D项“顾此失彼”形容忙乱或慌张的情景, 但其一般不与“显得”搭配, 排除。因此A项当选。

3. 【解析】C。第一空, 根据后文中的“淘汰那些失效的语词”以及“进行自我筛选和自我净化”可知, 横线处所填词语需体现出“语言体系”可以自行筛选和净化语词。C项“过滤”指通过把不良成分分离出去实现净化, 符合文意。A项“更新”指除去旧的换成新的, 强调的是本质上的变化。B项“完善”指的是使其变得更好。D项“修正”指的是修改使之正确, 三者均无法体现出对现有语词的筛选和净化, 排除。验证第二空, “遗忘”与“淘汰那些失效的语词”相对应, 符合文意。因此C项当选。

4. 【解析】A。第一空, 根据“如果互联网要变成一个全球化的体系”可知, 横线处所填词语应表示“开放、合作和透明的管理模式”是其必须具备的条件。B项“与生俱来”表示个人的特别、不可替代性, 一生下来就是如此, 体现不出管理模式的必要性, 排除。D项“事半功倍”指做事得法, 因而费力小, 收效大, 不符合文意, 排除。第二空, 根据“自愿”“分享”可知, 横线处所填词语应表示“这种模式”带来的好处和价值, “创新”在文段中并无体现, 排除C项。A项“回报”符合文意, 当选。

5. 【解析】B。第一空, 根据后文中的“不断缩短空间的距离”可知, 横线处所填词语表示的是一种“空间”距离的阻隔。B项“地域”与“空间”对应恰当。A项“时空”既包含时间又包含空间, 而文段仅指“空间”, 排除。C项“环境”和D项“信息”均与“空间”无关, 排除。验证第二空, “初衷”指最初的心愿, 符合文意。因此B项当选。

6. 【解析】D。先看第二空, 根据“因为谁也没有见过这块土地”可知, 地理学家画出的南极仅凭其设想。A项“经验”、B项“理解”均不符合文意, 排除。再看第一空, C项“人迹罕至”指很少有人到的地方, 文段强调的是人们对于南极洲并不了解, 不符合文意, 排除。因此D项当选。

7. 【解析】A。第一空, 根据后文“多多少少为这个世界留下点什么”可知, 横线处应表达我们什么都不做。C项“得过且过”形容胸无大志, 并非强调什么都不做, 排除。D项“拈轻怕重”指接受工作时挑拣轻易的工作, 害怕繁重的工作, 文段并未涉及对工作的挑拣, 排除。第二空, 所填词语应表示要为这座大厦的发展和完善付出行动, A项“添砖加瓦”比喻做一些工作, 尽一点力量, 符合文意, 且与“大厦”相对应。B项“出谋划策”指为人出主意, 并未涉及行动, 排除。因此A项当选。

8. 【解析】A。第一空, 通过首句的对比可知, 此处表示不同语言在语法上的差别, 所填词语应含有“不同、差别”之意。B项“特点”和C项“对比”均无法体现出“不同、差别”, 不符合语境, 排除。第二空, “能使人……获得认知能力的扩展”意在强调在外语的影响下, 人的认知能力发生变化。A项“潜移默化”指人的思想或性格不知不觉受到感染、影响而发生了变化, 符合语境。D项“不知不觉”指没有意识到, 没有觉察到, 不符合语境, 排除。因此A项当选。

9. 【解析】C。第一空, 根据后文“偏见”“难以静下心来欣赏戏曲之美”和“讲述着与观众距离较远的生活”可知, 人们对于戏曲的态度是“不欣赏或不感兴趣”。C项“敬而远之”指表示尊敬却有所顾虑不愿接近, 符合文意。A项“望洋兴叹”多比喻做事时因为力不胜任或没有条件而感到无可奈何, 侧重于“无奈”, 排除。B项“望而生畏”指看见了就害怕, 文段没有表达“害怕戏曲”的意思, 排除。D项“知难而退”现指知道事情困难就后退, 文段并没体现出戏曲的“困难”, 排除。验证第二空, “先入为主”指先听进去的话或先获得的印



象往往在头脑中占有主导地位, 以后再遇到不同的意见时, 就不容易接受, 和“偏见”搭配恰当, 符合文意。因此 C 项当选。

10. 【解析】C。先看第二空, 根据“名牌”“追求时尚”“商家有了商机”可知, 横线处所填词语应表示松萝茶受到人们的欢迎和追捧。A 项“一掷千金”指用钱满不在乎, 一花就是一大笔, 用于此处程度过重, 排除。B 项“如影随形”比喻两个人关系亲密, 常在一起, 不符合语境, 排除。C 项“趋之若鹜”比喻人们成群地争着前去, “趋”对应文段中“追求”, 契合文意。D 项“蜂拥而至”形容很多人乱哄哄地朝一个地方聚拢, 侧重强调的是“地点”, 而文段强调的是“追求时尚”, 与“地点”无关, 排除。验证第一空, “声名鹊起”形容名声突然大振, 知名度迅速提高, 对应前文的“名牌效应”, 符合文意。因此 C 项当选。

11. 【解析】B。文段开篇先介绍“民间文化难有连续性的书面记载”的事实, 接下来指出“非遗”申报的制度化使民间文化“申报”过程艰难, 随后通过“最终”引出“民间文化特点”与“申报制度化”结合后的消极影响, 即“将原本活态的文化形式化”。尾句通过“如此”总结前文, 强调“非遗”申报的制度化要求不适合民间文化, 对应 B 项。A 项, 对应文段首句, 非文段重点, 排除。C 项“遇到极大的阻力”属于无中生有, 文段只是阐述“非遗”申报的制度化会给民间文化带来不好的影响, 排除。D 项“教条化的评价标准”属于偷换概念, 文段强调的是“非遗”申报的制度化要求, 而非“评价标准”, 排除。因此 B 项当选。

12. 【解析】C。横线位于文段的首句, 是对文段的总结概括。文段首先阐述新经济属于行政管理范畴, 在企业准入等领域存在过去体制遗留的障碍, 而后阐述要为新经济松绑。即不要让“体制”对“企业准入”有那么多障碍。后文进一步阐述, 政府的调控监管理念、体制需要转变, 过去把持行政审批的做法行不通, 强调的是“政府”与“市场”的关系, 对应 C 项。A、B、D 三项均未体现出“政府”与“市场”的关系, 排除。因此 C 项当选。

13. 【解析】D。文段开篇提出问题, 通过“甚至”强调“网络语言低俗化”降低了整个社会的文明程度, 接着分析当前网络语言的发展路径, 指出其影响广泛, 可能沉淀到语言应用的各个方面, 尾句强调不能任由网络语言低俗化发展, 对应 D 项。A 项“网络语言低俗化的负面效应”为问题表述, 非重点, 排除。B 项“将会影响”时态错误且表述不明确, 排除。C 项, 文段主题为“网络语言低俗化”而非“网络语言”, 排除。因此 D 项当选。

14. 【解析】A。文段内容可概括为熊猫“口”得到了进化, 而“腹”并未进化完善。A 项“口是腹非”符合文意, 当选。B 项“竹子与熊猫”中的“竹子”只是用来说明熊猫的饮食和颌骨得到了进化, 但消化道还没进化好, 概括不全面, 排除。C 项仅对应“腹”的状况, 表述片面, 排除。D 项中的选择关系在文段中并未体现, 排除。

15. 【解析】C。横线在文段的中间, 起承上启下的作用。前文指出“一味传授阅读技巧却忽视学生真正需求”, 通过“殊不知”进行转折, 提出阅读的初衷“不单是掌握阅读技法, 更要培养学生的洞察、鉴赏和运用的能力”。A 项强调传授给人既有知识, 不如传授给人学习知识的方法。只强调“方法”, 而缺少了更重要的“能力”培养, 排除。B 项的意思是想求速成反而达不到目的, 贪图小利就办不成大事。文段没有关于“求速和贪图小利”的表述, 排除。C 项前半句指精神层面的思维活动, 后半句指具体的方法、器物。“形而上”对应文段中更加重要的“学生洞察、鉴赏和运用的能力”, “形而下”对应相对简单的“阅读技法”, 符合文意。D 项强调学习的兴趣, 文段虽然提到了学习兴趣的重要性, 但重点强调阅读更应培养学生洞察、鉴赏和运用的能力, 排除。因此 C 项当选。

16. 【解析】B。文段开篇提出问题, 即跨境电商在高速发展, 但进口商品增值税却持续下降, 随后用 2015 年的税收数据进行具体的解释说明, 尾句通过“跨境电商税收新政”的意义强调其能解决税收下降的问题, 对应 B 项。A 项是文段首句的表述, 非文段重点, 排除。C 项的“如何接轨”和 D 项的“如何建立……增长机制”在文段中均未提及, 排除。因此 B 项当选。



17. 【解析】C。文段首先指出农村衰败是媒体人提出的议题, 且成为热门话题, 接着强调在农村话题中作家是缺席的, 后文通过巴尔扎克等例子进一步指出作家应该通过行动来对社会问题发表意见, 故文段重在强调在农村话题中作家没有发挥出应有的作用, 对应C项。A项“农村题材不再吃香”与文意相悖, 文段指出农村话题是社交媒体上的热搜词, 排除。B项“现代舆论话题”属于扩大概念, 文段强调的是“农村话题”, 排除。D项为文段中的例子, 且“社会事务”属于偷换概念, 排除。因此C项当选。

18. 【解析】D。文段首先指出口耳相传的知识得不到重视, 接着论述今天轻视口头文化的总体倾向并没有得到纠正, 进而指出从20世纪中叶开始, 学者意识到轻视口头传承会带来弊端, 尾句进行总结, 说明“口述历史”“口头诗学”等成为人文学术的新趋向和新领域, 对应D项。A项, 文段说的是学者的观念变了, 并未提到改变现状, 且“学术界”范围过大, 文段并未提及“学术界”, 排除。B项“文字被神圣化”对应文段首句, 非重点, 排除。C项“民间文化”属于偷换概念, 文段重在强调口头文化, 排除。因此D项当选。

19. 【解析】A。文段开篇指出, 古典时期的经济学存在经济伦理的约束, 接下来指出经济学不断引入新的工具和方法, 尾句强调经济学逐渐成为一个工具理性占上风的学科, 即经济伦理的约束越来越小, 对应A项。B项“未使用抽象逻辑演绎的方法”在文段中并未提及, 属于无中生有, 排除。C项, “亚当·斯密时期”强调的是经济伦理, 而非工具理性, 排除。D项“数学工具”表述片面, 文段还提到“抽象逻辑演绎的分析方法”, 且“打破契合点”属于主观臆断, 排除。因此A项当选。

20. 【解析】A。文段首先论述国学成为了“博物馆文化”, 接着通过转折, 指出“博物馆文化”与现实生活越来越远, 尾句指出需要考虑如何让中国文化“血脉贯通”, 因此文段重在强调国学研究应该连通古今, 对应A项。B项, 文段并未强调在国学研究中要借鉴西方, “西体中用”偏离了文段中心, 排除。C项, “去粗取精”属于无中生有, 文段并未提及在国学研究中的精华与糟粕, 排除。D项“溯本求源”指的是追寻根本, 探求起源, 文段重在强调打通古今、古为今用, 而非单纯回到根本, 排除。因此A项当选。

21. 【解析】D。文段首先阐述了我国当下国防政策的现状, 接着由“但是”引出我国国防政策应顺应未来发展要求, 即“适应新要求……应将周边、海外及新型安全领域纳入战区经略范围”, 强调“战区经略范围”需要进一步扩大, 适应新的安全与发展要求, 对应D项。A项仅为适应时代发展的其中一个措施, 表述过于片面, 排除。B项“发展危机”属于无中生有, 排除。C项“传统安全领域”属于偷换概念, 排除。因此D项当选。

22. 【解析】D。文段的叙述逻辑是: 众多单位分工管理, 承担部分保护职能→这种分工保护呈现“碎片化”→“碎片化”的表现是缺乏沟通和交流、缺乏统一管理→“碎片化”有很多弊端, 低效、令保护对象分散等等→保护的意义上和价值大打折扣。这一叙述逻辑的重点在第一句和最后一句, 二者结合起来就是“碎片化的分工管理不利于电影文化遗产的保护”, 也就是D项, 这是作者想要说明的问题, 因此D项当选。

本题为争议题, 有机构给出的答案是B。本书可从两个角度排除B项。第一个角度, 梳理文段叙述逻辑可知, “碎片化”有两个表现, 一是缺乏沟通和交流, 二是缺乏统一管理, B项只提到了“沟通”, 着眼点狭窄, 作者显然没有把“缺乏沟通”作为叙述重点。第二个角度, 文段多次提到“遗产”一词, 结合语境和文意可知, 文段探讨的话题核心是“电影文化遗产保护”, 注意, 这与“电影文化保护”、“电影保护”是有区别的, 由此可排除A、B两项。C项, “电影文化遗产难以传承”过于严重, 文段没有这个意思, 排除。

注: 本题所给文段选取自《中国文化报》发表的文章——《谁来保护正在消亡的电影文化遗产》, 原文给出的段落总结句是“保护工作的碎片化”。虽说原文所给的总结句未见得是最好的, 但综合考量四个选项, 本书认为确实没有比D项更合适的。

23. 【解析】B。文段开篇介绍背景, 即大数据时代已经到来, 接着指出数据是一种无形资产, 强调如何变现少有人知, 随后进一步论述数据对于普通企业的重要性, 再次强调很少有企业从数据中获取有价值的信息, 即企业对数据的开发还停留在表面。因此文段意在强调, 企业应该进一步挖掘数据的深层价值, 对应B项。A项, 为转折前的内容, 非重点, 排除。C项, “主要目的”并非文段重点, 文段重点在如何将数据变成资产充



分利用, 排除。D项, 与文段内容无关, 排除。因此B项当选。

24. 【解析】A。首先确定首句。④句引出“生物炭的历史悠久”这一话题, ⑤句具体论述生物炭千百年的历史, 对比可知, ⑤句是对④句展开的详细说明, 故④句应为首句, 排除C、D两项。③句中的“这个想法”与④句中的“悠久历史”无法紧密衔接, 排除B项。因此A项当选。

25. 【解析】C。②句提到了“视频显微镜”让人觉得自己是探险家, 而④句是在阐述“视频显微镜”的功能, 说明“视频显微镜”之所以让人觉得自己是探险家, 是基于其功能得出的结论, 所以④句应在②句之前, 排除A、B两项。④句末尾提到“感觉就像戴上了魔术眼镜或是突然获得了超人般的视觉”, ①句提到“但这一技术不是魔术”, 属于转折前后句意相对的关系, 故④①捆绑, 排除D项。因此C项当选。

26. 【解析】C。首先确定首句。⑤句指出触发生态变化都与冰川消退有关, ④句和⑥句具体讲述变化的过程, 即“冰川开始融化”“冻原和稀疏的森林首次生长出来”, 都是对⑤句提到的“变化”的具体阐述, 因此, ④句和⑥句必须在⑤句之后, 排除B、D两项。观察句子, ③句中的“植物生长茂盛……”不能够由⑥句中“在光秃秃的地表上, 冻原和稀疏的森林首次生长出来”得出来, 无法得出因果关系, ③句不能直接衔接在⑥句后面, 排除A项。因此C项当选。

27. 【解析】A。文段首先说明以往城市规模取决于周围地区粮食的产量, 因此流域地区人口最为密集。接着通过“随着”交代现在的情况, 即工业革命发展、工厂体系建立, 人们获取粮食的渠道更加多元、可以充分供应洁净的水、预防疾病等等。最后通过“这些进步”指代上文给出结论, 即城市开始以更快的速度发展。因此文段意在说明, 工业革命使城市的发展更为快速, 对应A项。B项, “改变人们的生活方式”属于无中生有, 排除。C项, “……使城市人口迅速增长”表述错误, 文段并无此因果关系, 排除。D项, “技术和医学”属于工业革命带来的进步中的部分内容, 表述片面, 排除。因此A项当选。

28. 【解析】D。文段开篇提出疑问“中国的古代城市都有城墙吗?”显示作者对此的怀疑态度, 然后提到“似乎必然有城墙”亦反映了作者对此的不确定, 接着介绍了都城都有城墙并进行了详细解释说明, 因此后文应具体描述不存在城墙的城市, 对应D项。A、C两项均缺少文段主题词“城墙”, 排除。B项“古代都城城墙的作用”在文段中已有体现, 即“彰显着皇权的至高无上”, 排除。因此D项当选。

29. 【解析】C。文段首先提出马克思的“报刊有机运动”理论并指出新闻最初的报道往往是片面的, 随后指出“报刊的有机运动”只能掌握阶段性事实, 这正是新闻传播的特性, 尾句通过“而且”再次强调新闻报道是对新闻事实的阶段性描述, 即表明新闻报道是慢慢接近事实真相的过程, 对应C项。A项, 文段所说的新闻真实的“动态”指对新闻真实持续呈现, 而不是说发生的事实会演变, 排除。B项, “不深入”只是导致初期新闻片面化的原因之一, 非重点内容, 排除。D项, “专业记者和公民记者”为递进前的内容, 非文段重点, 排除。因此C项当选。

30. 【解析】A。文段首句提出问题, 即新媒体出版存在的不良现状, 接下来分析问题产生的原因, 尾句针对问题给出对策, 因此“这种状况”指的是新媒体在内容方面存在的问题。对应A项。B、C、D三项都是问题产生的原因, 且表述不够全面, 排除。因此A项当选。

31. 【解析】B。A项, 根据《宪法》第1条, 中华人民共和国是工人阶级领导的、以工农联盟为基础的人民民主专政的社会主义国家。选项表述正确, 排除。

B项, 人民行使国家权力的机关是全国人民代表大会和地方各级人民代表大会, 不是各级人民政府, 各级人民政府是我国的行政机关。选项表述错误, 当选。

C项, 根据《宪法》第3条, 中华人民共和国的国家机构实行民主集中制的原则。选项表述正确, 排除。

D项, 根据《宪法》第6条, 中华人民共和国的社会主义经济制度的基础是生产资料的社会主义公有制, 即全民所有制和劳动群众集体所有制。选项表述正确, 排除。

32. 【解析】B。A项, 根据《最高人民法院关于巡回法庭审理案件若干问题的规定》第2条, 巡回法庭是



最高人民法院派出的常设审判机构。巡回法庭作出的判决、裁定和决定, 是最高人民法院的判决、裁定和决定。该项正确, 排除。

B 项, 二审终审制是指一个案件经过两级人民法院审判即告终结的制度, 对于第二审人民法院作出的终审判决、裁定, 当事人等不得再提出上诉, 人民检察院不得按照上诉审程序抗诉。而巡回法庭制度是指法院为方便群众诉讼, 在辖区设置巡回地点, 定期或不定期到巡回地点受理并审判案件的制度, 巡回法庭制度也需遵循二审终审制, 因此最高人民法院设立巡回法庭并不是对我国二审终审制的变通规定。该项错误, 当选。

C 项, 根据《最高人民法院关于巡回法庭审理案件若干问题的规定》第 4 条, 知识产权、涉外商事、海事海商、死刑复核、国家赔偿、执行案件和最高人民检察院抗诉的案件暂由最高人民法院本部审理或者办理。也就是说最高人民检察院抗诉的案件由最高人民法院本部审理, 不在巡回法庭的受案范围之内。该项正确, 排除。

D 项, 根据《最高人民法院关于巡回法庭审理案件若干问题的规定》第 9 条, 巡回法庭根据审判工作需要, 可以在巡回区内巡回审理案件、接待来访。该项正确, 排除。

33. 【解析】D。根据《选举法》第 44 条, 在选民直接选举人民代表大会代表时, 选区全体选民的过半数参加投票, 选举有效。代表候选人获得参加投票的选民过半数的选票时, 始得当选。县级以上的地方各级人民代表大会在选举上一级人民代表大会代表时, 代表候选人获得全体代表过半数的选票时, 始得当选。

A 项, 参加投票的有 889 人, 不到选民 1889 人的一半, 因此选举无效, 排除。

B 项, 根据《选举法》第 43 条, 每次选举所投的票数, 多于投票人数的无效, 等于或者少于投票人数的有效。张某获选票数 1781 张, 多于参加投票的人数 1770 人, 因此选举无效, 排除。

C 项, 张某获选票 697 张, 未获得半数选票, 无法当选, 排除。

D 项, 选项中参加投票人数 1001 人, 超过全体选民 1889 人的一半; 同时张某获选票 792 张超过参加投票选民 1001 人的一半, 可以当选。符合题意, 当选。

34. 【解析】D。A 项, 根据《消费者权益保护法》第 7 条, 消费者在购买、使用商品和接受服务时享有人身、财产安全不受损害的权利。该项正确, 排除。

B 项, 根据《消费者权益保护法》第 9 条, 消费者享有自主选择商品或者服务的权利。该项正确, 排除。

C 项, 根据《消费者权益保护法》第 27 条, 经营者不得对消费者进行侮辱、诽谤, 不得搜查消费者的身体及其携带的物品, 不得侵犯消费者的人身自由。该项正确, 排除。

D 项, 根据《消费者权益保护法》第 24 条, 经营者提供的商品或者服务不符合质量要求的, 消费者可以依照国家规定、当事人约定退货, 或者要求经营者履行更换、修理等义务。没有国家规定和当事人约定的, 消费者可以自收到商品之日起七日内退货; 七日后符合法定解除合同条件的, 消费者可以及时退货, 不符合法定解除合同条件的, 可以要求经营者履行更换、修理等义务。D 项“一个月以后提出退货”超出了七日内退货的期限, 因此赵某不享有此项权利, 当选。

35. 【解析】A。A 项, 配偶作为原告提起离婚诉讼, 被告为无民事行为能力人, 需除了配偶外的近亲属作为诉讼代理人。小刘是小张的配偶, 因此不能作为小张的离婚诉讼代理人。该项说法正确, 当选。

B 项, 法律赋予公民以婚姻自主权, 由公民自主决定婚姻问题, 他人不能替代。因此小张的父亲不能代替小张作出意思表示, 是否离婚只能由法院根据婚姻状况及感情破裂程度作出判决。该项错误, 排除。

C 项, 无民事行为能力人的离婚诉讼, 当事人的法定代理人应当到庭; 法定代理人不能到庭的, 人民法院应当在查清事实的基础上, 依法作出判决。“法院不能判决”的表述错误, 排除。

D 项, 对于无民事行为能力人的离婚, 只能通过诉讼进行, 而不能协议离婚, 因为无民事行为能力人不能进行民事活动, 其所作出的意思表示是无效的。因此“可以与小张协议离婚”表述错误, 排除。

36. 【解析】A。根据《刑事诉讼法》第 54 条, 采用刑讯逼供等非法方法收集的犯罪嫌疑人、被告人供述和采用暴力、威胁等非法方法收集的证人证言、被害人陈述, 应当予以排除。收集物证、书证不符合法定程序,



可能严重影响司法公正的, 应当予以补正或者作出合理解释; 不能补正或者作出合理解释的, 对该证据应当予以排除。

A 项, 采用刑讯逼供犯罪嫌疑人的供述, 应当予以直接排除, 当选。B 项的“现金”、C 项的“支票”、D 项的“自行车”都属于“物证”, 需要看能否“补正或者作出合理解释”, 不能直接排除。

37. 【解析】C。C 项, 英国是世界上最早出现资产阶级政党并最先确立和实行两党制的国家, 目前英国属于议会内阁制下的两党制。因此英国不是多党制国家, 多党制是指在一个国家中, 通常由不确定的两个或两个以上的政党联合执政的政治制度, 比如意大利、荷兰、希腊等国实行的是多党制。该项表述错误, 当选。

38. 【解析】B。货币型基金是一种开放式基金, 有流动性高、效益低、投资管理费用低等特点。同时, 货币型基金是一种类似于银行活期存款的低风险投资产品, 其价格通常只受市场利率的影响, 因此货币型基金风险性较低, B 项当选。

39. 【解析】B。“三国时期”(公元 220 年~公元 280 年)分为曹魏、蜀汉、东吴三个政权。“邨下文人集团”是以曹氏父子为中心的名流学士。排除 C、D 两项。A 项, 曹操一生未称帝, 不符合“皇帝”这一特征, 排除。B 项, 建安二十五年(220 年), 曹丕受禅登基, 史称魏文帝, 是三国时期杰出的诗人, 当选。

40. 【解析】A。图片为佛教绘画《玄奘负笈图》, 这幅图中的人物是“玄奘”。A 项, 曾东渡日本传播佛法的是鉴真而非玄奘, 说法错误。B 项, 玄奘曾在古印度学习佛教圣典, 前后十七年在印度学遍了当时的大小乘各种学说, 说法正确。C 项, 大雁塔位于陕西西安的大慈恩寺内, 用于安置玄奘所带回的佛经, 说法正确。D 项, 《大唐西域记》是我国和世界最早的国际新闻作品集、佛教史籍, 是由玄奘口述, 其弟子记录的游记, 说法正确。此题为选非题, 因此 A 项当选。

41. 【解析】C。A 项, 构成地球岩石圈的主要为沉积岩、岩浆岩和变质岩, 其中沉积岩所占的比例仅为 5%, 说法错误。B 项说法过于绝对, 压实作用只会让孔隙度降低, 不会完全没有孔隙, 说法错误。C 项, 在流水的搬运途中, 一般颗粒大、比重大的物质先沉积, 颗粒小、比重小的物质后沉积。所以当水动力减弱时, 较重的碎屑会先沉积下来, 说法正确, 当选。D 项, 剥蚀搬运十分普遍, 地表的岩石无时无刻不在经受着这种作用, 说法错误。

42. 【解析】A。极光出现于星球的高磁纬地区上空, 是一种绚丽多彩的发光现象。A 项说法正确, 当选。B 项, 极光不只在地球上出现, 太阳系内具备大气、磁场、高能带电粒子的行星上也有极光, 说法错误。C 项, 产生极昼、极夜现象是受地球公转和自转的影响, 与极光无关, 说法错误。D 项, 极光产生的条件是大气、磁场、高能带电粒子。水汽不是极光产生的必要条件, 说法错误。

43. 【解析】D。A 项, 鲁班, 姬姓, 公输氏, 名班, 鲁并不是姓, 人们常称为“鲁班”。不符合题意, 排除。

B 项, 屈原, 姓平, 名平, 屈是他的氏, 原为字。不符合题意, 排除。

C 项, 苏东坡, 姓苏, 名轼, 字子瞻, 东坡是他的号。不符合题意, 排除。

D 项, 辛弃疾, 姓辛, 名弃疾, 字幼安, 号稼轩。符合题意, 当选。

44. 【解析】B。①“东篱把酒黄昏后”出自李清照的《醉花阴·薄雾浓云愁永昼》。指的是黄昏把酒赏菊。赏菊、饮菊花酒为九月九日重阳习俗。

②“雨中禁火空斋冷”出自韦应物《寒食寄京师诸弟》。是指在清明前一日或两日的寒食节, 有禁烟火、吃冷食的习俗。

③“莫唱江南古调, 怨抑难招, 楚江沉魄”出自吴文英《澡兰香·淮安重午》。“江南古调”“楚江沉魄”分别对应的是《离骚》与屈原, 描述的节日为端午节。

B 项对应正确, 当选。

45. 【解析】A。A 项, 我国 800 毫米年等降水量线是沿秦岭——淮河一线向西, 折向青藏高原东南边缘一线, 并不经过内蒙古的阴山山脉。说法错误, 当选。



B项,“胡”是中国古代对北方和西方各少数民族的泛称。说法正确,排除。

C项,《出塞》的作者是王昌龄,盛唐著名的边塞诗人,被后人誉为“七绝圣手”。说法正确,排除。

D项,诗句中的“飞将”指的是西汉名将李广,说法正确,排除。

46.【解析】C。旅行者2号探测器是美国航天局研制的飞往太阳系外的第二艘空间探测器。探访顺序如下:

①在1979年7月9日最接近木星,在距离木星云顶570,000公里(350,000英里)处掠过。

②在1981年8月25日最接近土星,当太空船处于土星后方时(相对地球而言),它以雷达对土星的大气层上部进行探测,并量度了气温及密度等资料。

③在1986年1月24日最接近天王星,并随即发现了10个之前未知的天然卫星。

④在1989年8月25日最接近海王星,发现了海王星的大暗斑。

因此C项当选。

47.【解析】A。A项,七国之乱是发生在西汉汉景帝时期的一次诸侯国叛乱。该项错误,当选。

B项,五胡乱华指在西晋时期塞外众多游牧民族趁西晋国力衰弱之际,陆续建立的非汉族政权,形成与南方汉人政权对峙的局面。该项正确,排除。

C项,“王与马,共天下”是指东晋时期琅琊王氏家族与当时皇室力量势均力敌,甚至还有过之,当时百姓称之为“王与马,共天下”。该项正确,排除。

D项,南北朝时期佛教盛行,到了梁武帝时臻于鼎盛。梁武帝一心崇佛,极力发展佛教。他本人曾几次舍身到同泰寺(今南京鸡鸣寺)当和尚,被人称为“和尚皇帝”。该项正确,排除。

48.【解析】D。A项,禅宗自五祖弘忍以后,因北方神秀的渐悟说和南方慧能的顿悟说主张不同而形成南宗和北宗两个派别。说法正确,排除。

B项,董其昌在《容台别集·画旨》中论及“画分南北宗”：“禅家有南北二宗,唐时始分;画之南北二宗,亦唐时分也。”说法正确,排除。

C项,“南洪北孔”指的是清初著名历史剧作家洪昇和孔尚任,他们分别以《长生殿》和《桃花扇》名震剧坛。说法正确,排除。

D项,李煜是南唐最后一位国君,南唐属于五代十国时期,而非南北朝,说法错误,当选。

49.【解析】B。谦辞,表示谦虚或谦恭的言辞,大都只能用于自称。

A项,不吝赐教:不吝惜自己的意见,希望别人给予指导,敬辞。班门弄斧:比喻在行家面前卖弄本领,谦辞。排除。

B项,抛砖引玉:抛出砖去,引回玉来。比喻用自己不成熟的意见或作品引出别人更好的意见或好作品,谦辞。望尘莫及:指望见走在前面的人带起的尘土而追赶不上,比喻远远落后,谦辞。二者均属于谦辞,当选。

C项,洗耳恭听:指做好准备用心地聆听别人说的话,对自己有很大的帮助。请人讲话时的客气话,指专心地听,敬辞。蓬荜生辉:指某事物使寒门增添光辉,多用于宾客来到家里,或赠送可以张挂的字画等物的客套话,谦辞。排除。

D项,高抬贵手:原意手抬高一些就可以让人过去,引申是表示请求宽恕、通融时的客套用语,请求对方宽恕、原谅等,属于敬辞。一孔之见:比喻狭小片面的见解,可用做谦辞,但不做谦辞时含贬义。排除。

50.【解析】D。A项,就侵入岩与围岩的关系来说,总是侵入者年代新,被侵入者年代老,因此当岩层之间有切割现象时,被切割的岩层比切割的岩层古老。说法正确,排除。

B项,三叶虫出现的时间要略早于鱼类。因此发现大量三叶虫化石的岩层比发现大量鱼类化石的岩层古老。说法正确,排除。

C项,该方法是1904年英国物理学家卢福首先提出的,此方法的基本原理是:假设岩石形成时,含有一定量的具放射性的母体同位素,随时间的流逝,该母体同位素蜕变,其含量逐渐减少,蜕变后形成的子体同位素



则逐渐增多, 只要测定母体同位素与子体同位素之比, 则该比值就可作为岩石形成以来的时间的尺度。说法正确, 排除。

D 项, 表述过于绝对, 形成于同一地质时期、同一地质环境下的岩石性质才大致相同。说法错误, 当选。

51. 【解析】D。假设出生的月份为 a , 出生的日期为 b , 根据题意可得: $29a+24b=900$, a 和 b 都是正整数, 900 能被 12 整除, $24b$ 也能被 12 整除, 则 $29a$ 能被 12 整除, 所以 a 能被 12 整除。而 a 是出生的月份, 故出生月份是 12 月, 出生季度是第四季度。D 项当选。

52. 【解析】A。假设小王、小刘的速度分别为 a 、 b , 甲地到乙地的距离为 $60(a+b)$, 小王从甲到乙所需时间为 $\frac{60(a+b)}{a}$, 小刘从乙到甲所需时间为 $\frac{60(a+b)}{b}$, 二者相差 27 分钟, 即 $\frac{60(a+b)}{b} - \frac{60(a+b)}{a} = 27$, $\frac{a}{b} - \frac{b}{a} = \frac{9}{20}$ 。将选项代入验证, 若 $a:b=5:4$, 则 $\frac{5}{4} - \frac{4}{5} = \frac{9}{20}$, 满足。A 项当选。

53. 【解析】C。总数为 3000 个, 要获得额外奖励则优良品个数至少为 $3000 \times 30\% = 900$ (个), 问的是最多, 则考虑选项从大到小代入:

A 项, 若合格品有 2100 个, 可得工资 $2100 \times 1 = 2100$ (元), 若优良品个数为 $3000 - 2100 = 900$ (个), 可得工资 $900 \times 2 = 1800$ (元), 另获得额外 400 元, 总工资为 $2100 + 1800 + 400 > 4000$ (元), 不满足; 若优良品个数未达到 900, 优良品个数为 $(4000 - 2100) \div 2 = 950 > 900$, 与假设矛盾, 不满足。

B 项, 若合格品有 2000 个, 可得工资 $2000 \times 1 = 2000$ (元), 若优良品个数大于等于 900 个, 则总工资至少为 $2000 + 900 \times 2 + 400 > 4000$ (元), 不满足; 若优良品个数未达到 900, 优良品个数为 $(4000 - 2000) \div 2 = 1000 > 900$, 与假设矛盾, 不满足。

C 项, 若合格品有 1800 个, 可得工资 $1800 \times 1 = 1800$ (元), 若优良品大于等于 900 个, 则总工资至少为 $1800 + 900 \times 2 + 400 = 4000$ (元), 即优良品个数正好为 900 时, 满足, 故合格品个数最多为 1800 个。

因此 C 项当选。

54. 【解析】D。假设总产量为 $42a$, 则型钢类产量为 $42a \times \frac{1}{6} = 7a$, 钢板类产量为 $42a \times \frac{1}{7} = 6a$, 钢管类为 $14 \times (7a - 6a) = 14a$, 钢丝的产量为 $\frac{1}{2} \times (14a + 7a) = 10.5a$, 则 $7a + 6a + 14a + 10.5a + 3 = 42a$, 解得 $a = \frac{2}{3}$ (万吨), 则总产量为 $42a = 28$ (万吨)。D 项当选。

55. 【解析】B。从 8 人中选 2 人参加计算机培训, 方法为 C_8^2 种, 从剩余 6 人中选 1 人参加英语培训, 方法为 C_6^1 , 从剩余 5 人中选 1 人参加财务培训, 方法为 C_5^1 种, 整体分步讨论, 总的情况数为 $C_8^2 \times C_6^1 \times C_5^1 = 840$ (种)。B 项当选。

56. 【解析】C。由题意可得, 甲船比乙船多行驶 10 公里, 甲船用时为 $4 - 1 = 3$ (小时)。设河水流速为 v , 则有 $3 \times (32 + v) - 4 \times (32 - v) = 10$, 解得 $v = 6$ (公里/小时)。C 项当选。

57. 【解析】B。设蔬菜生产基地距 A 市 S 公里, 汽车装箱费用为 A 元, 则火车装箱费用为 $A + 1500$ 元, 总费用 = 运输费用 + 装箱费用, 得 $20S + A - (15S + A + 1500) = 600$, 解得 $S = 420$ (公里)。B 项当选。

58. 【解析】B。当每个区间 X 取最小值时, 算术平均数有最小值为 $\frac{(0 + 2000 \times 25\% + 4000 \times 54\% + 7000 \times 1\%) \times 1000}{1000} = 2730$, 当每个区间 X 取最大值时, 算术平均数有最大值。但是 $X \geq 7000$, 没有上限, 最大值为无穷大, 所以算术平均数 ≥ 2730 。B 项当选。

59. 【解析】C。乙从剩余的七张牌中抽取三张牌, 总情况数为 $C_7^3 = 35$ (种)。获胜的情况分类讨论:

(1) 取出三张中, 较大两张为 10 和 5, 剩下一张从 1、3、4 中任取, 共有 3 种情况;

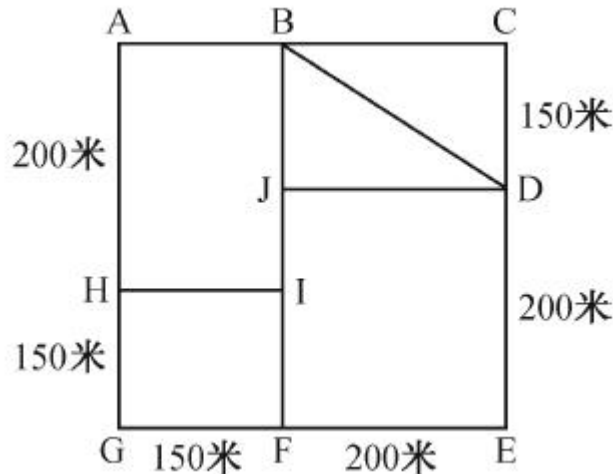
(2) 取出三张中, 较大两张为 (7、9) (7、10), 剩下一张从 1、3、4、5 中任取, 共有 $2 \times 4 = 8$ (种) 情况;

(3) 取出三张中, 较大两张为 9 和 10, 剩下一张从 1、3、4、5、7 中任取, 共有 5 种情况。



综上, 满足的情况总数为 $3+8+5=16$ (种), 获胜概率 $=\frac{16}{35}$, 在 40%~50% 之间。C 项当选。

60. 【解析】A。如下图, 图中一共有 4 个奇点, 分别是 H、I、F、J, 则至少需要两笔画完成。最短路线为 ABCDBJDEFIJHGFIIHA, 边 JI、IF、IH 走了 2 遍, $JI+IF=200$ 。根据勾股定理可知 $BD=250$, 所以最短路程为 $6 \times (200+150) + 250 + 200 + 150 = 2700$ (米)。最短时间为 $\frac{2700}{50} = 54$ (分钟), 即他最早 9:54 能完成任务返回办公室。A 项当选。



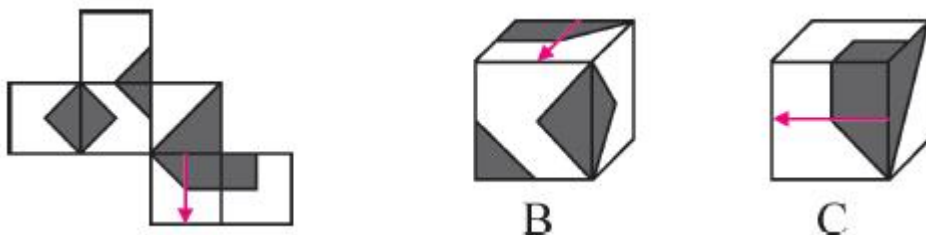
61. 【解析】D。观察图形, 元素组成不同, 考虑数量。题干图形的面数量为 0、1、2、3、4, 因此问号处应为 5 个面, 排除 C 项。题干图形都是有曲有直, A 项只有曲线, B 项只有直线, 均排除。只有 D 项是 5 个面, 且有曲有直。因此 D 项当选。

62. 【解析】C。观察图形, 元素组成不同, 没有明显的数量关系, 考虑属性规律。题干图形 1、3、5 外曲内直, 图形 2、4 外直内曲, 因此问号处应为外直内曲的图形, 对应 C 项, 当选。

63. 【解析】A。观察图形, 元素组成相似, 外部轮廓相同, 黑白不同, 考虑黑白叠加。第一行: 白+白=白、白+黑=黑、黑+黑=白、黑+白=黑。将此规律代入第二行仍符合。因此, 第三行左上角的下半部分应为: 黑+白=黑, 排除 C 项; 第三行右下角的上半部分应为: 黑+白=黑, 排除 D 项; 第三行右上角的上半部分应为: 白+白=白, 排除 B 项。因此 A 项当选。

64. 【解析】C。观察图形, 元素组成不同, 考虑数量规律。题干每一列的黑点数量都为 7、8、9, 因此问号处应为 9 个小黑点, 排除 B 项。第一行图形的小黑点都不相连, 第二行的小黑点有两个相连, 第三行的小黑点有三个相连, 因此问号处应该有 3 个小黑点相连, 对应 C 项, 当选。

65. 【解析】D。A 项, 题干大直角三角形直角的顶点和两个小直角三角形没有公共点, 排除。B 项, 从梯形的底边画箭头, B 项指向两个三角形的面, 而题干指向一个三角形的面, 排除。C 项, 从梯形的底边画箭头, 题干沿箭头方向的左边是小正方形, C 项的小正方形则在箭头的右边, 排除。因此 D 项当选。



66. 【解析】A。两个图形相交于面, 考虑相交面的形状。发现①④⑤相交部分的图形与两个图形的形状均相同, ②③⑥相交部分的图形与两个图形的形状均不相同。因此 A 项当选。

67. 【解析】B。每个图形都是由曲线和直线组成, 可以考虑线的数量。曲线相对较少, 先数曲线, ①②⑤



均有 3 条曲线, ③④⑥均有 1 条曲线。因此 B 项当选。

68. 【解析】A。每个图形都是对称图形, 但①③④⑤⑥为竖轴对称, ②为横轴对称, 不能分组。图形中面比较多, 但每个图形的面均是 6, 也不能分组。观察发现每个图形都有形状相同的面, ①②⑥中两个形状相同的面有公共边, ③④⑤中两个形状相同的面均不存在公共边。因此 A 项当选。

69. 【解析】D。②明显是一笔画图形, 优先数笔画。①④⑥均有 4 个奇点, 为两笔画图形, ②③⑤均有 2 个奇点, 为一笔画图形。因此 D 项当选。

70. 【解析】D。⑥的面和线明显多于其他图形, 放弃数面和线。观察发现⑥的交点数量相对较少, 可以考虑数交点, ①④⑥为 10 个交点, ②③⑤为 11 个交点。因此 D 项当选。

71. 【解析】D。定义要点为“以造成法律规定的危险状态作为既遂标志”“不是以造成物质性的和有形的犯罪结果为标准”。

A 项, 猥亵儿童是指以刺激或满足欲求为目的, 对儿童实施淫秽行为, 属于“有形的犯罪结果”, 不符合定义。

B 项, 商业诈骗是指一些以欺诈、瞒骗或违反信用为手段获取利益的非法行为, 属于“造成物质性的犯罪结果”, 不符合定义。

C 项, 诬告陷害是指捏造事实, 作虚假告发, 意图陷害他人, 使他人受刑事追究的行为。使他人受刑事追究是一种“有形的犯罪结果”, 不符合定义。

D 项, 醉酒驾驶是指车辆驾驶人员血液中的酒精含量大于或者等于 80mg/100mL 的驾驶行为。只要是醉酒驾驶了车辆, 就是一种危险状态, 无需产生“物质性和有形的犯罪结果”, 可以作为既遂标志, 符合定义, 当选。

72. 【解析】D。定义要点为“研究人类和昆虫的相互关系”“人类的行为和昆虫之间的相互作用”。

A 项, 研究具有某种宗教信仰的人食用昆虫的方式, 体现了“人类的行为和昆虫之间的相互关系”, 符合定义。

B 项, 研究某一民族将蝴蝶标本作为衣饰的原因, 涉及到“人类的行为和昆虫之间的相互关系”, 符合定义。

C 项, 研究人们利用昆虫娱乐的方式和原因, 体现了“人类的行为和昆虫之间的相互关系”, 符合定义。

D 项, 只研究了某一国家昆虫学的发展历史, 没有体现“人类和昆虫的相互关系”, 也没有体现“人类的行为和昆虫之间的相互作用”, 不符合定义。

本题为选非题, D 项当选。

73. 【解析】D。寻找定义要点:

税负转嫁的方式: “纳税人”通过“提高销售价格”或“压低购进价格”的方法。

税负转嫁的目的: 将税收负担“转移”给购买者或供应者。

A 项, 烟草批发商提高了进口烟卷的价格, 这是以“提高销售价格”的方法将烟草消费税转嫁给消费者, 符合定义。

B 项, 棉纱制造商作为“纳税人”通过“提高棉纱出厂价格”将税收负担“转移”给批发商, 符合定义。

C 项, 零售商作为化妆品零售环节征税的“纳税人”, 通过“要求供应商降低价格的方式来压低购进价格”, 进而将税收负担“转移”给供应者, 符合定义。

D 项, 织布厂的营业税并不是针对布匹征收的税, 而且其行为并没有将自身应当缴纳的营业税转嫁给印染厂, 仅是为了弥补营业税提高后的公司支出成本上升。另外选项中还提到了“减少了本厂职工的工资”, 职工既不属于购买者, 也不属于供应者。不符合定义。

本题为选非题, D 项当选。

74. 【解析】D。寻找定义要点:



去个性化的原因: 个人在群体压力或群体意识影响下, 自我导向功能的削弱或责任感丧失。

去个性化的结果: 产生一些个人单独活动时不会出现的行为。

去个性化的特点: 身份隐匿; 责任感模糊化。

A 项, 匿名网友随意转发不实信息体现了“个人在群体压力或群体意识影响下, 自我导向功能的削弱或责任感丧失”“身份隐匿”“责任感模糊化”, 符合定义。

B 项, 老人跌倒, 很多人围观却均未伸出援手体现了“个人在群体压力或群体意识影响下, 自我导向功能的削弱或责任感丧失”“产生一些个人单独活动时不会出现的行为”“身份隐匿”“责任感模糊化”, 符合定义。

C 项, 球迷为裁判是否误判争执打闹体现了“个人在群体压力或群体意识影响下, 自我导向功能的削弱或责任感丧失”“产生一些个人单独活动时不会出现的行为”“身份隐匿”, 符合定义。

D 项, 两个小偷偷东西是一种有目的性的自主行为, 不符合“个人在群体压力或群体意识影响下, 自我导向功能的削弱或责任感丧失”“产生一些个人单独活动时不会出现的行为”, 不符合定义。

本题为选非题, D 项当选。

75. 【解析】A。定义要点为“产品在使用过程中因其缺陷(包括设计缺陷、制造缺陷和警示说明缺陷)而造成用户、消费者或公众的人身伤亡或财产损失”“依法应当由产品供给方(包括制造者、销售者、修理者等)承担的民事损害赔偿责任”。

A 项, 某高架桥上有行人说明这是在使用过程中发生的, “因使用不达标准的钢筋”即制造缺陷, 导致坍塌, 造成行人受伤, 所以依法应当由产品供给方承担赔偿责任, 符合定义。

B 项, 患者在注射青霉素之后死亡的原因是注射前未过敏皮试, 而不是青霉素药物的缺陷, 不符合定义。

C 项, 市民饮用酸奶后住院的原因是购买酸奶后未冷藏, 而不是酸奶的缺陷, 不符合定义。

D 项, 婴儿急性中毒的原因是误食成人维生素, 而不是成人维生素的缺陷, 不符合定义。

因此 A 项当选。

76. 【解析】C。题干定义包含以下要件: (1) 团购+预购; (2) 展示创意, 用创意争取大众关注和支持; (3) 依靠大众力量, 向大众募集资金。

C 项, (1) 一批网友购买, 属于团购; 先预订后生产, 属于预购; (2) 宠物喂食器是小辛自己设计的, 融入了“设计创意”, 该“设计创意”打动了网友, 获得了网友支持, 纷纷支付预订费用; (3) 小辛向网友(即大众)募集到了用于批量生产的资金。符合定义的要件, 当选。

A 项, 小赵的做法其实是属于“订单农业”, 根据订单量进行生产, 避免滞销, 并没有体现出“创意”, 并不是用“创意”争取大众关注和支持以获取大众资金, 不符合题干定义的要件, 排除。B 项, 小李的做法其实是小区公益事业募款, 与 A 项相同, 也是没有体现出“创意”, 排除。D 项, 小唐的资金来源仅有一家投资公司, 并不是依靠大众力量, 向大众募集资金, 排除。

77. 【解析】B。定义要点为“商品提供者有意调低产量”“制造供不应求‘假象’”“维持较高售价和利润率的目的”。

A 项, 限量生产 3 万台电脑是因为不确定其是否能被市场接受, 而不是有意调低产量, 不符合定义。

B 项, 很多人排队等候甚至加价, 厂家却依然限量销售, 符合“商品提供者有意调低产量”“制造供不应求‘假象’”, 以扩大“热销”影响符合“维持较高售价和利润率的目的”, 符合定义, 当选。

C 项, 因为时尚界刮起“怀旧风”, 所以经典白球鞋供不应求, 没有体现出“商品提供者有意调低产量”, 不符合定义。

D 项, 白酒生产商限产是因为高档白酒滞销, 是为了保证效益, 没有体现“商品提供者有意调低产量”“制造供不应求‘假象’”, 不符合定义。

78. 【解析】C。定义要点为“对一次文献进行加工整理后的产物”“对无序的一次文献的外部特征如题名、



作者、出处等进行著录”“将内容提炼压缩成提要或文摘”“按照一定的学科或专业加以有序化的文献形式”。

A项, 小刘自己摘抄的“好词好句”手册, 并不是对一次文献进行加工整理后的产物, 不符合定义。

B项, 整理实验记录、处理数据后写出的文章属于一次文献, 排除。

C项, 经济类新书是一次文献, 经济类新书的目录和简介符合“将内容提炼压缩成提要或文摘”, 也符合“按照一定的学科或专业加以有序化的文献形式”, 符合定义, 当选。

D项, 小赵购买的急救手册不确定是否是对一次文献进行加工整理后的产物, 不符合定义。

79. 【解析】A。定义要点为“信息传播结束一段时间后, 高可靠性信息源带来的正效果在下降, 而低可靠性信息源带来的负效果却朝向正效果转化。”

A项, 名人宣传产品带来销售额的增加, 对消费者具有高可靠性, 销售增加符合信息源带来的正效果, “时间一长, 销售额迅速下降”符合“高可靠性信息源带来的正效果在下降”。符合定义, 当选,

B项, 产品名称容易使人产生不好的联想, 尽管质量好, 但一直打不开市场, 传播效果一直没有改变。不符合定义。

C项, 小李看中商品, 并于第二天取消订单, 都是其个人行为, 没有体现信息的传播。不符合定义。

D项, 武侠小说多为虚构或者人为夸张, 不具有“高可靠性”。不符合定义。

80. 【解析】D。定义要点为“为预防不良产品或服务出现而支付的成本”“计划与管理系统、人员训练、品质管制过程, 以及加强对设计和生产阶段的注意以减少不良产品出现的机率”“发生在生产之前”。

A项, “搜集产品质量情报”“对资料进行分析研究”所支付的费用, 符合对“品质管制过程、加强对设计和生产阶段的注意以减少不良产品出现的机率”, 并且以上过程都发生在生产之前, 符合定义。

B项, “对跑车设计方案进行评价、试制、质量评审”符合“加强对设计和生产阶段的注意”, 并且以上过程发生在生产之前, 符合定义。

C项, 改进手机品质符合“品质管制过程”, 并且以上过程都发生在生产之前, 符合定义。

D项, 为举办特惠活动而印刷宣传手册或影像资都发生在商品生产之后, 也没有体现“为预防不良产品或服务出现而支付的成本”, 不符合定义。

本题为选非题, D项当选。

81. 【解析】C。烟灰缸的用途是盛装烟灰, 二者是逻辑关系中的对应关系, 构成功能上的对应。C项, 首饰盒的用途是盛装首饰, 与题干逻辑关系一致, 当选。

82. 【解析】C。领袖是上衣的组成部分, 二者是包容关系中的组成关系。C项, 耳目是身体的组成部分, 与题干逻辑关系一致, 当选。

83. 【解析】B。进展是一种变化, 二者是包容关系中的种属关系。B项, 口角是一种冲突, 与题干逻辑关系一致, 当选。

84. 【解析】D。作茧自缚是指蚕吐丝作茧, 把自己裹在里面, 然后从虫到蛾; 化蛹成蝶是指蚕蛹吐丝结茧, 然后从茧变成蝴蝶。作茧自缚和化蛹成蝶存在先后顺序, 先作茧自缚, 再化蛹成蝶。D项, 凤凰浴火是指凤凰经历烈火的煎熬和痛苦的考验; 涅槃重生是指置之死地而重生。两词存在先后顺序, 先凤凰浴火, 再涅槃重生, 与题干逻辑关系一致, 当选。

85. 【解析】C。风车的主要动力来源是风, 风可以让风车旋转。C项, 电车的主要动力来源是电, 电可以让电车行驶, 与题干逻辑关系一致, 当选。

86. 【解析】B。玫瑰是一种植物, 玫瑰与植物是种属关系, 植物与动物是并列关系。B项, 画眉是一种鸟, 二者是种属关系, 鸟和鱼是并列关系, 与题干逻辑关系一致, 当选。

87. 【解析】C。口试、笔试是两种不同的招聘方式, 口试、笔试与招聘构成方式上的对应。C项, 批发、零售是两种不同的销售方式, 批发、零售与销售构成方式上的对应, 与题干逻辑关系一致, 当选。



88. 【解析】A。年号、历法都是一种计时方式, 二者都有计时的功能。A项, 股票、基金都是一种投资方式, 二者都有投资的功能, 与题干逻辑关系一致, 当选。

89. 【解析】A。社会包含家庭, 家庭是社会的组成部分, 生物包含细胞, 细胞是生物的组成部分, 前后逻辑关系一致, 因此A项当选。

90. 【解析】D。有些读物是有插图的, 插图是读物的一个或然组成部分, 有些小说是有序言的, 序言是小说的一个或然组成部分, 前后逻辑关系一致, 因此D项当选。

91. 【解析】C。加强题。论点: 果蝇的同性恋行为不仅受遗传因素影响, 社会因素也发挥了很大的促进作用。A项, 说明社会因素削弱了果蝇的同性恋行为, 排除。B项, 说明集体饲养即社会因素没有促进反而抑制了果蝇的同性恋行为, 削弱了论点, 排除。C项, 说明一天的集体饲养即社会因素也能够促进果蝇的同性恋行为, 加强了论点, 当选。D项, 没有谈及果蝇的同性恋行为, 属于无关选项, 排除。

92. 【解析】A。日常推理题。题干中提到了几个会影响汽车保费的因素: 车主年龄、性别、学历、是否出过交通事故、汽车价格、车型、车龄、颜色、车主性格。A项, 涉及的因素有: 交通事故、汽车颜色、车型、车主年龄、性别。B项, 涉及的因素有: 汽车价格、车型、车主性别。C项, 涉及的因素有: 车主年龄、性别、学历、车龄。D项, 涉及的因素只有车主性格。比较选项, A项涉及的因素最多, 因此最有可能推出的是A项, 当选。

93. 【解析】D。加强题。论点: 奇虾体长可能超过2米。论据: 这种动物口器有十几排牙齿, 直径有25厘米, 粪便化石长10厘米, 粗5厘米。A项, 虾类食物与奇虾体长无关, 排除。B项, 没有提及奇虾体长, 与论点无关, 排除。C项, 牙齿越多身体越长, 在论据和论点之间搭桥, 可以支持, 保留。D项, 牙齿和体长有固定的构成比例, 也是在论据和论点之间建立联系, 搭桥, 可以支持, 保留。比较C、D两项, 都可以支持, “固定的构成比例”可以直接支持“体长可能超过2米”的推测, 更为明确。因此D项当选。

94. 【解析】D。加强题。论点: 冬季食物比较匮乏, 孕妇不能很好地补充营养从而导致了新生儿体质虚弱。A项, 少数能为孕妇提供足够营养的富有家庭冬天生下了体质虚弱的婴儿, 说明新生儿体质虚弱并不是因为孕妇营养不足引起的, 举例削弱, 排除。B项, 半年前包括秋季与冬季, 孕妇营养不足主要是由于秋季还是冬季并不明确, 排除。C项, 说明是冬季发作的疾病导致婴儿体质下降, 并非孕妇营养不足, 另有他因, 排除。D项, 冬季为数不多的几种食物缺乏某微量元素, 该微量元素是婴儿急需的, 故导致婴儿体质虚弱, 添加论据加强解释, 当选。

95. 【解析】C。结论推出题。A项, 与题干“亮色汽车很少被问津”矛盾, 排除。B项, 题干只提到黑、灰色汽车容易被盗, 并不等同于暗色系汽车在二手车市场最畅销, 属于无中生有, 排除。C项, 由“白色汽车失窃率最低”“相对于新款或豪车而言, 盗车贼偏好有着三年车龄左右的大众车型”可以推出, 当选。D项, 题干未提到最畅销的车型与最易被盗的车型间的关系, 属于无中生有, 排除。

96. 【解析】D。加强题。论点: 利用水力压裂这种措施进行油气井增产之后, 油气井的产量一般会大幅增长, 但这种技术会给环境带来极大的破坏。A项, 井底油层会形成很高的压力, 和题干提到的是否会对环境造成影响无关, 排除。B项, 需注入顶替液进入裂缝, 将其撑起来, 和题干提到的是否会对环境造成影响无关, 排除。C项, 油气田的开发会影响居民的生活, 但是否影响环境不明确, 排除。D项, 注入压裂液会激活休眠地质断层引发地震, 证明使用这种增产措施或导致发生地震, 地震会给环境带来极大破坏, 能够支持题干观点, 当选。

97. 【解析】C。命题推理题。A项, “他人的快乐”与“给自己带来快乐”在题干中没有关联, 无法推出, 排除。B项, 题干“自己的快乐未必是他人的快乐”, “未必”等价于可能不, 推不出可能, 选项内容正确性无法得知, 排除。C项, 题干“他人的快乐未必是自己的快乐”, “未必”等价于可能不, 正确, 当选。D项, “自己的快乐”与“给他人带来快乐”在题干没有关联, 无法推出, 排除。



98. 【解析】B。元素对应题。

		c	月
a	地	日	b
		①	
天		d	

要求每行每列及粗线框中的四个小正方形中均含有天、地、日、月四个汉字, 找横纵信息最大交叉点, 即 a 和 b。a 处不能填入“天”“地”“日”三个字, 只能填入“月”字, 则 b 处填入“天”字, c 处填入“地”字, d 处填入“天”或“月”字。又通过第四行可知, d 处不能填“天”字, 所以①中填入“天”字, B 项当选。

99. 【解析】D。削弱题。论点: 人体感染会造成个体智商下降。论据: 因感染而住院者的智商分数平均比一般人低 1.76 分。而那些因感染住了 5 次及以上医院的人, 智商分数平均比一般人低 9.44 分。A 项, 大脑周围组织感染会影响大脑的智力水平, 产生好的影响还是坏的影响并不明确, 排除。B 项, 感染会影响痴呆病人的认知能力, 与题干中是否会造成个体智商下降无关, 排除。C 项, 智商是对心智能力的评价方式, 属于对智商测试的介绍, 与题干中是否会造成个体智商下降无关, 排除。D 项, 患病使得患者情绪紧张, 测试时注意力不集中, 说明导致测试结果的原因可能是由于患者的情绪紧张, 而不是由于感染, 属于他因削弱, 当选。

100. 【解析】A。命题推理题。①张获奖→李获奖; ②李获奖→刘获奖; ③¬田获奖→¬刘获奖; ④三人获奖。由①②③可知: 张获奖→李获奖→刘获奖→田获奖。由④可知只有三位老师获奖, 如果张老师获奖, 可以推出四位老师都获奖, 与题干冲突。因此张老师一定没获奖, A 项当选。注: ¬表示“并非”“没有”。

101. 【解析】C。根据“2016 年 1 季度全国规模以上文化及相关产业企业实现营业收入 16719 亿元, 比上年同期增长了 8.6%”可知, 2016 年 1 季度全国规模以上文化及相关产业企业营业收入的增长量

$$= \frac{\text{现期量}}{1+r} \times r = \frac{16719}{1+8.6\%} \times 8.6\% \approx 1324 \text{ (亿元)}。因为企业数为 4.7 \text{ 万家, 则平均每家全国规模以上文化及相}$$

关产业企业的营业收入约比上年增长 $\frac{1324}{4.7}$ 万元, 首位为 2, 因此 C 项当选。

102. 【解析】B。根据文字资料可知, 2016 年 1 季度全国规模以上文化及相关产业企业实现营业收入 16719 亿元, 则 $16719 \times 5\% = 16719 \div 20 \approx 840$ (亿元)。观察表格可知, 满足增长率大于 10% 的产业中, 只有文化信息传输服务 1131 亿元以及文化创意和设计服务 2041 亿元大于 840 亿元。因此 B 项当选。

103. 【解析】C。根据表格资料可知, 收入最高的两个产业为文化用品的生产和工艺美术品的生产, 其增长率分别为 6.3% 和 4.4%。因此混合增长率介于 4.4% 与 6.3% 之间, 排除 A、D 两项。根据混合增长率偏向基数较大的部分增长率可知, 混合增长率偏向 6.3%, 因此 C 项符合, 当选。

104. 【解析】A。根据资料可知, 2016 年 1 季度东部地区营业收入为 12528 亿元, 全国规模以上文化及相关产业企业实现营业收入 16719 亿元, 因此东部地区的比重为 $\frac{12528}{16719} \approx \frac{125}{167} \approx 75\%$, 排除 C、D 两项。由表格

可知, $\frac{\text{中部地区}}{\text{东北地区}} = \frac{2825}{237} > 10$, 因此中部地区所占的比重是东北地区的 10 倍以上, 观察图形可知, A 项符合,

当选。

105. 【解析】D。A 项, 根据表格资料可知, 服务相关产业收入 (按产业分的前六行) 增速最小的为 12.2%,



混合增长率一定大于 12.2%。生产相关产业收入(按产业分的后四行)增速最大的为 7.6%, 混合增长率一定小于 7.6%, 所以生产相关产业收入增速一定慢于服务相关产业收入增速, 错误。

B 项, 资料中只能找到 2016 年 1 季度增速比 2015 年全年增速快 1.7 个百分点, 没有给出与 2015 年 1 季度的同比变化数据, 故无法判断, 错误。

C 项, 根据表格资料可知, 营业收入最低的行业为文化艺术服务, 而收入增速最快的为文化信息传输服务, 错误。

D 项, 根据资料可知, 中部地区营业收入增长率为 12.7%, 西部地区的增长率为 10.6%, 所以中西部的增长率在 10.6% 和 12.7% 之间, 必然大于全国总体增长率 8.6%。部分增长率 > 整体增长率, 因此中西部企业营业收入占全国总体的比重上升, 正确。

因此 D 项当选。

106. 【解析】D。根据“2016 年 3 月我国出口煤及褐煤 127 万吨, 环比增长 36 万吨”可知,

$$\text{增长率} = \frac{\text{增长量}}{\text{基期量}} = \frac{36}{127-36} = \frac{36}{91} \approx 40\%。 \text{因此 D 项当选。}$$

107. 【解析】A。根据表格资料可知, 2016 年 1~3 月我国煤及褐煤进口量为 4846 万吨, 2015 年 1~3 月我国煤及褐煤进口量为 4904 万吨, 则增长率 = $\frac{4846-4904}{4904} = \frac{-58}{4904} \approx -1\%$, 即约下降 1%。A 项当选。

注: 本题也可由最后一段资料第三句可知 A 项正确。

108. 【解析】C。根据资料可知, 铁矿石、原油进口均价的同比下降幅度分别为 30.8% 和 37.2%, 均超过 30%。因此 C 项当选。

109. 【解析】C。根据“2016 年 3 月份进口钢材 127 万吨, 同比增长 45.08%”可知, 2015 年 3 月份进口钢材 = $\frac{127}{1+45.08\%} \approx \frac{127}{1.45}$, 直除得首位为 8, 因此 C 项当选。

110. 【解析】D。A 项, 根据“2016 年一季度原油进口量为 9110 万吨, 铜进口量为 143 万吨”可知, $143 \times 6 = 858 < 9110$, 即 2016 年一季度原油进口量大于铜的 6 倍, 错误。

B 项, 根据“2016 年 3 月全国钢材出口量 998 万吨, 环比增长 23.06%”可知, 环比增长量 = $\frac{998}{1+23.06\%} \times 23.06\% \approx 190$ (万吨) < 200 (万吨), 错误。

C 项, 根据“2016 年一季度, 铁矿石进口均价同比下跌 30.8%, 原油下跌 37.2%”可知, 2016 年第一季度铁矿石进口均价降幅低于原油, 错误。

D 项, 根据“2016 年 3 月份进口钢材 127 万吨, 2016 年 1~3 月累计进口钢材 313 万吨”可知, 2016 年 1~2 月钢材进口量 = $313 - 127 = 186$ (万吨), 月均进口量 = $\frac{186}{2} = 93$ (万吨) < 100 (万吨), 正确。

因此 D 项当选。

111. 【解析】A。根据图中数据可知, 2015 年 1~7 月国际/港澳台业务收入占同城、异地和国际/港澳台快递业务总收入的比重 = $\frac{202.6}{203.3+777.0+202.6} = \frac{202.6}{1182.9} \approx \frac{200}{1200} \approx 16.7\%$, 2016 年 1~7 月国际/港澳台业务收入

占同城、异地和国际/港澳台快递业务总收入的比重 = $\frac{230.7}{288.2+1085.6+230.7} = \frac{230.7}{1604.5} \approx \frac{230}{1600} \approx 14.4\%$,

$16.7\% - 14.4\% = 2.3\%$, 即下降 2.3 个百分点。因此 A 项当选。

112. 【解析】A。根据“2016 年 1~7 月份中部地区快递业务收入的比重为 10.7%, 与上年同期相比上升了 0.3 个百分点”可知, 2015 年 1~7 月份中部地区快递业务收入的比重 = $10.7\% - 0.3\% = 10.4\%$ 。因此 A 项当选。

113. 【解析】B。根据表格可得, 2016 年上半年, 函件月均业务量 = $\frac{221974.7-27251.9}{6} \approx \frac{190000}{6} > 30000$



(万件) > 27251.9 (万件), 包裹月均业务量 = $\frac{1630.1 - 187.6}{6} \approx \frac{1400}{6} > 200$ (万件) > 187.6 (万件), 快递月均业务量 = $\frac{1574731.0 - 249640.6}{6} \approx \frac{1300000}{6} \approx 220000$ (万件) < 249640.6 (万件), 故只有快递 2016 年 7 月业务量超过上半年月均业务量。因此 B 项当选。

114. 【解析】A。根据表格可知, 2016 年 7 月全国日均订销报纸数 = $\frac{150969.0}{31} \approx \frac{150000}{31} \approx 4839$ (万份), A 项最为接近, 当选。

115. 【解析】B。A 项, 根据表中数据可知, 2016 年 7 月包裹数量的 100 倍为 $187.6 \times 100 = 18760$ (万件), 函件数量为 27251.9 万件, 故 2016 年 7 月函件的数量大于包裹数量的 100 倍, 错误。

B 项, 根据表中数据可知, 2016 年 7 月快递业务收入占邮政行业业务收入的比重 = $\frac{311.4}{411.8} \approx 75.6\%$, 高于 75%, 正确。

C 项, 根据“与上年同期相比, 2016 年 1~7 月中部地区快递业务量比重上升了 0.4 个百分点, 西部地区快递业务量比重持平”可知, 错误。

D 项, 根据图中数据可知, 2016 年 1~7 月国际/港澳台快递收入同比增速 = $\frac{230.7 - 202.6}{202.6} \approx \frac{28}{200} = 14\%$;
同城快递业务收入同比增速 = $\frac{288.2 - 203.3}{203.3} \approx \frac{85}{200} = 42.5\%$, 异地快递业务收入同比增速 = $\frac{1085.6 - 777}{777} \approx \frac{310}{780} \approx 40\%$, 所以 2016 年 1~7 月国际/港澳台快递收入同比增速慢于同城快递业务和异地快递业务收入同比增速, 错误。

因此 B 项当选。

116. 【解析】D。根据“2016 年 4 月份, 第二产业用电量 3316 亿千瓦时, 第三产业用电量 569 亿千瓦时, 社会用电量 4569 亿千瓦时”可知, 所求比重为 $\frac{3316 + 569}{4569} = \frac{3885}{4569} \approx 85\%$ 。因此 D 项当选。

117. 【解析】B。根据资料可知, 1~4 月份第一产业用电量 270 亿千瓦时, 4 月份第一产业用电量 86 亿千瓦时, 则 1~3 月第一产业用电量为 $270 - 86 = 184$ (亿千瓦时), 所以第一产业第一季度月均用电量为 $\frac{184}{3} \approx 61.3$ (亿千瓦时)。B 项最为接近, 当选。

118. 【解析】C。定位资料“2016 年 1~4 月份, 全社会用电量增长率为 2.9%。第一产业用电量增长率为 9.1%, 第二产业用电量增长率为 0.2%, 第三产业用电量增长率为 10.0%”。部分增长率大于整体增长率, 则比重上升。满足条件的有第一产业、第三产业, 因此 C 项当选。

119. 【解析】B。根据资料可知, 2016 年 1~4 月第三产业用电量增长率为 10%, 2015 年 1~4 月第三产业用电量增长率为 $10\% - 2.1\% = 7.9\%$ 。根据间隔增长率公式得 $r = r_1 + r_2 + r_1 r_2 = 10\% + 7.9\% + 0.79\% = 18.69\%$, B 项最为接近, 当选。

120. 【解析】B。A 项, 2016 年第一季度全社会用电量为 $18093 - 4569 = 13524$ (亿千瓦时), 则第一季度全社会月均用电量为 $\frac{13524}{3} = 4508$ (亿千瓦时), 而 4 月全社会用电量为 4569 亿千瓦时, 所以第一季度全社会月均用电量低于 4 月水平, 错误。

B 项, 2016 年 1~4 月全社会用电量增速为 2.9%, 4 月份增速为 1.9%, 根据“整体增长率介于部分增长率之间”可知, 第一季度增长率必定超过 2.9%, 正确。

C 项, 根据“2016 年 1~4 月城乡居民生活用电量同比增长 9.5%, 增速比上年同期提高 5.4 个百分点”可知, 2015 年 1~4 月增速为 $9.5\% - 5.4\% = 4.1\%$, 错误。



D 项, 根据资料可知, 2016 年 1~4 月份全社会用电量增速排名第 3 和第 5 位的是江西省和安徽省, 这两个省份不属于西部地区, 错误。

因此 B 项当选。