



2010 年贵州公务员考试

《行政职业能力测验》真题



扫描二维码, 关注厚职公考官方公众号获取更多真题和资料
厚职公考网 (www.houzhiwang.com) 整理提供

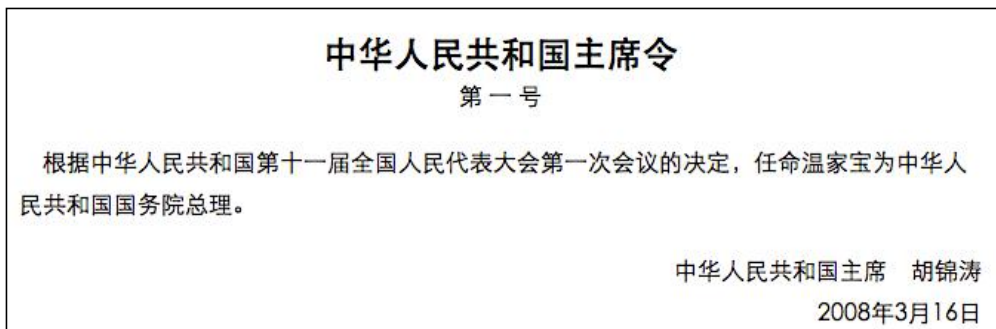


2010 年贵州公务员考试行测真题及答案解析

2010 年贵州公务员考试行测真题及答案 PDF 版下载 (答案解析请下载 PDF 版查看)

一、常识判断

1.



第一号主席令表明()

- A. 国家主席行使决定权
- B. 全国人大常委会行使决定权
- C. 国家主席行使提名权与任免权
- D. 全国人大行使任免权

【答案】D

【考点】宪法

【解析】宪法规定, 中华人民共和国主席根据全国人民代表大会的决定和全国人民代表大会常务委员会的决定, 公布法律, 任免国务院总理、副总理、国务委员、各部部长、各委员会主任、审计长、秘书长, 授予国家的勋章和荣誉称号, 发布特赦令, 宣布进入紧急状态, 宣布战争状态, 发布动员令。主席令是中华人民共和国主席根据全国人民代表大会及其常务委员会的决定签署的, 具有次于宪法效力的命令。在此处主席按照宪法规定任命国务院总理, 行使了提名权, 任免是全国人大的职权。所以选择 D 选项。

2. 关于新中国历史上值得纪念的“第一”, 以下说法正确的是()

- A. 1949 年, 刚成立的新中国开始实施第一个五年计划
- B. 1957 年, 长江上第一座大桥——南京长江大桥建成通车
- C. 1970 年, 我国第一颗人造卫星——长征 1 号在甘肃酒泉发射成功
- D. 1971 年, 第 26 届联合国大会恢复了我国在联合国的合法席位

【考点】中国近现代史

【答案】D

【解析】第一个五年计划从 1953 年开始, 并非 1949 年, A 项错误。南京长江大桥于 1966 年建成通车, B 项错误。而第一颗卫星命名为“东方红一号”, 长征一号是火箭名称, 并非卫星, C 项错误。所以选择 D 选项。

3. “周公吐哺”一词用以形容周公()

- A. 恪尽职守
- B. 崇尚节俭
- C. 礼待贤士
- D. 爱护百姓

【考点】中国古代史



【答案】 C

【解析】“周公吐哺”语出《史记·鲁周公世家》, 周公是周文王姬昌第四子, 周武王的弟弟。周公礼贤下士, 求才心切, 进食时多次吐出食物停下来不吃, 急于迎客。后遂以“周公吐哺”等指在位者礼贤下士之典实。所以选择 C 选项。

4. 下列奖项对应关系正确的是()

- A. 诺贝尔奖——化学
- B. 普利策奖——文学
- C. 图灵奖——经济学
- D. 菲尔兹奖——数学

【考点】 人文其它

【答案】 D

【解析】 诺贝尔奖是为了纪念数学家尼尔斯·亨利克·阿贝尔, 由挪威设立的数学界大奖。每年颁发一次, 所以 A 项错误; 普利策奖是由美国新闻大亨普利策创办的新闻奖, 奖励媒体从业者, 所以 B 项错误; 图灵奖由美国计算机协会 (ACM) 于 1966 年设立, 又叫“A. M. 图灵奖”, 专门奖励那些对计算机事业作出重要贡献的研究人员, 所以 C 项错误; 菲尔兹奖 (Fields Medal) 是一个在国际数学联盟的国际数学家大会上颁发的奖项。每四年颁奖一次, 颁给有卓越贡献的年轻数学家, 每次最多四人得奖。得奖者须在该年元旦前未满四十岁。它是据加拿大数学家约翰·查尔斯·菲尔兹的要求设立的。所以选择 D 选项。

5. 下列关于通货膨胀效应的说法不正确的是()

- A. 通货膨胀降低实际利率
- B. 通货膨胀提高实际收入
- C. 通货膨胀改变收入分配
- D. 通货膨胀形成强制储蓄

【考点】 热点经济词汇

【答案】 B

【解析】 在通货膨胀时期, 人们的名义货币收入与实际货币收入之间会产生差距, 只有剔除物价的影响, 才能看出人们实际收入的变化。由于社会各阶层人们收入的来源是不同的, 因此, 在物价总水平上涨时, 有些人的收入水平会下降, 有些人的收入水平反而会提高, 这种由物价上涨造成的社会再分配, 就是通货膨胀的收入分配效应, 所以 B 错误, C 正确, A、D 两项不是通货膨胀的效应。所以选择 B 选项。

6. 国际上用来综合考察居民间收入分配差异状况的一个重要分析指标是下面的哪一项()

- A. 恩格尔系数
- B. 基尼系数
- C. 道·琼斯指数
- D. 纳斯达克指数

【考点】 热点经济词汇

【答案】 B

【解析】 C 项和 D 项是美国股市的两种指数, 恩格尔系数是食品支出总额占个人消费支出总额的比重, 所以也排除; B 项基尼系数则是用来综合考察居民间收入分配差异状况的一个重要分析指标, 所以选择 B 选择。

7. 2011 年是辛亥革命 100 周年, 标志其发生的事件是()

- A. 清帝退位
- B. 南京临时政府成立



- C. 武昌起义
- D. 孙中山任临时大总统

【考点】中国近现代史

【答案】C

【解析】1911年,清政府出卖铁路修筑权,激起民众反抗,四川等地爆发保路运动。10月10日,武汉地区的革命团体文学社和共进会发动武昌起义,接着各省纷纷响应,因为1911年为旧历辛亥年,故称“辛亥革命”。武昌起义标志着辛亥革命的发生。所以选择C选项。

8. 以出世的精神做入世的事情的思想源自()

- A. 儒家学派
- B. 法家学派
- C. 老庄学派
- D. 阴阳家学派

【考点】中国古代史

【答案】C

【解析】A、B、D项错误,儒家学派则强调仁政爱民,法家强调律法制度,阴阳本指事物两种相互对立的方面,阴阳家则把阴阳矛盾作用引起的变化推演至神秘化,“深观阴阳消息,而作怪迂之变”,强调阴阳五行学说。A、B、D三项均强调积极入世,所以排除;C项正确,“以出世的精神做入世的事情”是指面对现实生活中的问题,要尊重生命、尊重客观规律、既要全力以赴,又要顺其自然,以平和的心态对人,以不苛求完美的心态对事,这与老庄学派的“无为而治”的思想相吻合。故正确答案为C。

9. 下列诗句中的描述与生殖现象无关的是()

- A. 春种一粒粟,秋收万颗子
- B. 离离原上草,一岁一枯荣
- C. 红豆生南国,春来发几枝
- D. 自是寻芳去较迟,绿树成荫子满枝

【考点】文学常识

【答案】C

【解析】生殖是由生物产生幼小的个体以繁殖后代,分有性生殖和无性生殖两种。A、B、D三项都是生殖现象;C项是春天发芽,并没有产生新的个体。所以选择C选项。

10. 下列关于长江三角洲的说法错误的是()

- A. 是长江和钱塘江在入海处冲积成的三角洲,广义上包括江苏、浙江和上海
- B. 早在西汉时期,该地区已经是全国重要的经济中心,主要生产稻米和丝绸
- C. 阖闾、顾恺之、黄道婆、孙权、苏轼等都是该地区历史上著名的人物
- D. 该地区雨量充沛,土地肥沃,是中国人口最稠密的地区之一

【考点】地理国情

【答案】B

【解析】西汉时期我国的经济中心在北方黄河流域的西安、洛阳一带。长江三角洲一带尚属荒蛮之地。而中国经济中心的南移是一个逐步的过程,始于东汉三国时期,在南宋时期才基本完成,所以选择B选项。

11. 下列关于血管的说法,哪一项是错误的()

- A. 血管包括动脉、静脉及毛细血管三大部分
- B. 动脉是血液从全身流向心脏的管道,而静脉正好相反
- C. 我们平常在自己胳膊上、腿上看到的“青筋”是静脉



D. 我们平常所说的脉搏, 也就是医生诊病时所摸的脉, 是动脉

【考点】 生物医学

【答案】 B

【解析】 西医所指的动脉是运送血液离开心的血管, 从心室发出后, 反复分支, 越分越细, 最后移行于毛细血管; 静脉是导血回心的血管, 起于毛细血管, 止于心房。体静脉中的血液含有较多的二氧化碳, 血色暗红。肺静脉中的血液含有较多的氧, 血色鲜红。小静脉起于毛细血管, 在回心过程中逐渐汇合成中静脉、大静脉, 最后注入心房, 所以选择 B 选项。

12. 下列现象中, 其本质与其他三个现象的本质不同的现象是 ()

- A. 在水平操场上滚动的足球, 最终要停下来
- B. 人走路被石头绊倒会向前倾倒
- C. 锤头松了, 把锤柄的一端在物体上撞击几下, 锤头就能紧套在锤柄上
- D. 子弹从枪膛里射出后, 虽然不再受到火药的推力, 但是仍然向前运动

【考点】 物理

【答案】 A

【解析】 A 项足球最终要停下来, 是因为受到了与运动方向相反的摩擦力; B 项人向前倾倒是因为人走路的时候已经有了向前的惯性; C 项锤柄的一端在物体上撞击时锤头也跟着一起运动, 当锤柄撞击停止运动时, 向下的惯性会使锤头继续向下运动进而与锤柄套紧; D 项子弹脱离子弹壳的瞬间受到火药爆炸产生的向前推力做加速运动, 脱离枪膛后由于惯性做初速度不为零的向前运动。B、C、D 三项都是物体惯性的表现, 所以选择 A 选项。

13. 交通控制表示停止的灯是红灯, 公共场所的安全门上是红灯, 自行车、汽车的尾灯也是红灯。这些地方使用红灯的主要原因是 ()

- A. 红光鲜艳, 易识别
- B. 红光波长长, 穿透能力强, 远处可以看到
- C. 红光波长短, 穿透能力强, 远处可以看到
- D. 从心理上分析, 红光使人易警觉、兴奋

【考点】 物理

【答案】 B

【解析】 在可见光中, 红光是波长最长的光, 空气对红光的散射作用最弱, 也就是说红光的穿透力最强, 可以传得最远, 特别是下雨或大雾的日子里, 所以选择 B 选项。

14. 关于生活中的科学, 下列说法正确的是 ()

- A. 近视是较远物体的平行光线成像于视网膜的后面, 所以用凹透镜做近视眼镜
- B. 被加热物体发出的光的颜色随温度变化而变化, 故炼钢工人能凭钢水颜色判断其温度
- C. 音乐厅、电影院立体声利用的是人左右耳与墙壁距离不等带来的“双耳效应”
- D. 太阳光入射到悬浮在大气中的水滴时, 经过水滴的全反射形成虹、霓

【考点】 物理

【答案】 B

【解析】 A 项近视是较远物体的平行光线成像于视网膜的前面; C 项中的双耳效应是指双耳间的音量差、时间差、音色差判断声音方位的效应, 并不是基于左右耳与墙壁距离的不同; D 项太阳光射入水滴后经过两次折射和一次反射形成虹, 经过两次折射和两次反射形成霓。所以选择 B 选项

15. 我国国务院各部、委的设立、撤销或合并, 其决定权在于 ()

- A. 全国人民代表大会
- B. 国务院总理
- C. 国家主席



D. 国务院全体会议

【考点】宪法

【答案】A

【解析】《中华人民共和国国务院组织法》第八条规定:“国务院各部、各委员会的设立、撤销或者合并,经总理提出,由全国人民代表大会决定;在全国人民代表大会闭会期间,由全国人民代表大会常务委员会决定。”所以选择 A 选项。

16. 下列各对机关之间,存在着指导与被指导关系的是()

A. 国家公安部与北京市公安局

B. 国家环境保护部与北京市环境保护局

C. 北京市工商局与海淀区工商局

D. 北京市技术监督局与海淀区技术监督局

【考点】行政管理

【答案】B

【解析】国家公安部与北京市公安局、北京市工商局与海淀区工商局、北京市技术监督局与海淀区技术监督局,这三者均为领导与被领导的关系。而环保部不是垂直管理,地方环保部门属于地方政府领导,但在业务上受上级环保部门的指导,所以国家环境保护部与北京市环境保护局是指导与被指导的关系。所以选择 B 选项。

17. 当国家公务员认为自己受到单位的不公平待遇时,可以向哪些部门提出申诉()

A. 人民法院

B. 人民代表大会及其常委会

C. 人民检察院

D. 行政监察机关

【考点】行政法

【答案】D

【解析】《公务员法》第九十条第 2 款和第 3 款规定,对省级以下机关作出的申诉处理决定不服的,可以向作出处理决定的上一级机关提出再申诉。行政机关公务员对处分不服向行政监察机关申诉的,按照《中华人民共和国行政监察法》的规定办理。所以选择 D 选项。

18. 下列说法不符合《环境保护法》规定的一项是()

A. 建设对环境有污染的项目,必须遵守国家有关建设项目环境保护管理的规定

B. 制定城市规划,应当确定保护和改善环境的目标与任务

C. 对造成环境污染事故的企业,环境保护行政主管部门可以勒令其停业、关闭

D. 完全由于不可抗拒的自然灾害,并及时采取合理措施仍不能避免的环境污染损害,当事人免于承担责任

【考点】经济法

【答案】C

【解析】选项 A 的表述为《环境保护法》第十三条之规定;选项 B 的表述为本法第二十二条之规定;选项 D 的表述为本法第四十一条第 2 款之规定。选项 C 的问题在于,环境保护行政主管部门并不能直接勒令停业、关闭,决定权在当地人民政府手中。据《环境保护法》第三十九条规定,对经限期治理逾期未完成治理任务的企业事业单位,除依照国家规定加收超标排污费外,可以根据所造成的危害后果处以罚款,或者责令停业、关闭。前款规定的罚款由环境保护行政主管部门决定。责令停业、关闭,由作出限期治理决定的人民政府决定;责令中央直接管辖的企业事业单位停业、关闭,须报国务院批准。所以选择 C 选项。

19. 李某有儿子、儿媳、孙子和未婚女儿,李某的儿子已于去年病故。依据我国《继承法》,待李某死亡时,其儿子应继承的那份遗产由下列何人代位继承()



- A. 李某的儿媳
- B. 李某的兄弟
- C. 李某的孙子
- D. 李某的女儿

【考点】民法

【答案】C

【解析】代位继承是和本位继承相对应的一种继承制度, 是法定继承的一种特殊情况。它是指被继承人的子女先于被继承人死亡时, 由被继承人子女的晚辈直系血亲代替先死亡的长辈直系血亲继承被继承人遗产的一项法定继承制度。在本题中, 李某儿子应继承的那份财产应该由李某的孙子继承。所以选择 C 选项。

20. 下列做法符合《劳动合同法》相关规定的是()

- A. 甲经过培训仍不能胜任现工作, 单位决定和他解除劳动合同
- B. 劳动合同期满, 丁所在用人单位不愿意续订劳动合同, 该用人单位不必支付经济补偿
- C. 在试用期内, 单位和劳动者都可以随时通知对方解除劳动合同, 而不需要承担赔偿责任
- D. 乙和某单位签订了劳动合同的补充协议, 约定由于该单位给乙解决了本地户口, 乙必须在该单位工作满三年, 否则应向单位支付违约金

【考点】经济法

【答案】A

【解析】根据《劳动法》第四十四条和第四十六条规定, 用人单位不同意续订合同时, 应该支付经济补偿, B 项错误; 根据《劳动法》第二十一条规定, 在试用期中, 除劳动者有本法第三十九条和第四十条第一项、第二项规定的情形外, 用人单位不得解除劳动合同。用人单位在试用期解除劳动合同的, 应当向劳动者说明理由, C 项错误; 根据《劳动法》第二十五条规定, 除本法第二十二条和第二十三条规定的情形外, 用人单位不得与劳动者约定由劳动者承担违约金, D 项错误。所以选择 A 选项。

二、言语理解与表达

21. 随着时代的发展, 计算机技术更加()地应用于机关和各种商务办公。

填入最恰当的词语是()

- A. 广泛
- B. 深入
- C. 普及
- D. 全面

【考点】实词辨析

【答案】A

【解析】通过语境可以发现, “应用于机关和各种商务办公” 应该体现出应用范围的广泛性, 因此应用 “广泛”。“深入” 在语境中难以体现, 语义不符, 所以排除 B。“普及” 与 “应用于” 搭配不当, 排除 C。“全面” 与 “片面” 相对, 语境不涉及全面与否, 排除 D。所以选择 A 选项。

22. 不要怕去学新的东西。知识没有(), 是可以随身携带的宝藏, 没有人会被它压垮, 而且愈多你愈身心矫健。

填入最恰当的词语是()

- A. 重量
- B. 大小



- C. 困难
- D. 期限

【考点】实词辨析

【答案】A

【解析】观察文段可以发现, 根据“是可以随身携带的宝藏, 没有人会被它压垮, 而且愈多你愈身心矫健”的提示可知, 只有重量很重才会被“压垮”。所以答案选择 A 选项。

23. 我国荒漠化总体扩张的趋势还在延续, 不断() 原本有限的生存空间, 直接制约着国家社会和经济的可持续发展。填入最恰当的词语是()

- A. 侵蚀
- B. 占据
- C. 损害
- D. 蚕食

【考点】实词辨析

【答案】D

【解析】题干主要讲的是目前荒漠化扩张使原本有限的生存空间不断减少的状况。选项中, “占据”和“损害”体现不出逐步的过程, 排除 B、C 项。“侵蚀”是逐渐侵害使变坏; “蚕食”是像吃桑叶那样, 比喻逐步侵占。根据语境可知, 我们的生存空间越来越小, 因此, 选择“蚕食”更为恰当。因此, 本题选择 D 项。

24. 横扫时尚世界的牛仔装, 在美国诞生之初, 就是以其野性、粗犷、豪放的风格闻名于世, 后来经过() 后, 也为其加入了休闲的元素。

填入最恰当的词语是()

- A. 改装
- B. 引入
- C. 修饰
- D. 改进

【考点】实词辨析

【答案】D

【解析】由“为其加入了休闲的元素”可知, 牛仔装发生了改变, 这种改变应当是“改进”的结果。“引入”和“修饰”显然不符合文意; “改装”的意思是改变原来的装束或装置, 也不符合文意。故正确答案为 D 选项。

25. 下岗工人将获得 7 万美元补偿, 这相当于普通蓝领工人两年的税后年薪。仅靠这笔钱, 在美元疲软、物价上涨的时代并不能(), 不过尚能维持一个家庭几年的正常生活。

填入最恰当的词语是()

- A. 高枕无忧
- B. 一劳永逸
- C. 丰衣足食
- D. 为所欲为

【考点】成语辨析

【答案】C

【解析】根据文段语境, 首先可以排除 A、D。题干想要表达的是在物价上涨的时代, 靠着七万美元的补偿, 家庭生活并不会太富足, 但是可维持正常水平几年。“一劳永逸”指辛苦一次, 把事情办好, 以后就不再费事了, “丰衣足食”是指吃的穿的都很丰富充足, 符合语境。故正确答案为 C 选项。

26. 在这个世界上, 真正() 恐惧的事很少, 在很多情况下, 我们是被自己吓住了, 大



多数的恐惧, 来源于我们的()。

依次填入最恰当的词语是()

- A. 引起 经历
- B. 需要 幻觉
- C. 产生 猜测
- D. 值得 想象

【考点】实词辨析

【答案】D

【解析】第一个空后面搭配的是“恐惧的事”, “事情”本身并不能产生恐惧, 只能是事情让人“产生”了恐惧这种情绪, 排除C项“产生”。再看第二个空, 根据语意, 恐惧是“我们被自己吓住了”, 可知恐惧来自于人自身的想象。A项“经历”说的是人们亲身做过或遭遇过的事, 人们通常只对未知的事物感到恐惧, 人们并不会对“经历”感到恐惧, 排除A选项。“幻觉”是指没有外在刺激而出现的虚假的感觉, 在病态的情况下才会出现幻觉, 用在此处明显不合适, 排除B项, 因此答案为D选项。

27. 城市既是经济载体, 也是文化容器。文化资源丰富的城市, 不妨好好()出自己的特色, 以此作为城市再定位的契机, 为经济的可持续发展找寻出更好的出路。而文化资源稀缺的城市也不必着急, 可以在经济的发展中()属于城市的文化。

依次填入最恰当的词语是()

- A. 演绎 弘扬
- B. 创建 涵养
- C. 彰显 打造
- D. 提炼 培育

【考点】实词辨析

【答案】D

【解析】多个词语的选词填空题适合采用排除法。第二空中, 对于文化资源稀缺的城市而言, 城市文化的建立需要一个从无到有的过程。“弘扬”意为发扬, 是对原有事物的发扬光大, 与句意不符, 排除A。“涵养”意为使滋润养育, 与“文化”不搭配, 排除B。第一空中, “彰显”意为充分显示; “提炼”比喻对某种事物进行去粗取精、去伪存真的加工、提高。对于文化资源丰富的城市, 并不是所有的文化资源都可以作为文化特色进行利用, 而是要有一个选择加工的过程, “提炼”更贴合文意。故正确答案为D选项。

28. 历史上匈奴、鲜卑、羯、氐、羌、契丹、女真等游牧民族()在中原建立了政权, 经过历史风雨的洗礼和涤荡, 他们一部分西迁, 一部分在历史中(), 一部分融合入汉族, 一部分仍保持了本民族的特征和习俗, 生活在中华民族大家庭当中。

依次填入最恰当的词语是()

- A. 全部 消亡
- B. 先后 隐退
- C. 一度 湮灭
- D. 曾经 变迁

【考点】实词与虚词综合考查

【答案】C

【解析】题干讲得是匈奴、契丹等游牧民族在中原建立了政权, 但是后来这些政权都不复存在了。由此可知, 这些政权是“曾经”存在过的, 第一个空格内需要填入有“曾经”含义的词语, 排除“全部”“先后”。第二个空中, “变迁”的意思是情况的变化转移, 包含了文段中的“西迁”“融合入汉族”等, 而文段中这几种情况是并列关系, 因此排除D。C项中,



“一度”是指从前、曾经,“湮灭”指埋没、磨灭,两个词语都符合语境。故正确答案为C选项。

29. 影响电子书走向大众的,还是在于传统阅读习惯。手指翻过书页,会有自由的感受,电子书则是冰冷之物。传统书籍的阅读体验,是不可能()的。不过,人的生存压力越来越大,很难陷入长久阅读,多是快餐、零碎式的浏览。电子书倒能填补这种零碎的时间,在()中打发时间。

依次填入最恰当的词语是()

- A. 模仿 轻描淡写
- B. 移植 浮光掠影
- C. 复制 删繁就简
- D. 效法 浅尝辄止

【考点】实词与成语综合考查

【答案】B

【解析】本题的突破口在于第二个空格。A项“轻描淡写”形容说话或写文章把重要问题轻轻带过;B项“浮光掠影”比喻观察不细致,学习不深入,印象不深刻;C项“删繁就简”指删除繁杂部分,使其趋于简明;D项“浅尝辄止”指略微尝试一下就停止,比喻不肯下功夫深入钻研。由题干可知,第二个空格内填入的成语需要与前面“快餐、零碎式的浏览”形成对应,A、C明显不符合,予以排除。“效法”指照着别人的做法去做,与“体验”不搭配,排除D。故正确答案为B选项。

30. 一般而言,一幅大画不可能(),艺术家应该有一段时间收集资料、深入实地、写生采风,进而精心()、反复(),甚至数易其稿,从而成就一件佳作。

依次填入最恰当的词语是()

- A. 一蹴而就 准备 修改
- B. 一挥而就 构思 推敲
- C. 一气呵成 设计 研讨
- D. 唾手可得 筹划 揣摩

【考点】实词与成语综合考查

【答案】B

【解析】从第一个空入手,“一蹴而就”比喻事情轻而易举,一下子就成功;而“唾手可得”指动手就可以取得。语境讲的是一副大画的创作,画作的创作完成用这两个词从语义角度出发不恰当,排除A、D。第二个空前面的精心,对画作来说“构思”较为恰当。最后一空的“推敲”用来比喻做文章或做事时,反复琢磨,反复斟酌,与前面的“反复”匹配。“研讨”是研究和讨论,一般用于学术等方面,不当选。故答案为B选项。

31. 一位年轻的母亲因幼儿园阿姨教自己的孩子认识英文字母而向法院起诉。这位母亲认为,当她画个圆圈,孩子可以说是月亮、是鸡蛋,而一旦教孩子这是字母“O”,想象的翅膀就被剪断了。结果,这位母亲胜诉。这段文字传递了什么样的信息()

- A. 孩子的想象力常被成人忽视
- B. 教育需要保护孩子们的想象力
- C. 教师应该遵循学生的思维规律
- D. 家长需要使用法律来保护孩子

【考点】意图判断

【答案】B

【解析】文段中讲了一个故事,一个母亲认为幼儿园阿姨教给自己孩子字母抹杀了孩子的想象力,最后获得了法律的支持,通过这个故事可以得知背后的道理是,教育要保护孩子



们的想象力, 所以 B 选项正确。

32. “腹有诗书气自华”。学富五车不是为了谈话时引经据典卖弄才学, 也不是为了换得一纸文凭做利禄捷径, 而是看重其对个人心灵的陶冶, 正如朱熹所说, “问渠哪得清如许, 为有源头活水来”。这段文字意在说明()

- A. 读书观念的演变
- B. 古人读书的态度
- C. 对读书价值的正确认识
- D. 读书的内在和外在外在动机

【考点】意图判断

【答案】C

【解析】引号内部的内容是观点援引, 考生不需要过多关注, 从第二句开始, “学富五车”指的是读书, 原文中用了反向并列关联词“不是……而是”, 强调的是“而是”之后的内容“看重其对个人心灵的陶冶”, 文段的主题句即为本句, 主旨替换为 C 选项, 读书的价值正确的认识即为对个人心灵的陶冶, 故选 C 选项。

33. 英国首相丘吉尔说过: “打赢了战争、创造了历史之后, 还要抢着去当第一个记录和解释历史的人。”这很好地说明了他为什么要写那十几本厚厚的历史著作。尽管历史上并没有多少人能同时成为历史的缔造者和阐释者, 但获得胜利的一方总是可以按照自己的意愿来讲历史。

这段文字意在说明()

- A. 历史记录未必真实
- B. 要谨慎评价丘吉尔的著作
- C. 丘吉尔既是政治家又是历史学家
- D. 掌握历史记载的话语权非常重要

【考点】意图判断

【答案】D

【解析】引号内部的内容是观点援引, 考生不需要过多关注, 观点援引之后核心观点在于转折之后, 依据“但获得胜利的一方总是可以按照自己的意愿来讲历史”, 可以按照自己的意愿来讲历史, 同义替换为掌握历史记载的话语权, 故答案选 D 选项。

34. “春眠不觉晓”, 这种逍遥, 自古以来就是“悠闲阶级”独享和提倡的情怀和境界。今天看来, 特别对处于竞争激烈环境下的现代人来讲, ()

填入括号部分最恰当的一项是()

- A. 只有欣赏的心情了
- B. 只能是一种奢望了
- C. 只有在周末享受了
- D. 只是孩时的记忆了

【考点】语句填空

【答案】B

【解析】语境前后对比, 前面提到这种逍遥是悠闲阶级独享的, 而后面的语境中“处于竞争激烈环境下的现代人”是难以享受到的, 也就是这种逍遥是不现实的, 是难以在生活中实现的, 所以用“奢望”, 选 B 选项。

35. 很少有地方比行进中的飞机、轮船和火车更容易让人倾听到内心的声音。我们眼前的景观同我们脑子里可能产生的想法之间往往存在着某种奇妙的联系: 宏阔的思考常常需要壮阔的景观, 而新的观点往往也产生于陌生的所在。

这段文字意在说明()



- A. 旅行能使人眼界开阔
- B. 旅途中的景观常能引起思考
- C. 旅行者的角色能使人增加人生体验
- D. 人的思维角度容易受所处环境的影响

【考点】意图判断

【答案】B

【解析】第一句话是引子, 引出第二句的话题, 即我们脑子里的想法与景观的关系, 而冒号之后是进一步的解释说明, “宏阔的思考”与“新的观点”在旅途中产生, 与B选项对应, 即旅途中的景观常能引起思考, 因此选B选项。

36. 二战后, 英国工党政府以《贝弗里奇报告》为蓝本建立了福利国家, 随后很多欧美国家纷纷效仿, 其中以瑞典为首的北欧四国更是将福利国家的概念演绎到极致。欧洲福利社会的目标之一是普享性, “从摇篮到坟墓”的福利基础建立在企业和个人的高税收之上, 给很多企业造成较大的经营压力, 甚至造成国家经济发展的停滞。

对这段文字的主旨概括最准确的是()

- A. 呈现欧洲福利社会的发展进程
- B. 介绍欧洲福利社会的基本特征
- C. 揭示欧洲福利社会的基础
- D. 反思欧洲福利社会的问题

【考点】主旨概括

【答案】D

【解析】第一句话举例子交代背景, 该句话本身不重要。第二句话说“从摇篮到坟墓”的福利基础因为建立在高税收之上, 所以产生了“给很多企业造成较大的经营压力, 甚至造成国家经济发展的停滞”等问题, 可知前面是原因, 后面是结论, 结论是重点, 由此可见文段的主题句为“给很多企业造成较大的经营压力, 甚至造成国家经济发展的停滞”, 同义替换可知答案为D选项。

37. 职场小说在近几年间形成热潮, 很多职场小说的作者不是著名的专业作家而是资深的职业白领。所以, 被职场文化建构和影响的职业白领本身正是创作职场小说、倡导职场文化的核心群体。文化需求和供应主体的高度重合, 决定了作为准教科书的职场小说将会长时间处于热销状态。

这段文字意在说明职场小说的()

- A. 产生社会背景
- B. 未来发展趋势
- C. 阅读和创作群体
- D. 长期热销的原因

【考点】主旨概括

【答案】D

【解析】从行文脉络的角度看, 整个文段是分总的结构。前文论述原因, 后文提出结论。第一句话提到职场小说的作者是白领, 第二句话得出白领是创作职场小说, 倡导职场文化的核心群体的结论。第三句总述, 得出结论“作为准教科书的职场小说将会长时间处于热销状态。”, 所以直接锁定答案, 即小说长期热销的原因。答案选D选项。

38. 月亮本身是不发光的, 但皓月当空, 使人感到它是个发光的天体; 本来是地球围绕太阳转, 但看起来却是太阳围绕地球转; 电闪和雷鸣本是同时发生的, 但我们总是先看到电闪然后听到雷鸣。无怪乎达尔文这样说: “大自然一有机会就要说谎。”

对划横线的文字理解正确的是()



- A. 自然的奥秘需要人类不断探索
- B. 自然界会给人类不断造成假象
- C. 不光是人类连大自然也会说谎
- D. 自然界很奇妙, 人很难完全认识

【考点】 语句理解

【答案】 B

【解析】 文段从大的结构来说是“分-总”结构, 最后一句达尔文的话是对前文所述现象的总结。前文举了三个例子, 可以找到例子之间的共性为: 自然规律、客观事实原本是不变的, 但是人们的意识以及自我感知却与自然规律是不同的, 因此总是会形成错觉, 也就是假象, 所以该题的答案选择 B 选项。

39. 近年来, 汉语出现了许多新词新语。对同一事物或现象, 有人愿意这样说, 有人愿意那样说。对此, 语言工作者应进行客观冷静地分析。看到那种盲目效仿港台语, 或者为表现个性而表现个性的刻意“创新”, 不闻不问是不对的。我们应规范语言运用的主流, 但过分强调规范, 希望纯而又纯也不行。

对这段文字概括最准确的是()

- A. 新词新语是人们社会生活的直接反映, 折射出时代的色彩
- B. 应该以科学的态度对语言运用的主流进行规范
- C. 对盲目效仿和刻意“创新”的语言应进行规范
- D. 对新词新语过分挑剔不利于语言的创新和发展

【考点】 主旨概括

【答案】 B

【解析】 文段前两句提到了汉语中出现新词新语的现象, 第三句提到语言工作者对待这种现象的态度应该客观, 第四句举例说明不应对“刻意创新”不闻不问。最后一句作者通过“应”这个字提出建议与对策, 即应规范, 但又不能死板地规范, 也就是应该科学地规范, 故答案选择 B 选项。

40. 中国 75% 的电力来自煤炭, 只有 2.5% 来自石油, 因为大部分石油都被汽车喝掉了。煤炭运输成本高, 中国铁路的运力至少有一半都用来运煤了。目前很多火电厂的煤库存都坚持不了一个星期, 一旦铁路运输出了问题, 直接后果就是拉闸。

这段文字意在强调()

- A. 应增加利用石油发电的比例以规避风险
- B. 过分依赖煤炭的电力生产结构存在弊端
- C. 铁路运输的通畅关系着众多火电厂的生产
- D. 大量使用煤炭发电增加了铁路运输的负担

【考点】 意图判断

【答案】 B

【解析】 第一句话提到煤炭在电力发电中占了很大比例, 第二句提到过分依赖煤炭导致煤炭运输成本高, 最后一句进一步阐释问题, 煤炭库存不够, 会产生不良影响。主要是阐述电力生产结构的弊端及不合理性。故本题选择 B 项。

41. 法律应尊重并保障媒体的监督权利。但作为媒体, 必须依法行使监督权。在监督过程中出现失误或者过错, 甚至给被监督对象造成损失, 则必须勇于承担责任。

这段文字的主旨是()

- A. 媒体须依法监督并承担相应责任
- B. 媒体行使监督权时要做到有法可依
- C. 法律保障媒体权利的同时也要对其进行监督



D. 媒体出现失误或过错时责任应由其自身承担

【考点】主旨概括

【答案】A

【解析】第一句提到了法律应保证媒体的权利。第二句话出现了转折词“但”, 转折之后为重点, 重点由后面的两个并列语句组成, 两个“必须”提到了媒体的义务, 一方面是“依法行使监督权”, 另一方面是勇于承担责任, 合二为一, 概括最为全面的答案为A选项。故本题选择A项。

42. 拉尔夫·达伦道夫在1998年写道: 20世纪在相当大程度上为各种分裂所主宰, 导致热战冷战不断, 但20世纪同时也是一体化的起源; 全球化开始主导人们的生活、想象和恐惧, 人们不得不从全球的角度去思考, 以回应这一日益全球化的现实。达伦道夫在这里强调的是, 20世纪()

- A. 全球剧变令人忧虑
- B. 国家之间对抗激烈
- C. 世界联系日益密切
- D. 民族矛盾逐渐缓和

【考点】主旨概括

【答案】C

【解析】文段问的是“达伦道夫在这里强调的是”, 需要考生对达伦道夫的观点进行归纳概括。达伦道夫首先提到了一个“分裂”的概念, 即不同、多元化。转折词“但”之后提到了重点是“一体化”“全球化”, 因此达伦道夫强调的是统一而非差异。纵观四个选项可以发现, 只有C选项的“联系”可以体现这层含义, 故本题选择C项。

43. 形成于西周时期的礼仪制度, 最早采用规范人们日常行为准则的方式, 并将这一传统推行到上层社会和家居生活中。尽管西周时期“礼不下庶人”, 建立礼仪制度的初衷是为了维护奴隶主贵族的利益, 强化奴隶社会等级制度, 以协调奴隶主阶级内部的关系, 但进入春秋时期以后, 随着奴隶制度“礼崩乐坏”, 又出现“知识下移”“礼下庶人”的局面, 这一传统和礼仪制度也因此深入到更为广泛的社会生活中, 成为社会广泛遵守的行为规范和准则。

这段文字主要说明了礼仪制度()

- A. 贯穿于中国古代社会生活
- B. 是统治阶级树立社会准则的工具
- C. 产生的时期及进入下层社会的过程
- D. 由奴隶社会保存到封建社会的原因

【考点】主旨概括

【答案】C

【解析】文段第一句提到了礼仪制度形成的时间是在西周时期, 并且在这一时期这一制度主要存在于上层社会中。第二句在转折之前提到了礼仪制度用于贵族之间, 而转折之后提到“这一传统和礼仪制度也因此深入到更为广泛的社会生活中, 成为社会广泛遵守的行为规范和准则”, 也就是深入到了下层社会, 概括整个文段, 主旨即为产生的时期及进入下层社会的过程。C当选。

44. 现代医学科学认为: 人全身血液循环的速度与肌肉及大脑神经紧张程度成反比; 肌肉及神经紧张, 血管受到挤压, 会使血液流量减少, 而造成局部缺血缺氧。当肌肉及大脑神经紧张度较平时增加60%以上时, 其局部血液流动可全部中断。当今所有的疾病中, 60%~80%可以从现代生活的过度紧张中去寻根溯源。

这段文字旨在说明()

- A. 现代医学已经找到当今疾病的绝大部分病理根源



- B. 肌肉与神经的过度紧张是患心血管病的主要原因
- C. 血液循环的速度与肌肉及大脑神经紧张程度有关
- D. 现代人的很多疾病与紧张的生活状态相关

【考点】主旨概括

【答案】D

【解析】题干首先阐述“人体血液循环速度与肌肉及大脑神经紧张程度成反比”这个观点, 前文是对医学理论的阐释, 是基础的铺垫, 在此基础上指出当今许多疾病都与现代生活的过度紧张有关。由此可知, 材料的最后一句话是整个材料的中心句, 即当今很多疾病都可以从现代人紧张的生活中得到答案, D 项表述最符合文意。故本题选择 D 项。

45. 我们的企业领导都须清醒地认识到, 企业固然要顾及股东的利益, 尽可能实现股东利益的最大化, 但是企业在获得社会资源进行生产的同时, 也就承担了对社会各方面利益相关者的责任, 是否充分考虑了这些利益相关者的利益, 已日益成为评价企业绩效和企业伦理的尺度。

对这段文字概括最准确的是()

- A. 企业要兼顾股东及其他利益相关者的利益
- B. 股东利益的重要性与其他社会利益相关者的相当
- C. 评价企业绩效和企业伦理的尺度发生了变化
- D. 企业在获取利益时更要承担各种社会责任

【考点】主旨概括

【答案】A

【解析】文段只有一句话, 即我们的企业领导应该意识到: 企业要顾及股东的利益, 转折之后强调要顾及社会各方面利益相关者的利益。两者都要顾及, 所以答案选择 A 选项。

三、数量关系

46. 6, 16, 56, 132, 250, ()

- A. 498
- B. 512
- C. 416
- D. 52

【考点】三级等差

【答案】C

【解析】相邻两项做差得到: 10、40、76、118, 再次做差得到: 30、36、42、(48), 以 6 为公差的等差数列, 未知项=250+48+118, 尾数为 6。因此, 本题答案为 C 选项。

47. $1, \frac{5}{6}, \frac{3}{4}, \frac{7}{10}, \frac{2}{3}, \frac{9}{14}, ()$

- A. $\frac{3}{5}$
- B. $\frac{5}{8}$
- C. $\frac{8}{13}$
- D. $\frac{13}{23}$



【考点】 分数数列

【答案】 B

【解析】 原数列改写为 $\frac{4}{4}$ 、 $\frac{5}{6}$ 、 $\frac{6}{8}$ 、 $\frac{7}{10}$ 、 $\frac{8}{12}$ 、 $\frac{9}{14}$ 、 $(\frac{10}{16}=\frac{5}{8})$, 分子为 4、5、6、7、8、9、(10), 分母为 4、6、8、10、12、14、(16), 分母为以 2 为公差的等差数列。未知项 $=\frac{10}{16}=\frac{5}{8}$, 因此, 本题答案为 B 选项。

48. 2, -2, 6, -10, 22, ()

A. 36

B. -40

C. -42

D. -48

【考点】 倍数递推

【答案】 C

【解析】 倍数递推数列。本题规律为第一项 $\times 2 -$ 第二项 = 第三项: $2 \times 2 - (-2) = 6$; $(-2) \times 2 - 6 = -10$; $6 \times 2 - (-10) = 22$, 未知项 = $(-10) \times 2 - 22 = -42$. 因此本题答案为 C 选项。

49. 3, 2, 4, 5, 16, ()

A. 45

B. 15

C. 65

D. 75

【考点】 积递推

【答案】 D

【解析】 积递推数列, 本题规律为第一项 \times 第二项 $-$ 修正项 = 第三项: $3 \times 2 - 2 = 4$; $2 \times 4 - 3 = 5$; $4 \times 5 - 4 = 16$; 修正项为 2、3、4、(5), 未知项的修正项为 5, 所以未知项 = $5 \times 16 - 5 = 75$, 本题答案为 D 选项。

50. 0, 2, 2, 6, 10, ()

A. 10

B. 16

C. 22

D. 28

【考点】 倍数递推

【答案】 C

【解析】 解法一: 倍数递推数列, 本题的规律为第一项 $\times 2 +$ 第二项 = 第三项: $0 \times 2 + 2 = 2$; $2 \times 2 + 2 = 6$; $2 \times 2 + 6 = 10$, 未知项 = $6 \times 2 + 10 = 22$. 因此, 本题答案为 C 选项。解法二: 做和多级数列, 数列两两相加得到: 2、4、8、16、(32), 以 2 为公比的等比数列, 后一项为 32, 未知项 = $3 \times 2 - 10 = 22$. 因此, 本题答案为 C 选项。

51. $(1 - \frac{1}{2^2}) (1 - \frac{1}{3^2}) (1 - \frac{1}{4^2}) \dots (1 - \frac{1}{2009^2}) (1 - \frac{1}{2010^2}) = ()$

A. 1

B. $\frac{1}{2}$

C. $\frac{1}{2010}$



D. $\frac{2011}{4020}$

【考点】整数类计算

【答案】D

【解析】根据平方差公式, 原式 $= (1 - \frac{1}{2})(1 + \frac{1}{2})(1 - \frac{1}{3})(1 + \frac{1}{3}) \cdots (1 - \frac{1}{2010})(1 + \frac{1}{2010})$
 $= \frac{1}{2} \times \frac{3}{2}$
 $\times \frac{2}{3} \times \frac{4}{3} \times \frac{3}{4} \times \frac{5}{4} \times \cdots \times \frac{2011}{2010} = \frac{1}{2} \times (\frac{3}{2} \times \frac{2}{3}) \times (\frac{4}{3} \times \frac{3}{4}) \times \cdots \times \frac{2011}{2010} = \frac{2011}{4020}$ 。

因此, 本题答案为 D 选项。

52. 某餐厅开展“每消费 50 元送饮料一瓶”的活动, 某办公室的职员一起去该餐厅吃饭, 每人花费 18 元, 餐厅赠送了 7 瓶饮料, 问去吃饭的人数可能是多少 ()

- A. 17 人
- B. 19 人
- C. 21 人
- D. 23 人

【考点】一元不等式

【答案】C

【解析】送了 7 瓶饮料, 说明消费不少于 350 元, 不超过 399 元, 即 $350 \leq 18x \leq 399$, 则 $20 \leq x \leq 22$ 。因此, 本题选 C 选项。

53. 一个办公室有 2 男 3 女共 5 个职员。从中随机挑选两人参加培训, 那么至少有一个男职员参加培训的可能性有多大 ()

- A. 60%
- B. 70%
- C. 75%
- D. 80%

【考点】概率问题

【答案】B

【解析】随机挑 2 个人参加有 $C_5^2 = 10$ (种), 参加培训的都是女职员的共有 $C_3^2 = 3$ (种), 因此至少有一个男职员参加共有 $10 - 3 = 7$ (种) 情况, 可能性为 $7 \div 10 \times 100\% = 70\%$ 。因此, 本题答案为 B 选项。

54. 要将浓度分别为 20% 和 5% 的 A、B 两种食盐水混合配成浓度为 15% 的食盐水 900 克, 问 5% 的食盐水需要多少克 ()

- A. 250
- B. 285
- C. 300
- D. 325

【考点】溶液混合

【答案】C

【解析】设需要 5% 的食盐水 m 克, 则有 $m \times 5\% + (900 - m) \times 20\% = 900 \times 15\%$, 解得 $m = 300$ 。

55. 如果不堆叠, 直径 16 厘米的盘子里最多可以放多少个边长 6 厘米的正方体 ()



- A. 1
- B. 2
- C. 3
- D. 4

【考点】 面积计算

【答案】 C

【解析】 4 个正方形组成的大正方形对角线长度为 $12\sqrt{2} \approx 17$ 厘米, 大于圆的直径 16 厘米, 所以最多放 3 个正方体, 呈品字形放置。因此, 本题答案为 C 选项。

56. 一条河的水流速度为每小时 4 公里, 一条船以恒定的速度逆流航行 6 公里后, 再返回原地, 共耗时 2 小时 (不计船掉头时间)。请问船逆流航行与顺流航行的速度之比是多少?

- A. 1: 3
- B. 2: 3
- C. 1: 2
- D. 1: 4

【考点】 流水行船问题

【答案】 A

【解析】 设船在静水中的速度为 X , 则船逆流的速度为 $(X-4)$, 顺流的速度为 $(X+4)$, 则 $\frac{6}{X-4} + \frac{6}{X+4} = 2$, 解得 $X=8$ (公里/小时), 船逆流速度为 4 (公里/小时), 顺流速度为 12 (公里/小时), 船逆流航行与顺流航行的速度之比是 $4:12=1:3$, 因此, 本题答案为 A 选项。

57. 从钟表的 12 点整开始, 时针与分针的第一次垂直与第一次重叠中间间隔的时间有多久 ()

- A. 43 分钟
- B. 45 分钟
- C. 49 分钟
- D. 61 分钟

【考点】 表盘计算

【答案】 C

【解析】 可以把时钟问题看作是变形的追及问题。从分针和时针第一次垂直到再次重合, 分针比时针多走了 270° , 而分针每分钟比时针多走 5.5° 。根据追及问题公式, 追及的时间为 $270 \div 5.5 \approx 49$ (分钟)。

58. 某超市奶糖每斤 15 元, 酥糖每斤 13.5 元, 水果糖每斤 10 元, 现超市促销, 把 4 斤奶糖、5 斤酥糖和 6 斤水果糖搭成什锦糖, 什锦糖价格为各种糖搭配后价格的 80%, 现小王买了 36 块钱的什锦糖。问按照搭配比例他买到了多少奶糖 ()

- A. 0.96 斤
- B. 2.4 斤
- C. 3 斤
- D. 3.6 斤

【考点】 简单费用计算

【答案】 A

【解析】 根据题意, 15 斤什锦糖的原价是 $15 \times 4 + 13.5 \times 5 + 10 \times 6 = 187.5$ (元), 那么一斤什锦糖的原价就为 $187.5 \div$



15=12.5 (元)。小王买的什锦糖原价为 $36 \div 80\% = 45$ (元)。小王一共买了 $45 \div 12.5 = 3.6$ (斤) 什锦糖, 其中含奶糖 $3.6 \times \frac{4}{4+5+6} = 0.96$ (斤)。因此, 本题答案为 A 选项。

59. 两家工厂生产相同规格的运动上衣和运动裤, A 厂每月用 12 天生产运动上衣, 18 天生产运动裤, 每月总共可生产 8640 套运动服, B 厂每月用 16 天生产运动上衣, 14 天生产运动裤, 每月总共生产 6720 套运动服, 两家厂商为提高效益联合生产后, 每月 (按 30 天计算) 最多能够生产多少套运动服 ()

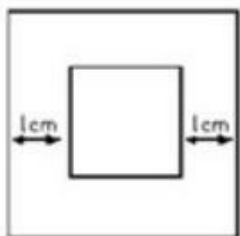
- A. 15360
- B. 16780
- C. 17280
- D. 21600

【考点】 统筹问题

【答案】 C

【解析】 根据题意可知, A 厂每天能生产运动上衣 $8640 \div 12 = 720$ (件), 运动裤 $8640 \div 18 = 480$ (件); B 厂每天能生产运动上衣 $6720 \div 16 = 420$ (件), 运动裤 $6720 \div 14 = 480$ (件)。因为 A 厂生产上衣效率高于 B 厂, 所以让 A 厂主要生产上衣, B 厂主要生产裤子。若 B 厂全力生产运动裤, 一个月能生产 $480 \times 30 = 14400$ (件), 而 A 厂如果生产 14400 件运动上衣的话, 只需 $14400 \div 720 = 20$ (天) 即可, 剩下 10 天。因为 A 厂生产上衣和裤子的效率之比为 $720 : 480 = 3 : 2$, 所以剩余的 10 天 A 厂可以按 $2 : 3$ 的天数比例 (即上衣 4 天, 裤子 6 天的比例) 生产上衣与运动裤以保证配套, 则生产 $4 \times 720 = 2880$ (套)。综上所述, A、B 两厂共生产 $14400 + 2880 = 17280$ (套)。因此, 本题答案为 C 选项。

60. 如图, 有大小两个正方形, 其对应边的距离均为 1 厘米, 如果两个正方形之间部分的面积是 20 平方厘米, 那么小正方形的面积是多少平方厘米 ()



- A. 4
- B. 9
- C. 16
- D. 25

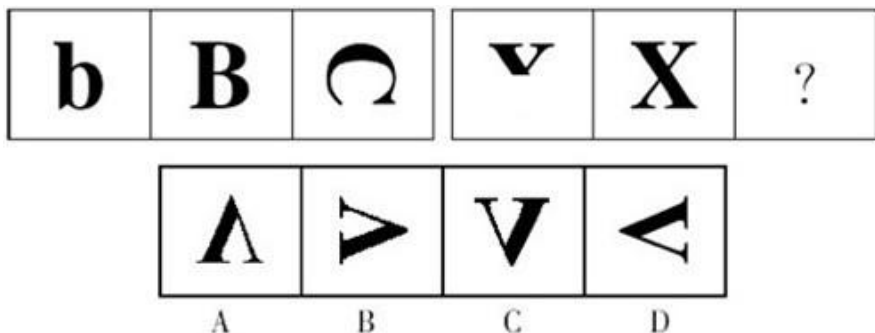
【考点】 规则面积计算

【答案】 C

【解析】 设小正方形边长为 X 厘米, 那么 $(X+2)^2 - X^2 = 20$, 解得 $X = 4$ (厘米)。小正方形面积为 $X^2 = 16$ (平方厘米)。因此, 本题答案为 C 选项。

四、判断推理

61. 从四个选项中选择你认为最适合取代问号的一个, 使得左右两套图形表现出最大的相似性, 而且使第二套图形也表现出自己的特征 ()



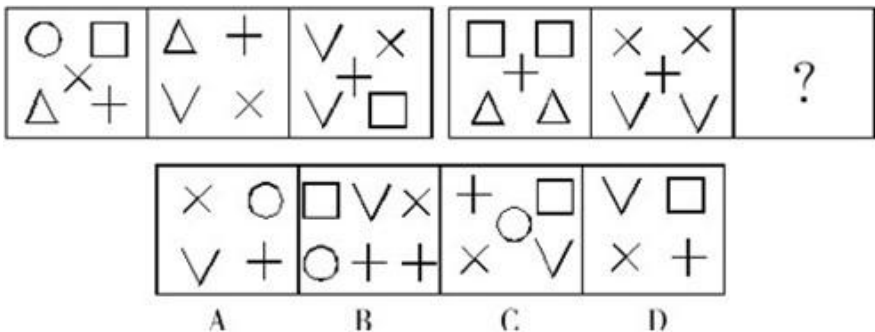
- A. 如上图所示
- B. 如上图所示
- C. 如上图所示
- D. 如上图所示

【考点】 运算

【答案】 D

【解析】 观察图形特点, 在第一组图行中, 第一个图形和第二个图形去同存异后逆时针旋转 90 度得到第三个图形。第二组图形延续此规律, 故正确答案为 D 选项。

62. 从四个选项中选择你认为最适合取代问号的一个, 使得左右两套图形表现出最大的相似性, 而且使第二套图形也表现出自己的特征 ()



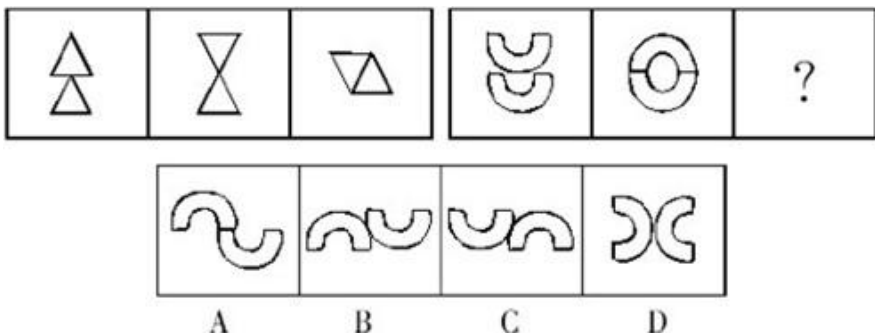
- A. 如上图所示
- B. 如上图所示
- C. 如上图所示
- D. 如上图所示

【考点】 遍历

【答案】 A

【解析】 观察题目特点, 此题目中图形种类的特征明显。第一组图形, 共有 1 个圆圈、2 个正方形、2 个三角形、3 个“×”、3 个“+”和 3 个“v”。第二组图形应延续第一组的规律, 第二组图形前两个图形中已经包含 2 个正方形、2 个三角形、2 个“×”、2 个“+”和 2 个“v”, 为满足遍历规律, 第三个图形应该包含 1 个圆圈、1 个“×”、1 个“+”和 1 个“v”。通过分析, 符合的只有 A 项中图形, 故正确答案为 A 选项。

63. 从四个选项中选择你认为最适合取代问号的一个, 使得左右两套图形表现出最大的相似性, 而且使第二套图形也表现出自己的特征 ()



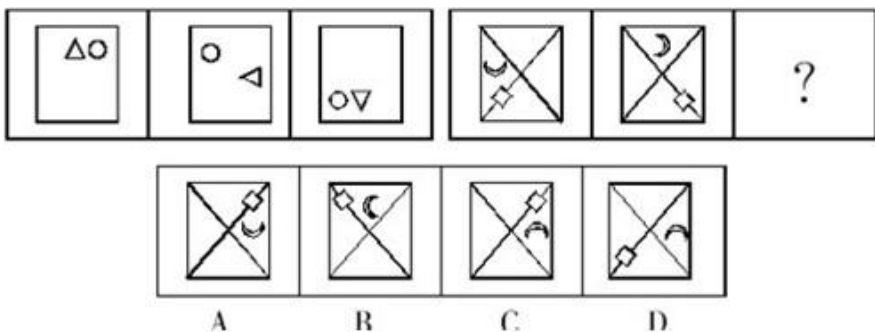
- A. 如上图所示
- B. 如上图所示
- C. 如上图所示
- D. 如上图所示

【考点】平移

【答案】B

【解析】本题为位置类题目。观察图形特点。图形组成完全相同, 只有位置上的变化。第一组图形中, 第一个图形上面的小图形沿横轴翻转得到第二个图形, 第二个图形上下两个小图形进行平移后平行放置, 上面的小图形置于左侧, 下面的小图形置于右侧得到第三个图形。第二组图形延续此规律, 第二组图形中第二个图形上下两个小图形平行放置, 上面的小图形置于左侧, 下面的小图形置于右侧, 得到第三个图形。正确答案为B选项。

64. 从四个选项中选择你认为最适合取代问号的一个, 使得左右两套图形表现出最大的相似性, 而且使第二套图形也表现出自己的特征 ()



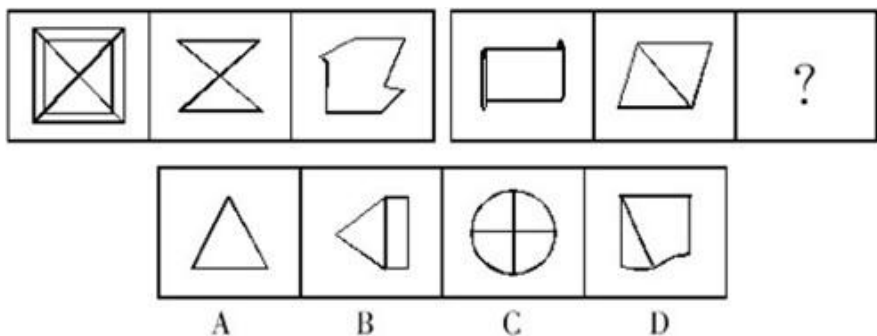
- A. 如上图所示
- B. 如上图所示
- C. 如上图所示
- D. 如上图所示

【考点】平移

【答案】C

【解析】观察图形特点。图形组成完全相同, 不同的是位置关系。在第一组图形中, 小圆沿方形的四个角, 每次逆时针移动一个角, 三角形沿四个边, 每次顺时针移动一条边, 且每次自身逆时针方向旋转 90 度。第二组图形延续此规律, 在第二组图形中, 小方形遵循小圆的运动规律, 小月牙遵循三角形的运动规律。故正确答案为C选项。

65. 从四个选项中选择你认为最适合取代问号的一个, 使得左右两套图形表现出最大的相似性, 而且使第二套图形也表现出自己的特征 ()



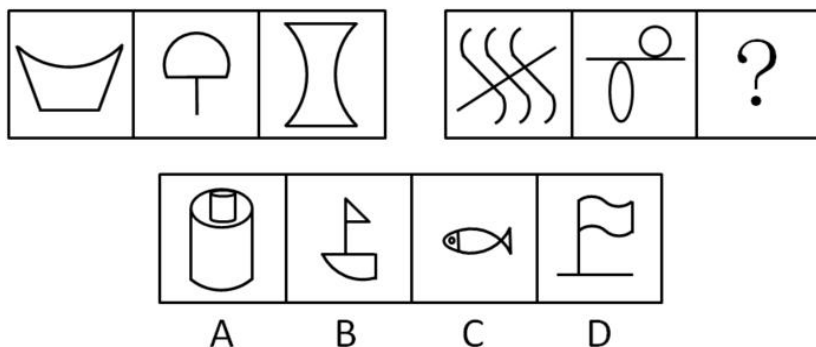
- A. 如上图所示
- B. 如上图所示
- C. 如上图所示
- D. 如上图所示

【考点】运算

【答案】B

【解析】观察图形, 在第一组图中, 三个图形都有水平方向的平行线。在第二组图形, 寻找相同的组成部分, 通过分析, B 项中图形有水平方向的平行线, 故正确答案为 B 选项。

66. 从四个选项中选择你认为最适合取代问号的一个, 使得左右两套图形表现出最大的相似性, 而且使第二套图形也表现出自己的特征 ()




- A. 如上图所示
- B. 如上图所示
- C. 如上图所示
- D. 如上图所示

【考点】线段

【答案】A

【解析】观察图形, 直线和曲线比较清晰。优先数线段, 第一组图形, 图形直线段数减去曲线段数的数量差是 2、1、0; 第二组图形, 直线和曲线的数量差延续此规律, 应该得到 2、1、0。故正确答案为 A 选项。

67. 从四个选项中选择你认为最适合取代问号的一个, 使得左右两套图形表现出最大的相似性, 而且使第二套图形也表现出自己的特征 ()



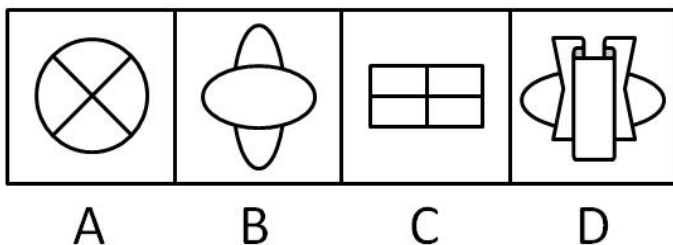

- A. 如上图所示
- B. 如上图所示
- C. 如上图所示
- D. 如上图所示

【考点】面个数

【答案】A

【解析】观察图形特点, 黑面的出现是特征, 另外, 白面也很明显。第一组图形, 每个图形封闭的白面数都为 4; 第二组图形, 前两个图形白面数都为 5, 因此, 第三个图形中白面数应该为 5。故正确答案为 A 选项。

68. 从四个选项中选择你认为最适合取代问号的一个, 使得左右两套图形表现出最大的相似性, 而且使第二套图形也表现出自己的特征 ()



- A. 如上图所示
- B. 如上图所示
- C. 如上图所示



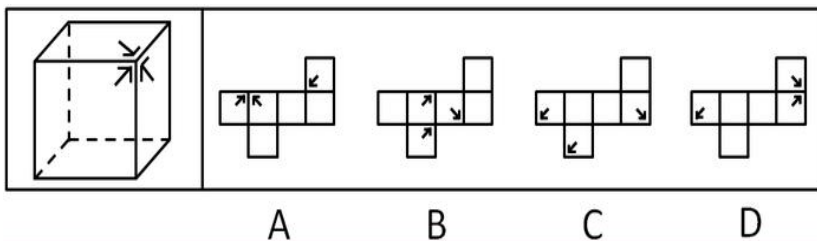
D. 如上图所示

【考点】 线段

【答案】 B

【解析】 观察图形, 直线和曲线很明显。九宫格, 先横着看, 再竖着看。第一列图形, 直线数分别是 8、7、6, 第二列图形, 直线数分别为 3、4、5, 因此, 第三列图形, 直线数应该分别为 2、1、0, 按纵向 N 型规律, 图形直线数为 8、7、6、5、4、3、2、1、0。故正确答案为 B 选项。

69. 下列四个选项中, 哪个可以折出左边指定的图形 ()



A. 如上图所示

B. 如上图所示

C. 如上图所示

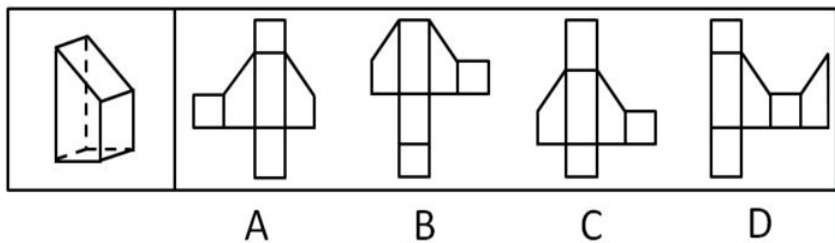
D. 如上图所示

【考点】 相邻关系

【答案】 C

【解析】 观察立体图形的特征, 三个箭头指向同一个顶点。A 中最右边的箭头所指向的顶点为, 两个空白面, 并非指向箭头, 排除; B 中三个箭头并非指向同一个顶点, 排除; D 中最左边的箭头折叠后指向下方, 与另外两个箭头的指向位置不相同, 排除。正确答案为 C。

70. 下列四个选项中, 哪个可以折出左边指定的图形 ()



A. 如上图所示

B. 如上图所示

C. 如上图所示

D. 如上图所示

【考点】 相邻关系

【答案】 C

【解析】 题干立体图是一个竖立的台体。A 和 D 的错误在于, 颠倒台体的上表面和下底面的两个矩形面的位置; B 中两个小方形的位置重叠, 排除。正确答案为 C 选项。

71. 阳光: 禾苗

A. 环境: 森林

B. 灾民: 饥饿

C. 空气: 生命

D. 草原: 马儿

【考点】 条件关系



【答案】 C

【解析】 本题考察条件关系。禾苗的生长离不开阳光, 生命的存在离不开空气。所以选择 C 选项。

72. 酸奶: 奶酪

A. 木头: 桌子

B. 豆浆: 豆腐

C. 干冰: 冰块

D. 土壤: 沙尘

【考点】 并列关系

【答案】 B

【解析】 “豆浆”和“豆腐”原料相同。故正确答案为 B。

73. 春联: 年画

A. 灯笼: 元宵

B. 粽叶: 粽子

C. 菊花: 月饼

D. 灶王: 腊八粥

【考点】 并列关系

【答案】 A

【解析】 与题干相同逻辑关系的即为 A, “灯笼”和“元宵”对应元宵节, 属并列关系。

74. 防守: 失陷

A. 工作: 辞职

B. 进攻: 占领

C. 应聘: 落选

D. 求证: 反驳

【考点】 对应关系

【答案】 C

【解析】 “防守”失败对应“失陷”, 具有必然性。与题干相同逻辑关系的即为 C, 即“应聘”失败对应“落选”。

75. 火山: 岩浆

A. 小麦: 面包

B. 汽车: 尾气

C. 海洋: 岛屿

D. 地下水: 喷泉

【考点】 对应关系

【答案】 B

【解析】 题干两词是一一对应关系, 火山喷出岩浆。和题干相同的逻辑关系的选项为 B 选项。

76. 控告: 辩护

A. 怀疑: 相信

B. 侵犯: 自卫

C. 胜利: 失败

D. 鼓励: 自满

【考点】 对应关系

【答案】 B



【解析】题干两词是对应关系, 且是主动和被动两个相对行为间的对应关系, 前者是主动, 后者是被动。和题干逻辑关系相同的选项是 B 选项。

77. 花卉: 花

A. 汽车: 车

B. 人口: 人

C. 山峰: 山

D. 粮食: 米

【考点】对应关系

【答案】D

【解析】第一步: 判断题干词语间逻辑关系。花卉包含花和草, 花卉与花是种属关系。第二步: 判断选项词语间逻辑关系。A 项: 车不仅仅只包括汽车, 还有自行车、火车、电动车等, 是种属关系, 但汽车外延比车的外延小; B 项: 人口是人的复数, 二者所指含义相同; C 项: 山峰是山的突出的尖顶, 二者是组成关系; D 项: 米是粮食的一种, 二者是种属关系。故正确答案为 D。

78. 氢: 氧: 水

A. 根: 叶: 花

B. 黄: 蓝: 绿

C. 陆地: 海洋: 天空

D. 石油: 煤炭: 天然气

【考点】包含关系

【答案】B

【解析】题干是包含关系的组成关系, 即“水”由“氢”和“氧”组成。与题干相同逻辑关系的即为 B, “绿”由“黄”和“蓝”合成。

79. () 对于距离相当于扫帚对于 ()

A. 空间——吸尘器

B. 时间——垃圾桶

C. 位置——地面

D. 网络——灰尘

【考点】对应关系

【答案】D

【解析】第一步: 将选项逐一带入, 判断各选项前后部分的逻辑关系。A 项: 空间和距离是对应关系, 距离是相隔的长度。扫帚和吸尘器是并列关系, 二者都是清除灰尘的工具; B 项: 时间和距离没有明显的逻辑关系。扫帚和垃圾桶是并列关系, 扫帚用来清扫灰尘, 垃圾桶用来盛放垃圾; C 项: 位置和距离是对应关系, 不同位置之间的长度是距离。地面和扫帚是对应关系, 扫帚清扫地面上的垃圾; D 项中, 网络和距离是对应关系, 网络拉近了人们的距离。扫帚和灰尘是对应关系, 扫帚清除地面的灰尘。第二步: 逻辑关系相同即为答案。A 和 B 项可以很容易排除, 在 C 和 D 项中进行辨析不难发现, 虽然都是对应关系, 但是 D 项里两组词都有主宾关系, 即网络拉近距离、扫帚清除灰尘。而 C 项中第一组词里并没有这样的关系。故正确答案为 D。

80. 时间对于 () 相当于 () 对于压强

A. 钟表——焦虑

B. 成长——动力

C. 金钱——心理障碍

D. 效率——受力面积



【考点】 对应关系

【答案】 D

【解析】 时间和压强可能没有明显逻辑关系。把选项逐个代入题干。D 中前面部分是呈反比关系的对应关系, 后面部分是呈反比关系的对应关系。

81. 在计算机高度发达的今天, 我们可以借助计算机完成许多工作, 但正是因为对计算机的过度依赖, 青少年动手能力的发展受到抑制。他们在学习和生活中无处不使用计算机来寻找答案, 而不是亲自动手解决问题。因此, 过多使用计算机解决学习和生活问题的青少年实际动手能力要比其他孩子差。以下说法哪项如果为真, 最能支持上述推断 ()

- A. 过度依赖计算机的青少年和较少接触计算机的青少年在智力水平上差别不大
- B. 大多数青少年在使用计算机解决问题的同时也会自己动手解决一些问题
- C. 青少年能利用计算机来解决问题, 本身也是对动手能力的训练
- D. 那些较少使用计算机的青少年自己动手解决学习和生活问题的能力较强

【考点】 加强题型

【答案】 D

【解析】 论点是过多使用计算机的青少年实际动手能力差。论据是青少年在学习和生活中无处不使用计算机来寻找答案, 而不是亲自动手解决问题。D 选项, 较少使用电脑的青少年动手能力较强, 加强了论证。故正确答案为 D 选项。

82. 智商很低的人肯定不能成名成家, 但智商很高的人也不一定能成名成家。在导致人成名成家的其他因素中, 大部分因素属于情商。由此可以推出 ()

- A. 只要具备很高智商与情商便必定成功
- B. 情商比智商对成名成家更重要
- C. 情商很高的人不一定能成名成家
- D. 智商很高的人情商一定很低

【考点】 从弱原则

【答案】 C

【解析】 原文说明智商和情商是成名成家的重要因素。C 选项, 根据题干信息可以得到, 符合从弱原则, 故正确答案为 C。

83. 有关专家表示, 因工作中身心透支严重, 一种被称为职业倦怠症的慢性职业病正入侵都市上班族。职业倦怠症是一种由工作引发的心力枯竭现象, 是职业人在工作重压下所体验到的身心俱疲、能量被耗尽的感觉。产生职业倦怠的人会出现生理、心理上的不适以及行为上的障碍, 若不及时处理或找专业人士进行治疗将会出现不可预料的后果。调查显示: 教师、警察、医护人员、保险代理、高科技研究者、新闻工作者等是这类疾病的高危人群。以下最有可能从上述条件推理出来的一项是 ()

- A. 现代人产生职业倦怠的时间越来越短, 有的甚至刚参加工作就开始对工作厌倦
- B. 警察在审讯中无故打伤人的事情或许不仅仅是人品和职业道德问题
- C. 教师、警察、新闻工作者等职业的从业人员需要充沛的精力和良好的身体素质
- D. 职业倦怠症将成为现代社会威胁人们健康的慢性职业病中最危险的一种

【考点】 从弱原则

【答案】 B

【解析】 原文说明职业倦怠症的病因是工作中身心透支严重, 是一种由工作引发的心理枯竭现象, 若不及时处理或找专业人士进行治疗将会出现不可预料的后果, 以及职业倦怠症的高危人群。B 选项, 警察无故打人, 有可能是因为职业倦怠造成的行为上的障碍, 并且符合从弱原则, 故正确答案为 B。

84. 啤酒与人类健康的关系向来受到科学家关注。由于女性的手指骨骼会最先出现骨质



疏松症状, 研究人员选择对她们的指骨进行超声波成像扫描。扫描结果显示, 常喝啤酒的女性和不喝啤酒的女性骨密度有显著差异, 前者的骨密度高于后者。所以, 研究人员认为啤酒有助于女性预防骨质疏松。以下哪项如果为真, 最能削弱上述结论 ()

- A. 有喝啤酒习惯的女性大多喜欢参加体育运动, 身体健壮, 骨骼密度本来就相对较高
- B. 啤酒中含有的黄豆芽苷元素是否能有效防止骨骼老化还有待于进一步研究
- C. 啤酒中的酒精不利于钙质的吸收, 而缺钙容易导致骨骼发育不良
- D. 每天喝 200 毫升啤酒的女性, 其骨骼密度高于每天喝 500 毫升啤酒的女性

【考点】削弱题型

【答案】A

【解析】论点是喝啤酒有助于女性预防骨质疏松, 论据是常喝啤酒的女性和不喝啤酒的女性骨密度有显著差异, 前者的骨密度高于后者。A 选项, 说明这些女性骨骼密度高的一个原因是运动, 属于另有他因。故正确答案为 A 选项。

85. 近年来, 生物燃料需求迅速增加。2000 年至 2007 年全球乙醇产量增加了两倍, 到 2017 年其产量还会再翻一番, 生物柴油的产量 10 年内也将增长一倍多。这些生物燃料是由玉米等谷物、糖类和油料作物生产的, 因此其产量的扩大必然导致相关农作物价格的飙升。如果上述观点正确, 可以推出 ()

- A. 农产品价格上涨将导致生物燃料产量降低
- B. 如果农产品价格下降则说明生物燃料产量没有提高
- C. 如果生物燃料产量下降则说明农产品价格提高
- D. 乙醇等生物燃料产量增加是受农产品价格过低的影响

【考点】充分条件

【答案】B

【解析】原文说明生物燃料需要迅速增加, 生物燃料产量的扩大使得相关农作物价格飙升。由“生物燃料产量的扩大必然导致相关农作物价格的飙升”翻译为: 生物燃料产量扩大→农作物价格上涨。选项 B, 一农作物价格上涨→一生物燃料产量扩大, 涉及到的知识点为逆否定理。

86. 四川省气象局气候中心最近完成的一项研究认为: 根据目前大熊猫栖息地气候变化的总体趋势, 未来 10 至 30 年, 这些地区将越来越不适合大熊猫生存繁衍, 而西北方向的邛崃山系则会因为气温的升高, 降水明显增加, 变得更适合大熊猫生存, 成为大熊猫栖息地气候适宜区、次适宜区将由东南向西北转移, 因此大熊猫未来将会向西北迁徙。以下哪项如果为真, 最能支持以上观点 ()

- A. 大熊猫喜欢湿润的气候
- B. “干暖”气候不利于竹子生长
- C. 西北地区的气候正变得越来越湿润
- D. 大熊猫具备迁徙的能力

【考点】加强题型

【答案】D

【解析】论点是说大熊猫未来将会向西北迁徙, 论据是现栖息地将变得“干暖”, 而西北方向则变得温热潮湿。D 选项, 熊猫具备迁徙的能力是熊猫迁徙到西北的前提, 正确答案为 D。

87. 对某城市所拥有的加油站的数量进行统计, 发现加油站总数的增长和城市人口总数的增长之间不是简单的线性关系, 前者的增加倍数是后者增加倍数的 0.77 次方倍, 例如某城市的人口总数增加 10 倍, 其加油站总数就会增加到 10 的 0.77 次方倍, 也就是 5.9 倍; 如果人口总数增加 100 倍, 加油站总数就会增加到 100 的 0.77 次方倍, 也就是 34.7 倍。由



此可以推知()

- A. 加油站数量的增长速度可能满足不了成倍增长的城市人口的需求
- B. 若城市的出生率小于死亡率, 则其加油站的总数不会增加
- C. 城市规模越大, 加油站数量增长幅度越小
- D. 城市人口和总油耗之间存在非线性关系

【考点】主题一致原则

【答案】C

【解析】第一句说明加油站总数的增长是城市人口总数的增长的 0.77 次方。C 选项, 符合 0.77 次方倍关系, 由原文可以推出。

88. 已知下列三个判断为真: (1) 要么甲出差, 要么乙出差, 要么丙出差; (2) 如果甲出差, 那么丙就出差; (3) 丙因工作忙走不开。由此推出的是()

- A. 甲出差而乙不出差
- B. 乙出差而甲不出差
- C. 甲出差乙也出差
- D. 甲不出差乙也不出差

【考点】充分条件

【答案】B

【解析】确定为翻译推理的题目, 首先翻译, (1) 甲出差 \vee 乙出差 \vee 丙出差; (2) 甲出差 \rightarrow 丙出差, (3) \neg 丙出差。再推理, 由(2) 甲出差 \rightarrow 丙出差和(3) \neg 丙出差, 利用逆否定理得到 \neg 甲出差。又知(1) “甲出差 \vee 乙出差 \vee 丙出差”, 利用选言命题真假值得到乙出差, 由此得到 \neg 甲出差 \wedge 乙出差 \wedge \neg 丙出差。故正确答案为 B 选项。

89. 某杂志社每年都要公布当年汽车销量的排行榜。而管理咨询专家认为这个排行榜不应成为消费者购买哪种汽车的依据。以下如果为真, 最能支持管理咨询专家观点的是()

- A. 订阅杂志的人通常是已经购买了汽车的人
- B. 部分消费者对他们依据该杂志排行榜所购买的汽车不很满意
- C. 价格、功能才是消费者购买汽车时需要考虑的重要因素
- D. 排行榜是汽车制造商进行宣传广告的一种手段

【考点】加强题型

【答案】D

【解析】论点是排行榜不应成为消费者决定购买哪种汽车的依据, 论据不明显。D 选项, 排行榜是一种广告, 不能作为切实的购车根据, 加强力度最强。故正确答案为选项 D。

90. 一位管理者让几位员工从皱纹纸带上各裁下一段 30 厘米的纸带, 只能用目测, 不能用量具量。然后, 又要求每一位听讲者裁 150 厘米和 600 厘米长的纸带各一段。大家裁完后, 这位管理者掏出卷尺, 仔细地测量每一条纸并公布结果: 30 厘米一组, 平均误差不到 6%, 150 厘米一组平均误差上升到 11%; 600 厘米一组, 平均误差高达 19%, 个别相差 100 厘米。由此推出的是()

- A. 目标越小、越集中, 越容易接近目标
- B. 目标越大、越宽泛, 越不容易偏离目标
- C. 目标大小适中, 最容易接近既定目标
- D. 目标大小与接近目标的程度无关

【考点】主题一致原则

【答案】A

【解析】原文是实验中目标长度越短, 目测得越准确, 偏差越小。将目标的大小对应为实验中的纸带的长短, 实现目标难易程度对应为误差的大小, A 选项表述更符合题干。



91. 监管是市场经济条件下政府为实现某些公共政策目标, 对微观经济主体进行的规范与制约。主要通过对特定产业和微观经济活动主体的进入、退出、资质、价格及涉及国民健康、生命安全、可持续发展等行为进行监督、管理来实现。根据上述定义, 下列属于被政府监管范围的是 ()

- A. 农户根据对市场的预测调整所种植的农作物种类
- B. 食品厂生产的某种食品可能含有超标的有害物质
- C. 某家电企业调高了其产品的销售价格
- D. 一些居民将政府发放的保障金用于购买股票

【考点】单定义判断

【答案】B

【解析】监督是指: “特定产业和微观经济”, 以及“涉及国民健康、生命安全、可持续发展”。A 选项, 根据市场规律自发调节, 不符合关键词“涉及国民健康、生命安全、可持续发展”, 排除; B 选项, 食品厂生产可能含有超标的有害物质完全符合定义, 为答案; C 选项, 家电企业提高价格, 不是“特定产业和微观经济”, 排除; D 选项, 居民将生活保障金用于购买股票, 不是“涉及国民健康、生命安全、可持续发展”, 排除。综上, 故正确答案为 B 选项。

92. 水下文化遗产是指至少 100 年以来, 周期性地或延续性地, 部分或全部位于水下的具有文化、历史或考古价值的所有人类生存的遗迹。根据上述定义, 下列属于水下文化遗产的是 ()

- A. 澳大利亚沿海历时数百年形成的世界最大的珊瑚岛大堡礁
- B. 我国道光年间在苏门答腊和爪哇岛之间沉没的商船“泰兴号”
- C. 迪拜于上世纪末在海中以人工岛方式建造的第一座七星级观光饭店
- D. 希腊克里特岛上发掘出的公元前 10000 年至公元前 3300 年新石器文化遗迹

【考点】单定义判断

【答案】B

【解析】水下文化遗产为“至少 100 年”“水下”“人类生存的遗迹”。A 选项, 自然形成的景观, 不是“人类生存的遗迹”, 排除; B 选项, 沉没的商船“泰兴号”符合定义, 属于水下文化遗产; C 选项, 七星级观光饭店不是“至少 100 年”和“水下”, 排除; D 选项, 新石器文化遗迹不是“水下”, 排除。故正确答案为 B 选项。

93. 白色农业是指以蛋白质工程、细胞工程、酶工程为基础, 用基因工程等高科技手段开发微生物资源工程农业。它是通过优化配置微生物资源, 利用微生物惊人的繁殖生产能力, 在工厂化条件下生产人类及动植物所需营养品及保健品的新型农业。根据定义, 下列不属于白色农业的是 ()

- A. 使用各种农业废料制成的蛋白饲料、秸秆饲料、EP 多效生物添加剂
- B. 某农业示范园建成稻谷连作、无公害蔬菜生产、优质稻生产等基地和生态养殖厂
- C. 农业生产中运用细菌、真菌、昆虫病菌等构成杀虫剂、杀菌剂、除草剂
- D. 发挥各种技术措施的科学组合, 形成宜林则林、宜牧则牧、宜水则水的高效农业群

【考点】单定义判断

【答案】D

【解析】定义指“开发微生物资源”。A 选项的农业废料的利用; B 选项的农业示范园; C 选项, 应用细菌、真菌、昆虫病毒等构成的杀虫剂、杀菌剂和除草剂, 以上三项符合定义, 属于白色农业。D 选项, 发挥各种技术措施的科学组合, 不是“开发微生物资源”, 不属于白色农业。正确答案为 D 选项。

94. 恐怖症是指病人对某种特定的客体或处境或与人交往时而发生强烈恐惧, 并主动采



取回避方式来解除这种焦虑不安。下列属于恐怖症的是 ()

- A. 小红从小就怕虫子, 一见到虫子就躲到父母身后, 现在小红已经 20 岁了, 仍然怕见虫子, 一见到都就尖叫起来
- B. 建筑工人小张一次从高的围栏上摔下, 造成骨折, 好了以后他一直害怕到高的地方并因此换了工作, 并将家搬到了一楼, 就连看电视也不敢看有关高空作业的节目
- C. 于艳艳特别怕黑, 快到天黑, 她就得赶紧回家, 除非到灯光较多的夜市。如果需要黑的地方, 必须有人陪着她, 她才敢去
- D. 刘柳是个非常内向的人, 一见到生人就脸红, 要是见异性就更严重, 连话都说不出来, 所以她特别害怕到交际场合, 每逢单位组织活动她都紧张得不得了

【考点】单定义判断

【答案】B

【解析】定义的关键词是“强烈恐惧”, 并且“主动采取回避方式”。A 选项, 小红对虫子的害怕, 并非“强烈恐惧”, 不符合; B 选项, 小张情况完全符合定义, 正确答案; C 选项, 于艳艳怕黑, 并未“主动采取回避方式”, 不符合定义; D 选项, 刘柳害怕交际场合, 感到紧张, 而且没有回避单位组织的活动, 不是“强烈恐惧”和“主动采取回避方式”, 不符合。故正确答案为 B。

95. 劳务派遣是最近几年内国内兴起的一种新的用人模式, 其对象是在知识经济条件下应运而生的一个新的具有高度专业技术知识、经验与能力的特殊劳务群体, 他们应不同企业之邀, 在不同企业、行业、国家之间流动着。劳务派遣形式多样, 对工人可以长期使用, 也可以短期使用, 双休日使用, 还可以重点项目使用。根据以上定义, 以下属于劳务派遣的是 ()

- A. 小王在郑州一家科技公司上班, 公司派他去北京培训半年
- B. 李四在某饭店工作, 干了四年之后, 他积累了足够的工作经验, 决定自己辞职开店
- C. 张三在一家电脑公司工作 8 年, 今年 10 月, 公司突然同他解除合同, 并且由一家劳务中介公司和张三签订合同后, 张三重新在该电脑公司上班。只是他的雇主变成了该劳务中介公司
- D. 在某公司上班的小赵每个双休日去另一家公司做兼职工作

【考点】单定义判断

【答案】C

【解析】定义为“用人模式”, 并“在不同企业、行业、国家之间流动”。A 的培训、B 的开饭店和 D 的兼职都不是“用人模式”, 不符合; C 选项, 张三目前与劳务中介公司签约, 没有固定的工作, 由公司临时指派工作, 符合定义, 故正确答案为 C。

96. 可恢复性评价是指突发事件发生后, 应急管理结束前对于事件的现状恢复到基本正常状态的能力的评价以及完成恢复所需要的时间和资源的评价。根据以上定义, 下列属于可恢复性评价的是 ()

- A. 估计 H1N1 流感疫苗研发时间
- B. 地震后, 民政部向灾区发放救灾物资
- C. 上级指示 48 小时内解决因大雪封路而滞留车上的乘客问题
- D. 重大交通事故发生后, 交通管理部门估计交通事故造成的堵车时间

【考点】单定义判断

【答案】D

【解析】定义为“恢复到基本正常状态”, 并且“评价”。A 选项, 估计 H1N1 流感疫苗研发, 并不是“恢复到基本正常状态”, 不符合; B 选项是应急措施, 不是“评价”; C 选项是应急管理的命令, 不是关键词“评价”; D 选项符合定义, 因此属于可恢复性评价。综上,



故正确答案为 D 选项。

97. 企业道德是指在企业这一特定的社会经济组织中, 依靠社会舆论、传统习惯和内心信念来维持的, 以善恶评价为标准的道德原则、道德规范和道德活动的总和, 按照道德活动主体的不同, 可分为企业道德和员工个人的职业道德。根据以上定义, 下列属于企业道德的是()

- A. 企业管理者通过学习、努力加强自身的专业素质, 提高员工工作效率
- B. 为一个合同, 某企业在完全合乎本国法律手续的条款中规定, 要求对方企业捐款 125 万元建立一个儿童医院
- C. 国际市场营销者在向外国市场销售产品和服务时, 营销人员需要了解东道国文化的行为和规则
- D. 在欧洲和阿拉伯国家的商品营销谈判中, 经理人员的权威很大, 因此谈判往往在较高层次进行

【考点】单定义判断

【答案】B

【解析】定义是指“以善恶评价为标准”。A 选项, 企业管理者提高自身素质; C 选项, 营销人员了解东道国文化; D 选项, 谈判的接触层次, 以上三项都不是“以善恶评价为标准”, 不符合。B 选项, 要求对方企业捐款是“以善恶评价为标准”的道德活动, 属于企业道德。故正确答案为 B 选项。

98. 隐私权是指在不违反法律的情况下, 为了保护个人的名誉和形象, 对其个人行为和个人材料保密, 不让他人非法获知的权利。根据以上定义, 下面属于隐私权的是()

- A. 明星拒绝向某司法机关透露和涉嫌贪污的甲某之间交往密切的权利
- B. 犯罪嫌疑人向司法机关保守自己在案发时间的行为的权利
- C. 涉嫌贪污犯罪嫌疑人向媒体保守自己收入来源秘密的权利
- D. 某已婚官员对新闻媒体不承认和某女之间存在婚外情关系的权利

【考点】单定义判断

【答案】D

【解析】定义是“不违反法律”, 以及“保护个人的名誉和形象”。A、B 和 C 中都涉及到了违反法律的行为, 不符合; D 选项中官员向媒体不承认婚外情, 这不是违法的, 而且也是保护个人的名誉和隐私。符合定义, 故正确答案为 D 选项。

99. 为了使国家、公共利益、本人或者他人的人身、财产和其他合法权利免受正在进行的不法侵害, 而采取的制止不法侵害的行为, 对不法侵害人造成损害的, 属于正当防卫, 不负刑事责任。正当防卫明显超过必要限度造成重大损害的, 应当负刑事责任, 但是应当减轻或者免除处罚。根据以上定义, 下面哪种行为是典型的正当防卫()

- A. 甲梦到乙追杀自己, 醒后便认定乙欲杀自己, 直奔乙家中将乙殴伤
- B. 甲乙二人互相斗殴, 乙见自己势单力薄而逃跑, 甲在后紧追不舍, 乙无奈又捡起一根棍子趁甲站立不稳时将其打伤
- C. 张某在学校的操场上练习骑摩托车, 因技术不佳而摔倒, 张某经抢救无效死亡
- D. 某晚刘某恰碰到一个歹徒抢劫一位妇女的钱包, 于是刘某急忙捡起一块砖头扔过去, 不巧砸到妇女头上, 导致妇女脑部瘫痪

【考点】单定义判断

【答案】B

【解析】定义为“不法行为正在进行时”, 并且“不法侵害者本人”, “不能超过必要限度”。A 选项, 不是“不法行为正在进行时”, 因此不属于正当防卫; B 选项, 乙的行为完全符合定义; C 选项, 刘某的行为并非不法行为正在进行时, 不符合; D 选项, 刘某行为对象



不是不法侵害者本人, 不符合。故正确答案为 B 选项。

100. 排中律的内容是, 在同一思维过程中, 针对同一对象两个相互矛盾的思想, 必定有一个是真的, 不会同时是假的。矛盾律的内容是: 在同一思维过程中, 任何一个思想不能互相冲突, 不能一面肯定了一种思想, 一面又否定了这一思想; 因为一个思想及其否定不能同时都是真的。根据以上定义, 下面违反排中律的是 ()

A. 犯罪嫌疑人在法庭上的陈述互相矛盾, 他先说本案所有证人的证词是可信的, 随后又说有些证人的证词是不可信的

B. 院长评价张教授的年龄时说: “张教授今年 40 岁, 不算年轻了, 不过在本院所有的教授中, 张教授是最年轻的。”

C. 记者在一次保护儿童权益的会议上说教育孩子舍己为人是错误的; 后来又有一次面向家长的讲座上说不教育孩子舍己为人是错误的

D. 孟什维克认为, 应该把社会主义意识从外面灌输到工人运动中去是错误的; 但是他们认为否定这个说法也是错误的

【考点】单定义判断

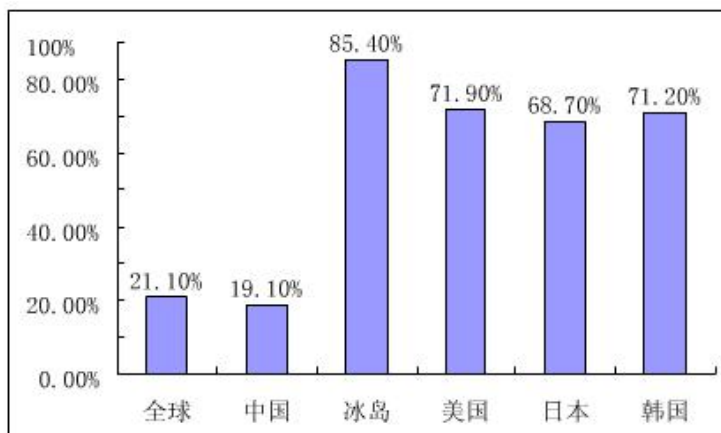
【答案】D

【解析】定义为“排中律”, 满足“同一时间”“同一方面”以及“同一条件”“两个相互矛盾的思想”“必定有一个是真的, 不会同时都是假的”。A 选项, 王某的说法不符合关键词“同一时间”, 不符合; B 选项, “年轻”是相对概念, 不是“同一条件”; C 选项, 该教育工作者的行为不是“同一时间”, 不符合; D 选项, 孟什维克观点完全符合定义。故正确答案为 D 选项。

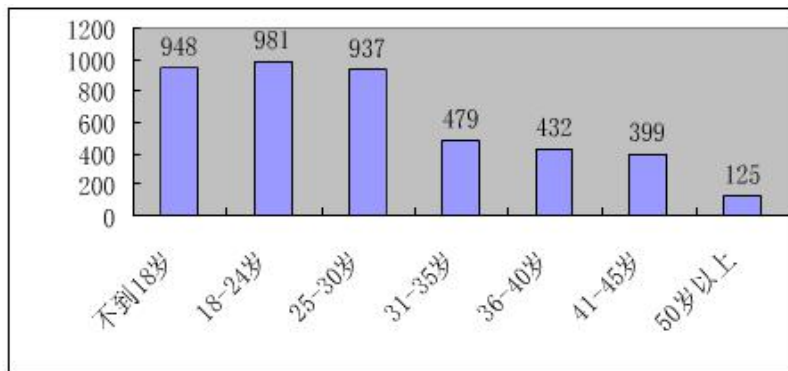
五、资料分析

材料(一)

CNNIC 于 2008 年 7 月发表的《第 22 次中国互联网络发展状况统计报告》显示, 我国网民数达 2.53 亿, 超美国居世界首位, 尽管如此, 我国互联网覆盖率只有 19.1%, 仍低于 21.1% 的全球平均水平, 与上一年同期相比, 我国网民人数增加了 9100 万, 是历年来增长速度最快的一年, 同比增长 56.2%。仅 2008 年上半年, 我国网民数净增就达 4300 万, 统计表明, 我国网站数量持续增长, 截至 2008 年 7 月共有网站 191.9 万个, 同比增长率为 46.3%; 其中 CN 域名下的网站数为 136.9 万个。



图一 全球部分国家互联网普及



图二 2008年上半年我国各年龄段网民增长量

101. 2007年7月, 我国的网民数量为多少人 ()

- A. 2.1 亿
- B. 2.05 亿
- C. 1.82 亿
- D. 1.62 亿

【考点】基期量计算

【答案】D

【解析】根据材料“2008年我国网民数为2.53亿, 比上年同期增加了9100万人”可知, 2007年我国网民数为 $2.53 - 0.91$, 首位为1, 排除A、B; 第二位为6, 排除C。因此, 本题答案为D选项。

102. 截至2008年7月, 我国CN域名下的网站数占网站总数的()

- A. 71.3%
- B. 69.2%
- C. 67.3%
- D. 63.5%

【考点】比重计算

【答案】A

【解析】根据题意可知, 则我国CN域名下的网站数占网站总数的比重约为 $136.9 \div 191.9 = 0.71$, 小数点后首位商7, 观察选项, 只有A选项满足条件。因此, 本题答案为A选项。

103. 2008年上半年, 我国平均每万人拥有网站约多少个 ()

- A. 13
- B. 14.5
- C. 16
- D. 75.8

【考点】平均数计算

【答案】B



【解析】根据题意可知, 2008 年上半年, 我国网民平均每万人拥有网站约 $\frac{1919000}{25300} \approx \frac{19 \times 190}{250} = \frac{3610}{250} = 14.44$, 观察选项, 与 B 选项最接近。因此, 本题答案为 B 选项。

104. 2008 年上半年的新增网民中, 30 岁以上所占的比例为()

- A. 28%
- B. 30%
- C. 33%
- D. 35%

【考点】比重计算

【答案】C

【解析】根据图表可知, 2008 年上半年的新增网民中, 30 岁以上所占的比例约为 $(479+432+399+125) \div 4300 \times 100\% = 1435 \div 4300 \times 100\% \approx 33\%$, 因此, 本题答案为 C 选项。

105. 下列说法与资料相符的是()

- A. 截止 2008 年 7 月, 韩国的互联网普及率是我国的 5 倍以上
- B. 截止 2008 年 7 月, 我国网民中 30 岁以下的人占 67%
- C. 2007 年下半年, 我国网民增加了 4800 万人
- D. 2008 年 7 月, CN 域名下的网站数量同比增长率高于我国网站总体增长率

【考点】综合分析

【答案】C

【解析】A 选项, 读图可知, 2008 年 7 月, 韩国的互联网普及率是我国的 $\frac{71.2\%}{19.1\%} < \frac{72}{18} = 4$,

所以韩国互联网普及率不到我国的 4 倍, A 选项错误; B 选项, 图 2 表示的是 2008 年上半年我国各年龄段网民的增长量, 没有涉及到 30 岁以下的网民的人数情况, 所以无法判断占比如何, B 选项错误; C 选项, 根据文字材料可知, 我国 2007 年 7 月到 2008 年 7 月网民人数增加了 9100 万, 2008 年上半年网民净增 4300 万, 则 2007 年下半年网民增加了 $9100 - 4300 = 4800$ (万人), C 选项正确; D 项, 根据材料无法计算 2008 年 7 月 CN 域名下的网站数量同比增长率, D 选项错误。因此, 本题答案为 C 选项。

材料(二)



2009年1~10月某市进出口贸易伙伴情况 单位: 亿美元, %

主要出口贸易伙伴情况				主要进口贸易伙伴情况			
位次	国家或地区	出口金额	同比增速	位次	国家或地区	进口金额	同比增速
1	欧盟	33.4	52.8	1	欧盟	37.4	26.8
2	中国香港	19.6	172.4	2	日本	34	22.5
3	日本	16.9	25	3	韩国	28.7	42.1
4	美国	15.7	29.4	4	美国	19.7	28.4
5	东盟	13.6	105.2	5	东盟	17.9	34.6
6	韩国	5.9	75.7	6	中国香港	10.9	77.1
7	俄罗斯	4.2	416.2	7	澳大利亚	5.4	59.2
8	印度	3.4	82.4	8	中国台湾	4.7	-0.2
9	中国台湾	1.4	16.2	9	印度	3.6	111.7
10	伊朗	1.4	139.6	10	巴西	2.4	84

106. 2009年1~10月, 该市对俄罗斯的出口金额比2008年同期净增多少亿美元 ()

- A. 0.8
- B. 1
- C. 3.2
- D. 3.4

【考点】增长量计算

【答案】D

【解析】根据材料可知, 2009年1~10月, 该市对俄罗斯的出口金额比2008年同期净增了 $4.2 - \frac{4.2}{1+416.2\%} \approx \frac{4.2 \times 4.2}{5.2} \approx 3.4$ (亿美元)。因此, 本题答案为D选项。

107. 在以下贸易伙伴中, 进口额与出口额相差最大的是 ()

- A. 美国
- B. 日本
- C. 韩国
- D. 欧盟

【考点】其他类型比较

【答案】C

【解析】读表可知, 美国进出口额相差 $19.7-15.7=4.0$ (亿美元); 日本为 $34-16.9 < 20$ (亿美元), 韩国为 $28.7-5.9 > 20$ (亿美元), 欧盟为 $37.4-33.4=4.0$ (亿美元)。由此可见, 相差最大的是韩国。因此, 本题答案为C选项。

108. 2008年1~10月该市对中国台湾的进口额为 () 亿美元

- A. 3.92
- B. 4.69
- C. 4.71
- D. 5.88

【考点】基期量计算

【答案】C

【解析】根据材料可知, 2008年1~10月该市对中国台湾的进口额约为 $\frac{4.7}{1-0.2\%} \approx 4.7 \times (1+0.2\%) > 4.7$ (亿美元), 因此, 应选择比4.7略大的选项。结合选项, 应选择C。



因此, 本题答案为 C 选项。

109. 从上表可以看出该市实现贸易顺差的国家或地区是()

- A. 中国香港
- B. 印度
- C. 欧盟
- D. 日本

【考点】其他类型比较

【答案】A

【解析】出口额大于进口额时称为贸易顺差。观察图表可知, 只有中国香港出口额(19.6 亿美元) > 进口额(10.9 亿美元), 所以实现贸易顺差的地区是中国香港。因此, 本题答案为 A 选项。

110. 2009 年 1~10 月, 该市对欧盟、日本和美国三大贸易伙伴的出口额在地方出口额中的合计比重为 49%。问地方出口额是多少亿美元()

- A. 44.5
- B. 114.3
- C. 120.1
- D. 134.7

【考点】比重计算

【答案】D

【解析】根据材料可知, 2009 年 1~10 月, 该市对欧盟、日本和美国的出口总额为 $33.4+16.9+15.7=66$ (亿美元), 在地方出口额中的合计比为 49%, 则地方出口额为 $66 \div 49\% > 66 \div 50\% = 66 \times 2 = 132$ (亿美元), 观察选项, 只有 D 选项符合条件。因此, 本题答案为 D 选项。

材料(三)

中国人民银行公布的统计数据显示, 2007 年全国银行卡发卡总量 149995.06 万张, 同比增长 32.63%。其中, 借记卡 14096 8.78 万张, 同比增长 30.36%; 贷记卡 7161.53 万张, 同比增长 144.08%; 准贷记卡 1864.75 万张, 减少 7.9%。中国已被公认为世界上发展最快、潜力最大的银行卡市场。

2007 年全年共办理了银行卡业务 1361185.48 万笔, 金额 1114692.82 亿元(人民币, 下同), 同比增长 24.70% 和 57.94%。各项银行卡业务中, 存现业务 300832.03 万笔, 金额 354222.26 亿元, 同比增长分别是 22.62% 和 28.76%; 取现业务 696597.58 万笔, 金额 301498.81 亿元, 同比分别增长 22.629% 和 28.76%; 转账业务 189637.01 万笔, 金额 429030.88 亿元, 同比增长 19.49% 和 103.19%; 消费业务 174118.86 万笔, 金额 29940.87 亿元同比增长分别是 64.36% 和 58.11%。值得注意的是, 银行卡消费额(扣除房地产和批发类交易)占同期社会上商品零售总额的比重为 21.9%, 比上年提高 4.9 个百分点。

111. 对我国 2007 年银行卡发卡情况描述正确的是()

- A. 各类银行卡的发卡总量均实现了增长
- B. 发卡总量及发卡同比增幅均最高的是贷记卡
- C. 借记卡的发卡总量达到准贷记卡的 80 倍以上
- D. 借据卡的发卡总量及发卡同比增幅均超过准贷据卡

【考点】综合分析



【答案】D

【解析】A 选项, 根据材料第一段可知, 准贷记卡的发卡总量同比下降, A 选项错误; B 选项, 根据材料第一段可知, 借记卡的发卡总量大于贷记卡, 所以 B 选项错误; C 选项, 根据材料第一段可知, 借记卡的发卡总量是准贷记卡的 $\frac{140968.78}{1864.75}$, 直除首位商 7, 不能商 8, 所以 C 选项错误; D 选项, 根据材料第一段可知, 借据卡的发卡总量及发卡同比增幅均超过准贷据卡, D 正确。

112. 2006 年办理银行卡业务总额约为 ()

- A. 70.6 万亿元
- B. 89.4 万亿元
- C. 111.5 万亿元
- D. 136.1 万亿元

【考点】基期量计算

【答案】A

【解析】根据材料“2007 年办理银行卡业务总额为 1114692.82 亿元, 同比增长 57.94%”可知, 则 2006 年办理银行卡业务总额为 $1114692.82 \div (1+57.94\%) < 1200000 \div 1.5 = 800000$ (亿元) = 80 (万亿元), 观察选项, 只有 A 选项满足条件。因此, 本题答案为 A 选项。

113. 2007 年存现业务的金额约占银行卡业务总金额的 ()

- A. $\frac{1}{5}$
- B. $\frac{1}{4}$
- C. $\frac{1}{3}$
- D. $\frac{1}{2}$

【考点】比重计算

【答案】C

【解析】根据材料“2007 年存现业务的金额为 354222.26 亿元, 2007 年办理银行卡业务总额为 1114692.82 亿元”可知, 存现业务的金额约占银行卡业务总金额的 $354222.26 \div 1114692.82 \approx 35 \div 110$, 首位为 3, 排除 A、B、D。因此本题答案为 C 选项。

114. 2007 年, 在各项银行卡业务中, 金额增长幅度低于业务笔数增长幅度的是 ()

- A. 存现
- B. 取现
- C. 转账
- D. 消费

【考点】读数比较

【答案】D

【解析】根据第二段可知, 只有消费业务金额增长幅度 58.11%, 低于业务笔数增长幅度 64.36%。因此, 本题答案为 D 选项。

115. 以下关于 2007 年银行卡业务的说法正确的是 ()

- A. 转账业务的笔数比上一年翻了一番
- B. 每笔银行卡业务的平均金额超过了 1 万元
- C. 转账业务的金额是各银行卡业务中最高的



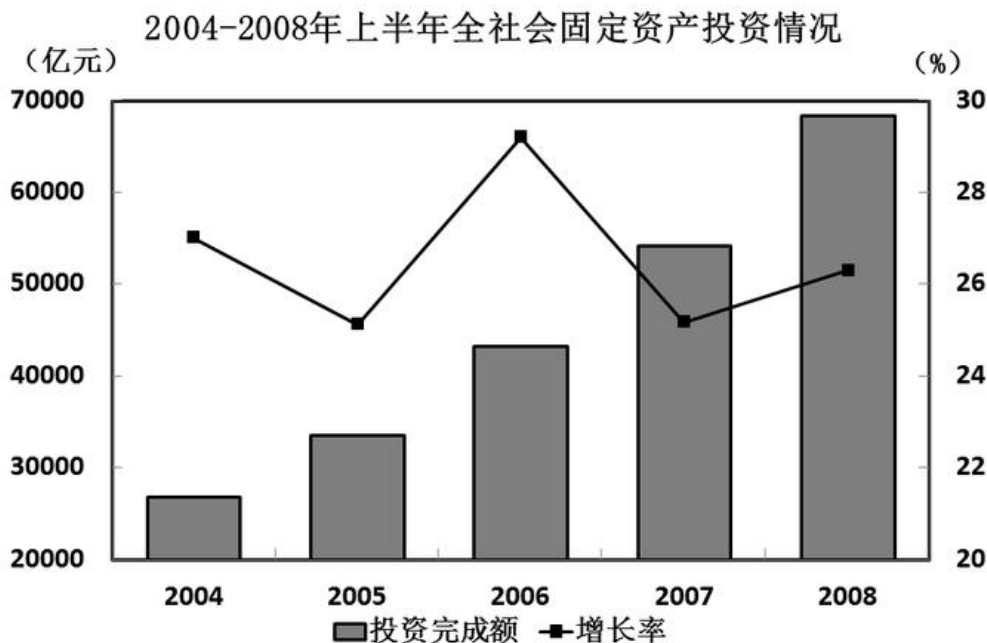
D. 取现业务的笔数不到银行卡业务总数的一半

【考点】综合分析

【答案】C

【解析】A 选项, 根据材料可知, 转账业务的笔数同比增长 24.7%, 没有实现翻番, 所以 A 选项错误; B 选项, 根据材料可知, 每笔银行卡的平均金额为 $1114692.82 \div 1361185.48 < 1$ (万元), B 选项错误; C 选项, 根据材料可知, 转账业务金额 (429030.88 亿元) 是各银行卡业务中最高的, C 选项正确; D 选项, 根据材料可知, 取现业务笔数为 696597.58, 银行卡业务总数的一半约为 $1361185.48 \div 2 \approx 680000+$, 所以取现业务的笔数应该超过了银行卡业务总数的一半, D 选项错误。因此, 本题的答案为 C 选项。

材料(四)



2008 年上半年, 全社会固定资产投资 68402 亿元, 同比增长 26.3%。其中, 城镇固定资产投资 58436 亿元, 同比增长 26.8%; 农村固定资产投资 9966 亿元, 同比增长 23.2%。在城镇投资中, 国有及国有控股投资 23554. 亿元, 同比增长 19.3%。从项目隶属关系看, 中央项目投资 5123 亿元, 同比增长 18. 9%; 地方项目投资 53313 亿元, 同比增长 27.6%。从产业看, 第一、二、三产业投资分别为 846 亿元、26322 亿元和 31269 亿元, 同比分别增长 69.5%、26.6%和 26.2%。在全社会投资中, 从行业看, 煤炭开采及洗选业投资 823 亿元, 同比增长 42.0%; 电力、热力的生产与供应业投资 3546 亿元, 同比增长 7.4%; 石油和天然气开采业投资 957 亿元, 同比增长 19.8%; 铁路运输业投资 809 亿元, 同比增长 20.4%; 非金属矿采选、制品业投资 1815 亿元, 同比增长 46.7%; 黑色金属矿采选、冶炼及压延加工业投资 1596 亿元, 同比增长 27.5%; 有色金属矿采选、冶炼及压延加工业投资 1012 亿元, 同比增长 39.2%。

116. 2004—2008 年上半年全社会固定资产投资同比增长率最高的年份是 ()

A. 2005 年

B. 2006 年



- C. 2007 年
- D. 2008 年

【考点】 读数比较

【答案】 B

【解析】 根据折线判断, 同比增长率最高的年份是 2006 年。因此, 本题答案为 B 选项。

117. 2007 年上半年, 全国城镇固定资产投资额为多少亿元 ()

- A. 46085
- B. 48296
- C. 54158
- D. 58436

【考点】 基期量计算

【答案】 A

【解析】 根据材料“2008 年上半年全国城镇固定资产投资额为 58436 亿元, 同比增长 26.8%”可知, 则 2007 年上半年全国城镇固定资产投资额约为 $58436 \div (1+26.8\%) < 60000 \div (1+25\%) = 60000 \times 0.8 = 48000$ (亿元), 观察选项, 只有 A 选项满足条件。因此, 本题答案为 A 选项。

118. 2008 年上半年投资同比增长额最高的行业是 ()

- A. 煤炭开采及洗选业
- B. 石油和天然气开采业
- C. 铁路运输业
- D. 非金属矿采选、制品业

【考点】 增长量大小比较

【答案】 D

【解析】 煤炭开采及洗选业投资 823 亿元, 同比增长 42.0%; 石油和天然气开采业投资 957 亿元, 同比增长 19.8%; 铁路运输业投资 809 亿元, 同比增长 20.4%; 非金属矿采选、制品业投资 1815 亿元, 同比增长 46.7%。由上述数据可以看出, 非金属采选、制品业同比增长率最高, 且投资额远高于其他行业, 故可确定非金属矿采选、制品业同比增长额最高。故正确答案为 D。

119. 2007 年上半年地方项目的投资额约为中央项目投资的多少倍 ()

- A. 8
- B. 10
- C. 12
- D. 14.

【考点】 倍数计算

【答案】 B

【解析】 根据材料可知, 2007 年上半年地方项目投资额为 $53313 \div (1+27.6\%)$, 中央项目投资额为 $5123 \div (1+18.9\%)$, 地方项目的投资额约为中央项目投资的

$$\frac{53313}{(1+27.6\%)} \div \frac{5123}{(1+18.9\%)} \approx \frac{53313}{5123} \times \frac{1189}{1276} \approx 10, \text{ 因此, 本题答案为 B 选项。}$$

120. 下列叙述与资料相符的是 ()

- A. 从产业看, 第一、二、三产业投资额基本相当



- B. 2007 年上半年, 黑色金属矿采选、冶炼及压延加工业总投资额超过 1000 亿元
- C. 2007 年上半年, 农村投资在全国总固定资产投资中的比重在 18% 至 20% 之间
- D. 从 2004—2008 年, 全社会固定资产投资同比增长率持续提高

【考点】综合分析

【答案】B

【解析】A 选项, 根据“从产业看, 第一、二、三产业投资分别为 846 亿元、26322 亿元和 31269 亿元, 同比分别增长 69.5%、26.6% 和 26.2%”可知, 第一、二、三产业投资额不相当, A 选项错误; B 选项, 根据材料可知, 2007 年上半年黑色金属矿采选、冶炼及压延加工业总投资额为 $1596 \div (1+27.5\%) > 1275 \div (1+27.5\%) = 1000$ (亿元), B 选项正确; C 选项, 根据材料可知, 2007 年上半年农村固定资产投资额为 $9966 \div (1+23.2\%)$, 全社会固定资产投资额 $68402 \div (1+26.3\%)$, 则农村投资在全国总固定资产投资中的比重约为 $\frac{9966}{68402} \times \frac{1263}{1232} < \frac{9966}{68402} < \frac{10000}{60000} = 16.7\%$, 所以农村投资在全国总固定资产投资中的比重不介于 18% 至 20% 之间, C 选项错误; D 选项, 根据折线判断, 2004—2008 年全社会固定资产投资同比增长率有升有降, D 选项错误。因此, 本题答案为 B 选项。