



2012 年安徽公务员考试

《行政职业能力测验》真题



扫描二维码, 关注厚职公考官方公众号获取更多真题和资料
厚职公考网 (www.houzhiwang.com) 整理提供



2012 年安徽公务员考试行测真题及答案解析

2012 年安徽公务员考试行测真题及答案 PDF 版下载 (答案解析请下载 PDF 版查看)

一、常识判断

1. 2011 年 12 月 12 日召开的中央经济工作会议提出, 2012 年我国经济工作总基调是()

- A. 稳中求进
B. 稳中求进
C. 又快又好
D. 又好又快

【答案】 B。

【考点】 常识判断—政治常识—时政热点

【解析】 2011 年中央经济工作会议于 12 月 14 日闭幕, 2012 年经济总体要求: 继续实施积极的财政政策和稳健的货币政策, 把握好稳中求进的工作总基调。因此, 本题答案为 B。

2. 根据我国“十二五”发展规划, 到 2015 年, 单位国内生产总值二氧化碳排放要降低 17%。实现这一目标最重要的是()

- A. 发展低碳经济
B. 转变经济发展方式
C. 改善生态环境
D. 保持经济快速发展

【答案】 B。

【考点】 常识判断—政治常识—时政热点

【解析】 2012 年 1 月 13 日, 国务院印发《“十二五”控制温室气体排放工作方案》。确定的总体要求是: 坚持以科学发展为主题, 以加快转变经济发展方式为主线, ……主要目标是: 大幅度降低单位国内生产总值二氧化碳排放, 到 2015 年全国单位国内生产总值二氧化碳排放比 2010 年下降 17%。因此, 本题答案为 B。

3. 安徽省第九次党代会提出, 要在“十二五”期间努力把安徽打造成“三个强省”, 下列不属于“三个强省”的是()

- A. 工业强省
B. 经济强省
C. 文化强省
D. 生态强省

【答案】 A。

【考点】 常识判断—政治常识—时政热点

【解析】 安徽省委书记张宝顺在中共安徽省第九次党代会上作报告时表示, 安徽未来五年将努力打造“三个强省”, 即加速崛起的经济强省、充满活力的文化强省、宜居宜业的生态强省, 加快建设美好安徽。因此, 本题答案为 A。

4. 社会主义和谐社会的核心价值是()

- A. 以人为本
B. 社会稳定
C. 诚实守信
D. 公平正义

【答案】 D。

【考点】 常识判断—政治常识—中国特色社会主义理论体系

【解析】 公平正义是和谐社会的基础, 是和谐社会的重要特征, 是贯穿于和谐社会各个层面的核心价值理念。没有公平正义, 民主法治就缺乏基础, 诚信友爱就缺乏保障, 社会就缺乏活力和安定。追求公平正义是人类发展进步的价值取向, 是现代社会进行制度安排和制度创新的重要依据, 是协调社会各个阶层相互关系的基本准则。可见, 社会主义和谐社会的



核心价值是公平正义。因此, 本题答案为 D。

5. 从长期来看, 经济增长的最主要推动力是 ()

- A. 资产积累
- B. 储蓄率提高
- C. 技术进步
- D. 人口红利

【答案】 C。

【考点】 常识判断—政治常识—中国特色社会主义理论体系

【解析】 本题考查经济知识。科学技术是第一生产力, 在当代生产力发展中起着决定性作用, 技术进步已成为推动经济增长的首要因素。因此, 本题答案为 C。

6. 当前, 我国扩大内需主要应着力扩大 ()

- A. 消费需求
- B. 投资需求
- C. 政府采购需求
- D. 出口需求

【答案】 A。

【考点】 常识判断—政治常识—时政热点

【解析】 2012 年中央政府工作报告第三部分“2012 年主要任务” (一) 促进经济平稳较快发展: “扩大内需特别是消费需求是我国经济长期平稳较快发展的根本立足点, 是今年工作的重点”。因此, 本题答案为 A

7. 用来衡量收入分配的不平等程度的指标是 ()

- A. 消费者价格指数
- B. 恩格尔系数
- C. 基尼系数
- D. GDP

折算系数

【答案】 C。

【考点】 常识判断—经济常识

【解析】 基尼系数, 或译坚尼系数, 是 20 世纪初意大利经济学家基尼, 根据劳伦茨曲线所定义的判断收入分配公平程度的指标, 是国际上用来综合考察居民内部收入分配差异状况的一个重要分析指标。因此, 本题答案为 C。

8. 某公司占据了家具制造业 70% 的市场份额, 其下列行为不属于滥用市场支配地位的是 ()

- A. 以不公平的高价销售沙发
- B. 没有正当理由, 以低于成本的价格销售衣橱
- C. 没有正当理由, 在销售写字台时搭售电脑桌
- D. 与第二大家具制造商协定提高木家具价格

【答案】 D。

【考点】 常识判断—经济常识

【解析】 《反垄断法》第 17 条, 禁止具有市场支配地位的经营者从事下列滥用市场支配地位的行为: (一) 以不公平的高价销售商品或者以不公平的低价购买商品; (二) 没有正当理由, 以低于成本的价格销售商品; …… (五) 没有正当理由搭售商品……因此, 本题答案为 D。

9. 下列哪项不属于公务员所享受的权利 ()

- A. 公务员非经所在地人民代表大会许可不受公安机关逮捕
- B. 非因法定事由、法定程序不被免职、降职, 辞退或处分



- C. 小李因个人原因向所在单位申请辞职
- D. 小王不满上级给予的处分, 提出申诉和控告

【答案】A。

【考点】常识判断—法律常识—行政法

【解析】《公务员法》第13条, 公务员享有下列权利: ……(二) 非因法定事由、非经法定程序, 不被免职、降职、辞退或者处分; ……(六) 提出申诉和控告; (七) 申请辞职……另外, A选项中的刑事豁免权, 是人大代表享有的权利, 即非经人民代表大会会议主席团许可, 人大闭会期间非经常务委员会许可, 不受逮捕或者刑事审判。因此, 本题答案为A。

10. 关于未成年保护法, 下列说法正确的是 ()
- A. 未成年人是指未满二十周岁的公民
 - B. 十四周岁以上不满十六周岁的未成年人犯罪的案件不可公开审理
 - C. 该法是义务教育法的制定依据
 - D. 该法由全国人大政协会议通过并颁布

【答案】B。

【考点】常识判断—法律常识—宪法

【解析】A选项说法错误: 《未成年人保护法》第2条, “本法所称未成年人是指未满十八周岁的公民”。B选项说法正确: 《刑事诉讼法》第152条, “人民法院审判第一审案件应当公开进行。……十四岁以上不满十六岁未成年人犯罪的案件, 一律不公开审理”。C选项说法错误: 《义务教育法》第1条, “……根据宪法和教育法, 制定本法”。D选项说法错误: 《未成年人保护法》由第十届全国人民代表大会常务委员会第二十五次会议修订通过, 自2007年6月1日起施行。因此, 本题答案为B。

11. 具体行政行为是指行政主体在行政管理活动中行使行政职权, 针对特定的相对人, 就特定的具体事项, 作出的能对相对人实体权利、义务产生直接影响的行为。以下不属于具体行政行为的是 ()

- A. 某县政府发布命令拆迁该县鼓楼街东西两侧30米内的房屋
- B. 某市住房和建设局与某建筑公司签订《住宅建设合同书》
- C. 某税务局向某公司送达《减免税批准通知书》
- D. 某工商局向公民甲颁发营业执照

【答案】B。

【考点】常识判断—法律常识—行政法

【解析】A选项县政府发布拆迁命令的行为属于行政处理中的行政命令行为, 要求相对人履行义务。B选项市住房和建设局与建筑公司是以平等的身份签订有关民事权利义务的合同, 不涉及行政职权的运用, 是民事行为。C选项税务局应某公司申请作出有关税务处理的决定, 属于行政处理行为。D选项工商局应公民甲的申请授予其营业的资格, 属于行政许可行为。因此, 本题答案为B。

12. 张某有甲、乙、丙三子, 张某去世后, 没有留下遗嘱。其在遗产处理前, 甲明确表示放弃继承, 乙明确表示要继承, 丙没有作出放弃或接受继承表示, 那么丙的行为视为 ()



- A. 放弃继承 B. 接受继承 C. 丧失继承权 D. 转继承

【答案】B。

【考点】常识判断—法律常识—民法与民事诉讼法

【解析】《继承法》第25条,“继承开始后,继承人放弃继承的,应当在遗产处理前,作出放弃继承的表示。没有表示的,视为接受继承”。本题中,丙为张某的继承人,没有表示,视为接受继承。因此,本题答案为B。

13. 关于知识产权,下列说法正确的是()

- A. 知识产权为权利人所专有,不能随意转让
B. 知识产权只是在特定国家领域内发生法律效力
C. 知识产权如无设定期限,则永久有效
D. 企业的注册商标不属于其知识产权

【答案】B。

【考点】常识判断—法律常识—民法与民事诉讼法

【解析】A选项说法错误:知识产权的独占性,即只有权利人才能享有,他人不经权利人许可不得行使其权利,但知识产权是可以转让的。B选项说法正确:知识产权的地域性,指任何一项知识产权,只有依一定地域内的法律才得以产生并在该地域内受到法律保护。C选项说法错误:知识产权的时间性,是指各国法律对知识产权分别规定了一定期限,期满后则权利自动终止。D选项说法错误:知识产权有两类:(1)版权,也称著作权、文学产权,(2)工业产权,也称产业产权,主要包括专利权与商标权。因此,本题答案为B。

14. 关于19世纪下半期和20世纪初的“唯意志论”,下列说法不正确的是()

- A. 代表人物是叔本华和尼采
B. 主要观点是“意志是宇宙的本体”
C. 先于马克思主义哲学产生
D. 受印度哲学和佛学影响较大

【答案】C。

【考点】常识判断—政治常识—哲学

【解析】马克思主义哲学产生于19世纪40年代,早于唯意志论。代表人物是叔本华和尼采,主张“意志是宇宙的主体”,ABD正确。C错误。

15. 关于《资治通鉴》,下列叙述不正确的是()

- A. 《资治通鉴》是中国第一部官修编年体通史,是“正史”的代表作,其成书规模仅次于《史记》
B. 《资治通鉴》书名的由来,是北宋神宗认为该书“鉴于往事,有资于治道”,而钦赐此名的
C. 《资治通鉴》全书294卷,共记载了16个朝代1362年的历史,历经19年编辑完成
D. 《资治通鉴》的内容以政治、军事和民族关系为主,兼及经济、文化和历史人物评价,编者总结出许多经验教训,供统治者借鉴,是一部名副其实的“皇家”参考资料



【答案】 A。

【考点】 常识判断—历史常识

【解析】 《资治通鉴》是北宋司马光和他的助手刘攽等人历时 19 年编纂的一部规模空前的编年体通史巨著, 比汉武帝时期司马迁创作的中国第一部纪传体通史《史记》规模大, 所以 A 选项说法错误。《资治通鉴》全书 294 卷, 记载中国 16 个朝代共 1362 年的历史; 其内容以政治、军事和民族关系为主, 兼及经济、文化和历史人物评价, 目的是通过对事关国家盛衰、民族兴亡的统治阶级政策的描述警示后人; 《资治通鉴》书名的由来, 就是宋神宗认为该书“鉴于往事, 有资于治道”, 所以 BCD 选项说法正确。因此, 本题答案为 A。

16. 清明节是我国民间重要的传统节日, 期间有很多民俗活动。下列不是清明节民俗活动的是 ()

- A. 祭祖 B. 植树 C. 登高 D. 踏青

【答案】 C。

【考点】 常识判断—人文常识

【解析】 清明节的起源, 据传始于古代帝王将相“基祭”之礼, 后来民间亦仿效, 于此日祭祖扫墓, 历代沿袭而成为中华民族一个固定的风俗, 所以 A 选项说法正确。清明前后, 春阳照临, 春雨飞洒, 种植树苗成活率高, 成长快, 所以, 自古以来中国就有清明植树的习惯, B 选项说法正确。四月清明, 春回大地, 自然界到处呈现一派生机勃勃的景象, 正是郊游的大好时光, 中国民间长期保持着清明踏青的习惯, 所以 D 选项说法正确。重阳节, 农历九月初九, 九是阳数, 故重九亦叫“重阳”, 民间在该日有登高的风俗, 所以重阳节又称“登高节”, 所以 C 选项说法错误。因此, 本题答案为 C

17. 以画虾著称的画家是 ()

- A. 齐白石 B. 徐悲鸿 C. 吴冠中 D. 张大千

【答案】 A。

【考点】 常识判断—人文常识

【解析】 齐白石画虾最享誉于世。因此, 本题答案为 A

18. 下列关于甲骨文的说法不正确的是 ()

- A. 甲骨文又称卜辞 B. 甲骨文反映了商王的活动
C. 甲骨文是中国汉字的萌芽 D. 甲骨文主要发现于河南安阳

【答案】 C。

【考点】 常识判断—人文常识

【解析】 中国的文字萌芽较早, 在新石器时代仰韶文化的陶器上, 就发现了各种刻划符号, 成为中国文字的雏形, 经过二三千年的孕育、发展, 到了商代, 中国的文字达到基本成熟阶段。甲骨文继承了陶文的造字方法, 是中国商代后期 (前 14~前 11 世纪) 王室用于占卜记事而刻 (或写) 在龟甲和兽骨上的文字。甲骨文是目前已知的中国最早成体系的文字。河南安阳是商王朝的都城, 甲骨文主要发现于河南安阳。因此, C 选项“甲骨文是中国汉字的萌芽”说法错误, 本题答案为 C

19. “修身、齐家、治国、平天下”出自于 ()

- A. 《论语》 B. 《孟子》 C. 《大学》 D. 《中庸》



【答案】C。

【考点】常识判断—人文常识

【解析】“修身、齐家、治国、平天下”出自《礼记·大学》。因此, 本题答案为 C

20. 下列关于老子的说法不正确的是 ()

- A. 《道德经》是其主要作品
- B. 主张“无为而治”
- C. 被道教尊称为道祖
- D. 接受并发展了庄子的哲学思想

【答案】D。

【考点】常识判断—人文常识

【解析】老子, (约公元前 571 年~公元前 471 年), 又称老聃、李耳, 是我国古代伟大的哲学家和思想家, 道家学派创始人, 庄子(约前 369—前 286), 晚于老子, 所以 D 选项说法错误。存世有《道德经》(又称《老子》), 所以 A 选项说法正确。其作品的精华是朴素的辩证法, 主张无为而治, 其学说对中国哲学发展具有深刻影响, 所以 B 选项说法正确。在道教中老子被尊为道祖, 所以 C 选项说法正确。因此, 本题答案为 D

21. 关于宋词, 下列说法不正确的是 ()

- A. “人比黄花瘦”是女词人代表李清照的名句
- B. “有井水即能歌柳词”说的是柳永
- C. “檣櫓灰飞烟灭”说的是官渡之战
- D. 辛弃疾是“豪放派”的代表词人之一

【答案】C。

【考点】常识判断—人文常识

【解析】“檣櫓灰飞烟灭”出自苏轼的《念奴娇·赤壁怀古》讲的是赤壁之战, 所以 C 选项说法错误。因此, 本题答案为 C。

22. 下列关于中国近代史上一些重大事件, 表述正确的是 ()

- A. 新文化运动兴起的标志是“新青年”杂志的创办
- B. 一二·九运动是中国共产党领导反对内战的学生爱国运动
- C. 新三民主义是第二次国共合作的政治思想基础
- D. 秋收起义是中国共产党独立领导武装斗争的开始

【答案】A。

【考点】常识判断—历史常识

【解析】A 选项说法正确: 《新青年》的创刊是新文化运动兴起的标志, 《敬告青年》一文则成为新文化运动的宣言书。B 选项说法错误: 1935 年的 12 月 9 日, 北平(北京)大中学生数千人在中国共产党的领导下举行了抗日救国示威游行, 反对华北自治, 反抗日本帝国主义, 掀起全国抗日救国新高潮, 史称“一二·九”运动。C 选项说法错误: 新三民主义是第一次国共合作的政治基础。D 选项说法错误: 八一南昌起义, 打响了武装反抗国民党反动派的第一枪, 揭开了中国共产党独立领导武装斗争和创建革命军队的序幕。因此, 本题答案为 A。

23. 关于美国《独立宣言》, 下列说法正确的是 ()

- A. 《独立宣言》是美洲十三个英属殖民地宣告脱离大不列颠王国, 并宣告独立的纲领



性文件

- B. 《独立宣言》批准之日即 7 月 4 日成为美国的独立纪念日
- C. 《独立宣言》是以著名的政治家本杰明·富兰克林为主起草的
- D. 《独立宣言》的中心思想是宣称天赋人权学说, 它深刻地阐述了资产阶级民主主义原则

【答案】B。

【考点】常识判断—历史常识

【解析】A 选项说法错误: 美国《独立宣言》是北美洲十三个英属殖民地宣告脱离大不列颠王国, 并宣告独立的纲领性文件。B 选项说法正确: 1776 年 7 月 4 日, 此宣言由第二次大陆会议在费城批准, 7 月 4 日从此以后成为美国独立纪念日。C 选项说法错误: 独立宣言是由托玛斯·杰斐逊为主起草。D 选项说法错误: 《独立宣言》的中心思想是宣布美国独立, 它深刻地阐述了资产阶级民主主义原则。因此, 本题答案为 B

24. 下列国际单位制对应不正确的一组是 ()

- A. 功率--瓦特
- B. 电流--福特
- C. 电阻--欧姆
- D. 频率--赫兹

【答案】B。

【考点】常识判断—科技常识

【解析】A 选项对应正确: 功率是指物体在单位时间内所做的功, 即功率是描述做功快慢的物理量。P 表示功率, 单位是“瓦特”, 简称“瓦”, 符号是“W” B 选项对应错误: 单位时间内通过导体横截面的电荷量, 叫电流, 通常用 I 代表电流, 单位是安培, 简称“安”。C 选项对应正确: 在物理学中, 用电阻来表示导体对电流阻碍作用的大小。导体的电阻通常用字母 R 表示, 电阻的单位是欧姆, 简称欧, 符号是 Ω 。D 选项对应正确: 频率, 是单位时间内完成振动的次数, 是描述振动物体往复运动频繁程度的量, 常用符号 f 或 ν 表示, 单位为秒⁻¹。为了纪念德国物理学家赫兹的贡献, 人们把频率的单位命名为赫兹, 简称“赫”。因此, 本题答案为 B。

25. 下列哪项不是生物多样性的组成部分之一? ()

- A. 遗传多样性
- B. 物种多样性
- C. 环境多样性
- D. 生态系统多样性

【答案】C。

【考点】常识判断—科技常识

【解析】生物多样性, 指一定范围内多种多样活的有机体(动物、植物、微生物)有规律地结合所构成稳定的生态综合体。这种多样包括动物、植物、微生物的物种多样性, 物种的遗传与变异的多样性及生态系统的多样性。不包括环境多样性。因此, 本题答案为 C

26. 赤潮现象主要原因是由什么引起的? ()

- A. 珊瑚虫
- B. 低气压
- C. 浮游生物
- D. 火山喷发

【答案】C。

【考点】常识判断—地理常识

【解析】赤潮是在特定的环境条件下, 海水中某些浮游植物、原生动物或细菌爆发性增



殖或高度聚集而引起水体变色的一种有害生态现象。另外, 赤潮是一个历史沿用名, 它并不一定都是红色。因此, 本题答案为 C

27. 将我国 (1) 第一高峰 (2) 第一大湖 (3) 第一大岛 (4) 第一大经济特区, 按从南到北的顺序排列, 依次是 ()

- A. (3) (2) (4) (1)
- B. (4) (3) (2) (1)
- C. (4) (3) (1) (2)
- D. (3) (4) (1) (2)

【答案】C。

【考点】常识判断—地理常识

【解析】珠穆朗玛峰, 位于中华人民共和国和尼泊尔交界的喜马拉雅山脉之上, 不仅是中国第一高峰, 也是世界第一高峰, 位于北纬 $27^{\circ} 59'$ 。青海湖, 中国最大的内陆湖, 位于北纬 $36.32\sim 37.12$ 。中国的第一大岛是台湾岛, 地处北纬 $20^{\circ} 45' 25''$ 至 $25^{\circ} 56' 30''$ 之间。目前中国有 6 大经济特区, 包括: 1980 年建立的深圳、珠海、汕头、厦门、1988 年建立的海南岛 (33920 平方公里, 当时中国最大的经济特区)、2010 建立的喀什 (111794 平方公里), 海南岛为中国一个省级行政区——海南省的主岛, 海南省简称琼, 位于中国最南端。因此, 从南到北顺序应为 (4) (3) (1) (2), 本题答案为 C

28. 下列关于河流的描述, 不正确的是 ()

- A. 尼罗河是干流流经国家数量最多的河流
- B. 伏尔加河是世界上最长的内流河
- C. 亚马逊河是世界上水量最丰沛的河流
- D. 湄公河的上流在中国境内被称为澜沧江

【答案】A。

【考点】常识判断—地理常识

【解析】A 选项说法错误: 干流流经最多的河流是多瑙河, 发源于德国西南部的黑林山的东坡, 自西向东流经奥地利、斯洛伐克、匈牙利、克罗地亚、塞尔维亚、保加利亚、罗马尼亚、乌克兰, 在乌克兰中南部注入黑海, 流经 9 个国家。B 选项说法正确: 伏尔加河, 又译窝瓦河, 是世界最长的内流河, 流入里海。C 选项说法正确: 亚马孙河, 又译“亚马逊河”, 位于南美洲, 是世界流量、流域最大的、支流最多的河流, 长度位居世界第二。D 选项说法正确: 湄公河上游在中国境内, 称为澜沧江, 下游三角洲在越南境内, 越南称之为九龙江。因此, 本题答案为 A

29. 下列关于气象和地质灾害的说法, 不正确的是 ()

- A. 火山喷发能引发地震, 形成矿产资源
- B. 泥石流的活动周期与暴雨、洪水的活动周期大体一致
- C. 沙尘天气形成和变化的主要因素是低层大气环流的变化
- D. 我国一般只在春夏季的长江淮河流域发生洪涝灾害

【答案】D。

【考点】常识判断—地理常识



【解析】A 选项说法正确: 火山喷发是地壳运动的一种表现形式, 也是地球内部热能在地表的一种最强烈的显示, 是岩浆等喷出物在短时间内从火山口向地表的释放, 火山喷发能喷出多种物质。由于火山作用, 如岩浆活动、气体爆炸等引起的地震称为火山地震。B 选项说法正确: 泥石流, 是指在山区或者其他沟谷深壑, 地形险峻的地区, 因为暴雨暴雪或其他自然灾害引发的山体滑坡并携带有大量泥沙以及石块的特殊洪流。C 选项说法正确: 沙尘天气和沙尘暴是近义词, 沙尘暴是沙暴和尘暴两者兼有的总称, 是指强风把地面大量沙尘物质吹起并卷入空中, 使空气特别混浊, 水平能见度小于一千米的严重风沙天气现象。D 选项说法错误: 我国洪涝灾害典型地区包括: 东北、黄河、长江中下游地区、淮河流域、珠江流域等。产生的原因有: 自然原因, 比如降水持续时间长, 降水集中, 例长江流域的梅雨天气; 夏季风的强弱变化, 如副高强-南早北涝, 副高弱-南涝北旱; 缺少天然的入海河道, 如淮河等。因此, 洪涝灾害并不一定只在春夏季的长江淮河流域发生, 本题答案为 D。

30. 地球是一个赤道两极部分比较凸出的扁球体, 而不是几何学中所说的正球体, 造成这种现象的主要原因是 ()

- A. 地球自身引力的结果
- B. 地球自转造成的
- C. 地球自身形成过程中造成的
- D. 太阳与其他行星引力的结果

【答案】B。

【考点】常识判断—地理常识

【解析】由于地球的自转, 除地轴以外, 地球上的质点都以地轴为中心做圆周运动, 因而都产生惯性离心力。惯性离心力可分解为两个分力, 一是垂直于地球表面的力, 一是水平分力, 水平分力均指向赤道, 因此地球上的物质有向赤道运动的趋势, 使地球由正球体变成扁球体。因此, 本题答案为 B

二、言语理解与表达

31. 母语的基本性质决定了母语高等教育的“培根固本”特征, 母语教育对于维系_____ , 传承优秀传统文化, 构筑心灵世界具有不可_____的作用。

填入划横线处最恰当的一项是 ()

- A. 民族风俗 低估
- B. 民族情感 轻视
- C. 文化认同 替代
- D. 文化精神 缺少

【答案】C。

【考点】言语理解与表达—逻辑填空—实词

【解析】文段语境信息“对于维系_____ , 传承优秀传统文化, 构筑心灵世界_____具有不可的作用”强调母语教育的重要性, 上文提到“母语高等教育的“培根固本”特征, 强调母语教育发挥作用的基础, 是唯一的, 是“不可替代的”作用。再看第一空, 文化认同是一种个体被群体的文化影响的感觉, 本国人民对自身文化的强烈认同, 既是该国自立于世界民族之林的伟大精神力量, 又使民族在激烈的国际竞争中立于不败之地。这一点需要具有“培根固本”特征的母语教育来维系, 不可替代, 符合文意。因此, 本题答案为 C 选项

32. 网络尤其是微博等传播渠道加快了信息传播的速度, 很多信息省去了求证环节就被_____发布了出去, 为流言的传播提供了便利。但是这些方便快捷的传播渠道, 也可以为传播权威信息所用, 公开透明的传播渠道本身也有_____功能, 也可以大大缩减流言的生



命期。

填入划横线处最恰当的一项是 ()

- A. 直接 自净
- B. 随意 反省
- C. 广泛 修正
- D. 轻松 过滤

【答案】A。

【考点】言语理解与表达—逻辑填空—实词

【解析】“省去了求证环节”强调本应进行求证,而现在信息却未经过这一环节即被发送出去,第一空填入“直接”合适;“自净”指本身在一定的环境之下恢复到原有的状态,根据语境信息“本身”及“大大缩减流言的生命期”可知,“公开透明的传播渠道本身也有自净功能”符合文意。因此,本题正确答案为A选项

33. 好的小说应该是可读性、艺术性和思想性的完美结合,比如大仲马的小说,之所以流行百年而不衰,就是因为有着_____的故事情节和高超的写作技巧以及深刻的思想内容。

填入划横线部分最恰当的一项是 ()

- A. 完美无瑕
- B. 津津有味
- C. 引人入胜
- D. 意犹未尽

【答案】C。

【考点】言语理解与表达—逻辑填空—成语

【解析】“引人入胜”意为吸引人进入美妙的境界,多用来指风景或艺术作品特别吸引人。与“故事情节”搭配恰当。故本题答案为C

34. 太空经济是指太空探索和开发活动创作的产品、服务等, _____通信、金融、医疗、国防等领域,以及新兴的太空旅游等服务。太空经济与科技,社会进步和产业发展具有很强的_____性,太空活动的各项技术往往都具备向其他行业转化的潜能。

填入划横线部分最恰当的一项是 ()

- A. 包括 对比
- B. 跨越 一致
- C. 涵盖 关联
- D. 涉及 互补

【答案】C。

【考点】言语理解与表达—逻辑填空—实词

【解析】第一空填入的词要与“领域”搭配,选项中能与“领域”搭配的只有“涵盖”和“涉及”,故排除A、B;从“太空活动的各项技术往往都具备向其他行业转化的潜能”一句可知,“社会进步和产业发展”之间应该是“相互关联或相互作用”的关系,而不是“互相补充”的关系,所以本题答案为C

35. 王国维读书治学的一个重要方法,就是对一个问题,总是先____地收集资料,然后____地予以分析,最后进行综合性的总结,从而达到对这一问题深刻的认识。

填入划横线处最恰当的一项是 ()

- A. 谨慎 抽丝剥茧
- B. 全面 独出心裁
- C. 广泛 条分缕析
- D. 仔细 分门别类

【答案】D。



【考点】言语理解与表达—逻辑填空—混合词

【解析】第一空, 横线处修饰“收集资料”, B项“全面”、C项“广泛”、D项“仔细”置于文中均可。A项“谨慎”更侧重于“慎重”, 不符合资料收集的特点, 排除。

第二空, 横线处修饰“分析”, 根据后文“最后进行综合性的总结”可知, 先对收集到的资料进行分类分析, 再进行总结。D项“分门别类”指把一些事物按照特性和特征分别归入各种门类, 符合文意, 当选。B项“独出心裁”泛指想出的办法与众不同, 文中没有王国维的方法与其他人不一样之意, 排除; C项“条分缕析”指分析得细密清楚而有条理, 与“分析”语义重复, 排除。

故正确答案为D。

【文段出处】《王国维读书与治学之路》

36. 对文艺精品的判断, 时间验证较之空间效应更为重要。遗憾的是, 当下某些人的创作是: _____ 急功近利, 注重眼前的实惠, 难耐寂寞, 对空间效应的追求远远大于对时间验证的关注, 因而作品中从生活到艺术都_____ “将来时态”和“未来意识”。

填入划横线处最恰当的一项是 ()

- A. 现象 需要
- B. 事实 欠缺
- C. 趋势 寻求
- D. 倾向 缺乏

【答案】D。

【考点】言语理解与表达—逻辑填空—实词

【解析】文段中冒号后的内容不是描述事情而是表达一种倾向, 故第一空填入“倾向”较合适; 由“对空间效应的追求远远大于对时间验证的关注”可知, 第二空应填“欠缺”或“缺乏”。故本题答案为D

37. 金砖国家的经济活力和发展前景令国际社会刮目相看, 但现阶段这些国家自身经济发展仍面临一些困难, 如经济结构不尽合理, 基础设施相对落后, 金融市场功能尚不完善, 地区发展差异明显等。解决好这些问题, 就要充分发挥金融的核心作用, 通过加强金融合作、探索合作机制、丰富合作内容、完善合作方式, 有效提高资源配置效率。

这段文字意在说明金砖国家 ()

- A. 迫切需要深化金融合作
- B. 自身经济发展面临困境
- C. 具有带动全球经济发展的潜力
- D. 目前以金融业为工作重点

【答案】A。

【考点】言语理解与表达—阅读理解—意图推断题

【解析】文段首句着重强调这些国家现阶段自身经济发展面临困境, 接着用“解决好这些问题”引导出对策, 即“要充分发挥金融的核心作用, 通过加强金融合作、探索合作机制、丰富合作内容、完善合作方式, 有效提高资源配置效率。”文段采用的是提出问题—分析问题—解决问题的总分总结构, 解决问题是重点, A项是对对策的同意替换。因此, 本题正确答案为A选项

38. 在法国人到达北美之前, 这片土地早已住着土著居民北美印第安人。据说他们的祖



先早在 3 万至 1 万年前便陆续通过亚洲东北角当时与北美仍接壤的地带 (即今白令海峡), 来到阿拉斯加和育空地区的非冻土地带居住下来, 有的继续向北美东南部扩散, 直到大西洋沿岸和南美尖端。一般认为, 这里最早的土著人属于亚洲的蒙古种族, 当时亚洲还处在石器时期, 这从当代加拿大发掘出来的石制器具和武器可以得到佐证。

这段文字中的“这里”具体指的是 ()

- A. 大西洋沿岸 B. 阿拉斯加 C. 加拿大 D. 美洲

【答案】D。

【考点】言语理解与表达—阅读理解—词句理解题

【解析】首先定位原文, “这里”出现在文段尾句, 指出这里最早的土著人属于亚洲的蒙古种族可以从当代加拿大发掘出来的石器得到证实, 并没有涉及“这里”的信息, 因此要从前文寻找答案。文段开头提到“北美”住着土著人, 接着提到“有的土著人来到阿拉斯加和育空地区的非冻土地带居住下来, 有的继续向北美东南部扩散, 直到大西洋沿岸和南美尖端”, 说明土著人在整个美洲都有过居住的记录, “这里”指的是“美洲”。因此, 本题正确答案为 D 选项。

39. 阅读同看电影、看录像、听音乐会会有很大不同。后者是一块巨大的生日蛋糕, 可以美味地共享; 而前者只是孤灯下的一盏清茶, 只可独啜, 仿佛倾听一个遥远的灵魂对你一个人窃窃私语, 他在不同的时间对不同的人说过同样的话, 但此时你感觉他只在为你而歌唱。

对这段文字概括最恰当的是 ()

- A. 在阅读中最能体验孤独的滋味
B. 阅读的收获难以与人分享
C. 阅读的乐趣来源于内心的体会
D. 阅读的魅力需独自品味

【答案】D。

【考点】言语理解与表达—阅读理解—中心主旨题

【解析】文段首先指出阅读与看电影、看录像、听音乐会不同, 下文针对二者进行了对比, 强调阅读“只可独啜”, D 项正是此意。因此, 本题正确答案为 D 选项

40. (1) 进行良好的时间管理, 同样需要这些品质

(2) 把握好间隔和规律正是时间管理的内容

(3) 当鸡蛋越来越多, 情况越来越糟的时候, 你要有能力控制局面

(4) 进行时间管理, 就好像抛鸡蛋

(5) 要做好抛鸡蛋的动作, 需要耐心、毅力、练习和计划

(6) 你要不停地把手中的一只鸡蛋换成另一只, 还要保持所有的鸡蛋都不落到地上
将以上 6 个句子重新排序, 语序正确的是 ()

- A. (2) (4) (3) (6) (5) (1)
B. (5) (1) (6) (4) (3) (2)
C. (2) (4) (5) (6) (1) (3)
D. (4) (6) (5) (1) (3) (2)



【答案】D。

【考点】言语理解与表达—阅读理解—语句排序题

【解析】首先观察四个选项的分布, 根据少数服从多数原则, 初定(2)为首句, 而观察四个选项的尾句可看出(2)同样是多数项, 因此需要根据首尾句的特点来判断(2)适合做句首还是句尾。观察(2)“正是”属于结论性的表述, 不适合做首句, 排除AC选项; 对比(5)和(4), (4)将时间管理比喻为抛鸡蛋的话题, (5)则是对如何做好抛鸡蛋动作的具体描述, 因此(4)应在(5)前。故初定选项为D。将D项进行关联性验证, 先由(4)引出时间管理像抛鸡蛋的话题, (6)对抛鸡蛋动作进行描述, (5)提出要做好抛鸡蛋这个动作需要具备三种品质, (1)指出良好的时间管理同样需要具备这三种品质, 这是(3)中面对糟糕局面进行控制的能力, (2)进行总结。通过验证可知D正确, 因此正确答案为D选项

41. 毋庸置疑, 晚清以来中国遭逢千百年未遇之大变局, 被强行纳入世界资本主义体系当中, 从世界中心沦为所谓边缘的“远东”, 在世界历史和文化上一再缺席, 遭遇了深刻的文化身份危机, 不断被误读、曲解和妖魔化。正是在这一历史语境中, 发现东方与文化输出就显得越发重要和紧迫。

这段文字中的“历史语境”是指()

- A. 中国被西方列强边缘化
- B. 晚清中国所遭遇的历史大变局
- C. 中国融入资本主义体系的时机
- D. 对中国文化的误读、曲解和妖魔化

【答案】D。

【考点】言语理解与表达—阅读理解—词句理解题

【解析】阅读文段可知晚清时期中国“遭遇深刻的文化身份危机, 不断被误读、曲解和妖魔化”, 紧接着就提出“这一历史语境”。根据就近原则以及后文所说的“文化输出越发紧迫和重要”可知, “历史语境”指的就是对中国文化的误读、曲解和妖魔化。因此, 本题正确答案为D选项

42. 一个民族、一个国家, 只有保护和重视自己的传统文化才能生存而不被别的国家和民族所同化。关注中国传统文化就是关注中国的未来。越尊重传统文化, 越能更好的开放。传统文化的根扎得越深, 吸收外国文化的能力就越强。

与上文表达的意义不符合的选项是()

- A. 重视传统文化是一个国家和民族生存发展的基础
- B. 重视传统文化才能最大限度地保持文化的独立性
- C. 重视传统文化才能强化文化的同化能力
- D. 重视传统文化就能够更好吸收其他国家的文化

【答案】C。

【考点】言语理解与表达—阅读理解—细节理解题

【解析】文段开头就指出“只有保护和重视传统文化才能生存而不被别的国家和民族所同化”, 即重视传统文化是一个国家和民族生存发展的基础, A选项符合文意; “不被同化”



可理解为“保持文化的独立性”, B 选项符合文意; C 选项曲解文意, 重视传统文化是为了不被别的国家同化, 而不是强化文化的同化能力, 不符合文意; 文段尾句“传统文化的根扎得越深, 吸收外国文化的能力就越强”可知 D 选项符合文意。因此, 本题正确答案为 C 选项

43. 作为一个古老的复兴的东方大国, 对西方来说, 中国很神秘, 就像当年马可·波罗到中国以后的描写: 遍地是黄金, 到处是白银。西方人看了游记, 只是觉得中国很富有, 但到底怎么富有, 就只有靠想象了。现在, 西方看中国, 真实的成份有, 想象的成份也不少。

这段文字主要说明了 ()

- A. 西方人对中国的认识与实际仍存在偏差
- B. 西方对中国的了解还停留在马可·波罗时期
- C. 马可·波罗的描述构成了西方人认识中国的基础
- D. 中国的快速发展使西方出现认识上的严重滞后

【答案】A。

【考点】言语理解与表达—阅读理解—中心主旨题

【解析】文段先说“对西方来说, 中国很神秘”, 进而举出马可波罗描写中国的例子, 目的是论证文段最后一句“现在, 西方看中国, 真实的成分有, 想象的成分也不少”, 可见最后一句为文段的主旨句。A 选项为该句的同义替换。因此, 本题选择 A 项

44. 从经济学角度看, 基本问题有两个: 一是激励机制问题, 二是协调问题。归根到底, 制度是用来解决这两个问题的。无论用什么方法, 只要能解决就是好的制度。所以世界上并不存在一种标准的制度, 当人们脱离这些基本问题, 简单地套用某些概念的时候, 就套出毛病来了。

这段文字意在说明 ()

- A. 解决激励机制与协调问题的重要性
- B. 如何运用经济学原理评价一种制度
- C. 如何运用经济学原理解决实际问题
- D. 制定制度的根本目的与评价标准

【答案】D。

【考点】言语理解与表达—阅读理解—意图推断题

【解析】文段的前后两部分属并列关系。前半部分, 作者说“归根结底, 制度是用来解决这两个问题的”, 意在说明制定制度的根本目的是解决激励机制问题和协调问题。后半部分, 作者用“只要能解决就是好的制度”、“并不存在一种标准的制度”, 并运用反面论证, 阐明了制度的评价标准。因此 D 选项为正确答案

45. 我在接触历史之前, 想象大部分领域都已经被人耕耘过了, 后来发现并非如此。即使是被大家炒得很热的人物, 你仔细去研究已有的研究成果, 和一些相关的史料做对比, 就会发现, 几乎每一个人、每一段历史, 都有被历史学家疏忽的地方, 有大量的空白存在。

对这段文字的观点概括最准确的是 ()

- A. 人们对历史的认识存在误区
- B. 历史研究依然大有可为



- C. 目前的历史研究成果较为有限
- D. 亟需加强历史研究方法的探讨

【答案】B。

【考点】言语理解与表达—阅读理解—中心主旨题

【解析】文段首先指出自己的想象并不正确,接着具体解释“并非如此”的具体意思,即“几乎每一个人、每一段历史,都有大量的空白存在”,也就是说历史研究依然大有可为。

B选项正确

46. 根据世界银行的统计报告,发达国家的最终消费支出占 GDP 的比例一般在 80%左右,发展中国家一般在 70%以上。近 30 年来,由于我国经济增长较快,投资率较高,消费率呈现出稳步下降的趋势,最终消费支出占 GDP 的比例大约在 55%—65%之间波动。2001 年至今,消费率则一直保持在 60%以下。国民消费在国民经济中所占比重大大低于国际平均水平。

从这段话中可以推断出,我国的消费政策应调整为 ()

- A. 维持现有的国民消费水平,使国民经济发展保持一定的后劲
- B. 进一步提高国民消费水平,保持国民经济平稳较快发展
- C. 继续发扬艰苦奋斗的优良传统,努力促使消费水平稳步下降
- D. 积极提倡超前消费,力争超越发达国家 80%的消费指标

【答案】B。

【考点】细节理解

【解析】文段的结构为“分—总”式。前面列举数字的方式比较我国和发达国家、发展中国家最终消费支出率差别,文段最后一句得出结论,即“国民消费在国民经济中所占比重大大低于国际平均水平”。因此从结论句可以推断出,作者认为我国应当提高国民消费水平, B 选项正确

47. 某市出台限购令后,不少网友表示支持该市限购令出台,并希望该市房价在限购令的影响下能有所下降。从搜房网调查结果来看,限购令出台一个月后,近 7 成网友对该市限购令表示不满意,他们认为在这一个月期间的调控效果一般,没有预想中的那么给力。

这段话的主要内容是 ()

- A. 搜房网对某市限购令出台后效果的调查
- B. 网友对某市限购令的看法
- C. 某市限购令出台后的效果
- D. 某市出台限购令

【答案】B。

【考点】言语理解与表达—阅读理解—中心主旨题

【解析】第一句意思是网友对限购令的态度是支持,第二句表达的意思是根据搜房网的调查,网友对限购令的效果不满意,对前后文进行概括,可知文段旨在说明网友对限购令的看法。故本题答案为 B

48. 企业家舆论形象会对所代表的企业产生直接的影响,而在企业舆情事件中,企业家的言论与举措会受到媒体和网民最为集中的关注。企业舆情应对中,积极的态度是缓解负面



舆论的最大助力。企业家在舆情应对上总体表现良好, 但是也有企业家应对不当, 导致负面舆情扩大, 有损个人和企业声誉。

这句话的重点阐述对象是 ()

- A. 企业家舆论形象
- B. 企业舆情事件
- C. 企业舆情应对
- D. 企业家舆情应对

【答案】D。

【考点】言语理解与表达—阅读理解—中心主旨题

【解析】文段用转折词“而”引出讨论的主体“企业家”, 下文提到“在企业舆情事件中, 企业家的言行……”、“企业家舆情应对中, 积极的态度……”、“企业家在舆情应对上的表现”, 都是围绕“企业家舆情应对”展开的, 因此重点阐述对象应为“企业家舆情应对”。故本题答案为D。

49. 现在人们闻之色变的沙尘暴, 即由于强烈的风将大量沙尘卷起, 造成空气浑浊, 能见度小于1000米的风沙天气现象, 实际古已有之。它本是雕塑大地外貌的自然力之一, 是大自然的一项工程, 并且在全球生态平衡中占有一席之地。

关于沙尘暴的解释, 最准确的一项是 ()

- A. 沙尘暴是雕塑大地外貌的自然力之一, 是大自然保持全球生态平衡的一项工程
- B. 沙尘暴是由于风将大量的沙尘卷起, 使空气浑浊, 能见度小于千米的风沙天气现象
- C. 沙尘暴这种天气是一种自然力的表现, 与人类活动无关
- D. 沙尘暴就是在人类因素的干扰下产生的

【答案】B。

【考点】言语理解与表达—阅读理解—细节理解题

【解析】文段首句中用“即”引导的语句对沙尘暴进行了具体解释说明, B选项为文段中的原句, 故本题答案为B。

50. 唾液内含有的免疫球蛋白A原本发挥的是抗菌作用, 英国拉夫巴勒大学研究人员发现唾液中这一蛋白的数量与人体免疫力呈正相关。他们花费了三年多时间, 对38位参加过美洲杯帆船赛的赛手进行了测试, 观察到大约有四分之三的赛手在患上感冒前的两周时, 尽管当时感觉良好, 但唾液中免疫球蛋白A水平已经急剧下降。英国的研究人员对唾液进行的此项研究, 其意义在于 ()

A. 揭示了通过检测唾液内含有的免疫球蛋白A数量, 人们可以判断自身的免疫力状况, 在免疫力低下时及时采取措施, 以防疾病袭扰

B. 明确了唾液中免疫球蛋白A的数量越高, 则人体免疫力越强, 这是因为免疫球蛋白A在发挥作用

C. 发现了感冒的潜伏期为两周, 在此期间, 唾液中免疫球蛋白A水平已经急剧下降, 而人们不会有免疫力下降的感觉

D. 颠覆了人们对唾液内含有的免疫球蛋白A的抗菌作用的认识

【答案】A。



【考点】言语理解与表达—阅读理解—意图推断题

【解析】英国研究人员的研究发现人在感冒时, 唾液中的免疫球蛋白 A 水平急剧下降。这一发现让我们知道唾液除了有抗菌作用外, 还能预测免疫力状况, 提前预防疾病。故本题答案为 A

51. 从蜻蜓低飞预测天气, 到蟾蜍搬家预测地震, 中国古代民间积累了不少的经验。这些经验经过一代人口口相传, 时至今日, 在民间——也包括今天的网络上来看, 依旧有不低的信任度。而现代地震研究, 强调的则是数据和概率。在古代对于某一地区的准确预报, 放在今天信息汇集和横向对比、统计来看, 则不再有普遍适用的意义。

对于中国古代民间积累的地震预报的经验, 作者认为它 ()

- A. 是在老百姓中传承多年的民间智慧的结晶, 具有相当的可信度
- B. 与重视数据和概率的现代地震研究背道而驰, 不可信
- C. 具有偶然性, 不能作为地震预报的依据
- D. 可以在现代地震研究中得到有效利用

【答案】C。

【考点】言语理解与表达—阅读理解—观点态度题

【解析】作者用转折连词“而”引出自己的观点, 即“现代地震研究强调的则是数据和概率”, “在古代对于某一地区的准确预报, 放在今天则不再有普遍适用的意义”。该句属于作者的明确观点, 而 C 选项是对此观点的同义替换, 因此本题答案为 C。

52. 一棵树上的苹果熟了。因为太高, 踮起脚都够不着, 只好搬来木梯, 就在我伸手欲摘的一瞬, 苹果突然落了下来, 摔在地上, 成了一团果泥。这便是生活中所谓的无奈——眼看到手, 却又失去。但不算白费力, 至少, 我知道了这只苹果不属于我。如果这时从木梯上下来, 再去摘其他树上的也不算晚。

这个故事给我们最重要的启示是 ()

- A. 在现实生活中要善于发现机会、抓住机会
- B. 在生活中不要气馁、不要迷失自己, 要不断努力、不断追求
- C. 在遇到任何事情的时候要保持一个平常心, 要学会泰然处之
- D. 生命中任何一次探索, 都是一次成功的经验的积累

【答案】D。

【考点】言语理解与表达—阅读理解—意图推断题

【解析】文段开始讲述了一个小故事, 随后阐发了故事引发的感想: 虽然摘苹果没摘到, 但“不算白费力气”, 这让我“知道了这只苹果不属于我”, “再去摘其他树上的也不算晚”, 不难看出, 作者是想通过“摘苹果”的故事阐明一个道理: 生命中的任何一次探索, 都不是白费力气, 都有意义, 都是一次成功的经验的积累。故本题答案为 D。

53. 如果说在小说观念上, 从真实到虚构是一条必然之路, 中国的小说家们也在这条必然之路上, 自觉不自觉地朝背离历史叙事的方向走去。同时, 从话本的兴起兴盛, 再到拟话本、短篇小说、长篇小说, 中国的小说家汲取各种语言文字形式的养分, 也在从话本的语言文字传统逐步演进的道路上朝着背离文言传统的方向走去。

上面这段话中谈及到中国小说家的两个“背离”, 下列对“背离”的涵义解说不正确的



一项是 ()

- A. 摆脱了像《三国演义》、《水浒传》那样的以历史故事为题材的叙事模式
- B. 背离了虽然典雅、精美, 但缺乏浅易、通俗特点的文言叙述方式
- C. 汲取各种语言文字形式的养分, 使小说创作的语言更加丰富多彩
- D. 抛弃了中国小说的传统创作方法, 完全走向背离传统的另一条创作之路

【答案】D。

【考点】言语理解与表达—阅读理解—词句理解题

【解析】文段中提到的中国小说家的两个“背离”, 一是“背离历史叙事”, 一是“背离文言传统”。D项中“背离传统”与文段中“背离”的两个涵义不符, 且用“完全”过于绝对化, 故本题答案为D

54. “Core Competence”通行的中文翻译是“核心竞争力”, 但它的准确译法应该是“核心能力”。所谓“核心能力”, 不是公司独有的某种技术或工艺, 也不是公司内部某个人或某个部门的能力, 而是指公司整合不同的生产技能和技术后形成的一种综合能力, 是公司集体学习、运作的结果。核心能力是内在的、无形的、本源性的, 它难以被竞争对手所复制。一个公司凭借核心能力才能持续为客户提供独特的价值和利益, 才能不断催生新产品, 开辟新市场。

下列对“核心能力”的理解, 最符合文意的一项是 ()

- A. 核心能力是一种综合能力, 它的形成不可能一蹴而就
- B. 核心能力不是指个人能力, 而是指公司独有的技术
- C. 核心能力被竞争对手复制的可能性很大
- D. 核心能力与顾客所看重的价值和利益无关

【答案】A。

【考点】言语理解与表达—阅读理解—词句理解题

【解析】A选项, 前半句“核心能力是一种综合能力”是原文“所谓‘核心能力’, 不是……而是指公司整合不同的生产技能和技术后形成的一种综合能力”一句的精简压缩, 后半句“它的形成不可能一蹴而就”是原文“是公司集体学习、运作的结果”的同义替换, 因此符合文意。故本题答案为A

55. 不必回避世界遗产的经济价值, 但世界遗产首先是世界上独一无二的珍贵资源, 不能视同普通经济资源来开发利用; 同时世界遗产是必须妥善保护的资源, 脆弱、易损, 具有不可再生性, 一旦破坏就会造成不可逆转的损失, 在保护与开发利用之间, 无疑应以保护为主。再者, 世界遗产是全体人民共有的资源, 绝不仅仅属于遗产所在地, 更不能作为利益集团的独有经济资源而被随意当成摇钱树。世界遗产还属于代际资源, 在利用上要体现代际公平, 我们负有将其完整的传给子孙后代的重大责任, 要可持续利用。

对这段文字的主旨概括最准确的是 ()

- A. 世界遗产重在保护而非开发
- B. 世界遗产的保护意识有待加强
- C. 世界遗产是全人类共有的财富
- D. 世界遗产是不可再生的珍贵资源



【答案】 A。

【考点】 言语理解与表达—阅读理解—中心主旨题

【解析】 文段是以分号引导的并列结构, 论述了四个层次的内容, “首先是世界上独一无二的珍贵资源”, “同时世界遗产脆弱、易损, 具有不可再生性, 一旦破坏就会造成不可逆转的损失”, “再者世界遗产是全体人民共有的资源”, “世界遗产还属于代际资源”。将四个层次内容全面概括, 即相比开发应更注重世界遗产的保护。因此本题选择 A 选项。

三、数量关系

56. 计算 $110.1^2+1210.3^2+1220.4^2+1260.8^2$ 的值为 ()

- A. 4555940.8 B. 4555940.9 C. 4555941.18 D. 4555940.29

【答案】 B。

【考点】 数量关系—数学运算—基础运算问题

【解析】 多位数的和、差、积的尾数必然与多位数末 n 位数的和、差、积的尾数相同, 因此当选项尾数不同时, 只要计算算式中数字的末一位或两位尾数即可。观察本题选项, 有选项尾数相同, 因此需要取两位尾数。所以原式计算所得尾数 $0.01+0.09+0.16+0.64=0.90$ 。因此, 本题答案为 B 选项。

57. $13\frac{4}{19} + 86\frac{15}{19} \times 0.25 + 86\frac{15}{19} \times 0.625 + 86\frac{15}{19} \times 0.125$

- A. 98 B. 99 C. 100 D. 101

【答案】 C。

【考点】 数量关系—数学运算—基础运算问题

【解析】 简单计算。本题答案为 C 选项。

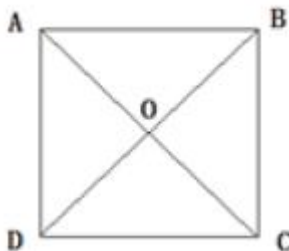
58. 以正方形的 4 个顶点和中心点中的任意三点为顶点可以构成几种面积不等的三角形? ()

- A. 1 B. 2 C. 3 D. 4

【答案】 B。

【考点】 数量关系—数学运算—几何问题

【解析】 解法一: 假定正方形的边长为 1, 则由正方形的四个顶点和中心点中任取三点所构成的三角形面积可能为和, 即有两种可能, 因此, 本题答案为 B 选项。解法二: 如下图, 分类讨论。若构成三角形的三个点中不含中心点 O, 构成的三角形面积只有一种情况; 若包含中心点 O, 构成的三角形面积也只有一种情况。一共有两种情况, 因此, 本题答案为 B 选项。



59. 两个圆柱形水井, 甲井的水深是乙井的一半, 水面直径是乙井的 2 倍, 蓄水量为



40 立方米, 问乙井的蓄水量为多少立方米? ()

- A. 20 B. 40 C. 60 D. 80

【答案】A。

【考点】数量关系—数学运算—几何问题

【解析】圆柱体的体积=底面积×高。根据几何特性“直径扩大为 n 倍, 面积扩大为 n² 倍”可知甲的底面积是乙的 4 倍; 甲的高是乙的一半, 由此甲的体积是乙的 2 倍。甲是 40, 那么乙的蓄水量应该是 20。因此, 本题答案为 A 选项。

60. 将 25 台笔记本电脑奖励给不同的单位, 每个单位奖励的电脑数量均不等, 最多可以奖励几个单位? () A. 5 B. 6 C. 7
D. 8

【答案】B。

【考点】数量关系—数学运算—至多至少问题

【解析】要使奖励的单位最多, 就要使每个单位奖励的电脑数尽量少。又由于各单位分得电脑数量均不等, 每单位分得电脑数从小到大可以构造为等差数列 1、2、3……n。根据等差数列的求和公式, $\frac{n(n+1)}{2} \leq 25$, 解得 n=6, 因此最多可分得 6 个单位。因此, 本题答案为 B 选项。

61. 某数加上 5 再乘以 5 再减去 5 在除以 5 结果还是 5, 这个数是多少? ()

- A. 1 B. -1 C. 5 D. -5

【答案】B。

【考点】数量关系—数学运算—基础运算问题

【解析】解法一: 可以代入四个选项, 发现只有 B 符合题意; 解法二: 逆推法, 原题相当于一个数等于 5 乘以 5 加上 5 再除以 5 再减去 5, 等于 1。因此, 本题答案为 B 选项。

62. 在某状态下, 将 28g 某种溶质放入 99g 水中恰好配成饱和溶液, 从中取出 1/4 溶液加入 4g 溶质和 11g 水, 请问此时浓度变为多少? ()

- A. 21.61% B. 22.05% C. 23.53% D. 24.15%

【答案】B。

【考点】数量关系—数学运算—基础运算问题

【解析】判断溶液的浓度, 首先要判断溶液是否饱和。由于 99 克水最多可溶解 28 克溶质, 则 11 克水最多可溶解 28/9 克溶质, 小于 4 克溶质, 因此饱和溶液加入 4 克溶质和 11 克水为仍为饱和溶液, 浓度不变且=28/(28+99), 观察选项第二位不同, 采用直除法可得第二位商为 2。因此, 本题答案为 B 选项。

63. 现在是下午三点半, 那么 20 万秒之后你能听到的第一声整点报时是几点钟的? ()

- A. 凌晨 0 点 B. 凌晨 4 点 C. 下午 2 点 D. 下午 6 点

【答案】A。

【考点】数量关系—数学运算—时间问题

【解析】1 小时等于 3600 秒, 200000 除以 3600 商 55 余 2000 秒, 可以将余数 2000 秒加到三点半, 时间的起点变为 16 点多 200 秒。一天 24 个小时, 55 个小时后是 16 点 200 秒 +7=23 点 200 秒, 所以第一声整点报时为凌晨 0 点。因此, 本题答案为 A 选项。



64. 一支 600 米长的队伍行军, 队尾的通讯员要与最前面的连长联系, 他用 3 分钟跑步追上了连长, 又在队伍休息的时间以同样的速度跑回了队尾, 用了 2 分 24 秒, 如队伍和通讯员均匀速前进, 则通讯员在行军时从最前面跑步回到队尾需要多长时间? ()

- A. 48 秒 B. 1 分钟 C. 1 分 48 秒 D. 2 分钟

【答案】D。

【考点】数量关系—数学运算—行程问题

【解析】设通讯员的速度为 V_1 , 队伍的速度为 V_2 , 2 分 24 秒是 2.4 分, 由题意列方程有:
$$\begin{cases} 600 = (V_1 - V_2) \times 3 \\ 600 = V_1 \times 2.4 \end{cases}$$
 解得 $V_1=250, V_2=50$ 。可得行军时通讯员从队首到队尾需要的时间:

$$\text{间} = \frac{600}{V_1 + V_2} = 2, \text{ 因此, 本题答案为 D 选项。}$$

65. 一件商品相继两次分别按折扣率为 10% 和 20% 进行折扣, 已知折扣后的售价为 540 元, 那么折扣前的售价为 ()

- A. 600 元 B. 680 元 C. 720 元 D. 750 元

【答案】利润率折扣类

【考点】D。

【解析】设售价为 $X, X \times 0.9 \times 0.8 = 540$, 解得 $X=750$, 因此, 本题答案为 D 选项。

66. 社区活动中心有 40 名会员, 全部由老人和儿童组成。第一次社区活动组织全体老年会员参加, 第二次活动组织全体女性成员参加。结果共有 12 人两次活动全部参加, 6 人两次活动全未参加。已知老人与儿童的男女比例相同, 且老人数量多于儿童, 问社区活动中心的会员中, 老人, 儿童各多少名? ()

- A. 30/10 B. 18/22 C. 28/12 D. 25/15

【答案】一元一次方程

【考点】A。

【解析】设老人中男性有 X 人, 则儿童中的女性人数为 $40 - 6 - 12 - X = 22 - X$, 根据题意可得到下表:

	老人	儿童
女	12	$22 - X$
男	X	6

老人与儿童比例相同, 因此 $\frac{12}{X} = \frac{22 - X}{6}$, 解得 $X=18$, 所以老人共有 $12+18=30$ 人。因此, 本题答案为 A。

67. 工作人员做成一个长 60 厘米, 宽 40 厘米, 高 22 厘米的箱子, 因丈量错误, 长和宽均比设计尺寸多了 2 厘米, 而高比设计尺寸少了 3 厘米, 那么该箱子的表面积与设计时的表面积相差多少平方厘米? ()



- A. 4 B. 20 C. 8 D. 40

【答案】面积计算

【考点】C。

【解析】根据题意原设计的箱子的表面积为 $2 \times (58 \times 38 + 38 \times 25 + 58 \times 25)$, 加工后的箱子表面积为 $2 \times (60 \times 40 + 60 \times 22 + 40 \times 22)$ 。两者之差 $= 2 \times (58 \times 38 + 38 \times 25 + 58 \times 25) - 2 \times (60 \times 40 + 60 \times 22 + 40 \times 22) = 8$, 因此, 本题答案为 C 选项。

68. 如图, 街道 xyz 在 Y 处拐弯, XY=1125 米, YZ=855 米, 在街道一侧等距装路灯, 要求 X,Y,Z 处各装一盏路灯, 这条街道最少要安装多少盏路灯? ()

- A. 47 B. 46 C. 45 D. 44



【答案】植树问题

【考点】C。

【解析】单边植树的棵树 $= \frac{\text{距离}}{\text{间距}} + 1$, 间距最大即是 1125 和 855 的最大公约数为 45, 需

要安装路灯 $\frac{1125 + 855}{45} + 1 = 45$ 盏, 因此, 本题答案为 C。

69. A、B、C、D 四人去羽毛球馆打球, A 每隔 5 天去一次, B 每隔 11 天去一次, C 每隔 17 天去一次, D 每隔 29 天去一次, 5 月 18 日, 四个人恰好在羽毛球馆相遇, 则下一次相遇时间为? ()

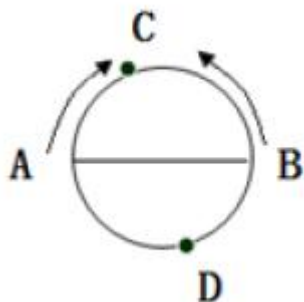
- A. 9 月 18 日 B. 10 月 14 日 C. 11 月 14 日 D. 12 月 18 日

【答案】日期推断类

【考点】C。

【解析】根据题意, A、B、C、D 分别每 5、11、17、29 天去一次羽毛球馆, 用短除法求得这四个数的最小公倍数为 180。若每月 30 天, 180 天是 6 个月, 应是 11 月 18 日, 但 5、7、8、10 有 31 天, 可知为 11 月 14 日。因此, 本题选 C。

70. 如下图所示, AB 两点是圆形体育场直径的两端, 两人从 AB 点同时出发, 沿环形跑道相向匀速而行, 他们在距 A 点弧形距离 80 米处的 C 点第一次相遇, 接着又在距 B 点弧形距离 60 米处的 D 点第二次相遇, 问这个圆形体育场的周长是多少米? ()



- A. 240 B. 300 C. 360 D. 420

【答案】相遇追及问题

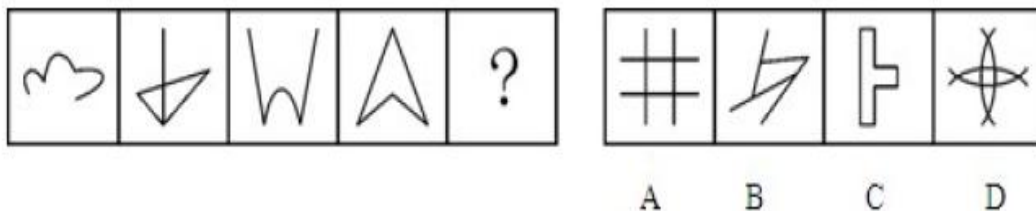
【考点】C。

【解析】通过画图可以看出, 两人在 C 点相遇的时候路程和为半个圆周, 在 D 点相遇时总路程和为 1.5 个圆周。因此每个人第一次相遇时走的路程和总路程之比都是 0.5:1.5=1:3。

设圆的周长为 X, 有 $\frac{X}{\frac{X}{2} + 60} = \frac{1}{3}$, 解得 X=360, 因此, 本题答案为 C 选项。

四、判断推理

71. 从所给的四个选项中, 选择最合适的一个填入问号处, 使之呈现一定的规律性。

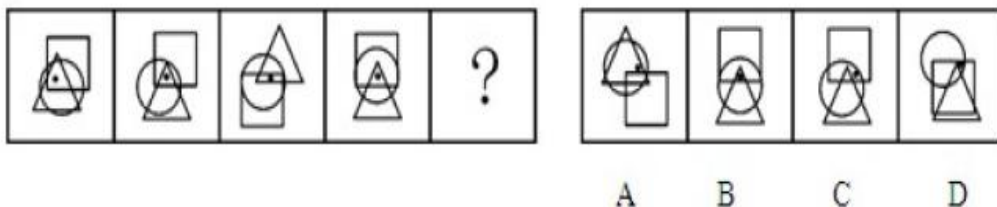


【答案】C。

【考点】判断推理—图形推理—多图对比推理

【解析】本题考查数量类笔画问题中的一笔画问题。题干中的 4 个图形都是一笔能够画成的, 选项中只有 C 项的图形能一笔画成。故选 C。

72. 从所给的四个选项中, 选择最合适的一个填入问号处, 使之呈现一定的规律性。

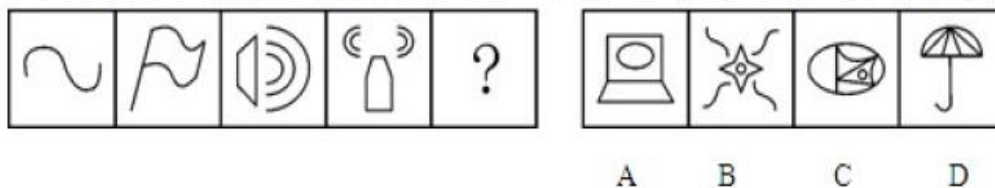


【答案】B。

【考点】判断推理—图形推理—多图对比推理

【解析】本题考查功能信息。题干中所有的图形均具有共同的元素, 即小黑点在三角形、圆、正方形共同交叉的区域; 选项中只有 B 项符合这一规律。故选 B。

73. 从所给的四个选项中, 选择最合适的一个填入问号处, 使之呈现一定的规律性。

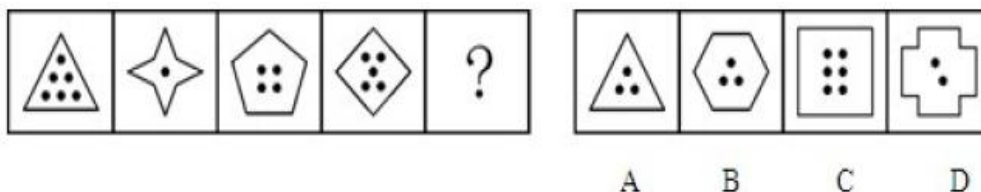


【答案】B。

【考点】判断推理—图形推理—多图对比推理

【解析】本题考查数量类的线段规律。整体上找不出规律, 我们从局部入手, 题干中第三、四个图形的曲线数量变化比较明显, 那么数曲线数量, 题干中四个图形中的曲线数量分别为 1、2、3、4, 所以选一个包含 5 条曲线的图形。因此, 选 B。

74. 从所给的四个选项中, 选择最合适的一个填入问号处, 使之呈现一定的规律性。

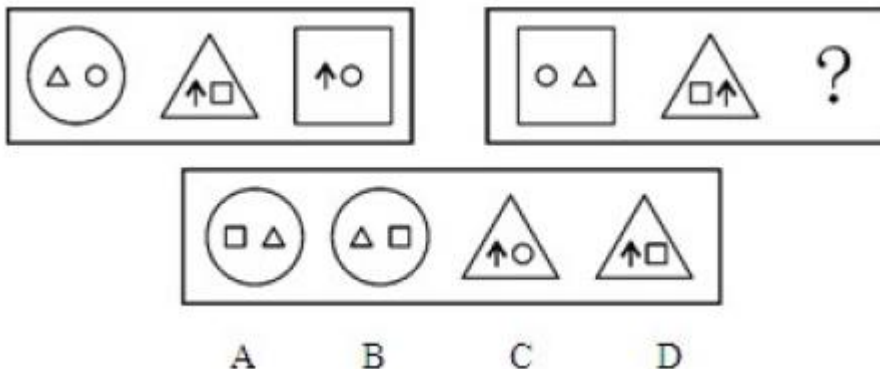


【答案】B。

【考点】判断推理—图形推理—多图对比推理

【解析】本题考查数量类。所有的图形均满足一个数量规律, 即内部点数+外部边数=9, 选项中只有 B 项符合。故选 B。

75. 从所给的四个选项中, 选择最合适的一个填入问号处, 使之与左边一组呈现相同的规律性。

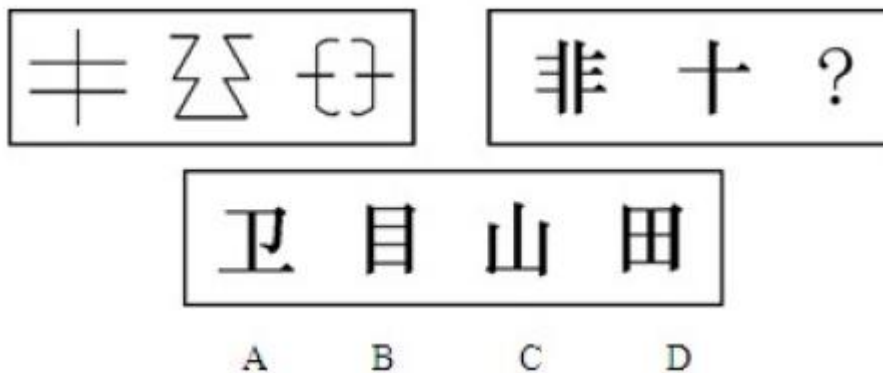


【答案】A。

【考点】判断推理—图形推理—两组对比推理

【解析】本题考查样式类中的遍历。最外层图形在圆、三角形和正方形之间遍历, 所以问号处的图形外围是圆, 锁定 A 和 B, 同时, 第三幅图内部的填充图形, 是由第一个图右边的图形和第二个图左边的图形叠加构成的, 从而锁定 A。

76. 从所给的四个选项中, 选择最合适的一个填入问号处, 使之与左边一组呈现相同的规律性。

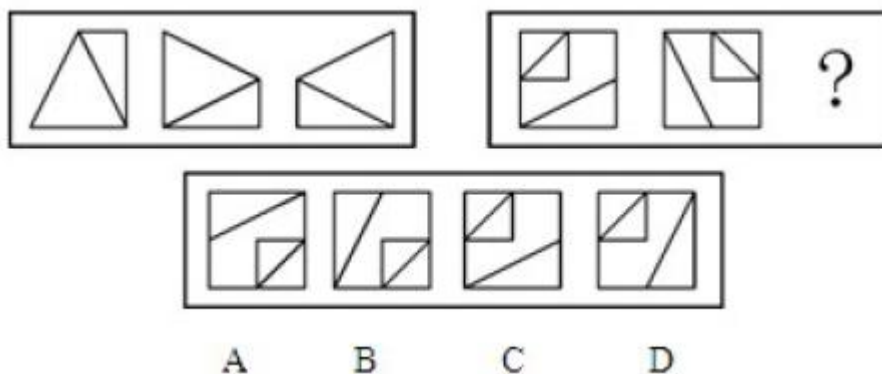


【答案】C。

【考点】判断推理—图形推理—两组对比推理

【解析】本题考查样式类的封闭性和对称性。左边三个图形都是竖轴对称的开放图形。选项中 A 不左右对称, B 和 D 项是封闭图形, 只有 C 项符合。故选 C。

77. 从所给的四个选项中, 选择最合适的一个填入问号处, 使之与左边一组呈现相同的规律性。

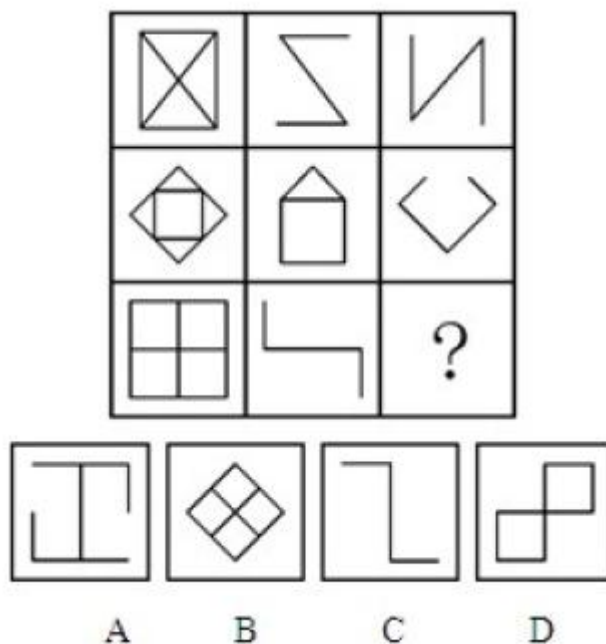


【答案】D。

【考点】判断推理—图形推理—两组对比推理

【解析】本题考查位置类的翻转和旋转规律。第一组中的三个图形, 一到二是顺时针旋转 90° , 二到三则是左右翻转, 第二组中的三个图形符合相同的规律。故选 D。

78. 从所给的四个选项中, 选择最合适的一个填入问号处, 使之呈现一定的规律性。

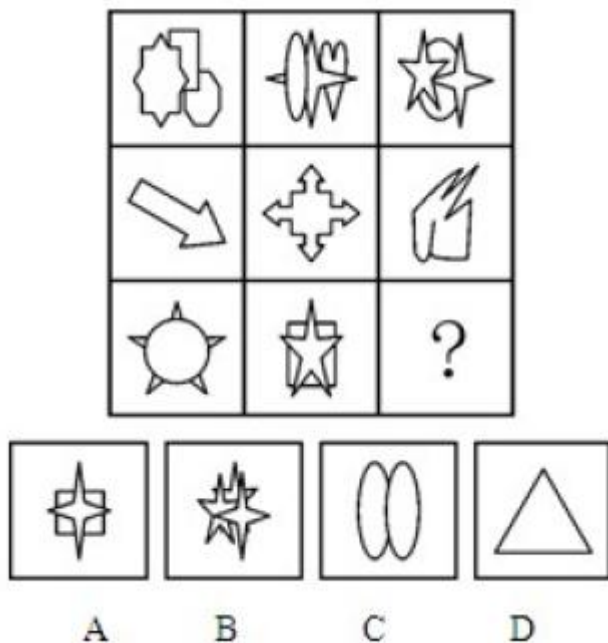


【答案】A。

【考点】判断推理—图形推理—九宫格式推理

【解析】本题考查样式类的加减运算。在前两行中, 第一个图形减去第二个图形后剩余的部分就是第三个图形。同理, 第三行图形也符合此规律。故选 A。

79. 从所给的四个选项中, 选择最合适的一个填入问号处, 使之呈现一定的规律性。



【答案】A。

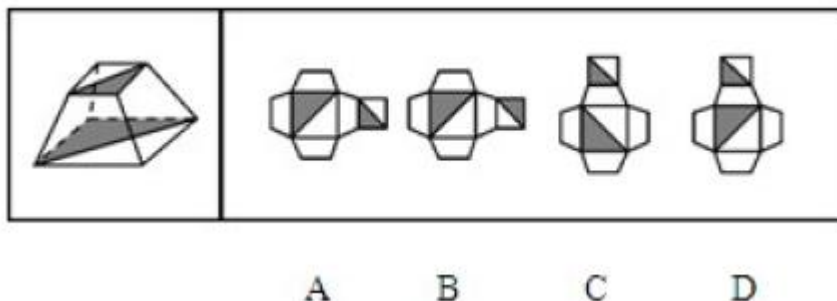
【考点】判断推理—图形推理—九宫格式推理

【解析】本题考查数量类中的元素种类和元素的个数。第一行中的每个图形都包含三种元素, 且每个图形的元素个数都为 3。第二行中的每个图形都包含一种元素, 且每个图形的



元素个数都为 1, 第三行中的每个图形都包含两种元素, 且每个图形的元素个数都为 2。故选 A。

80. 左边给定的立体图是有下面哪一项折叠而成的?



【答案】A。

【考点】判断推理—图形推理—立体折叠推理

【解析】本题考查空间重构类。空间图形中上下两个面的三角形阴影部分是互补的。选项中, AB 项中两个面呈左右关系, 将其中一个面左右翻转, A 项符合; CD 项中的两个面呈上下关系, 那么将其中一个面上下翻转, 没有符合立体图形规律的。故选 A。

81. 品质成本是指企业为了保证和提高产品品质而支出一切费用和由于产品品质未达到规定的要求而造成的一切损失。根据上述定义, 下列属于品质成本的是 ()

- A. 某医药企业为树立产品良好的品质形象聘请专家代言的费用
- B. 某汽车制造商为新产品开展品质见证之旅主题试乘试驾活动的费用
- C. 某保健品公司因为涉嫌虚构夸大产品功效而被处罚缴纳的罚款
- D. 某食品生产企业因产品人工色素含量超标, 被质监部门查处缴纳罚款

【答案】D。

【考点】判断推理—定义判断—单定义判断

【解析】品质成本的用途有两种: 一、为了保证和提高产品品质而支出的费用; 二、由于产品品质未达到规定而造成的损失。在 A 选项中, 企业是为了宣传产品而支出的费用, 不符合上述两种用途, 所以排除。在 B 选项中, 企业也是为了宣传产品而支出的费用, 不符合上述两种用途, 所以排除。在 C 选项中, 企业是因为夸大产品功效被惩罚, 而支出的费用, 不是产品未达规定而支出的费用, 不符合上述两种用途, 所以排除。在 D 选项中, 企业是因为产品未达标, 而支出的费用, 属于品质成本的第二种用途, 所以选择 D 选项。

82. 故意毁坏财物罪, 是指达到刑事责任年龄且具备刑事责任能力的自然人故意毁坏或者损坏公私财物, 数额较大或者有其他严重情节的行为。犯罪目的只是损坏公私财物, 不具有非法占有的目的。

根据上述定义, 下列属于故意毁坏财物罪的是 ()

- A. 张某不满公司年终分红方案, 私自拿走公司贵重物品
- B. 精神病人李某抢走路人财务并致其伤残
- C. 王某对自己的新房装修过度, 导致居民楼出现裂缝
- D. 赵某破坏高压线路, 导致整个地区停电三天

【答案】D。



【考点】判断推理—定义判断—单定义判断

【解析】故意毁坏财物罪的关键要件有：一、具备刑事责任能力的自然人；二、故意毁坏或者损坏；三、目的不具有非法占有。在 A 选项中，张某私自拿走公司贵重物品，属于非法占有，不符合第三个关键要件，所以排除。在 B 选项中，李某是精神病人，不具备刑事责任能力，不符合第一个关键要件，所以排除。在 C 选项中，王某对自己的新房装修过度，不是故意毁坏，不符合第二个关键要件，所以排除。在 D 选项中，赵某的行为符合故意毁坏财物罪的要件，所以选择 D 选项。

83. 人际冲突有两种：工作性冲突与情绪性冲突（关系冲突）。工作性冲突是因为对工作本身有不同的理解、思路和方法；情绪性冲突则是情绪上的对立或敌意。

根据上面的定义，下面属于情绪性冲突的是（ ）

- A. 某单位领导因为坚持原则和下属发生严重的争执
- B. 一位年轻女孩子，因男友的冷漠，和他吵起来了
- C. 一位年轻的同事正在向顾客说明什么，但顾客显得很激动
- D. 一位老者正在教训那些采摘校园玫瑰花的人

【答案】B。

【考点】判断推理—定义判断—复合定义判断

【解析】A 项，争执是因为“对工作本身有不同的理解、思路和方法”，属于工作性冲突，排除；B 项，吵架是由于“情绪上的对立”，属于情绪性冲突，当选；C 项，激动并没有体现出“情绪上的对立或敌意”，排除；D 项，老者之所以教训那些采摘校园玫瑰花的人是因为他们确实犯了错，并不是因为“情绪上的对立或敌意”，不是情绪性冲突，排除。故本题正确答案为 B。

84. 结构性失业，是指由经济结构（包括产业结构、产品结构、地区结构）发生了变化，现有劳动力的知识、技能、观念、区域分布等不适应这种变化，与市场需求不匹配而引发的失业。

根据上述定义，下列属于结构性失业的是（ ）

- A. 小王因为所学专业偏冷，大学毕业后马上就“失业”了
- B. 文化水平不高的张阿姨不适应现代化的要求，失业了
- C. 小李由于没有大学英语六级证书，在找工作时老是碰壁
- D. 上海的一家企业缺少高级工，存在人才空位现象

【答案】B。

【考点】判断推理—定义判断—单定义判断

【解析】结构性失业的关键要件有：一、经济结构发生变化；二、与市场需求不匹配而引发的失业。在 A 选项中，小王“失业”的原因是专业偏冷，而不是经济结构发生变化，不符合结构性失业的要件，所以排除。在 C 选项中，小李找工作碰壁的原因是没有取得六级证书，也不是经济结构发生变化，不符合结构性失业的要件，所以排除。在 D 选项中，不涉及失业，所以排除。在 B 选项中，张阿姨失业的原因是文化水平不高，不适应现代化的需求，符合结构性失业的要件，所以选择 B 选项。

85. 工作扩大化，是指在横向水平上增加工作任务的数目或变化性，使工作多样化。工



作丰富化是指从纵向上赋予员工更复杂、更系列化的工作, 使员工有更大的控制权。

下列属于工作丰富化的是 ()

- A. 自助餐的伙计在面食、沙拉、蔬菜、饮品和甜点部轮换工作
- B. 邮政部门的员工从原来只专门分拣邮件增加到同时分送到各邮政部门
- C. 在某传输数据系统公司, 员工可以经常提出自己喜欢的工作并随后转入新的岗位
- D. 在一家研究所, 一个部门主管告诉她的下属, 只要在预算内并且合法, 他们就可以

做想做的任何研究

【答案】D。

【考点】判断推理—定义判断—复合定义判断

【解析】工作丰富化的关键要件有: 一、纵向上; 第二、更复杂、更系列化的工作。在 A 选项中, 是使工作多样化, 而不是复杂系列化, 属于工作扩大化, 所以排除。在 B 选项中, 是增加工作任务, 属于工作扩大化, 所以排除。在 C 选项中, 是工作任务的变化, 属于工作扩大化, 所以排除。在 D 选项中, 赋予员工更大的控制权, 更系列化的工作, 属于工作丰富化, 所以选择 D 选项。

86. 职务发明, 是指企业、事业单位、社会团体、国家机关的工作人员执行本单位的任务或者主要是利用本单位的物质条件所完成的职务发明创造。

根据上述定义, 下列属于职务发明的是 ()

- A. 张大爷参加了老年健身活动俱乐部, 发明了一种新型的健身器材
- B. 小李受公司委托参加了某高校一项课题研究, 发明了一种新技术
- C. 刘老师在家设计了一个多功能黑板, 以方便平时上课
- D. 王同学在读高中时就发明了一种多功能雨伞, 并获得了专利

【答案】B。

【考点】判断推理—定义判断—单定义判断

【解析】职务发明的关键要件有: 一、四种机构中的工作人员; 二、执行本单位的任务; 三、利用本单位的物质条件完成的职务发明。这里要注意“要件二”和“要件三”是职务发明的两种情况, 只要满足其中一种情况再加上第一个要件就属于职务发明。在 A 选项中, 张大爷不是题干四种机构中的工作人员, 不满足职务发明的要件, 所以排除。在 C 选项中, 刘老师的新创造是在家完成的, 并没有利用学校的物质条件, 也不是执行本单位的任务, 不满足职务发明的要件, 所以排除。在 D 选项中, 王同学也不是题干四种机构中的工作人员, 不满足职务发明的要件, 所以排除。B 选项满足职务发明的要件, 所以选择 B 选项。

87. 乐观, 是指认识事物过程中的一种心理状态, 表现为关心事物的正向价值, 并把最大正向价值作为其行为方案的选择标准, 即相信自己有足够的行为能力来承受和减弱原有负向价值对自己的不良影响, 并使原有正向价值发挥更大的积极效应。

下列最符合上述关于乐观的定义的是 ()

- A. 长风破浪会有时, 直挂云帆济沧海
- B. 风力掀天浪打头, 只须一笑不须愁
- C. 今年欢笑复明年, 秋月春风等闲度
- D. 烹羊宰牛且为乐, 会须一饮三百杯



【答案】 A。

【考点】 判断推理—定义判断—单定义判断

【解析】 乐观的关键要件有：一、关心事物正向价值；二、把正向价值作为行为的标准；三、有能力承受原有负向价值。B选项的原诗是：“风力掀天浪打头，只须一笑不须愁。近看两日远三日，气力穷时自会休”。诗人告诉我们：纵使风大浪高，也不要慌，不要愁，要一笑了之。为什么？因为少则两天，多则三天，风力就会逐渐减弱，浪头就会逐渐平静下来。你只要稳住心，耐着性，把好舵，就会迎来风平浪静的好日子。这个选项主要体现的是一种平静面对生活的态度，不符合乐观的要件，所以排除。C选项中表达的意思是：说随随便便就打发消磨了美好的青春年华，劝人们珍惜时光，不符合乐观的要件，所以排除。D选项表达的意思是：诗人劝人们及时饮酒行乐，不符合乐观的要件，所以排除。A选项表达的意思是：说实现我理想的那一天会来到的，相信我一定能够克服眼前的困难，我将会大显身手，大展宏图，符合乐观的要件，所以选择 A 选项。

88. 自居作用，是指一个人把他所钦佩或崇拜的人的特点、某一团队或某种主张作为自己的特点，用以弥补自己的缺点和不足。自居作用有两种：一是使自己模仿他人的行为；二是利用别人的优点、荣誉等来满足自己的愿望。

根据上述定义，下列属于自居作用的是（ ）

- A. 见贤思齐
- B. 谈笑有鸿儒，往来无白丁
- C. 人云亦云
- D. 推己及人

【答案】 A。

【考点】 判断推理—定义判断—单定义判断

【解析】 自居作用的关键要件有：一、将自己崇拜他人或团队的特点作为自己的特点；二、弥补自身的不足。B选项表达的意思是：说自己交往的都是知识渊博的“鸿儒”，而没有知识浅薄的“白丁”，不符合自居作用的关键要件，所以排除。C选项表达的意思是：别人说什么就跟着说什么，是没有主见的行为，不符合自居作用的关键要件，所以排除。D选项表达的意思是：用自己的心意去推想别人的心意，设身处地替别人着想，不符合自居作用的关键要件，所以排除。A选项表达的意思是：看见贤能的人就想向他学习，使自己变得和他一样。符合自居作用的第一种情况模仿他人的行为，属于自居作用，所以选择 A 选项。

89. 知觉防御，是指个体进行自我保护的一种思想方法倾向，它使人比较容易观察能满足个体需要的事物，对于满足个体需要无关的事物则是视而不见、听而不闻。

下列选项中不属于知觉防御的是（ ）

- A. 先天下之忧而忧，后天下之乐而乐
- B. 两耳不闻窗外事，一心只读圣贤书
- C. 可怜后主还祠庙，日暮聊为梁父吟
- D. 商女不知亡国恨，隔江犹唱后庭花

【答案】 A。

【考点】 判断推理—定义判断—单定义判断



【解析】知觉防御的关键要件有: 一、个体自我保护; 二、比较容易观察能满足需要的事物; 三、对于满足需要无关的事物视而不见。A 选项表达的意思是: 一种忧国忧民的心态, 先看到忧虑, 然后才看到欢乐, 不满足知觉防御的“第二个”和“第三个”要件, 所以不属于知觉防御, 所以选择 A 选项。

90. 消费信贷, 是指银行等金融机构向消费者为消费而发放的贷款。消费信贷往往需要采取综合的担保措施以及进行充分的市场信用调查, 在法律上表现为买卖合同 (往往是分期付款买卖)、借款合同、担保合同的综合体。

根据上述定义, 下列属于消费信贷的是 ()

- A. 某饭店允许某位客户的赊账行为
- B. 某农村信用合作社为农民购车发放小额贷款
- C. 某职工为购房与单位签合同预支 20 年的住房补贴
- D. 在资产清收、处置过程中, 银行垫付债务人的诉讼费、经济纠纷款等

【答案】B。

【考点】判断推理—定义判断—单定义判断

【解析】消费信贷的关键要件有: 一、银行等金融机构; 二、为消费而发放的贷款。在 A 选项中, 是饭店对客户的赊账行为, 没有涉及到银行等金融机构, 不符合消费信贷的要件, 所以排除。在 C 选项中, 是职工向单位预支住房补贴, 也没有涉及到银行等金融机构, 不符合消费信贷的要件, 所以排除。在 D 选项中, 没有涉及消费, 不符合消费信贷的要件, 所以排除。B 选项满足消费信贷的要件, 所以选择 B 选项。

91. 谬误: 语法

- A. 木头: 煤炭
- B. 俗气: 文章
- C. 馒头: 面粉
- D. 快乐: 高兴

【答案】B。

【考点】判断推理—类比推理—语法关系

【解析】谬误是消极词汇, 可以修饰语法, 即语法有谬误; 俗气也是消极词汇, 可以修饰文章, 即文章很俗气。所以选 B 选项。

92. 川剧: 变脸

- A. 滑稽戏: 逗乐
- B. 西河大鼓: 弹三弦
- C. 二人转: 转手绢
- D. 京剧: 画脸谱

【答案】D。

【考点】判断推理—类比推理—词项对应关系

【解析】对应关系, 变脸是运用在川剧中塑造人物的一种特技, 画脸谱也是京剧中塑造人物的特技。A 项, 滑稽戏的目的是逗乐, 逗乐不是一种塑造的特技, 所以排除; B 项中弹三弦是乐器表演, 不是人物的塑造手段, 排除; C 项中转手绢是二人转的一种表演形式, 而不是人物的塑造特技, 排除; 所以选 D 选项。

93. 火山: 岩浆

- A. 小麦: 面包
- B. 海洋: 岛屿
- C. 汽车: 尾气
- D. 地下水: 喷泉



【答案】C。

【考点】判断推理—类比推理—语法关系

【解析】本题考查主宾关系。火山爆发过程中会喷射出岩浆, 汽车行驶过程中会排放尾气。D项地下水可能从喷泉中喷出, 但二者位置与题干中不一致。故选C。

94. 真诚: 真挚

A. 论证: 论点

B. 顽强: 顽劣

C. 果断: 武断

D. 争议: 争执

【答案】D。

【考点】判断推理—类比推理—词义关系

【解析】题干中的两个词是一对近义词, 并且感情色彩相同。D项争执和争议是一组感情色彩相同的近义词。所以选D选项。

95. 画家: 作家

A. 工人: 农民

B. 土豆: 山芋

C. 绿茶: 红茶

D. 军人: 诗人

【答案】D。

【考点】判断推理—类比推理—集合概念关系

【解析】本题考查集合关系中的交叉关系。画家和作家都是一种职业, 并且有的画家也是作家; B和C项中不是职业, 首先排除。A项中工人和农民间不存在交叉, 而D项中, 有些军人也是诗人, 存在交叉关系。故选D。

96. 人生: 阅历: 经验

A. 身体: 营养: 体重

B. 企业: 销量: 产能

C. 职场: 学识: 成功

D. 学校: 生源: 名气

【答案】B。

【考点】判断推理—类比推理—条件关系

【解析】本题考查条件关系。在人生中通过增加阅历来增长经验, 企业通过增加销量来提高产能, 都是一种充分条件关系。A项中增加营养不一定增加体重, C项中与“职场”相对应的应当是才干, D项中学校要扩大名气应该通过优化生源质量, 而不能是增加生源质量。故选B。

97. 茶水: 茶壶: 茶杯

A. 乘客: 公交车: 出租车

B. 杂志: 书架: 阅览室

C. 人才: 学校: 企业

D. 课本: 书店: 印刷厂

【答案】C。

【考点】判断推理—类比推理—词项对应关系

【解析】本题考察对应关系, 茶水从茶壶输送到茶杯中。C选项符合此逻辑关系, 人才从学校输送到企业。

98. 药品: 药房: 药方

A. 旅行: 飞机: 机票

B. 桌餐: 饭店: 菜单

C. 存款: 银行: 银行卡

D. 电影: 影院: 电影票



【答案】D。

【考点】判断推理—类比推理—词项对应关系

【解析】对应关系, 患者根据药方在药房里购买药品, 观众通过电影票在影院看电影。药品是药房里出售的商品, 药方是在药房买药的依据, D项, 电影是影院出售的商品, 而观看电影的依据是电影票, 关系符合, 所以选D选项。

99. 老师 对于 () 相当于 () 对于 病人

- A. 书本 父母
B. 学校 医院
C. 学生 医生
D. 教室 药品

【答案】C。

【考点】判断推理—类比推理—词项对应关系

【解析】对应关系, 职业与服务对象的关系。老师教育的对象是学生, 医生服务的对象是病人, 所以选C选项。

100. 玫瑰 对于 () 相当于 () 对于 鲸鱼

- A. 香精 鱼翅
B. 花园 海水
C. 蔷薇 海豚
D. 月季 鲨鱼

【答案】C。

【考点】判断推理—类比推理—并列关系

【解析】反对关系。玫瑰和蔷薇都属于蔷薇科, 是一对反对关系, 海豚和鲸鱼都属于海洋中哺乳动物, 也是一对反对关系, 所以选C选项。

101. 有人认为“美是客观的”, 比如你无论是否看到黄山的美景, 它都是存在着的; 也有人认为“美是主观的”, 一些在你眼中的美女在其他人看来却是不怎么样, 可见 ()

- A. 没有绝对的美, 也没有绝对的丑
B. “美是客观的”不正确
C. 美是相对的, 是存在于我们主客观世界里的
D. 美是主观, 还是客观, 属于萝卜白菜各有所爱

【答案】D。

【考点】判断推理—逻辑判断—命题推理型

【解析】题干中说, 有人认为美是客观的, 有人认为美是主观的, 是各抒己见, 题干并没有明确的支持哪一个观点, 只是客观的陈述, 根据主题一致原则, D项说, 美是主观还是客观, 是萝卜青菜各有所爱, 意思是每个人对美的见解是不同的, 和题目表述一致, 是正确的。所以选D选项。

102. 根据美国营养学家的研究, 花菜中含有一氯化物——吲哚。科研人员将一种类似花菜中吲哚的特殊物质注入一批志愿试验人员体内, 注射一周后, 采血进行化验检查, 结果发现这些受试者体内可致乳腺癌的雌激素被显著降低了, 这说明花菜有预防乳腺癌的功效。

如果以下各项为真, 最能质疑上述推测的是 ()

- A. 花菜中吲哚的含量较低
B. 一些常吃花菜的人也患有乳腺癌
C. 很多从来不吃花菜的人也没有患乳腺癌



D. 雌激素的水平不是导致乳腺癌的唯一因素

【答案】双观点

【考点】D。

【解析】题干中给出一个试验, 一些志愿者接受类似花菜的特殊物质的注射, 降低了致乳腺癌的雌激素水平, 最终要达到预防乳腺癌的目的。D 项说明, 即使降低致乳腺癌的雌激素水平, 还可能其他因素导致乳腺癌, 即不一定能预防乳腺癌, 从而直接推翻了“降低致乳腺癌的雌激素水平→预防乳腺癌”这一推理过程, 故 D 项最能质疑。

103. 在发生了若干起由于汽车本身质量问题而导致的严重事故之后, 某汽车公司开始针对导致事故发生的技术原因在全球范围内召回旗下部分系列的产品。鉴于事故造成的严重后果, 这种举措也许短时间内并不能重新赢回消费者对其品牌的信赖, 但亡羊补牢的措施总算没有使其遭到所有人的抛弃。

由此可以推知 ()

- A. 该公司旗下其他系列的产品不存在类似的质量问题
- B. 亡羊补牢的措施终究会使消费者对该公司的信赖回升到原有水平
- C. 消费者对该公司及其产品信赖, 部分原因在于它能够较好地处理出现的问题
- D. 该公司召回产品的目的是避免因同类质量问题再次出现事故

【答案】主题一致原则

【考点】C。

【解析】题干最后一句“但亡羊补牢的措施总算没有使其遭到所有人的抛弃”可知, C 知消费者对该公司及其产品的信赖, 部分原因在于能够较好的处理出现的问题”, 题干中有的汽车有质量问题, 不能推出有的汽车没有质量问题, 所以 A 选项不对, 没有被所有消费者抛弃不能推出对公司的信赖能回升到原有水平, 所以 B 项不对, 是过度推断, D 选项召回汽车的目的题目中没有涉及到, 违反了主题一致原则, 也不对, 所以选 C 选项。

104. 班主任在期末总结会上说: “我们班的同学在过去的一年里取得了优异的成绩, 有的在奥数竞赛中获了奖, 有的在英语口语比赛中获了奖, 有的在舞蹈比赛中获了奖。我们班有许多女同学……”

由此可以推出 ()

- A. 取得优异成绩的全部是女同学
- B. 取得优异成绩的肯定有女同学
- C. 取得优异成绩的女同学多于男同学
- D. 取得优异成绩的可能没有女同学

【答案】D。

【考点】判断推理—逻辑判断—命题推理型

【解析】班主任说“有的……有的……”但是没有涉及到具体获得优异成绩的是什么性别的学生, 因此, ABC 都不能推出。D 项说, 取得优异成绩的可能没有女同学, 是一种可能性的猜测, 满足从弱原则, 所以选 D。

105. 一家汽车生产商推出标准型、豪华型两款车型, 豪华型的安全性能比标准型好很多, 两款车型同时上市后, 豪华型的销量一直没有超过标准型。由此, 该生产商认为安全性



能并非顾客考虑的首要因素。

如果以下各项为真, 最能削弱该生产商观点的是 ()

- A. 大部分顾客对标准型汽车的信赖度更高
- B. 豪华型汽车的价格与标准型相差不是很多
- C. 大部分顾客认为标准型汽车的安全性能足以满足日常生活需要
- D. 购买标准型汽车的大多是集体客户, 所以标准汽车销售量一直很高

【答案】C。

【考点】判断推理—逻辑判断—反驳削弱型

【解析】生产商的观点是: 安全性能并非顾客考虑的首要因素, 理由是豪华型和标准型的汽车进行比较, 豪华型的安全性好, 但是销量不高。那么最强的削弱应当是: 安全性能是顾客考虑的首要因素。而 C 项指出, 顾客已经考虑过安全性能了, 并且标准型汽车的安全性能足以满足日常生活需要, 这说明安全性能还是顾客考虑的重要因素, 最能削弱生产商的观点。故选 C。

106. 科学家发现, 在过去的 200 年内, 地球的磁场急剧的衰减。科学家预言, 照这种速度发展下去, 在未来的 1000 年内, 地球磁场可能会完全消失, 地球生灵将面临前所未有的宇宙射线大灾难。

由此可以推出 ()

- A. 目前地球磁场的衰减速度比 200 年前更快
- B. 人类无法改变地球磁场急剧衰减的状况
- C. 今后来自外太空的辐射强度将会越来越大
- D. 地球磁场可阻挡来自太空的辐射

【答案】D。

【考点】判断推理—逻辑判断—前提假设型

【解析】根据主题一致原则, 本题应选 D。

107. 科学研究发现, 植物对触摸作出反应是因为它们认为自己正在遭受风的打击, 因此“觉得”必须提高强度防止风的破坏。每天只要对植物的茎进行几秒钟的抚摸和敲击就可使植物枝干的密度加强。在植物被触摸不到 30 分钟后, 植物的基因便生成使其体内钙含量提高的蛋白质。钙的增加相应地又导致一种名为钙掉蛋白的物质的增多, 该物质可以使植物更为坚固。

如果下列各项为真, 能够质疑上述结论的是 ()

- A. 菜农们在将温室中的幼苗移种至露天之前, 一般会对秧苗进行敲打
- B. 在移种甜菜之前, 要去除掉甜菜中的水分并用扫帚拍打它们
- C. 在农田边缘经常受风的作物倒伏概率比在农田中央吹不到风的作物要高 80%
- D. 如果碰到含羞草的叶子, 它就会在几秒钟之内缩做一团, 出现该现象的原因是钙迅速流进了它的细胞

【答案】C。

【考点】判断推理—逻辑判断—反驳削弱型

【解析】论点是: 经常触摸植物可以使枝干的密度增加, 更坚固, 触摸植物的功能类似



于风吹植物的功能, C 项通过对比的方式进行削弱, 因为风吹的植物没有加固, 反而更容易倒伏, 所以对植物触摸也不能让植物更为坚固。所以选 C 选项。

108. 某市风景优美, 气候宜人。该市晨曦路两侧开设的几乎全部都是老年疗养院, 来自全国各地的很多老年人来此旅游、疗养。晨曦路只有很少几座居民住宅, 但是晨曦路附近却有很多专门经营儿童用品的商店, 而且生意还相当火爆。

下列哪一项是最能解释这一现象? ()

- A. 晨曦路附近的专门经营儿童用品的商店所出售的商品物美价廉
- B. 来此疗养的老人都是有子女带着孩子陪同的, 他们需为孩子购买所需物品
- C. 居住在晨曦路的居民虽然不多, 但孩子们之间经常互相赠送礼物
- D. 晨曦路附近的儿童用品商店闹中取静购物环境良好

【答案】B。

【考点】判断推理—逻辑判断—现象(矛盾)解释型

【解析】晨曦路附近都是老年疗养院, 但是有很多儿童用品店, 产生矛盾, B 项利用题干已有信息“晨曦路两侧开设的几乎全部都是老年疗养院”, 将“老年疗养院多”与“孩子多”建立了联系, 合理地解释了题干中这一看似矛盾的现象所以选 B 选项。

109. 人工合成食用色素, 使用煤焦油中分离出来的苯胺染料为原料制成的, 故又称煤焦油色素或苯胺色素, 如合成苋菜红、胭脂红及柠檬黄等等。偶尔食用添加一定量的人工合成食用色素的食品, 并不会引发中毒、泻泄等状况。因此, 人们可以放心食用添加少量人工合成色素的食品。

以下哪项如果为真, 最能削弱上述论证? ()

- A. 食用添加少量人工合成食用色素的食品不利于人体健康
- B. 经常食用和偶尔食用对人体的影响不同
- C. 苯胺染料含对人体有害的物质
- D. 食用添加少量天然食用色素的食品不会影响人体健康

【答案】B。

【考点】判断推理—逻辑判断—反驳削弱型

【解析】题干中前提是“偶尔食用含人工合成实用色素的食品不会导致中毒等状况”, 结论是“人们可以放心食用含人工合成实用色素的食品”。B 项通过削弱前提与结论的联系进行削弱的, 因长期食用和偶尔食用的影响不同, 所以不能说偶尔食用不会中毒就能够放心食用。所以选 B 选项。

110. 近日, 某检验检疫局对从德国进口的百余箱机电产品木质包装箱开箱检查时发现, 其中两箱有大量疑似白蚁, 数量在几千只左右, 密度较大, 导致部分箱体出现多处蚁孔。现场采集的标本经鉴定为台湾乳白蚁。由于这种白蚁在欧洲是没有分布的, 所以专家推测, 可能是在中国境内运输途中感染的。

由此可以推出 ()

- A. 货物不是直接从德国空运过来的
- B. 货物运输经过了台湾
- C. 白蚁繁殖速度很快



D. 中国境内的台湾乳白蚁很多

【答案】D。

【考点】判断推理—逻辑判断—结论推出型

【解析】本题属于隐性结论类。由于在从欧洲进口的货物中采集到台湾乳白蚁, 但台湾乳白蚁在欧洲没有分布, 得出是在中国境内运输途中感染的。因此可以推出中国境内的台湾乳白蚁很多。所以选 D 选项。

111. 英国一家非常受欢迎的专卖三明治的快餐店, 最近把三明治的价格提高了 0.2 欧元, 即从 1.8 欧元提到 2 欧元。可是涨价后仅仅一个月, 所有的服务员都不约而同的辞职了。

下列哪项如果为真, 能最好的解释上述现象? ()

- A. 价格上涨后, 快餐店就可以继续赠送顾客饮料, 而服务员嫌麻烦
- B. 服务员的小费比以前大大的减少了。因为售价是整数, 顾客可能没有零钱给小费了
- C. 尽管三明治的价格上涨了, 但是并没有相应的增加服务员的工资
- D. 由于价格上涨, 除了某些老主顾经常来光顾, 店里的生意可是日渐冷清了

【答案】B。

【考点】判断推理—逻辑判断—现象(矛盾)解释型

【解析】本题属于解释矛盾型。题目中的现象是三明治涨价, 但是服务员都辞职了。出现矛盾, 合理的解释原因可能是服务员的收入没有以前高了。所以选 B 选项。

112. 本能可以使生物对刺激做出复杂的反应。相对非本能反应, 本能反应只需要很少的神经细胞。具有非本能反应能力的大脑一定有大量的神经细胞, 而没有哪种昆虫的大脑具有如此数量的神经细胞。

根据这段文字, 可以知道 ()

- A. 昆虫的反应一般是本能反应
- B. 大脑小于或等于昆虫大脑的生物只能做出本能反应
- C. 大脑大于昆虫大脑的生物都有能力做出非本能反应
- D. 拥有高级大脑的生物做出大的反应一般不是本能反应

【答案】A。

【考点】判断推理—逻辑判断—结论推出型

【解析】将“具有非本能反应能力的大脑一定有大量的神经细胞”翻译为: (1) 具有非本能反应能力的大脑→有大量的神经细胞。而“没有哪种昆虫的大脑具有如此数量的神经细胞”否定了这一推理的后件, 因此, 所有昆虫都不具有非本能反应能力的大脑, 那么 A 可以推出。因此选 A。

113. 由于在乐业天坑中最大的天坑—大石围—底部的原始森林中发现了与恐龙同时代的植物桫欏, 有人据此推测, 大石围应形成于恐龙时代, 即 6500 万年前。

如果下列各项为真, 哪项最能反驳上述推测? ()

- A. 桫欏至今仍然存在
- B. 在其他乐业天坑中未发现桫欏
- C. 恐龙无法进入这个极深的天坑
- D. 没有在大石围中发现恐龙化石



【答案】 A。

【考点】 判断推理—逻辑判断—反驳削弱型

【解析】 推测是“大石围应形成于恐龙时代”, 前提是“大石围底部的原始森林中发现了与恐龙同时代的植物桫欏”。A 选项是否定其论据, 即桫欏这种植物至今仍然存在, 不能说明在大石围底部的原始森林中发现的桫欏是与恐龙同时代的。所以选 A 选项。

114. 近期一项电脑市场调查显示: 按照一品牌学生购买者占全部购买者的百分比计算, A, B 两品牌电脑名列前两位, 比例分别为 68% 和 52%。但是, 在过去 6 个月的学生购买电脑量排行榜中, 国产 C 品牌一直排在首位。下列哪项为真, 最有助于解释上述矛盾 ()

A. 有关机构设立排行榜在一定程度上影响学生消费者对品牌的选择

B. C 品牌的学生购买者占其购买者的比例也曾在相当长的时间内高于其他品牌

C. 与 A、B 两种品牌相比, C 品牌电脑性价比更高, 更符合学生要求

D. 某种品牌学生购买者占各品牌学生购买者总数的百分比, 与某种品牌学生购买者占该品牌全部购买者的百分比是不同的

【答案】 D。

【考点】 判断推理—逻辑判断—现象(矛盾)解释型

【解析】 本题属于解释矛盾类。其实本来数据就是不矛盾的。假如购买 A、B、C 品牌电脑的学生人数分别为 68、52、1000 人, 购买 A、B 品牌电脑的总人数均为 100 人。显然学生购买电脑量中 C 品牌排在首位, 而且 A、B 品牌学生购买者占全部购买者的百分比也分别为 68%、52%, 并不矛盾。D 项正指出了这两个百分比的不同, 最有助于解释。故选 D。

115. 大众意识到新闻传媒中可能有偏见并且怀疑新闻传媒强有力的传播效果。然而, 大众对被报道的每一条新闻貌似有理的评价与新闻主体是不一致的, 因为大众的评价是以从新闻媒介中得到的资料为背景的。

如果作者上述的观点是正确的, 那么他在试图说明 ()

A. 如果在新闻传媒所报道的新闻中普遍存在偏见, 那么公众要识别这些偏见是困难的

B. 新闻传媒修改他们的报道以适应特殊的政治议事日程

C. 新闻媒介把其偏见强加在往往不会被意识到失真的报道中, 反而使它变成大众感兴趣和可信的观念中的一部分

D. 新闻报道者与大众在重大的社会问题上的观点是完全一致的, 因为新闻报道者也是这个社会中的一员

【答案】 A。

【考点】 判断推理—逻辑判断—推理评价型

【解析】 B 选项“新闻传媒修改他们的报道以适应特殊的政治议事日程”, 题目中没有涉及到, C 选项断定过于绝对, D 选项题目中没有涉及到, A 项, 因为大众认识到媒体的评价是有偏见的, 但是他们的主要新闻来源是媒体, 所以如果在新闻传媒所报道的新闻中普遍存在偏见, 那么, 公众要识别这些偏见是困难的。所以选 A 选项。

五、资料分析

一、根据以下材料, 回答 116~120 题。

2011 年, 某市接待海内外旅游者 2123 万人次, 同比增长 17.8%。其中: 接待入境旅游



者 87.71 万人次, 同比增长 8.2%, 在入境旅游者中, 外国旅游者 51.1 万人次, 同比下降 8.6%; 港澳台旅游者 36.61 万人次, 同比增长 43%。全年旅游总收入 168.15 亿元, 总同比增长 27.20 亿元。其中, 国际旅游创汇 2.44 亿美元, 同比增长 10.9%。



116. 2011 年, 该市接待境内旅游者大约多少万人次? ()

- A. 1762 B. 2035 C. 2071 D. 2086

【答案】B。

【考点】资料分析—综合资料

【解析】该市接待海内外旅游者 2123 万人, 入境旅游者 87.71 万人, 则境内旅游者人数=2123-87.71。因此, 答案选择 B 选项。

117. 2006~2011 年, 该市接待海内外旅游者年平均增加多少万人次? ()

- A. 244.4 B. 261.2 C. 280.5 D. 322.5

【答案】B。

【考点】资料分析—综合资料

【解析】通过柱状图可知: 2007 年海内外旅游者人数为 1001 万人, 同比增长 22.5%, 则 2006 年的海内外旅游者人数为 $\frac{1001}{1+22.5\%} \approx \frac{1001}{1.25}$ 的海内万人, 那么 2006~2011 年, 年平均增加人数为 $[(2123-1001) \div (1+22.5\%)] \div 5 \approx (2123-817) \div 5 \approx 261.2$ 万人。因此, 本题答案为 B 选项。

118. 2010 年, 该市接待入境旅游者约占海内外旅游者总人次的 ()

- A. 4.5% B. 4.1% C. 3.8% D. 2.4%

【答案】A。

【考点】资料分析—综合资料

【解析】根据文字材料信息, 2010 年入境旅游人数 = $\frac{87.71}{1+8.2\%}$, 2010 年海内外旅游者

人数可直接读图为 1801 万人, 所以, 该市入境旅游者占海外旅游人数的比重 $\frac{87.71}{1+8.2\%} \approx \frac{87.71}{1801}$



入境旅。因此, 本题答案为 A 选项。

119. 2011 年, 该市旅游总收入同比增长 ()

- A. 16.2% B. 17.8% C. 18.0% D. 19.3%

【答案】 D。

【考点】 资料分析—综合资料

【解析】 2011 年旅游总收入同比增长 = $\frac{\text{增长量}}{\text{2010年的总收入}} = \frac{27.20}{168.15 - 27.20} = 19.3\%$ 。

因此, 本题答案为 D 选项。

120. 能够从资料中推出的是 ()

- A. 2011 年该市港澳台入境旅游者比去年增长约 20 万人次
 B. 2010 年该市国际旅游创汇不足 2 亿美元
 C. 2007~2011 年中, 该市海内外旅游者接待量同比增长率最大的是 2008 年
 D. 与 2010 年相比, 2011 年该市入境旅游者接待量占海内外旅游者总接待量的比重有所增长

【答案】 C。

【考点】 资料分析—综合资料

【解析】 A 选项: 2011 年港澳台入境旅游人数 36.61 万人, 同比增长 43%, 因此 2011 年相比 2010 年的增长量 = $43\% \times \frac{36.61}{1 + 0.43} = 11$ 万, 所以 A 选项错误 B 选项: 2011 年国际旅

游创汇 2.44 亿美元, 同比增长 10.9%, 因此 2010 年国家旅游创汇 = $\frac{2.44}{1 + 10.9\%} = 2.20$ 亿美元,

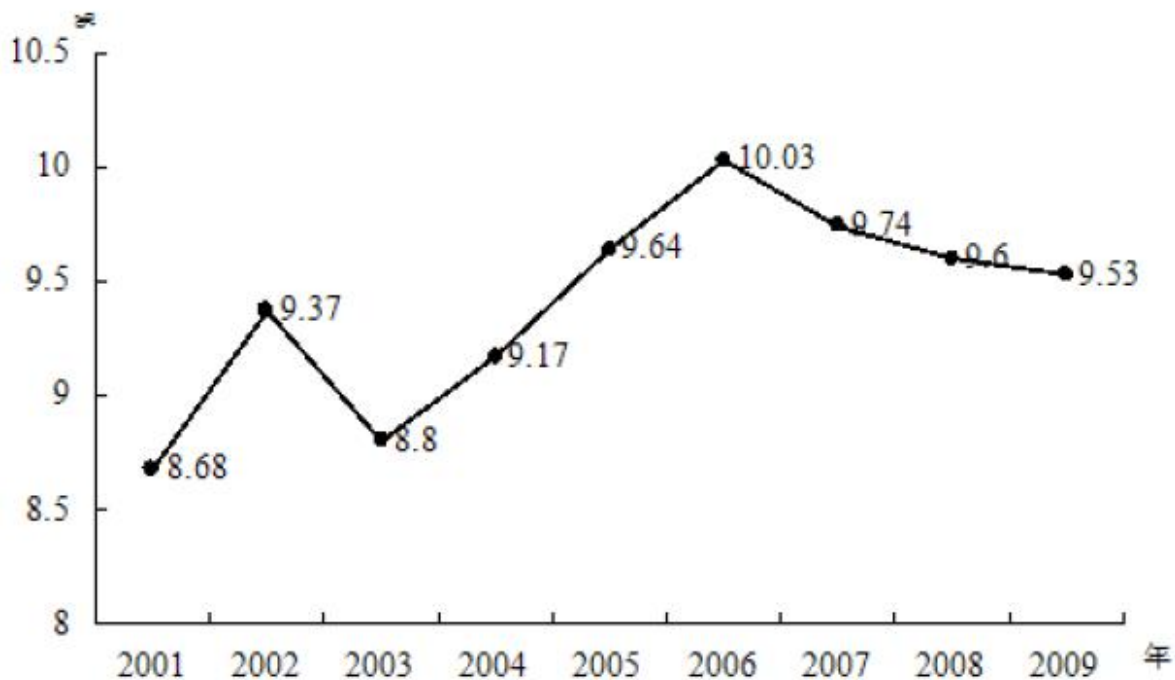
超过 2 亿美元, 所以 B 选项错误 C 选项: 根据柱状图可知, 2008 年的增长率为 23.9%, 大于其他年份的增长率, 所以 C 选项正确。D 选项: 2011 年入境旅游者占海外旅游者的比重

为 $\frac{87.71}{2123}$, 2010 年的比重为 $\frac{\frac{87.71}{1 + 8.2\%}}{2123}$, 2011 年与 2010 年相比, 分子增长较少, 而分母相对增长较多, 因此 2011 年比重相比 2010 年下降。因此, 本题答案为 C 选项。

二、根据以下材料, 回答 121~125 题。

2009 年全国海洋生产总值 31964 亿元, 比上年增加 8.6%。全国海洋生产总值占国内生产总值的 9.53%, 占沿海地区生产总值的 15.5%。海洋第一产业增加值 1879 亿元, 海洋第二产业增加值 15062 亿元, 海洋第三产业增加值 15023 亿元。

2001~2009 年全国海洋生产总值占国内生产总值比重



2009年全国主要海洋产业增加值

行业	增加值 (亿元)	同比增速 (%)
主要海洋产业总体	12989	8.7
其中: 海洋交通运输业	3748	-2.4
海洋工程建筑业	658	31.9
滨海旅游业	3725	12.3
海洋渔业	2509	12.4
海洋油气业	748	8.5
海洋矿业	21	7.5
海洋盐业	55	0.7
海洋化学工业	611	26.0
海洋生物医药业	59	12.6
海洋电力业	12	25.2
海水利用业	15	18.6
海洋船舶工业	828	15.8

121. 2009年我国海洋经济三产业值的比重约为 ()

- A. 5.9:47.3:46.8
- B. 5.9:47.1:47.0
- C. 7.2:47.3:45.5
- D. 7.2:47.0:45.8

【答案】B。

【考点】资料分析—综合资料

【解析】海洋第一、第二、第三产业的增加值分别为 1879、15062、15023, 则总增加



值为 $1879+15062+15023=31964$, 因此比重分别为 $\frac{1879}{31964}$ 、 $\frac{15062}{31964}$ 、 $\frac{15023}{31964}$ 。因此, 本题答案为 B 选项。

122. 下列哪一年全国海洋生产总值占国内生产总值的比重同比增幅最大? ()

- A. 2002 年 B. 2004 年 C. 2006 年 D. 2008 年

【答案】A。

【考点】资料分析—综合资料

【解析】2002 年的增幅为 $\frac{9.37-8.68}{8.68}$, 2004 年的增幅为 $\frac{9.17-8.80}{8.80}$, 2006 年的增幅为 $\frac{10.03-9.64}{9.64}$, 2008 年的增幅为 $\frac{9.60-9.74}{9.74}$, 可以看出分子 2002 年的最大, 分母 2002 年的最小, 故 2002 年增幅最大。因此, 本题答案为 A 选项。

123. 将 2009 年各海洋产业增加值从大到小排列, 以下正确的是 ()

- A. 海洋渔业 海水利用业 海洋矿业
B. 滨海旅游业 海洋化工业 海洋电力业
C. 海洋交通运输业 海洋盐业 海洋船舶工业
D. 海洋工程建筑业 海洋油气业 海洋生物医药业

【答案】B。

【考点】资料分析—综合资料

【解析】本题可直接根据表格读取数据, 进行比较。A 选项由大到小排列应为海洋渔业、海洋矿业、海水利用业。B 选项由大到小排列应为滨海旅游业、海洋化工业、海洋电力业, 正确, 因此答案选择 B 选项。C 选项由大到小排列应为海洋交通运输业、海洋船舶工业、海洋盐业。D 选项由大到小排列应为海洋油气业、海洋工程建筑业、海洋生物医药业。因此, 本题答案为 B 选项。

124. 2009 年我国有几个海洋产业增加值的同比增幅高于主要海洋产业总体水平? ()

- A. 6 B. 7 C. 8 D. 9

【答案】C。

【考点】资料分析—综合资料

【解析】主要海洋产业总体增幅为 8.7%, 大于该增幅的产业有海洋工程建筑业、滨海旅游业、海洋渔业、海洋化工业、海洋生物医药业、海洋电力业、海洋利用业、海洋船舶工业, 共 8 个海洋产业。因此, 本题答案为 C 选项。

125. 下列说法正确的是 ()

- A. 2008 年海洋生物医药业增加值高于海洋盐业
B. 2009 年增加值排名第三的海洋产业其同比增速也排名第三
C. 2008 年全国海洋生产总值占国内生产总值的比重高于 2005 年
D. 2009 年主要海洋产业中只有海洋交通运输业是增加值同比下降的

【答案】D。

【考点】资料分析—综合资料

【解析】A 选项: 2008 年海洋生物医药的增加值为 $\frac{59}{1+12.6\%}$, 海洋盐业的增加值为



55

, 运用差分法比较大小, 明显医药增加值小于盐业增加值, A 选项错误。B 选项, $1+0.7\%$

直接从表格读数, 2009 年增加值排名第三的产业为海洋渔业, 但增速排名第三的为海洋电力业, B 选项错误。C 选项, 直接从折线图读数, 2008 年海洋生产总值占国内生产总值的比重为 9.60, 而 2005 年的比重为 9.64, 2008 年的比重低于 2005 年的比重, C 选项错误。D 选项, 增量的比较。从表格可知, 2009 只有海洋运输业增加值的同比增速为负值, 则 2009 年的增加值小于 2008 年的增加值, 因此 2009 年增加值同比下降。D 选项正确。

因此, 本题答案为 D 选项。

三、根据以下材料, 回答 126~130 题。

2009 年 7 月, 全国粗钢产量同比增长 12.6%, 增速比上月提高 6.6 个百分点; 钢材产量同比增长 19.4%, 增速比上个月提高 5.4 个百分点; 焦炭产量同比增长 6.3%; 铁合金产量同比增长 15.1%。钢材出口 181 万吨, 比上月增加 38 万吨; 进口 174 万吨, 比上月增加 11 万吨。钢坯进口 57 万吨, 比上月增加 19 万吨。焦炭出口 5 万吨, 比上月增加 2 万吨。

1~7 月, 全国粗钢产量 31731 万吨, 同比增长 2.9%, 增速同比下降 6.4 个百分点。钢材产量 37784 万吨, 同比增长 7.6%, 增速同比下降 4.1 个百分点。焦炭产量 19048 万吨, 同比下降 3.5%, 上年同期的同比增长率为 11.3%。铁合金产量 1124 万吨, 同比增长 0.8%, 增速同比下降 16.8 个百分点。钢坯进口 323 万吨, 同比增长 27.9 倍。钢材出口 1116 万吨, 同比下降 67.3%; 进口 988 万吨, 同比增长 1.6%。铁矿砂进口 35525 万吨, 同比增长 31.8%。焦炭出口 28 万吨, 同比下降 96.6%。

126. 2009 年 6 月, 全国钢材产量的同比增长率为 ()

- A. 5.4% B. 14.0% C. 19.4% D. 24.8%

【答案】B。

【考点】资料分析—文字资料

【解析】由第一段第二句话直接得到: $19.4\%-5.4\%=14.0\%$, 因此, 本题答案为 B 选项。

127. 下列选项中, 2009 年 7 月, 环比增长率最高的为 ()

- A. 钢材出口量 B. 钢材进口量 C. 钢坯进口量
D. 焦炭出口量

【答案】D。

【考点】资料分析—文字资料

【解析】2009 年 7 月, 环比增长率分别为钢材出口量 $38/(181-38)=38/143$; 钢材进口量 $11/(174-11)=11/163$; 钢坯进口量 $19/(57-19)=19/38=50\%$; 焦炭出口量 $2/3>60\%$ 。因此, 本题答案为 D 选项。

128. 2009 年, 1-5 月, 全国钢坯月均进口量为多少万吨? ()

- A. 45.6 B. 46.2
C. 47.4 D. 49.0

【答案】A。

【考点】资料分析—文字资料

【解析】由第一段最后一句话得到: 09 年 6 月钢坯进口 $57-19=38$ 万吨, 7 月钢坯进口 57 万吨; 由第二段第四行得到 1~7 月总量为 323 万吨, 所以 1-5 月月均进口量 = $(323-57-38)$



/5=45.6。因此, 本题答案为 A 选项。

129. 2007 年 1-7 月, 全国粗钢产量约为多少亿吨? ()

- A. 2.0 B. 2.4 C. 2.8 D. 3.2

【答案】C。

【考点】资料分析—文字资料

【解析】由材料可知, 2009 年 1~7 月全国粗钢产量为 31731 万吨, 同比增长 2.9%, 增速同比下降 6.4%, 则 2008 年 1~7 月同比增长: 2.9%+6.4%=9.3%, 则 2007 年 1~7 月全

国粗钢产量为 $\frac{31731}{(1+2.9\%)(1+9.3\%)} < \frac{31731}{1+2.9\%+9.3\%} < \frac{32000}{1.12} = 285^{**}$ 万吨 ≈ 2.85 亿

吨, C 项最为接近。

130. 下列说法与资料相符的是 ()

- A. 2008 年 1-7 月, 全国粗钢产量高于钢材产量
 B. 2009 年 1-7 月, 全国焦炭产量低于 2007 年同期水平
 C. 2008 年 1-7 月, 全国铁矿砂进口量超过 3 亿吨
 D. 2009 年 1-7 月, 全国钢材进出口总量比上年有所下降

【答案】D。

【考点】资料分析—文字资料

【解析】A 选项: 08 粗钢产量 $31731/(1+2.9\%)$, 08 钢材产量 $37784/(1+7.6\%)$, 直除首位明显得到 08 年钢材产量明显大于粗钢产量, 故 A 选项错; B 选项: 09 年焦炭产量为

19048 万吨, 07 年为 $\frac{19048}{1-3.5\%} = \frac{19048}{(1-3.5\%)(1+11.3\%)} \approx 19048 \times \frac{1+3.5\%}{1+11.3\%}$, 由于

$\frac{1+3.5\%}{1+11.3\%}$ 小于 1, 所以 07 年结果小于 19048, 即小于 09 年, 故 B 选项错; C 选项: 08 年铁矿砂进口量为 $35525/(1+31.8\%)$, 直除小于 3 亿吨, 故 C 选项错。

D 选项: 09 年钢材出口 1116 万吨, 进口 988 万吨, 所以进出口总量 $= (1116+988) = 2104$ 万吨; 08 年钢材出口量为 $1116/(1-67.3\%)$, 直除, 首位商 3, 即出口量有 3000+; 进口量为 $988/(1+1.6\%)$; 所以 08 进出口总量 $= 3000++988/(1+1.6\%)$, 超过 09 年的 2104 万吨, D 选项正确。

因此, 本题答案为 D 选项。