



2017 年吉林公务员考试行测真题及答案解析 (乙)

2017 年吉林公务员考试行测真题及答案(乙)(精选)PDF 版下载(答案解析请下载 PDF 版查看)

第一部分 常识判断

(共 20 题, 参考时限 15 分钟)

常识判断部分主要考查考生的基本常识和基本经验。请根据题目要求, 在四个选项中选出一个正确答案。

请开始答题:

- 党的十八大以来, 一些标志性话语深刻反映了中央治国理政新理念。其中, 下列标志性话语与治国理政新理念对应错误的是()。
 - “刮骨疗毒, 壮士断腕”——加强党风廉政建设
 - “踏石留印, 抓铁有痕”——推动国防军队改革
 - “凝聚共识, 合作共赢”——发展大国外交
 - “一个都不能少”——全面建成小康社会
- 习近平指出, 领导干部要不忘初心, 坚守正道, 必须坚定文化自信。没有中华优秀传统文化、革命文化、社会主义先进文化的底蕴和滋养, 信仰信念难以深沉而执着。与这段话观点一致的是()。
 - 正本清源, 独树一帜
 - 海纳百川, 有容乃大
 - 薪火相传, 推陈出新
 - 各美其美, 和而不同
- 翻开古代诗词, 你可以一一品味诗人们深切的思想感情。读王维、孟浩然, 你懂得了什么是钟情山水; 读杜甫、白居易, 你懂得了什么是忧民情结; 读辛弃疾、陆游, 你懂得了什么是爱国情怀。这段话体现的哲理是()。
 - 不同事物有不同的矛盾
 - 矛盾的普遍性和特殊性相互转化
 - 同一矛盾的两个不同方面各有特殊性
 - 同一事物在发展的不同阶段上有不同的矛盾
- 在生活实践中, 人们会自觉不自觉地思考世界、思考周围的人和事, 在思考中会触及各种具有哲学性质的问题, 下列属于哲学层面的思考的是()。
 - 劳动力是商品吗
 - 陶瓷是硅酸盐材料吗
 - 存在就是被感知吗
 - 水为什么往低处流
- 下列古代为官理念出自道家的是()。
 - 君使臣以礼, 臣事君以忠
 - 不义而富且贵, 于我如浮云
 - 以道佐人主者, 不以兵强于天下
 - 邦有道则仕, 邦无道则可卷而怀之
- 在我国文化用语中经常出现“别称”或“代称”。下列关于“别称”和“代称”的表述错误的是()。
 - 李清照词“人比黄花瘦”中的黄花是菊花
 - 古人用“弄璋之喜”来祝贺他人升官
 - 人们称妇女为“巾帼”是由于妇女戴的头巾叫巾帼
 - “及笄之年”指古代女子年满十五岁, 到了可结婚的年纪
- 2016 年农民李某把自家的 10 亩土地入股流转给某民营农业科技有限公司, 成为该公司的股东和员工。年底, 她除每亩地获得保底租金 1000 元外, 又领了 5% 的分红, 加上每月工



资 1200 元。一年下来能挣四万多。李某的收入()。

- ①属于按生产要素分配 ②受公司经营状况的影响
③属于按劳分配 ④受股票价格波动的影响
- A. ①② B. ③④
C. ①④ D. ②③


8. 下列四组诗句分别反映了中国古代四种传统节日习俗, 其起源与佛教没有直接关联的是()。

- A. 谁家见月能闲坐, 何处闻灯不看来
B. 今朝佛粥交相馈, 更觉江村节物新
C. 风雨梨花寒食过, 几家坟上子孙来
D. 道场普渡妥幽魂, 原有孟兰古意存

9. 在中国传统文化中, 鸡具有君子风范。《韩诗外传》说鸡有五德——()。

- A. 文德、武德、勇德、仁德、信德 B. 智德、勇德、武德、礼德、义德
C. 智德、武德、勇德、礼德、信德 D. 文德、勇德、武德、仁德、义德

10. 发展工业旅游能使人牢记工业文明的历史足迹, 某旅游团组织开展一次“工业旅游”, 根据下图内容及顺序判断, 该旅游团游览的工业文明依次是()。



- A. 啤酒酿制技术、青铜器制作技术、纺织技术、风电技术
B. 橡胶加工技术、景泰蓝制作技术, 服装技术、采油择术
C. 啤酒酿制技术、景泰蓝制作技术、纺织技术、风电技术
D. 橡胶加工技术、青铜器制作技术、服装技术、采油技术

11. 下列关于云的说法错误的是()。

- A. 冷却云中强烈的气旋扰动使飞机发生波动
B. 积雨云中的雷电会给飞机带来极大的危险
C. 贝母云常见于高纬度地区, 有珍珠般光泽
D. 夜光云出现在黄昏后的夜空, 有银色光泽


12. 下列地貌与成因的连线, 正确的是()。

- A. 黄土高原沟壑纵横——风力沉积
B. 云南的石林——流水侵蚀
C. 华北平原——地壳上升的结果
D. 四川盆地——海浪侵蚀

13. 生物学家认为, 人体有两个大脑系统存在, 一个是头颅中的大脑系统, 另一个是胸腹内的“第二大脑”系统。下列诗词描写的活动与“第二大脑”系统有关的是()。

- A. 自从弃置便衰朽, 世事蹉跎成白首
B. 一向年光有限身, 等闲离别易消魂
C. 无可奈何花落去, 似曾相识燕归来
D. 料得年年肠断处, 明月夜, 短松冈

14. 下列新闻标题用语存在明显错误的是()。



15. 下列有关输血和输液的说法错误的是()。
- A. 输血时一般应该是以输同型血为原则
 B. 根据病情需要有时可以进行成分输血
 C. 成年人一次献血 500cc 不影响健康
 D. 输血前先鉴定献血者与受血者血型
16. 严重缺氧的病人输氧时, 要在纯氧中混入 5% 的 CO₂ (二氧化碳), 目的是()。
- A. 用 CO₂ 维持呼吸中枢的兴奋 B. 节约氧气
 C. 让人体吸收 CO₂ D. 用 CO₂ 增加氧气罐压力
17. 某校在长白山举行地理夏令营活动。在野外, 老师要求同学们除了文字记录外, 还要将看到的典型地貌和地质结构描绘出来, 同学们应采用的绘画技法是()。
- A. 速写 B. 工笔
 C. 写意 D. 留白
18. 下列古代汲水灌溉工具与应用原理对应错误的是()。
- A. 桔槔——杠杆原理 B. 辘轳——轮轴原理
 C. 翻车——对称守恒原理 D. 筒车——叶轮原理
19. 中国首位 80 后女航天员王亚平, 随神舟十号飞船进入太空飞行 15 天。飞行中她不会碰到的情况是()。
- A. 看到绚丽多彩的极光 B. 四周一片漆黑
 C. 穿过稠密的大气层 D. 听到远处星体爆炸的声音
20. 关于人体消化和吸收的叙述, 错误的是()。
- A. 胃吸收酒精的能力较强 B. 胆汁不具有促进脂肪消化的功能
 C. 大肠的作用是排泄未吸收的食物 D. 肝被誉为“物质代谢中枢”

第一部分结束, 请继续做第二部分!

第二部分 言语理解与表达
 (共 30 题, 参考时限 25 分钟)

本部分包括两种类型的试题:

一、选词填空: 共 10 题。请根据题意, 从所给的词语中选出最恰当的词语填入空格内, 从而使句子的意思表达得最准确。

请开始答题:

21. 在充满变量的世界, 我们是眼花缭乱的观望者, 也是置身其间的推动者。曾经走街串巷的叫卖声不见了, 只需手指轻轻一点即可享受送货上门的电商火了起来; 全家人乃至几家人守着一台电视机等待每天一集电视剧的场景不见了, 取而代之的是乱花渐欲迷人眼的多屏时代; 人们获取信息的渠道不仅早已多样化, 而且信息芜杂难辨——“_____”, 是我们生活中的常态, 容不得视而不见, 也容不得退避。

填入画横线部分最恰当的一项是()。

- A. 难 B. 变
 C. 乱 D. 散

22. 近两年有一种产自东北的非主流水果——菇娘 (这个“娘”在东北读作三声, 并缀以儿



化音) 颇有_____之势。每逢春夏之交, 大大小小的水果铺子, 都少不了姑娘小巧的身影, 而它特有的香气与口感据说确实俘获了不少姑娘的舌尖呢。

填入画横线部分最恰当的一项是()。

- A. 一步登天 B. 后来居上
C. 反客为主 D. 登堂入室

23. 春晚相声《新虎口遐想》的出现, 其最现实的意义就在于它实现了相声本质的回归, 讽刺的分寸感好, 对社会不良现象反思有力。只是_____春晚时间的限制, 结尾比较仓促, 实在是美中不足的遗憾。但是_____, 它回归了本质, 找回了初心。

依次填入画横线部分最恰当的一项是()。

- A. 由于 大醇小疵 B. 囿于 瑕不掩瑜
C. 困于 毋庸置疑 D. 缘于 不言而喻

24. 如今越来越多没营养的综艺节目占据了市场的_____. 而《朗读者》却别具一格, “慢下来”用“朗读”做点事, 这才是真正稀缺而有价值的电视文化。《朗读者》证明文化类节目未必“冷”, 《朗读者》节目组把这份对精神文化的尊重到节目中来。

依次填入画横线部分最恰当的一项是()。

- A. 主体 移植 B. 主流传达
C. 首席 延伸 D. 份额演绎

25. 《中国诗词大会》推广传统诗词文化的成效_____. 观众在春节期间远离了牌桌和酒席, 坐在电视机前欣赏选手的精彩对决。将古诗词元素融入现代生活中, 或许是传承传统文化的好方法。虽然不是每个人都要写诗成为诗人, 古诗词欣赏能力也未必与背诵能力成正比, 但在日常文字表达中化用古诗词, 足以让一个人在精神上_____起来。

依次填入画横线部分最恰当的一项是()。

- A. 有目共睹 雍容 B. 家喻户晓 充实
C. 立竿见影 丰盈 D. 显而易见 从容

26. 汉语是一种能产性极强的语言, 在网络语境催生下, 大量新颖别致、有时代内涵的新词族_____, 它们在类推机制下以共同的语素为基础, 形成可不断扩充的庞大词汇家族。如: “微×”词族、“晒×”词族、“×奴”词族等等。诸如此类的表达在当下的口语交流中_____。

依次填入画横线部分最恰当的一项是()。

- A. 一鸣惊人遍地开花 B. 脱颖而出 屡见不鲜
C. 横空出世 细大不捐 D. 异军突起俯拾皆是

27. 客观地说, “网红”并不一定是_____. 这个时代, 站在互联网风口, 猪都能飞起来, 何况是有看点、有炒点的“网红”呢? 社会原子化、娱乐疯魔化、价值的多元、舆论的分野……给了“网红”勃兴与风靡的最佳土壤。若三观正, 有节操, “网红”也可以“最美”; 可一旦陷入眼球经济的“名利场”, 这个时候, 资本只要稍稍抛个媚眼, “网红”经济就容易_____。

依次填入画横线部分最恰当的一项是()。

- A. 牛鬼蛇神 剑走偏锋 B. 洪水猛兽 走火入魔
C. 妖魔鬼怪 鬼迷心窍 D. 狼烟烽火 趋之若鹜

28. 青山隐隐, 芳草萋萋, 春天的脚步总是来去匆匆。“二月里来好春光”的余音还在耳畔_____, _____ 之间便到了细雨纷纷、祭扫亲人的清明时节。

依次填入画横线部分最恰当的一项是()。

- A. 缭绕 蓦然 B. 回响 忽然
C. 飘荡 遽然 D. 萦绕 倏忽



29. 近年来, 荒唐滑稽的文化闹剧时有所闻。有的地方, 在举行某种群众性的活动时, 全体穿着所谓的“汉服”, 就让人哭笑不得。在今天复活古代的服饰, 就算是弘扬优秀的传统文化? 如果把弘扬传统文化理解成古代服装, 一齐行跪拜礼, 这就_____让人哭笑不得, _____令人欲哭无泪了。凡此种种, 都是_____的典型表现。

依次填入画横线部分最恰当的一项是()。

- A. 不是 而是 食古不化 B. 不是 就是 生吞活剥
C. 非但 反而 生搬硬套 D. 不仅 而且 囫囵吞枣

30. 某些意义上讲, 与现代白话文一道_____于 20 世纪初的中国科幻文学, 起点是很高的, 因为当初在中国力推科幻文学的“科幻粉”中, 有着不少文学史上的“大腕”级人物。然而因科幻文学今日之_____, 以至于许多实实在在的事例, 在今天不熟悉文学史的人听来, 反倒像是_____了, 因为, 寒酸久了, 再怎么说自己“出身高贵”也难取信于人。

依次填入画横线部分最恰当的一项是()。

- A. 发端 凋敝 低人一等 B. 滥觞 式微 无稽之谈
C. 起源 衰落 天方夜谭 D. 发轫 衰败 胡说八道

二、阅读理解: 共 20 题。请根据题目要求, 在四个选项中选出一个最恰当的答案。
请开始答题:

31. 每年 12 月 9 日, 不少高校都会举行“一二·九大合唱”。年轻的大学生通过合唱比赛的方式, 跨越时空, 与八十多年前的那群青年对话, 缅怀那段“_____”。

填入画横线处最恰当的诗词是()。

- A. 书生意气, 挥斥方遒
B. 壮志饥餐胡虏肉, 笑谈渴饮匈奴血
C. 一身转战三千里, 一剑曾挡百万师
D. 仰天大笑出门去, 我辈岂是蓬蒿人

32. 一对夫妻, 因为上班时间常错开, 有时甚至好几天都碰不上面。结婚近 30 年来, 丈夫每次都会写一张纸条放在枕头下面留给下班回来的妻子看; 根据微信团队的统计, 2 月 14 日 0 点到 18 点, 520 的微信红包共发出 960 万个, 与这些“烧钱”的情感表达方式相比, “枕下情书”成本显然要低得多; 然而, 真诚的态度, 坚持的力量, 让“枕下情书”既感动了当事人, 也打动了许多读者。伴随着市场化和商品化的进程, 人们情感表达的手段越来越单一化; 礼物是否贵重往往代表着心意与诚意, 让情感表达的成本越来越高, “谈感情伤钱”成为一种尴尬的现实。正因为如此, “枕下情书”才显得弥足珍贵。

这段话作者最想表达的观点是()。

- A. 用金钱衡量感情很尴尬 B. 情感表达手段过于单一
C. 感情中真诚态度更珍贵 D. 追求虚荣已成社会主流

33. 目前上班每天 8 小时, 中间吃一顿饭, 因为这顿饭至少浪费一小时时间, 得不偿失。如果吃两顿, 上午 10 点上班, 下午 4 点下班, 两头吃饭时间都宽裕, 对身体也好, 符合早吃饱、晚吃早的养生理念。每天 6 小时上班效率高, 精力集中, 不间断就不浪费时间, 晚上还能拉动社会消费, 第二天早起会儿也无碍。

这段文字主要想说明()。

- A. 吃三顿饭弊大于利 B. 吃饭是民生头等事
C. 吃饭要讲时间成本 D. 吃两顿饭好处多多

34. 真正的冬是属于北方的, 记忆中北方的雪就像一位硬汉——狂风呼啸, 大雪纷飞, 一整夜便厚可没膝, 一积就一个多星期, 捧在手里不化, 踩在脚下硬成冰, 尽显着雄奇的风格。和三五好友手牵着手, 踩着滑溜溜的冰面小心翼翼挪行, 每一步都要付出极大勇气。从冰层下面传来“哗啦啦”一阵闷响, 便齐刷刷被吓得尖声惊叫, 定格一样地僵住, 仿佛冰面上随



时会豁开大口把我们吞进去。当蹚水过地雷区似的连挪带滑溜到岸边, 虽然面色如土, 心里却感到前所未有的刺激和兴奋。

这段文字主要描写的是()。

- A. 北方冰雪带来的特殊体验
- B. 挥之不去的一缕乡愁
- C. 冰封雪飘的北国风光
- D. 北方冬天带来的童年乐趣

35. “孩子们带我们看帆船落日、出海、沙滩散步、跳伞, 很开心。”这是一位高中数学老师在鸡年春节期期间发布的一则朋友圈, 也是无数中国家庭春节团圆相聚的新缩影。春节期间的数据显示, 团聚主体没有变, 但团聚的方式却有了新变化, 许多家庭“要么在景区, 要么在去景区的路上”。旅游_____。

填入画横线处最恰当的一句是()。

- A. 为春节团聚提供了新形式
- B. 正成为春节消费的新热点
- C. 是观察当代中国的新窗口
- D. 为子女尽孝提供了新样板

36. 古人形容漂亮可以用“貌比潘安”“玉树临风”“顾盼神飞”, 我们只会说“高富帅”“白富美”; 古人形容人难看可以用“东施效颦”“獐头鼠目”, 我们只会说“矮穷矬”“颜值低”; 古人表达悲伤用“我心伤悲, 莫知我哀”, 我们只会用“蓝瘦香菇”……也许这种对比有些极端, 但如果有一天你张口闭口只会习惯性地说“高富帅”“矮穷矬”, 就会遗失了祖先留给我们宝贵的语言财富。

这段文字意在说明()。

- A. 流行语威胁传统语言财富
- B. 语言随着时代发展而改变
- C. 古汉语已经被大众所厌弃
- D. 用流行语说话更简单直白

37. 我有很多书想读, 却读不进去, 以致很多想了解的学问, 都难以了解。牟宗三先生回忆年轻时在北大读书, 有一天得到熊十力的《新唯识论》, 一个晚上就读完了。这怎么可能呢? 这部书一直放在书架上, 我曾多次打开它, 但都读不进去。有一次, 我在美国作家迪拉德的《听溪者的朝圣》上, 看到这个说法: 《道德经》写的是“生活的艺术”。对于只有五千言的老子《道德经》, 我从来没有读通过, 因此无法得出一个贯通的看法。于是, 我以“如何生活”的角度去读, 结果第一次读通老子, 并且得出中心思想, 感觉非常不错。

这段话表达的主要观点是()。

- A. 找到合适的角度读书则更易读通
- B. 书读不通便不能了解更多的学问
- C. 只有自己感兴趣的书才能易读通
- D. 某些理论性较强的书应多读几遍

38. 中国人常会举全族之力兴建家庙, 以此弘扬家族传承, 彰显先祖荣光; 集地方财力设立乡祠, 以此纪念故土先贤, 宜示人杰地灵。至于身处异乡的客商们, 则集资兴建会馆, 以乡谊抱团, 互相帮衬彼此提携。这是中国传统文化的特色。

下列没有体现文中所指的“中国传统文化特色”的是()。

- A. 越鸟南栖
- B. 叶落归根
- C. 安土重迁
- D. 功成身退

39. 法国的候车大厅设有故事自动分发机。上设 1、3、5 三个圆形按钮, 分别代表阅读耗时一分钟、三分钟和五分钟的故事, 底下设有打印纸出口。按下任意按钮, 就会随机打出一张印有故事的小纸条, 供旅客在候车时或旅途中阅读, 且不收一分钱。所谓故事, 并非只是段子, 他们中大多数是“风雅”发轫正规文学作品, 有小说、诗歌、散文、童话等等。据了解, 故事自动分发机项目在启动之初, 就搜集到 4 万篇各种体裁的文学作品, 且这些作品全部是原创, 这在其他国家或许是难以想象的。

从这段文字中无法推出的是()。



- A. 故事分发机为原创作品提供了发布平台
- B. “免费写, 免费看”的模式会持续下去
- C. 故事自动分发机满足了乘客的文化需求
- D. 故事分发机契合了法国浓厚的文学氛围

40. 如果按照距离太阳的远近来排序, 地球在大行星里可以排到老三。比地球更靠近太阳的是金星和水星, 它们的公转轨道位于地球的内侧, 因此天文学家也称它们为“内行星”。当地球、内行星和太阳按此次序严格位于一条直线上时, 由于强烈的亮度反差, 我们会发现内行星像一个小黑点一样在日面上缓缓移动, 这就是凌。如果通过日面的是金星, 那么就称之为“金星凌日”。

根据文意, 下列说法错误的是()。

- A. 当地球、内行星和太阳处在同一直线上时就有凌日现象
- B. 凌日现象就是太阳被一个小的暗星体所遮挡
- C. 金星运行到太阳和地球之间时才有金星凌日
- D. 与金星凌日类似的现象还有水星凌日

41. 魏文王问名医扁鹊说: “你们家兄弟三人, 都精于医术, 到底哪一位最好呢?” 扁鹊答说: “长兄最好, 中兄次之, 我最差。” 文王再问: “那么为什么你最出名呢?” 扁鹊答说: “我兄长治病, 是治病于病情发作之前。由于一般人不知道他事先能铲除病因, 所以他的名气无法传出去, 只有我们家的人才知道。我中兄治病, 是治病于病情初起之时。一般人认为他只能治轻微的小病, 所以他的名气只及于本乡里。而我扁鹊治病, 是治病于病情严重之时。一般人都看到我在经脉上穿针管来放血、在皮肤上敷药等大手术, 所以认为我的医术高明, 名气因此响遍全国。” 文王说: “你说得好极了。”

这个故事不能给公务员工作带来的启示是()。

- A. 事后处理不如事中处理
- B. 事中处理不如事前处理
- C. 疏忽可能造成重大损失
- D. 不要为表面现象所迷糊

42. ①这就造成人们像蚕蛹一般, 越来越蜷缩进小小的“信息茧房”当中。

②研究表明, 人类会习惯性地从已有的信念和假设角度来搜索、解读和获取信息, 忽略甚至不看与自己价值观取向相左的消息。

③以情感诉求为支柱的“后真相”, 其特征就是飘忽不定, 科学精神更无从谈起。

④历史无法言说新闻具体是在哪一天诞生的, 但可以肯定的是, 假新闻在新闻诞生那天起就存在至今, 并如同幽灵一般影响着公众情绪。

⑤假新闻泛滥, 以至于《牛津词典》2016 年年度词汇是“后真相”。

⑥不久前, 欧洲国家马其顿的一座小城威莱斯, 因此出现了假新闻“淘金热”而登上西方各大媒体。

将以上 6 个句子重新排列, 语序正确的是()。

- A. ⑤④①⑥③②
- B. ②⑤③⑥④①
- C. ⑥⑤③②①④
- D. ④⑥⑤③②①

43. 吃药还是输液, 本不是选择的难题。吃药是最常用和最便利的治疗手段, 但口服药物的效率不高也是常事; 输液使得药物直接进入血液, 效用和利用度更高, 但滥输液的副作用同样不小。不过, 自从有了输液, 不仅“挂个水好得快”被医生推荐, 而且患者群体也对“输液好得快”普遍认同, 主动要求医生输液的不在少数, 有些患者还对医生不给输液颇有微词。

这段文字意在说明()。

- A. 患者缺乏科学的健康知识
- B. 人们对输液存在认识误区
- C. 输液见效快是其最大缺陷
- D. 推荐输液的医生不够专业

44. 古代的石桥拱形大多为半圆形, 这种建筑形式尽管比较优美完整, 但因为拱顶造成桥高



坡陡, 车马行人非常不便。作为一条贯通南北的枢纽, “学步桥”的建造者采用了圆弧拱形式, 使石拱高度大为降低, 桥面过渡平稳, 车辆行人非常方便, 达到了低桥面便于过往、大跨度便于行船的双重目的。而且相对于传统的建筑形式用料省施工方便。

对这段文字的主旨概括最准确的是()。

- A. 介绍圆形拱石桥设计方案的优越性
- B. 指出古石桥在建筑风格上的唯美性
- C. 突出学步桥在建筑形式上的创新性
- D. 比较传统石桥和圆弧拱桥的实用性

45. ①没有人可以精力无限、奔腾不息, 忙碌周期与休憩周期相结合才能让生命充满精彩。②适度的停顿犹如登山过程中的休整, 是从胜利走向胜利、从激昂迈向激昂的必经阶段。③就像电影镜头, 长短镜头结合在一起, 才会形成缤纷多彩的画面节奏。独处不仅是忙碌之间的停顿, 更像是一次身心调整、精神蓄力。④所谓“静一分, 慧一分”, 养一团清静之气, 擎一片悠然心光, 映照自己同万物的关系。正是独处的本意。

苏轼有句名言: “善养身者, 使之能逸而能劳。”这句话在原文中的恰当位置是()。

- A. ③
- B. ②
- C. ①
- D. ④

阅读下面的短文, 回答 46~50 题。

我离开小山村的老家, 已然四十多年。常想起的, 却是老家曾经光洁滑亮的门槛。

都说童年时的所见所闻和遇到的刺激, 在一个人大脑皮层中会形成最初的沟回, 打下最深的烙印——或许真是这样吧。当年的小山村, 清一色是木结构房。于是, 门槛就成为住宅的一个“不起眼”的重要构件。

在小山村, 新建的门槛都会被刷上桐油, 而当木头敞开每一寸肌肤, 激活每一个细胞, 将桐油饱饱地吸纳进去时, 便呈现出黄金的底色, 裸裎着山村家乡的胎记。而记忆中, 我一直以为, 门槛就是家的代名词, 跨门槛就等于离开了家。因而, 自从离开小山村去城里读书后, 平日里我总是把门槛当作自己的感情“拐杖”。

时光变迁, 而今, 养我长大送我离家的祖父祖母皆已作古, 就连老宅也因为小叔家“建新拆旧”的需要而夷为平地。小山村的那些老宅正在消失, 门槛也随之消失。但我总以为, 物质的门槛可以消匿, 但充溢过往人间喜怒哀乐故事的“门槛”终究可以永存, 并给人以永恒的回味和启迪。是啊, 人生里跨越门槛的抬脚与落地、放下与收回, 都会与我们的命运相交, 影响我们的人生之路。

46. 第一段的“却”字看似突兀, 实有其用意, 即()。

- A. 强调门槛看似不起眼却令我难以忘怀
- B. 突出时光变迁和家乡巨变给人的沧桑感
- C. 暗示门槛对作者所具有拐杖作用
- D. 引出虽已远去却令作者难忘的儿时故事

47. 文中的省略号表示有一段文字被略去了, 这段文字最可能写的是()。

- A. 作者家乡的自然环境和风俗习惯
- B. 老宅的习用建材和结构特色
- C. 门槛“不起眼”的原因和重要性
- D. 大脑沟回的主要功能和分区

48. 下列理解与表述, 不符合原文意思的一项是()。

- A. 家乡老宅的门槛寄托着作者淡淡的乡愁
- B. 要留住传统就要放慢建新拆旧的脚步



- C. 跨越门槛就像人生道路的一次次选择
 D. 涂有黄金底色的门槛是家乡的独特印记
49. 下列作为短文标题最恰当的一项是()。
- A. 门槛, 永不褪色的记忆
 B. 时光, 从门槛上匆匆跨过
 C. 门槛
 D. 门槛, 跨过去就是门, 跨不过就是坎
50. 本文没有给我们提供的信息是()。
- A. 桐油在作者家乡曾被普遍用于门槛上漆
 B. 作者家乡老宅的门大多是木制而成的
 C. 一些古朴的村落正消失在城镇化大潮中
 D. 已人到中年身在异乡的作者是少小离家

第三部分 判断推理

(共 30 题, 参考时限 30 分钟)

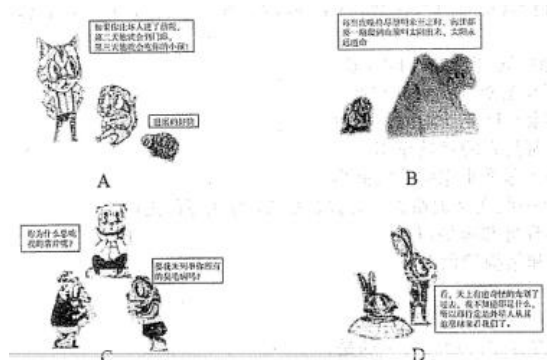
本部分包括四种类型的试题:

一、定义判断: 共 10 题。每道题先给出定义, 然后列出四种情况, 要求你严格据题目要求作答。注意: 假设这个定义是正确的, 不容置疑的。

请开始答题:

51. 滑坡谬误, 是指不合理地使用连串的因果关系, 将“可能性”转化为“必然性”, 把小概率事件当作必然发生的事件进行推理的一种逻辑谬误。

根据上述定义, 下列漫画中出现的逻辑错误属于滑坡谬误是()。



52. 泛化是指人和动物一旦学会对某一特定的条件刺激做出条件反应以后, 其他与该条件刺激相类似的刺激也会引发其条件反应。

根据上述定义, 下列现象属于泛化的是()。

- A. 曾经被大狗咬过多次的人, 日后见到小狗也会产生恐惧
 B. 看到别人的一个行为得到了奖赏之后, 自己常常能效仿
 C. 孩子做了好事, 得到一粒糖作奖赏, 他就会再做好事
 D. 浸淫古玩行当数年的专家, 真品赝品, 很容易辨别出来
53. 货币贬值, 是货币升值的对称, 是指货币所代表的价值量或含金量的降低。表现在两个方面: 一是货币在国内购买力的下降, 二是本国货币对外币的比价 (对外汇率) 下降。

根据上述定义, 下列描述属于人民币贬值的是()。

- A. 100 美元去年兑换 600 元人民币, 今年可兑换 700 元人民币
 B. 100 元人民币去年可以买 20 斤大米, 今年可以买 30 斤大米
 C. 100 美元去年兑换 600 元人民币, 今年仍兑换 600 元人民币
 D. 100 美元去年兑换 600 元人民币, 今年可兑换 500 元人民币



54. 破窗效应是犯罪学的一个理论, 该理论认为环境中的不良现象如果被放任存在, 会诱使人们效仿, 甚至变本加厉。

根据上述定义, 下列体现了破窗效应的是()。

- A. 千里之堤, 溃于蚁穴
- B. 一屋不扫, 何以扫天下
- C. 一条街道有些许纸屑, 人们最终会理所当然地将垃圾随处丢弃
- D. 小孩打破了窗户, 必将导致主人更换玻璃, 从而推动社会就业

55. 顺应性迁移, 是指将原有认知经验应用于新情境中时, 调整原有的经验或对新旧经验加以概括, 形成一种能包容新旧经验的更高一级的认知结构, 以适应外界的变化。顺应性迁移的根本特点是自下而上。

根据上述定义, 下列现象属于顺应性迁移的是()。

- A. 对网络、战争、游戏等概念进行重新组合, 就会形成网络战争游戏的新概念
- B. 原有认知结构中的概念“鱼”, 由带鱼、草鱼等概念组成, 现在要学习鳗鱼, 就把它纳入“鱼”的概念中, 从而获得鳗鱼这一新概念的意义
- C. 在日常生活中, 先形成了报纸、电视等概念, 当这些概念不能解释“计算机网络”这个新概念时, 就建立一个概念“媒体”来标志这一类事物
- D. 对一些原有的舞蹈动作进行重新调整和排列之后, 编排出一套新的舞蹈动作

56. 把喜欢跟着前面的路线走的习惯称之为“跟随者”习惯, 把盲目跟从习惯和思维惯性而做出反应导致失败结果的现象称为“毛毛虫效应”。

根据上述定义, 下列没有体现毛毛虫效应的是()。

- A. 部分股民信奉买涨不买跌, 结果却是经常被套牢
- B. 小王认为法不责众, 就和同事执行了错误命令
- C. 小张把头发染成了流行色, 结果越看越觉得不好看
- D. 怕事的小李和其他同学, 在小明作弊时保持沉默

57. 不可抗力, 是指不能预见、不能避免并不能克服的客观情况。因不可抗力不能履行合同或者造成他人损害的, 不承担民事责任, 法律另有规定的除外。

根据上述定义, 下列情况不属于不可抗力的是()。

- A. 因天气原因不能起飞而导致的航班延误
- B. 因地震致房屋倒塌, 使租赁合同不能履行
- C. 因出口国发生战争而导致的货物延期交付
- D. 因卖方工厂倒闭而导致的不能交付货物

58. 踢猫效应, 是一种典型的负面情绪的传递机制, 人的愤怒情绪和不满情绪, 往往会沿着社会关系链条由强到弱依次传递, 从金字塔尖一直传递至金字塔底层, 而处在最底层的个体, 往往由于无处发泄, 成了最终的受害者, 进而影响其行为。

根据上述定义, 下列最符合踢猫效应的是()。

- A. 淘气的小男孩在学校把另外一位同学推倒了, 老师批评他几句, 他回家后跟家长哭了起来
- B. 李某出差把宠物狗委托邻居照看, 因狗生病二人闹翻了脸, 自此两家孩子也不一起玩了
- C. 一位母亲在单位受到领导的批评, 回家后把淘气的女儿骂了一通, 女儿把遥控器摔坏了
- D. 小明妈妈在公园门口卖饮料, 有一卖冰糕的女士经常对她发泄不满情绪, 二人吵了起来

59. 具体行政行为的错误, 是指在具体行政行为中, 行政主体所作的意思表示或者外界理解



的意思表示与其真实意思存在明显的矛盾。具体行政行为的瑕疵, 是指具体行政行为不具备合法的要件。

根据上述定义, 下列属于有瑕疵的具体行政行为的是()。

- A. 某政府部门在计算一笔拆迁补偿费时, 其适用的法律条文错误
- B. 某工商部门在对无证经营的某个体工商户做出行政处罚的程序中存在违规行为
- C. 某税务机关在对某公司做出的税务处罚通知书中将 5000 元罚金额写为 500 元
- D. 某公安机关在对张某作出罚款的行政处罚决定书上未加盖公章

60. 机械表演, 是指对作品的表演使用机械设备予以公开播放的行为, 不包括开放放映电影和通过广播传播作品的行为。

根据上述定义, 下列行为属于机械表演行为的是()。

- A. 甲超市使用电视机公开播放存在电脑里的歌曲
- B. 丙美术馆公开展览一大批书法作品和摄影作品
- C. 丁商场通过幻灯机公开再现存在电脑里的电影
- D. 乙电台在广播节目播出同时, 在网上同步播出

一、类比推理: 共 5 题。每道题先给出一组相关的词, 要求你在备选答案中找出一组与之在逻辑关系上最为贴近、相似或匹配的词。

请开始答题:

61. 蛇: 腿

- A. 鸡: 翅膀 B. 狮: 爪子
- C. 牛: 尾巴 D. 鲸: 鱼鳃

62. 人文科学: 物理

- A. 茶叶: 红茶 B. 北方人: 湖北人
- C. 工为: 重工业 D. 薄荷糖: 牛奶糖

63. 植物: 裸子植物: 红杉

- A. 学校: 中学: 小学 B. 国家: 民族: 公司
- C. 科学: 物理学: 力学 D. 星系: 星座: 太阳

64. 作品: 文字作品: 摄影作品

- A. 人身权: 姓名权: 肖像权 B. 糖果: 棒棒糖: 水果糖
- C. 科学: 自然科学: 经济学 D. 面食: 面条: 重庆小面

65. 电视台 对于 () 相当于 () 对于 蚂蚁

- A. 电台 蟋蟀 B. 电视 蚁巢
- C. 媒介 昆虫 D. 网络工蚁

三、事件排序: 共 5 题。每道题给出五个事件, 每个事件是以简短语句表述的, 接着给出事件的四种假定发生顺序, 请你选择其中最符合逻辑的一种排列顺序。

请开始答题:

66. (1)控制不住购买的冲动 (2)收拆网购快递很幸福
 (3)囤积许多无用的货物 (4)网络购物方便且实惠
 (5)自己的钱包捉襟见肘
 A. (2)一(1)一(4)一(3)一(5) B. (4)一(2)一(1)一(3)一(5)
 C. (4)一(1)一(3)一(2)一(5) D. (2)一(1)一(5)一(3)一(4)
67. (1)实地考察探因求发展 (2)蔬菜滞销被菜农丢弃
 (3)种植油麦菜面积大增 (4)种植油麦菜收益很高
 (5)组织菜农做品牌农业
 A. (1)一(5)一(3)一(4)一(2) B. (5)一(4)一(3)一(2)一(1)



- C. (4) — (3) — (2) — (1) — (5) D. (3) — (2) — (1) — (4) — (5)
68. (1) 单车领域竞争激烈 (2) 单车数量日益增多
(3) 共享单车试水成功 (4) “野蛮生长” 到达尽头
(5) 政策收紧监管来临
A. (2) — (1) — (4) — (3) — (5) B. (3) — (2) — (1) — (4) — (5)
C. (3) — (1) — (2) — (5) — (4) D. (2) — (4) — (1) — (5) — (3)
69. (1) 盗版 App 网络泛滥 (2) 恶意木马植入手机
(3) 用户手机资费损失 (4) 用户下载安装 App
(5) 正版流行 App 问世
A. (5) — (1) — (2) — (4) — (3) B. (1) — (3) — (5) — (4) — (2)
C. (1) — (2) — (3) — (5) — (4) D. (5) — (1) — (4) — (2) — (3)
70. (1) 坚辞不受, 防微杜渐 (2) 接受别人送礼的鱼吃
(3) 用俸禄长久地买鱼吃 (4) 丢掉相位, 再无鱼吃
(5) 贪小失大, 一发不可收拾
A. (2) — (5) — (4) — (1) — (3) B. (3) — (2) — (5) — (4) — (1)
C. (3) — (2) — (4) — (5) — (1) D. (2) — (4) — (5) — (3) — (1)

四、逻辑推理: 共 10 题。每道题给出一段陈述, 这段陈述假设是正确的, 不容置疑的。要求你根据这段陈述选择一个答案。注意: 正确的答案应与所给的陈述相符合, 不需要任何附加说明, 即可以从陈述中直接推出。

请开始答题:

71. 在一项实验中, 研究者让大学生回忆他们在高中时期的成绩, 告知他们研究者将会从高中获取其真实成绩, 所以撒谎没有任何意义。结果显示: 参与者回忆起的成绩有五分之一都和实际不符, 而不同等级的成绩, 被误记的概率也是不同的。分数越高越不容易记错: 得了 A 的时候总是能准确地被回忆起来, 但得了 F 的时候却难以被想起。

根据以上信息, 可以推出的是 ()。

- A. 人记忆中的成绩可能比真实的业绩更优秀
B. 一般来说, 人们最擅长的就是对细节的遗忘
C. 错误的记忆可以保护我们对公平正义的信念
D. 错误的记忆让我们自我感觉良好, 利于健康
72. 俗话说“每逢佳节胖三斤, 仔细一看三公斤”。春节过后, 人们摸着肚子上突然显露的一圈肥肉细思极恐, 迫不及待地开始了新一轮的疯狂节食和运动。不过, 很多人通过运动、节食减肥好一段时间了, 但是仍然看不到效果。 以下哪项如果为真, 最能解释上述现象? ()

- A. 减肥欲速则不达, 事实上, 减肥速度最好是要控制在一个月减一到两公斤
B. 在减肥的过程中不宜天天称体重, 一周一次就好, 最好在起床空腹时称重
C. 太瘦的人身体内的蛋白量比较低, 处于一种低水平健康状态, 易受伤害
D. 人体对体重的下降很敏感, 会通过刺激饥饿感来提醒自己多吃以维持体重

73. 酵素是一种无需消化就能被人体吸收的小分子营养品, 其营养物质由原材料中的微生物转化和增殖产生。此外, 这些微生物利用蔬果里的维生素、氨基酸等物质进行代谢转化也能产生营养物质。酵素里还含有微量的酶, 其中以糖化酶和蛋白酶为主, 这些酶可以将糖转化为细胞可用的物质。近年来, 酵素产品被商家大肆宣传, 声称酵素有减肥功效, 使得一些爱美的消费者对其趋之若鹜。

以下哪项如果为真, 最能反驳上述商家的观点? ()

- A. 服用某些含有益生菌及多种微生物的酵素类产品, 具有一定的瘦身效果



- B. 在一定条件下, 酵素类产品中的益生菌和微生物有促进肠道蠕动的作用
- C. 酵素进入人体后, 其中的酶会被消化系统降解, 无法发挥生物催化作用
- D. 市场上不合格的酵素类产品, 可能会对服用者的身体造成巨大伤害

74. 有些单位实行竞争性薪酬体系, 员工的工作业绩会与他人对比评估, 由此决定是否能够加薪。在庆业公司, 加薪往往要考虑到员工的教育经历和工作经验。但是, 庆业公司的新任总经理认为, 应该倡导团队精神, 在公司中营造一种和谐融洽的工作环境。

以下哪项如果为真, 可以成为新任总经理观点成立的前提? ()

- A. 竞争是毫无价值的
- B. 合作的价值高于竞争
- C. 公司不同, 环境不同
- D. 是否加薪没有统一标准

75. 天气与我们息息相关。天气预报是很多人每天都要关注的事情。但它有时候并不准确: 明明“说好”是晴天, 但自己刚出门就被大雨淋了。不过, 我国气象科学技术虽然与发达国家存在一定的差距, 但已基本上接近。

以下哪项结果为真, 最能解释上述现象? ()

- A. 24 小时晴雨预报准确率基本达 80%
- B. 预报消息越新, 其准确率也就越高
- C. 美国的暴雨准确率一般也只有 20%
- D. 地域性较强的天气, 预报准确率低

76. 近日, 曼彻斯特大学的科学家宣布, 他们已经可以通过精确控制石墨烯膜中的一孔径, 从咸水中过渡出普通的盐, 从而保证饮用的安全性。据此, 有科学家宣称这种技术可以让海水变成饮用水, 从而彻底改变世界各地的缺水问题。

以下哪项如果为真, 最能支持上述论证? ()

- A. 从前石墨烯氧化物膜已显示出了进行气体分离的强大潜力
- B. 随着气候变化的影响, 许多国家的城市供水出现短缺问题
- C. 这一技术将为制盐业提高脱盐技术的效率开辟新的可能性
- D. 通过改变滤孔大小, 可以实现石墨烯的大规模工业生产

77. 一次, 皇帝称赞《文选》中郭璞的《游仙诗》写得好, 石动筒听了说: “如果让我来写, 肯定胜过他一倍。” 皇帝听了很不高兴, 就令他也写一首, 看看如何“胜过一倍”。石动筒说: “郭璞的《游仙诗》里有两句话: ‘青溪千余仞, 中有一道士。’ 我作两句: ‘青溪二千仞, 中有二道士。’ 这难道还不胜过他一倍?”

这则故事中的石动筒所犯的逻辑错误是()。

- A. 偷换概念
- B. 错误类比
- C. 因果倒置
- D. 自相矛盾

78. 民间有“三九补一冬, 来年无病痛”和“冬令进补, 开春打虎”等说法, 所以大多数人都认为冬季是最佳进补的季节。

以下哪项如果为真, 最能削弱上述观点? ()

- A. 当人们缺乏某些必需的营养时, 应根据情况选用对应的补药
- B. 冬天空气干燥, 及时补充水分或多吃水果, 对人体健康有益
- C. 如果不缺乏营养, 过分补充某一种营养, 可能会对身体有害
- D. 过去冬天保暖措施不佳且人多数营养不良, 现在情况已相反

根据下面资料请回答 79—80 题。

某园林依中轴线布局, 从前到后依次排列着七个庭院, 这七个庭院分别以汉字“天”“地”“人”“日”“月”“星”“辰”来命名。已知:

- ① “天”字庭院不是最前面的庭院。
- ② “星”字庭院和“辰”字庭院相邻。



③ “地” “人” 两庭院间隔的庭院数与 “日” “月” 两庭院间隔的庭院数相同。

79. 根据上述信息, “天” 字庭院可能是 ()。

- A. 第一个庭院 B. 第五个庭院
C. 第四个庭院 D. 第二个庭院

80. 如果第二个庭院是 “辰” 字庭院, 则下列一定为真的是 ()。

- A. 第七个庭院是 “天” 字庭院 B. 第一个庭院是 “星” 字庭院
C. 第三个庭院是 “地” 字庭院 D. 第五个庭院是 “日” 字庭院

第三部分结束, 请继续做第四部分!

第四部分 数量关系与资料分析

(共 20 题, 参考时限 20 分钟)

本部分包括两种类型的试题:

一、数量关系: 共 10 题, 请你仔细观察数字规律及文字表达, 从四个选项中选出你认为最合理的一项来填补空缺, 或者充分利用所给条件, 寻找解决问题的捷径。

请开始答题:

81. 1, 6, 15, 28, (), 66

- A. 45 B. 40
C. 35 D. 56

82. 3, 5, 9, 17, (), 65

- A. 45 B. 33
C. 25 D. 56

83. $\ln 4 - \ln 3$, $\ln 8 - \ln 8$, $\ln 16 - \ln 15$, $\ln 32 - \ln 24$, (), $\ln 128 - \ln 48$

- A. $\ln 64 - \ln 35$ B. $\ln 32 - \ln 28$
C. $\ln 64 - \ln 36$ D. $\ln 32 - \ln 35$

$e^{0.1}$, $e^{-1.3}$, (), $e^{-3.7}$, (), $e^{-5.11}$

A. $e^{-2.1}$, $e^{-4.9}$

B. $e^{2.5}$, $e^{-4.9}$

C. $e^{-2.5}$, $e^{4.9}$

D. $e^{2.5}$, $e^{4.9}$

84.

85. 123456, 61234, 4612, (), 62, 2

- A. 326 B. 261
C. 246 D. 512

86. 小明的父亲生病要做手术, 现在有四家三甲级医院可以选择, 小明调查到在 2016 年, 医院甲动手术的总人数为 1000 人, 动手术后康复出院 902 人; 医院乙动手术的总人数为 2000 人, 1860 人手术后康复出院; 医院丙动手术的总人数为 3000 人, 手术后康复出院 2730 人; 医院丁动手术的总人数为 1500 人, 手术后未康复人数 111 人。通过以上数据, 手术康复率最高的医院是 ()。

- A. 丙 B. 乙
C. 甲 D. 丁

87. 姐弟四人要为妈妈买生日礼物, 四个人的钱合在一起是 180 元, 如果老大钱数增加 8 元, 老二钱数减少 8 元, 老三钱数乘以 2 倍, 老四钱数减少到原来的一半, 则此时四个人的钱数相同。若其中两人的钱数凑在一起正好买一个价格为 68 元的音乐盒, 则这两个人是 ()。

- A. 老二和老三 B. 老大和老三
C. 老大和老二 D. 老二和老四

88. 已知张先生的童年占去了他年龄的 $\frac{1}{3}$, 再过了 $\frac{1}{4}$ 专他进入成年, 又过了 $\frac{1}{5}$ 专他结婚了, 婚后



3 年他的儿子出生, 儿子 7 岁时, 他们的年龄和为某个素数的平方, 则张先生结婚时的年龄是()。

- A. 38 岁 B. 32 岁
C. 28 岁 D. 42 岁

89. 两个人带着宠物狗玩游戏, 两人相距 200 米, 并以相同速度 1 米 / 秒相向而行, 与此同时, 宠物狗以 3 米 / 秒的速度在两人之间折返跑, 当两人相距 60 米时, 那么宠物狗总共跑的距离为()。

- A. 270 米 B. 240 米
C. 210 米 D. 300 米

90. 悟空与二郎神在离地面 1 米的空中决斗, 两人相距 2 米, 悟空想用分身直接偷袭二郎神, 为了不引起对方的警觉, 分身必须在地面反弹一次再进行攻击, 则分身到达二郎神的位置所走的最短距离为()。

- A. $2\sqrt{2}$ 米 B. $\sqrt{3}$ 米
C. $\sqrt{2}$ 米 D. $2\sqrt{3}$ 米

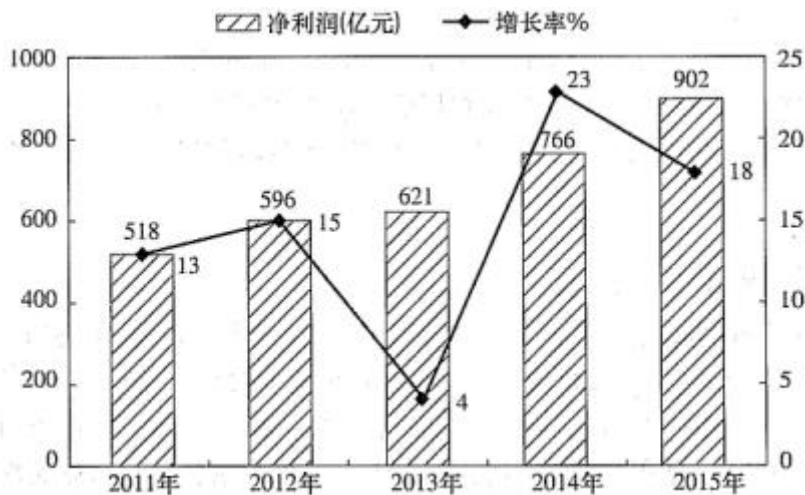
二、资料分析: 共 10 题。你应根据资料提供的信息进行分析、比较、计算、处理。

请开始答题:

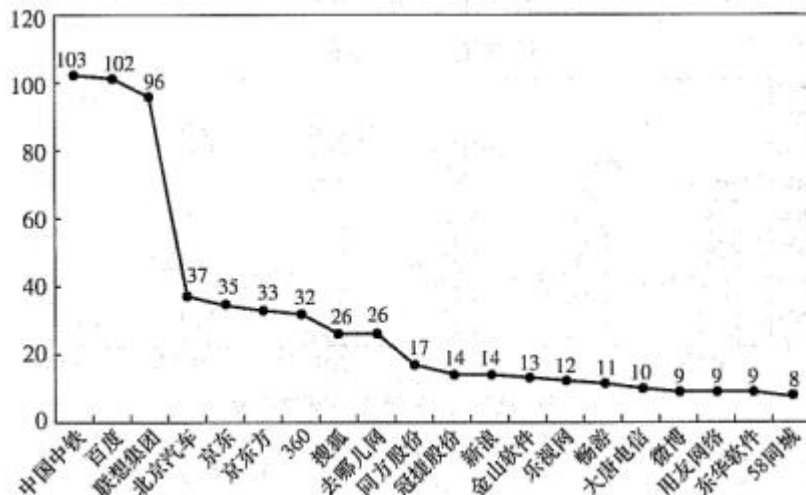
根据下面资料回答 91~95 题。

中关村上市公司协会公布的《2016 年中关村上市公司竞争力报告》显示, 2015 年中关村上市公司总营业收入达到 2.34 万亿元, 同比增长 28%, 截至 2015 年底, 中关村上市公司总市值达到 48175 亿元, 同比增幅 54%, 较 2011 年增长了约 34824 亿元。

中关村上市公司中有接近六成的企业研发投入力度较高, 其中有 67 家 (公司数量占比 32%) 企业的研发强度在 10% 及以上, 达到了国际高科技领先企业的水平。



2011—2015 年中关村上市公司净利润变化情况

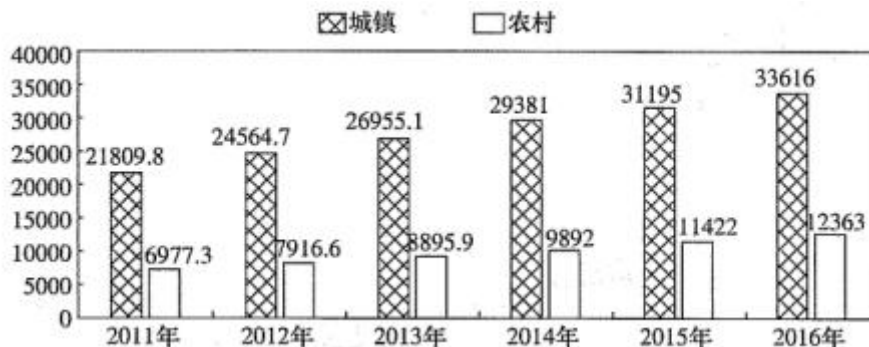


2015年中关村上市公司研发费用前20排名(亿元)

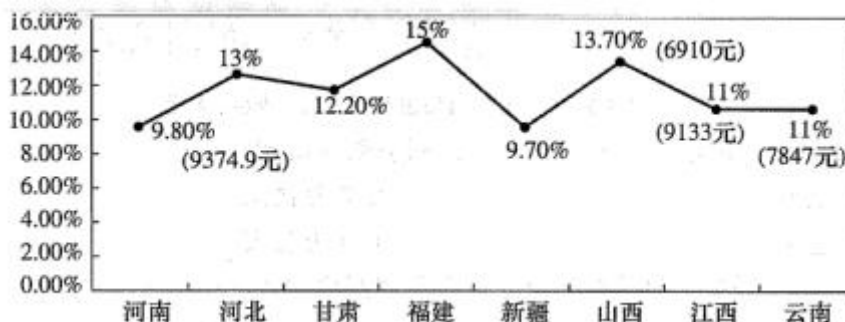
91. 2015年与2014年相比,中关村上市公司总营业收入增加了()。
- A. 0.51万亿元 B. 0.65万亿元
C. 1.83万亿元 D. 0.41万亿元
92. 2015年与2014年相比,中关村上市公司净利润同比增速()。
- A. 上升了18个百分点 B. 下降了5个百分点
C. 上升了5个百分点 D. 下降了18个百分点
93. 资料显示,2015年中关村上市公司数量约为()。
- A. 67家 B. 22家
C. 10家 D. 210家
94. 2011—2015年间,中关村上市公司净利润年均增加值约为()。
- A. 96亿元 B. 77亿元
C. 57亿元 D. 103亿元
95. 下列关于中关村上市公司的说法,错误的是()。
- A. 2015年与2011年相比,中关村上市公司总市值,翻了两番多
B. 2011至2015年间,中关村上市公司净利润增速呈震荡起伏变动
C. 2015年排名前3位的公司研发总费用约占前20位研发总费用的近一半
D. 2015年约有三分之一企业的研发强度达到了国际高科技领先企业的水平

根据下面资料回答96~100题。

2016年是中国脱贫攻坚首战之年,全年超过1000万人告别贫困;中央和省级财政扶贫资金首次超过1000亿元;各类金融机构累计发放扶贫小额贷款2772亿元;产业扶贫为脱贫不断“换血”,其中2016年旅游扶贫覆盖到2.26万个贫困村,据不完全统计,河南、甘肃、河北等地2016年贫困地区农民人均可支配收入增长速度普遍高于当地农民人均可支配收入增速。其中,河南省贫困地区人均可支配收入可达9734.9元,处于中部地区领先水平;福建贫困地区人均可支配收入增长高达15%,高于全国农民人均可支配收入增长的平均水平。



2011-2016年全国城乡居民人均可支配收入情况表



2016年部分省份贫困地区农村居民人均可支配收入增长率情况

96. 2011-2016年全国城镇居民人均可支配收入与前一年相比增长最多的年份是()。
- A. 2012 B. 2013
C. 2014 D. 2015
97. 2016年部分省份贫困地区农村居民人均可支配收入增速高于全国农村居民人均可支配收入增速的省份个数有()。
- A. 1 B. 4
C. 6 D. 8
98. 2011-2016年全国农村居民人均可支配收入超过9000元的年份有()。
- A. 1 B. 2
C. 3 D. 4
99. 2011-2016年城乡居民人均可支配收入的比值变化趋势为()。
- A. 波浪形变化 B. 逐年递减
C. 逐年递增 D. 直线形变化
100. 从上述资料中可以推出的是()。
- A. 河南、甘肃、河北等地2016年贫困地区农民人均可支配收入增长速度普遍高于当地居民人均可支配收入增速
- B. 全国农村居民人均可支配收入增速呈逐年上涨趋势
- C. 2016年河南省贫困地区农村居民人均可支配收入与全国农村居民人均可支配收入的差额为3500元
- D. 2015年江西省贫困地区农村人均可支配收入约为8230元



参考答案及解析

第一部分常识判断

1. B [解析]2013年1月22日,习近平总书记在中国共产党第十八届中央纪律检查委员会第二次全体会议上发表重要讲话。他强调,作风是否确实好转,要以人民满意为标准。他强调,要以踏石留印、抓铁有痕的劲头抓下去,善始善终、善做善成。防止虎头蛇尾,让全党全体人民来监督,让人民群众不断看到实实在在的成效和变化。B项对应错误,不是“推动国防军队改革”,是作风建设。故答案选B。

2. A [解析]这段话表达的意思是要不忘初心,坚守正道,即从根本上进行整顿肃清,坚定信念,对应“正本清源”;“中华优秀传统文化、革命文化、社会主义先进文化”也就是要形成中国特有的文化,对应“独树一帜”,A项正确。“海纳百川,有容乃大”寓意要像大海能容纳无数江河水一样的胸襟宽广,以容纳和融合来形成超常大气。“薪火相传,推陈出新”强调传承和创新;“各美其美,和而不同”强调要尊重事物的多样性。B、C、D三项都和题干的观点不一致。故本题选A。

3. A [解析]王维、孟浩然都是唐代诗人,他们以写田园山水诗为主,是“山水田园派”的代表人物;杜甫、白居易都是唐代伟大的现实主义诗人,诗中常含忧国忧民情怀;辛弃疾、陆游都是南宋爱国诗人的杰出代表,他们的诗中常有反对民族压迫,要求祖国统一的强烈意愿。这些诗人创作方向不同,作品也是各有千秋,体现的哲理是不同事物有不同的矛盾,A项正确。B、C、D三项都没体现,故本题选A。

4. C [解析]哲学探寻的是建立起经验的东西,所以哲学的基本性质是对经验之形而上的基础的追问,而经验是变化的,并不是一成不变的。简单来说,哲学问题并没有一个所谓的标准答案,其体现的是思维的过程。“存在就是被感知”是英国哲学家贝克莱的名言,他是近代经验主义的重要代表人物之一,C项属于哲学层面的思考。A项是经济层面的思考;B项是科技层面的思考,D项是自然现象层面的思考。故本题选C。

5. C [解析]“君使臣以礼,臣事君以忠”出自《论语》,意思是君王任用臣子要符合礼的规范,臣子侍奉君主要用忠心,A项是儒家理念。“不义而富且贵,于我如浮云”出自《论语》,意思是用不义的手段得到富与贵,对于我,那些富与贵就如同天上的浮云,B项也是儒家理念。“以道佐人主者,不以兵强于天下”出自老子的《道德经》,意思是依照“道”的原则辅佐君主的人,不以兵力逞强于天下,C项是道家理念。“邦有道则仕。邦无道则可卷而怀之”出自《论语》,意思是国家政治清明时出来做官,国家政治黑暗时便隐退藏身,D项是儒家理念。故本题选C。

6. B [解析]“弄璋”旧时常用以祝贺人家生男孩,古人把璋给男孩玩,希望他将来有玉一样的品德。《诗经·小雅·斯干》中就有:“乃生男子,载寝之床,载衣之裳,载弄之璋。”故答案选B。

7. A [解析]由“每亩地获得保底租金1000元”可知,收入含有按生产要素分配的部分,①正确。由“领了5%的分红”可知收入受公司经营状况的影响,经营状况好时可获得的分红更多,②正确。由“某民营农业科技有限公司”可知,李某的收入并不属于按劳分配,按劳分配是公有制在分配领域的实现,③错误。题干中并未提及该公司是否上市,且李某的收入“租金…分红”和“工资”均不涉及股票价格波动,④错误。故答案选A。

8. C [解析]由B项“佛粥”和D项的“普渡…‘盂兰’”首先可排除B、D两项。A项反映的是元宵赏灯。汉明帝依照佛教有正月十五日僧人观佛舍利,点灯敬佛的做法,就命令这一天夜晚在皇宫和寺庙里点灯敬佛,令士族庶民都挂灯,也就形成了元宵赏灯。佛教里灯被认为是吉祥的物质,代表光明的心。C项“寒食过”“坟上子孙来”反映的是清明节,中国汉族传统的清明节大约始于周代,是祭祖和扫墓的日子,与佛教无关。故答案选C。

9. A [解析]中国古代称鸡为“五德之禽”,《韩诗外传》卷第二十三章中说:“君



独不见夫鸡乎!首戴冠者,文也,足搏距者,武也,敌在前敢斗者、勇也,得食相告,仁也,守夜不失时,信也。鸡有此五德,君犹日澹而食之者,何也?则以其所从来者近也。”由此可知,五德是文德、武德、勇德、仁德和信德。故答案选 A。

10. C[解析]图①中是啤酒酿制过程中使用的木桶,对应啤酒酿制技术;图②中是景泰蓝摆件,对应景泰蓝制作技术;图③中是纺纱车,对应纺织技术;图④中是风力发电机,对应风电技术。故本题选 C。此题最好采用排除法来做。

11. D[解析]A项,没有与“冷却云”相关的定义,但题干中所提的“冷却云”应该是指对流层上部,气温常年都在 0°C 以下,水汽含量较少,各种云都由冰晶和过冷水滴组成。在中纬度和热带地区,这一层中常出现风速等于或大于 30米/秒 的强风带,飞机在此间飞行时,十分容易受到影响,发生波动,正确。B项,积雨云也叫雷暴云,是积状云的一种。积状云是由于空气以对流运动形式造成绝热冷却,使水汽饱和凝结而成,积雨云几乎总是形成降水,包括雷电、阵性降水、阵性大风及冰雹等天气现象,有时也伴有龙卷风,会给飞机飞行带来极大的干扰,正确。C项,在较高的纬度地区,在距地面 $20\text{—}30\text{公里}$ 的平流层内,有时可见到一种很高的云,叫“贝母云”(也叫珍珠云),在日出日落时,它有蚌壳内部那种光泽,非常明亮,并以光谱中所有的颜色接连转变,正确。D项,夜光云是早晨或黄昏时出现于地球高纬度地区高空的一种发光而透明的波状云,距地面的高度一般在 80千米 左右,常呈淡蓝色或银灰色,D项只说了“黄昏后”和“银色光泽”,不够全面,错误。故本题选 D。

12. B[解析]黄土高原沟壑纵横主要由暴流沟谷冲刷疏松黄土所致,其地势由西北向东南倾斜,经流水长期强烈侵蚀,逐渐形成千沟万壑、地形支离破碎的特殊自然景观。A项错误。云南石林是含有二氧化碳和有机酸的雨水,经过几十万年的冲刷溶蚀,使整块的岩石形成溶蚀沟,最终使整块的岩体分离,形成石芽、石柱、石门、石峰这样千奇百怪的石头奇观。B项正确。华北平原是华北陆台上的新生代断陷区。晚第三纪和第四纪时期,形成连片的大平原,与此同时平原边缘断块山地相对隆起,大平原轮廓日趋鲜明。新生代相对下沉,接受了较厚的沉积,局部沉积竟达千米,并不是地壳上升的结果。C项错误。四川盆地的形成原因,一直以来人们普遍认为是晚三叠世到白垩世时期中国广泛发生的地壳运动——燕山运动使盆地周围褶皱隆起,并且其构造受基底构造的影响极大,经过多次剧烈变动,才造成现代地貌的基本特征,而并非海浪侵蚀形成。D项错误。故本题选 B。

13. D[解析]“第二大脑”实际上也就是肠道内的神经系统,由分散在食管、胃、小肠、结肠组织上的神经元、神经传感器和蛋白质组成。与头颅中的大脑工作原理一样,它们相互之间也快速传递着信息,独立地感知、接受信号,并作出相关的反应,使人产生“愉悦”和“不适”的感觉。A、B、C三项都是感叹时光流逝,与“第二大脑”无关,排除。D项用“年年肠断处”抒发凄婉哀伤之情,符合题意。故答案选 D。

14. C[解析]C项,“捉刀”比喻替别人代笔作文,与后面的“亲著”矛盾。故答案选 C。

15. C [解析]输血一般以输同型血为原则。正常情况下,A型血的人输A型血,B型血的人输B型血。紧急情况下,AB血型的人可以接受任何血型,0型血可以输给任何血型的人,A项正确。成分输血指将血液的各种成分加以分离提纯通过静脉输入体内的治疗方法。输全血有时可能既达不到治疗的目的,又会引起某些副作用,比如大量输血会因血容量的增加而增加心脏的负担,此时采用成分输血可以取得显著的效果,B项正确。一般健康成年人一次献血在 $200\text{—}400\text{cc}$ 左右的,对人体是没有危害的,C项错误。根据输血一般以输同型血为原则,为了安全考虑,输血前应该先鉴定献血者与受血者血型,D项正确。故本题选 C。

16. A[解析]给严重缺氧的病人输氧时,要在纯氧中混入 5% 的二氧化碳气体,当血液中二氧化碳含量增多时,就会刺激神经系统的呼吸中枢,使呼吸运动加快,这种对人体功能的调节方式称体液调节。故本题选 A。



17. A[解析]速写是在较短时间内迅速将对象描绘下来的一种绘画形式, 它有较强的绘画概括能力, 具有收集绘画素材、训练造型能力的功能; 工笔属于工整细致一类密体的画法, 用细致的笔法制作, 画着重线条美, 一丝不苟; 写意注重神态的表现和抒发作者的情趣; 留白以“空白”为载体进而渲染出美的意境。B、C、D 三项均不适用迅速描绘对象特征的情境, 野外写生描绘典型地貌和地质结构侧重在较短的时间内画出对象的特征, 因此, 同学们应采用的绘画技法是速写。故答案选 A。

18. C[解析]翻车车身由木板做成槽形, 龙骨叶板用作链条, 卧于矩形长槽中。在板槽的上下两端, 各安装一个转动的轮轴, 上端为大轮轴, 下端为小轮轴, 转动大轮轴带动小轮轴。使用时, 下链轮和车身一部分没入水中驱动链轮, 叶板就沿槽刮水上升, 到长槽上端将水送出。翻车是利用链轮传动原理, 以人力或畜力为动力, 并非对称守恒原理。故答案选 C。

19. D[解析]声音要靠介质传播, 太空接近真空状态, 没有传播声音的介质, 不能传播声音, 因此航天员不可能听到远处星体爆炸的声音。故答案选 D。

20. B[解析]胆汁的作用主要是作为乳化剂乳化脂肪, 它可以降低脂肪的表面张力, 使脂肪乳化成微滴, 分散于水溶液中, 这样便增加了胰脂肪酶的作用面积; 胆汁酸还可与脂肪酸结合, 形成水溶性复合物, 促进脂肪酸的吸收。因此, 胆汁对于脂肪的消化和吸收具有重要意义, B 项说法错误。故答案选 B。

第二部分 言语理解与表达

一、选词填空

21. B[解析]文段首句就提到了“在充满变量的世界”, 接下来的三个排比句分别从不同方面的变化强调了“变”, 因此本题应选 B。

22. D[解析]文段主要强调了菇娘这种水果近两年非常受欢迎。A 项, “一步登天”指一下子达到最高的境界或程度, 也形容地位一下子升得非常高, 用在此处语义较重, 排除。B 项, “后来居上”指后起的超过先前的, 文段并未将菇娘与其他水果作比较, 故无所谓先后, 排除。C 项, “反客为主”多用来比喻变被动为主动, 文段未提及主动、被动之分, 排除。D 项, “登堂入室”比喻学问或技能由浅入深, 循序渐进, 达到更高的水平, 与菇娘近两年逐渐向好的发展态势相符, 当选。

23. B[解析]先看第二空, 横线前面指出《新虎口遐想》的不足, 后面对其进行了赞赏, 且中间有一个转折词“但是”, 很明显是“结尾比较仓促”的不足难掩“回归了本质, 找回了初心”的优点, 因此这里填入“瑕不掩瑜”恰当。再将“囿于”代入第一空验证, 符合文意。因此本题选 B。

24. A[解析]首先看第一空, 这里要表达的是没营养的综艺节目很多, “占据了市场的首席”显然词义过重, 故排除 C 项; “份额”指整体中分占的额数, 用在此处并不能突出“多”来, 故排除 D 项。再看第二空, “传达”通常是指向外传递, 而文段提到“到节目中来”, 因此用“移植”更为恰当, 故排除 B 项。本题选 A。

25. A[解析]首先看第一空, “家喻户晓”指每家每户都知道, 这里用来修饰“成效”, 显然不恰当, 排除 B 项; “立竿见影”比喻立见功效, 填入后与前面的“成效”语义重复, 排除 C 项。再看第二空, “从容”指不慌不忙, 镇静, 沉着, 常用来形容人的态度, 而文段说的是“让一个人在精神上……”, 故排除 D 项。因此本题选 A。

26. D[解析]先看第一空, 这里说的是大量新词族在网络语境催生下出现。A 项, “一鸣惊人”比喻平时没什么特殊的表现, 一干就有惊人的成绩; B 项, “脱颖而出”比喻人的才能全部显示出来; C 项, “横空出世”形容人或物高大, 有很伟大的成就, 或比喻卓尔不群, 十分优秀。以上三者明显不符合文意, 故可排除, 锁定 D 项。将“俯拾皆是”代入第二空验证, 这里说的是这样的表达在口语交流中非常普遍, 到处都有, 符合文意。故本题选 D。



27. B[解析]首先看第二空, 前面提到“资本只要稍稍抛个媚眼”, 说明是受到了诱惑, 含有贬义, 而“剑走偏锋”比喻不按常规、常理思维或行动, 属于中性词, 与文段感情色彩不符, 排除 A 项。再看第一空, “妖魔鬼怪”比喻各色各样的邪恶势力, 用在此处语义过重, 排除 C 项; “狼烟烽火”与战争相关, 不符合文意, 排除 D 项。因此本题应选 B。

28. D[解析]首先看第一空, “余音”通常不与“回响”搭配, 故排除 B 项。再看第二空, 文段特别强调了春天的脚步之“快”, 而“倏忽”指很快地、忽然, 符合语境。“蓦然”“遽然”用在此处程度过重, 故排除 A、C 两项。因此本题选 D。

29. A[解析]先看第一空和第二空, 这里说“把弘扬传统文化理解成古代服装, 一齐行跪拜礼”, “哭笑不得”与“欲哭无泪”相比, 显然更突出强调后者。B 项的“不是……就是……”表选择关系, 可排除。再看第三空, “食古不化”指学了古代的文化知识不善于理解和应用, 跟吃了东西不能消化一样; “生搬硬套”指不顾实际情况, 机械地搬运别人的方法、经验等; “囫圇吞枣”比喻读书等不加分析地笼统接受。根据文段语境信息, 显然“食古不化”更符合文意, 故排除 C、D 两项。因此本题选 A。

30. B[解析]首先看第三空, 文段是说原来许多实实在在的事例, 在现在看来没什么根据, 不那么真实, 且最后提到“难取信于人”, 因此这里应填入含有“没有根据”意思的成语。“低人一等”指比别人低一个等级, 文段并来说跟谁去比较, 故排除 A 项; “天方夜谭”多用来比喻虚妄荒诞的言论, 语义过重, 排除 C 项; “胡说八道”指胡说, 偏向口语化, 与文段的整体表达风格不符, 故排除 D 项。将 B 项的前两个词语代入文段验证, 均符合文意。因此本题应选 B。

二、阅读理解

31. A[解析]本题属于语句衔接题。文段主要表达了现在“高校”中“年轻的大学生”与“一二·九”运动时的青年对话, 缅怀八十多年前先辈的青年时光。A 项出自毛泽东的《沁园春·长沙》, “书生意气, 挥斥方遒”说的是青年们意气奔放, 劲头十足。这一说法符合题干中“年轻大学生”这一主体的风貌, 符合文意。B 项出自岳飞的《满江红》, 强调了作者报仇雪耻的决心, 与文意不符。C 项出自王维的《老将行》, 是在歌颂老将东征西战、功勋卓越, 与文意不符。D 项出自李白的《南陵别儿童入京》, 表达了作者实现抱负的极其喜悦的心情和豪迈自得的心境, 与文意不符。本题选 A。

32. C[解析]本题属于主旨概括题。作者首先对“枕下情书”和微信烧钱的两种情感表达方式进行对比, 通过“然而”引导的转折句引出作者观点: 真诚的态度和坚持的力量更能打动人, 后面是对这一观点的具体解释。观察选项, 明显 C 项为作者要表达的观点。本题选 C。

33. D[解析]文段主要介绍了吃两顿饭的好处, 如时间宽裕、对身体好、工作效率高、拉动社会消费等。第一句提到的吃三顿饭的弊端也是为了与吃两顿饭进行对比, 强调吃两顿饭的好处。所以文段主要想说明的是吃两顿饭好处多多。本题选 D。

34. A[解析]本题属于主旨概括题。作者首先描写了北方的冰雪, 为后文在冰面上行走做铺垫, 接着重点描写了和好友在冰面上行走的体验, 即刺激和兴奋。因此文段主要描写的是北方冰雪给作者带来的特殊体验。B 项的“乡愁”在文中未体现, 属于无中生有。C 项说法片面, 没有涉及后面的体验。D 项“童年乐趣”在文中未体现, 属于无中生有。故本题选 A。

35. A[解析]本题属于语句衔接题。横线位于段末, 应填入对上文起概括作用的句子。文段首先通过介绍一位老师过春节的新方式, 又通过数据和转折词“但”说明团聚的方式有了新变化, 即通过旅游团聚, A 项为同义替换。

36. A[解析]本题属于意图判断题。文段通过三组古人用语和我们使用的流行语之间的对比来强调我们会遗失了祖先留下的语言财富, 其言外之意就是流行语威胁传统语言财富。



A 项当选一

37. A[解析]本题属于意图判断题。文段首先提出问题, 有很多书, 作者想读却读不进去, 也不理解自己读不进去的书, 为什么别人就能一下读完; 后来通过迪拉德的说法找到了读书的方法, 即找一个合适的角度去读书。显然作者提到的读书方法为其要表达的意图。A 项当选。

38. D[解析]修建家庙、设立乡祠、兴建会馆都是中国传统文化的表现, 其特色就是比较重视“乡情”。“越鸟南栖”比喻难忘故乡情; “叶落归根”多指作客他乡的人最终要回到故乡; “安土重迁”指安于本乡本土, 不愿轻易迁移, 都体现了重视“乡情”这一特色。“功成身退”意思是指大功告成之后自行隐退, 不再做官或复出, 不能体现文中所说的“乡情”。故本题选 D。

39. B[解析]本题属于细节理解题。根据“故事自动分发机项目在启动之初, 就搜集到 4 万篇各种体裁的文学作品, 且这些作品全部是原创”可知, A 项可以推出。B 项, “不收一分钱”可知“免费看”; 但“免费写”“持续下去”文段没有涉及, 属于无中生有。根据“供旅客在候车时或旅途中阅读”“发轫正规文学作品”可以推出 C 项。故事分发机项目能够启动且在其他国家是无法想象的, 说明这一项目符合法国浓厚的文学氛围这一事实, D 项可以推出。本题选 B。

40. A[解析]“当地球、内行星和太阳按此次序严格位于一条直线上时”才会有凌日现象, 如果不是按照这个次序, 即使在一条直线上, 也不会有凌日现象, 故 A 项说法错误。发生凌日现象的时候就是内行星在日面上缓慢移动的时候, 也就是内行星遮住了太阳, B 项说法正确。发生金星凌日的时候, 就是地球、金星和太阳按此次序位于同一条直线上, 即金星在地球和太阳之间, C 项说法正确。因为水星和金星一样都属于内行星, 当地球、水星和太阳按此次序位于同一条直线上时就是水星凌日, 故 D 项说法正确。本题选 A。

41. C[解析]兄长医术最好, “兄长治病, 是治病于病情发作之前”, 即事前处理; 中兄次之, “中兄治病, 是治病于病情初起之时”, 即事中处理; 扁鹊最差, “治病于病情严重之时”, 即事后处理。这给我们的启示是事中处理不如事前处理, 事后处理不如事中处理。扁鹊最出名, 但是他的医术却不是最好的, 这给我们的启示是不要被表面现象所迷糊。C 项无法得知。

42. D[解析]⑤引出“后真相”, ③介绍了“后真相”的特征, 所以⑤③相连, 排除 A 项。①是②的后果, ②①相连, 排除 B 项。比较④和⑥, ④介绍了假新闻的产生, 属于背景, ⑥是举例, 故④⑥相连。本题选 D。

43. B[解析]文段首先介绍了吃药和输液的利弊, 接着通过转折词“不过”引出强调的重点, 即患者和医生都推崇输液, 而忽略了滥输液的副作用, 也就是对输液的认识不足, B 项为同义替换。A 项“健康知识”太过笼统, C 项说法错误, D 项说法片面。

44. C[解析]文段首先介绍了半圆形石桥的弊端, 接着介绍了圆弧拱形式的学步桥, 这一建筑形式不仅克服了半圆形石桥的弊端, 还省时省料。因此文段重点强调的是学步桥在建筑形式上的创新, C 项当选。A 项说法错误, 应该是圆弧拱形式的学步桥的优越性。B 项说法太笼统。D 项说法片面, 二者比较是为了突出学步桥的实用性。

45. C[解析]阅读文段, 第一句谈劳逸周期要结合, 第二句谈停顿的必要性, 第三句打比方来说明劳逸周期结合及独处这种停顿的重要性, 第四句紧接着阐述独处的本意。四句话主旨连贯而且衔接紧密、中间不需要补充句子。而且苏轼的名言谈的也是劳逸结合, 放在首句跟第一句衔接最恰当。故选 C。

46. A[解析]第一句话说到“我”离家四十多年, 这么长的时间里经常想起的是老家的门槛, “却”字突出了门槛虽然不起眼, 但是给作者留下了深刻的印象。故本题选 A。

47. C[解析]上文提到门槛是一个“不起眼”的重要构件, 那么下文很有可能是介绍门



槛为什么“不起眼”而又是“重要构件”, C项正确。A、B、D三项都与上下文不够衔接。

48. B[解析]A项,通过“门槛就是家的代名词”“跨门槛就等于离开了家”“把门槛当作自己的感情‘拐杖’”可知,家乡老宅的门槛寄托着作者淡淡的乡愁。B项,通过“人生里跨越门槛的抬脚与落地、放下与收回,都会与我们的命运相交,影响我们的人生之路”可知,跨越门槛就像人生道路的一次次选择。D项,通过“便呈现出黄金的底色,裸裎着山村家乡的胎记”可知,涂有黄金底色的门槛是家乡的独特印记。B项在文中没有涉及,属于无中生有。本题选B。

49. A[解析]文章第一段引出“门槛”这一话题,一个“却”字体现了门槛虽不起眼,却使作者印象深刻。接着又介绍了老家“门槛”的特征和现在的状态,最后升华主题。把门槛引申为精神上的门槛,人生道路上的选择。因此A项符合文章主要思想。

50. C[解析]根据“在小山村,新建的门槛都会被刷上桐油”可知A项正确。文中提到“当年的小山村,清一色是木结构房”“新建的门槛都会被刷上桐油,而当木头敞开每一寸肌肤”,可知作者老家的房子和门槛大多是木制而成。文中只提到了“小山村的那些老宅正在消失,门槛也随之消失”,并未说古朴的村落在消失,C项错误。根据“我离开小山村的老家,已然四十多年”“自从离开小山村去城里读书后”可知D项正确。

第三部分 判断推理

一、定义判断

51. A [解析]定义的关键信息是“不合理地使用因果关系”“把小概率事件当作必然发生的事件”。A项,由坏人进了前院,推理出他会到门廊,再推理出他会吃你的小孩,后面的推理都是可能性事件,而推理过程中却将它看作是必然性事件,符合定义。B项,黎明之时太阳出来,这本身就是个必然性事件,不存在错误推理,排除。C项,不存在可能性事件和必然性事件的推理,排除。D项,同样不存在可能性事件和必然性事件的推理,排除。本题选A。

52. A[解析]定义的关键信息是“对特定的刺激做出条件反应后,与该刺激相类似的刺激也会引发条件反应”。A项,被大狗咬过多次之后,做出的条件反应是恐惧,与大狗相类似的刺激小狗出现时,也会产生恐惧,符合定义。B项,没有出现与特定的条件刺激相类似的刺激,排除。C项,孩子做了好事之后得到奖赏并不是孩子对某种条件刺激做出的条件反应,排除。D项,每件古玩都是不同的,所以这些条件刺激并不是相类似的,排除。本题选A。

53. A [解析]定义的关键信息可以看两个表现:(1)货币在国内购买力的下降;(2)本国货币对外币的比价下降。A项,说明人民币对美元的比价下降,符合第二个表现。B项,说明人民币的购买力上升了,不符合第一个表现。C项,人民币对美元的比价不变,不符合第二个表现。D项,人民币对美元的比价上升了,不符合第二个表现。本题选A。

54. C[解析]定义的关键信息是“不良现象如果被放任存在,会使人们效仿,甚至变本加厉”。A项,“千里之堤,溃于蚁穴”说的是小事不慎将酿成大祸,并没有体现放任其存在,排除。B项,“一屋不扫,何以扫天下”比喻从一点一滴的小事开始积累,才能做成一番大事业,没有体现出不良现象,排除。C项,街道有些许纸屑是不良现象,放任其存在,就会使人们效仿,导致随处丢弃垃圾的行为,体现了破窗效应。D项,没有体现出人们效仿不良现象,排除。本题选C。

55. C[解析]定义的关键信息是“将原有认知经验应用于新情境中”“更高一级的认知结构”。A项,网络战争游戏的新概念不是比网络、战争、游戏等概念更高一级的认知结构,排除。B项,原有的概念是鱼,鳊鱼是新概念,并不是更高一级的认知结构,排除。C项,新概念“媒体”是对报纸、电视等概念加以概括,形成的一种更高一级的认知结构,符合定义。D项,新的舞蹈动作是对原有舞蹈动作进行重新调整和排列之后得到的,并不是原有动



作更高级的认知结构, 排除。本题选 C。

56. C[解析]定义的关键信息是“盲目跟从习惯和思维惯性而做出反应”“导致失败结果”。A项, 股民信奉买涨不买跌是盲目跟从思维惯性而做出的反应, 经常被套牢是失败的结果, 体现了毛毛虫效应。B项, 法不责众是根据习惯而做出的反应, 执行了错误命令是失败的结果, 体现了毛毛虫效应。C项, 把头发染成流行色不是盲目跟从习惯或思维惯性而做出的反应, 没有体现毛毛虫效应。D项, “怕事”是典型的思维惯性, 小李和其他同学在小明作弊时保持沉默, 是盲目跟从习惯而做出的错误反应, 体现了毛毛虫效应。本题选 C。

57. D[解析]定义的关键信息是“不能预见”“不能避免”“不能克服”。A项的“天气原因”、B项的“地震”、C项的“出口国发生战争”都是不能预见、不能避免且不能克服的, 都属于不可抗力。而D项的卖方工厂倒闭导致不能交付货物, 这是卖方工厂可以通过其他方式进行赔偿的, 不是不能克服的, 不属于不可抗力。本题选 D。

58. C[解析]定义的关键信息是“愤怒情绪和不满情绪”“由强到弱依次传递”“处在最底层的个体成了最终的受害者”。A项, 小男孩回家跟家长哭是情绪的发泄, 但这种情绪并不是由强到弱传递的, 排除。B项, 两家孩子只是不一起玩, 不能体现父母将自己的愤怒情绪向孩子的传递, 排除。C项, 母亲的不满情绪传递给女儿, 导致女儿摔坏遥控器, 女儿成了最终的受害者, 符合定义。D项, 二人争吵没有体现不满情绪由强到弱的依次传递, 排除。本题选 C。

59. D[解析]有瑕疵的具体行政行为是指“具体行政行为不具备合法的要件”, 有错误的具体行政行为是指“意思表示或外界理解的意思表示与真实意思不符”。A项适用法律条文错误、C项写错金额均属于有错误的具体行政行为, B项程序存在违规不代表整个行政行为为不具备合法要件, D项未加盖公章则此具体行政行为为不合法, 属于有瑕疵的具体行政行为。本题选 D。

60. A[解析]定义的关键信息是“对作品的表演使用机械设备予以公开播放”“不包括公开放映电影和通过广播传播作品”。A项, “使用电视机公开播放”属于“使用机械设备公开播放”, 符合定义。B项, 书法作品和摄影作品都不涉及表演, 且没有使用机械设备公开播放, 排除。C项, 用幻灯机播放电影是使用机械设备予以公开播放作品的行为, 符合“使用机械设备公开播放”; 但播放的是“电影”, 不符合“不包括公开放映电影”, 排除。D项, 属于通过广播传播作品的行为, 不包括在机械表演范围之内。本题选 A。

二、类比推理

61. D[解析]蛇是没有腿的; 鲸是哺乳动物, 是没有鱼鳃的。A项, 鸡有翅膀。B项, 狮有爪子。C项, 牛有尾巴。本题选 D。

62. B[解析]本题考查集合关系。自然科学、社会科学(其中包括人文科学)和思维科学是科学体系的三大支柱, 而物理学是自然科学中的一门学科, 所以人文科学和物理学都包含在科学体系中, 但二者不是并列关系, 同时也没有交集。A项, 红茶是茶叶的一种。B项, 北方人和湖北人都是中国人, 同时北方人和湖北人没有交集, 与题目逻辑关系相符。C项, 工业包括重工业。D项, 薄荷糖和牛奶糖是并列关系。本题选 B。

63. C[解析]裸子植物是植物的一种, 红杉是裸子植物的一种, 三者依次是种属关系。物理学是科学的一种, 力学是物理学的一种, 同样也依次是种属关系, C项正确。A项, 学校包括中学和小学, 中学和小学是并列关系。B项, 国家是由一定的民族来组成的, 公司与国家和民族没有直接的逻辑关系。D项, 太阳是星系中的一部分, 星座和二者没有直接的逻辑关系。本题选 C。

64. A[解析]作品包括文学作品和摄影作品, 后两者是并列关系。人身权包括姓名权和肖像权, 后两者也是并列关系, A项正确。B项, 棒棒糖和水果糖是交叉关系。C项, 与自然科学并列的是社会科学, 经济学是社会科学的一种, 自然科学和经济学不是并列关系。D



项, 重庆小面是面条的一个品牌, 它和面条不是并列关系。本题选 A。

65. A[解析]A 项, 电视台和电台都是传播信息的媒介, 二者是并列关系, 蟋蟀和蚂蚁都是昆虫的一种, 也是并列关系。B 项, 电视台是制作电视节目的, 电视是播放电视节目的, 蚁巢是蚂蚁的居住场所, 前后逻辑关系不一致。C 项, 电视台是一种媒介, 蚂蚁是一种昆虫, 但二者位置顺序不一致。D 项, 电视台和网络没有明显的逻辑关系, 工蚁是蚂蚁的一种。本题选 A。

三、事件排序

66. B[解析]因为网络购物方便且实惠, 收拆网购快递很幸福, 所以控制不住购买的冲动, 最终导致囤积了许多无用的货物, 而自己的钱包也捉襟见肘。本题选 B。

67. C[解析]由于种植油麦菜收益很高, 所以种植油麦菜面积大增, 结果导致蔬菜滞销被菜农丢弃, 而后进行实地考察探因求发展, 考察之后组织菜农做品牌农业。本题选 C。

68. C[解析]共享单车试水成功后, 单车领域竞争开始变得激烈, 单车的数量也越来越多, 而后政府收紧监管来临, 共享单车的“野蛮生长”也到达尽头。本题选 C。

69. D[解析]先是正版流行 App 问世, 而后才有盗版 App 网络泛滥, 之后用户下载安装盗版 App, 导致恶意木马植入手机, 造成用户手机资费损失。本题选 D。

70. A[解析]先是接受别人送礼的鱼吃, 而后贪小失大, 一发不可收拾, 导致丢掉相位, 再无鱼吃。之后吸取教训, 坚辞不受, 防微杜渐, 用俸禄长久地买鱼吃。本题选 A。

四、逻辑推理

71. A[解析]实验结果显示: 分数越高越不容易记错, 而分数低的却容易记错, 也就是人们能记起来的分数会比实际的分数要好, 由此可以推出 A 项。B 项, 题目中没有体现出对细节的遗忘。C 项和 D 项, 题目中并未提到错误的记忆对我们的公平正义及自我感觉的影响, 均不能推出。本题选 A。

72. D[解析]要解释的现象是: 通过运动和节食减肥一段时间之后, 仍然没有效果。A 项, 题干中没有提到减肥的人的减肥速度, 所以不能解释。B 项, 是否称重不影响减肥的效果, 不能解释。C 项说的是太瘦的人的健康状态, 与题干中减肥无关。D 项如果为真, 说明人们在通过运动、节食使体重下降之后, 会提醒自己多吃以维持体重, 如此一来体重就会恢复, 所以减肥看不到效果, 解释了题干中的现象。本题选 D。

73. C[解析]商家的观点是: 酵素有减肥功效。A 项, 服用酵素类产品具有一定的瘦身效果, 说明酵素确实有减肥功效, 支持了商家的观点。B 项, 酵素类产品有促进肠道蠕动的的作用, 说明酵素类产品在一定程度上可以有减肥的功效, 支持了商家的观点。C 项, 说明酵素进入人体后, 无法发挥作用, 也就说明了酵素没有减肥的功效, 反驳了商家的观点。D 项, 说的是不合格的酵素类产品, 与论点无关, 属无关选项。本题选 C。

74. B[解析]题干中的结论是: 应该倡导团队精神, 在公司中营造一种和谐融洽的工作环境。需要找到这个观点成立的前提条件, 可以用否定代入法, 即若选项为假的时候, 就无法提到题干中的结论, 那么这个选项就是我们要找的前提。若 A 项为假, 即竞争是有价值的, 这不影响总经理倡导团队精神, 既和谐融洽, 也有一定竞争的情况也会存在, 所以 A 项不是必须的前提。若 B 项为假, 即合作的价值并不比竞争高, 那么总经理倡导的团队精神也就没有意义, 因为它不如竞争对公司的贡献更大, 所以 B 项是必须的前提。C 项和 D 项均无助于支持总经理倡导的团队精神。本题选 B。

75. A [解析]题干中要解释的现象是: 我国气象科学技术虽然与发达国家存在一定的差距, 但已基本上接近, 但有时候天气预报并不准确。A 项说的是 24 小时晴雨预报准确率基本达 80%, 说明有 20%的情况下是不准确的, 可以解释有时候天气预报不准确的情况。B 项, 预报信息越新, 准确率越高, 不能解释天气预报不准确的情况。C 项说的是美国的暴雨准确率, 这与题干中我国的天气预报准确率无关。D 项, 说的是地域性较强的天气预报准确



率低, 但题于中并没有说哪个国家的地域性较强, 故不能解释。本题选 A。

76. D [解析] 题干中的论点是: 利用这种技术可以让海水变成饮用水, 彻底改变世界各地的缺水问题。A 项说的是石墨烯氧化物膜分离气体的强大潜力, 而题干中说的是分离液体, 不能支持论点。B 项说的是许多城市出现供水短缺问题, 与题干中的技术无关。C 项说的是这一技术对制盐业的积极影响, 与水资源短缺问题无关。D 项, 可以实现石墨烯膜的大规模工业生产, 则这种技术就可以被大范围地使用, 支持了论点。本题选 D。

77. A [解析] 石动筒是将“胜过一倍”的概念偷换了, 原本“胜过一倍”的意思是所作的诗的文采或者质量要比郭璞的《游仙诗》胜过一倍, 但石动筒将其偷换成了诗句里出现的数字胜过一倍。本题选 A。

78. D [解析] 题干中的观点是: 冬季是最佳进补的季节。A 项, 没有提到冬季进补的情况, 与论点无关。B 项, 说明冬天应补充水分和水果, 这在一定程度上支持了题干中的论点。C 项, 同样没有提到是否应该在冬季进补, 与论点无关。D 项, 说明过去在冬天进补是由于条件不足, 保暖措施不佳, 而现在情况已经相反, 所以就没有必要特意选择在冬天进补, 削弱了题于论点。本题选 D。

79. B [解析] 根据条件①, “天”字庭院不可能是第一个庭院, 排除 A 项。其余选项用代入法验证。

B 项, 若“天”字庭院是第五个庭院, 按下面表格排列即可满足题干条件:

一	二	三	四	五	六	七
地	日	人	月	天	星	辰

C 项和 D 项, 都无法同时满足题干中的三个条件。

本题选 B。

80. B [解析] 如果第二个庭院是“辰”字庭院, 则根据条件②, “星”字庭院是第一个庭院或者是第三个庭院, 若“星”字庭院是第三个庭院, 为满足条件③, “地”和“人”, “日”和“月”只能在第四至第七个庭院, 此时“天”字庭院只能是第一个庭院, 这就与条件①相矛盾, 所以“星”字庭院不可能是第三个庭院, 只能是第一个庭院。本题选 B。

第四部分数量关系与资料分析

一、数量关系

81. A [解析]



故②处的数可能是 $13+4=17$ 。③处的数可能是 $17+4=21$ 。因此, 推测①处填入的数可能是 $28+17=45$ 。代入验证下一个数, $45+21=66$, 符合。故答案选 A。

82. B [解析]



故②处的数可能是 $8 \times 2 = 16$, ③处的数可能是 $16 \times 2 = 32$ 。因此, 推测①处填入的数可能是 $17+16=33$ 。代入验证下一个数, $33+32=65$, 符合。故答案选 B。

83. A [解析] 数列中每个数都含有符号 \ln , 且被减数“ $\ln 4, \ln 8, \ln 16, \ln 32, (), \ln 128$ ”中的数字, 很明显构成一组公比为 2 的等比数列, 因此, 首先可推知这是一组分组数列, 被减数和减数的数字各成规律; 并可推知括号内应填入的被减数是 $\ln 64$, 排除 B、D 两项。再看减数, “ $\ln 3, \ln 8, \ln 15, \ln 24, (), \ln 48$ ”中的数字两两相减后, 新数列是



5, 7, 9, (), ()。前三项构成公差为 2 的等差数列, 据此可推测后面应该是 11 和 13, 则可推知括号内应填入的减数是 $\ln(24+11)=\ln 35$, 代入验证下一个数, $35+13=48$, 符合。因此, 括号内应填入的算式是 $\ln 64-\ln 35$ 。故答案选 A,

84. D [解析] 题干和选项的底数均为 e, 可知规律应在指数之间体现, 将数列统一去底数, 形成一组新数列: 0.1, -1.3, (), -3.7, (), -5.11。观察发现, 最后一项 -5.11 的小数部分是 11, 比前面已知几项的数字多一位, 因此, 是多级和差数列的可能性较小, 考虑机械分组数列, 分别观察整数部分和小数部分的规律。

整数部分: 0, -1, (), -3, (), -5。四个选项的绝对值都是 2 和 4, 因此只需考虑是否含负号。观察发现: 如果是 2 和 4 时, 整个数列是交叉数列, 奇数项是公差为 2 的等差数列, 偶数项是公差为 -2 的等差数列; 如果是 -2 和 -4, 则整个数列是公差为 -1 的等差数列。A、D 两项的整数部分均符合一定规律, 先排除 B、C 两项。

小数部分: 1, 3, (), 7, (), 11。比较 A、D 两项的小数部分, A 项填入后无规律, D 项填入后, 小数部分构成公差为 2 的等差数列。故答案选 D。

85. C [解析] 第一项是 123456, 第二项是 61234, 观察发现, 第二项是第一项数字的尾数前移至首位后再删去新数的尾数而成。同理, 第三项是 61234, 尾数 4 前移至首位后是 46123, 再删去新数的尾数 3, 得到的数即是第三项 4612。以此类推, 第三项尾数 2 前移至首位后是 2461, 再删去新数的尾数 1, 因此, 括号内应填入的数是 246。验证下一项, 第四项尾数 6 前移是 624, 再删去新数的尾数 4, 推出下一项是 62, 符合。故答案选 C。

86. B [解析] 将四个医院的数据统一换算为每千人中手术后康复出院的人数再进行比较: 医院甲是 902 人、医院乙是 930 人、医院丙是 910 人、医院丁是 926 人, 则可知医院乙手术康复率最高。故答案选 B。

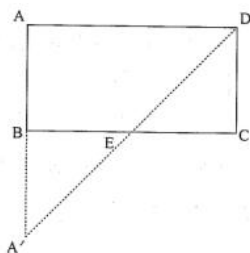
87. A [解析] 设变化后四人的钱数均为 x 元, 则原来老大是 (x-8) 元、老二是 (x+8) 元、老三是 $\frac{1}{2}x$ 元, 老四是 2x 元, 根据题干列方程, 则有 $(x-8)+(x+8)+\frac{1}{2}x+2x=180$,

解方程得 $x=40$ 。因此, 原来四人的钱数分别是 32 元、48 元、20 元、80 元。可知两人的钱数凑在一起正好 68 元的是老二和老三。故答案选 A。

88. B [解析] “婚后 3 年他的儿子出生, 儿子 7 岁时”, 张先生此时的年龄应比他结婚时的年龄大 10 岁; 又由“他们的年龄和为某个素数的平方”可知, 张先生结婚时的年龄加上 17 后应该是一个平方数。代入选项验证, 根据常识, 应从最小的 28 开始, $28+17=45$, 不符合, 排除 C 项。其次是 32, $32+17=49$, 符合, 当选。故答案选 B。

89. C [解析] “两人相距 200 米, 并以相同速度 1 米 / 秒相向而行……当两人相距 60 米时”, 相当于以 2 米 / 秒的速度走了 $200-60=140$ (米), “与此同时, 宠物狗以 3 米 / 秒的速度, 在两人之间折返跑”, 跑的时间相同, 那么跑的距离比和速度比也相同, 则宠物狗跑了 $140 \div 2 \times 3=210$ (米)。故答案选 C。

90. A [解析] 如图所示:



悟空和二郎神分别位于 A 点和 D 点, BC 所在位置是地面, 两人距离地面的高度分别是



AB 和 CD, 根据“悟空与二郎神在离地面 1 米的空中决斗, 两人相距 2 米”可知 $AB=CD=1$, $AD=BC=2$ 。E 是 BC 上任一点, 由于“分身必须在地面反弹一次再进行攻击”, 则悟空偷袭

的线路是 $AE+DE$ 。AB 延长 1 米至 A' , A 点和 A' 点相对 B 点对称, 则 $AE=A'E$, 故 $AE+DE=A'E+DE$, 两点之间直线最短, $A'E+DE$ 的最短距离就是 $A'D$ 。 $AA'=2$,

$AD=2$, $A'D=\sqrt{2^2+2^2}=2\sqrt{2}$ 。故答案选 A。

二、资料分析

91. A [解析] 根据文字资料第一段“2015 年中关村上市公司总营业收入达到 2.34 万亿元, 同比增长 28%”可知, 2015 年与 2014 年相比, 中关村上市公司总营业收入增加了

$\frac{2.34}{1+28\%} \times 28\%$ 万亿元, 因为 28% 介于 $\frac{1}{4}$ 和 $\frac{1}{3}$ 之间, $\frac{2.34}{1+\frac{1}{4}} \times \frac{1}{4} = 2.34 \times \frac{1}{5} \approx 0.47$, $\frac{2.34}{1+\frac{1}{3}} \times \frac{1}{3} = 2.34 \times \frac{1}{4} \approx 0.59$, 所

以最终结果介于 0.47 万亿元和 0.59 万亿元之间, 只有 A 项符合, 故选 A。

92. B [解析] 根据第一个图形资料中的折线图可知, 2015 年中关村上市公司净利润同比增速为 18%, 2014 年为 23%, 所以 2015 年与 2014 年相比下降了 $23-18=5$ (个百分点), 选 B。

93. D [解析] 根据文字资料第二段“其中有 67 家 (公司数量占比 32%)”可知, 这 67 家占中关村上市公司数量的 32%, 故中关村上市公司数量为 $67 \div 32\% \approx 210$ (家), 故选 D。

94. A [解析] 根据第一个图形资料中的柱状图可知, 2015 年中关村上市公司净利润为 902 亿元, 2011 年为 518 亿元, 故年均增加值为 $(902-518) \div 4 = 384 \div 4 = 96$ (亿元), 选 A。

95. A [解析] A 项, 翻一番即变为原来的 2 倍, 翻两番即变为原来的 4 倍, 根据文字资料第一段“截至 2015 年底, 中关村上市公司总市值达到 48175 亿元……较 2011 年增长了约 34824 亿元”可知, 保留两位有效数字来计算, 2011 年总市值约为 $48-35=13$ (千亿元), $48 \div 13 = 3^+$, 说明 2015 年是 2011 年的 3 倍多, 不到 4 倍, 即翻了一番多, 不到两番, A 项说法错误。B 项, 根据第一个图形资料中的折线图可知, 2011—2015 年, 这条折线呈上下起伏的震荡趋势, B 项说法正确。C 项, 根据第二个图形资料可知, 排名前 3 位的公司研发总费用为 $103+102+96$, 剩余 17 个公司的研发总费用为 $(37+35+33) + (32+26+26+17) + (14+14+13+12+11+10+9+9+9+8) = 105+101+109$, 略大于 $103+102+96$, 说明排名前 3 位的公司研发总费用占前 20 位研发总费用的将近一半, C 项说法正确。D 项, 根据文字资料第二段“其中有 67 家 (公司数量占比 32%) 企业……达到了国际高科技领先企业的水平”可知, 32% 接近 $\frac{1}{3}$, D 项说法正确。故选 A。

96. A [解析] 根据第一个图形资料, 只需比较 2012 年、2013 年、2014 年、2015 年网线柱与上一年的差即可。保留三位有效数字进行计算, 2012 年差约为 $246-218=28$, 2013 年差约为 $270-246=24$, 2014 年差约为 $294-270=24$, 2015 年差约为 $312-294=18$, 增长最多的是 2012 年, 故选 A。

97. D [解析] 根据第一个图形资料可知 2016 年全国农村居民人均可支配收入的增速为 $(12363-11422) \div 11422 \approx (124-114) \div 114 = 10 \div 114 = 8\%$, 再根据第二个图形资料, 可知这 8 个省份的增速都高于全国, 故选 D。

98. C [解析] 根据第一个图形资料中的空白柱状图可知, 超过 9000 元的年份有 2014 年、2015 年、2016 年, 共 3 个。故选 C。

99. B [解析] 根据第一个图形资料可知, 2011—2016 年城乡居民人均可支配收入的比



值依次为 $\frac{21809.8}{6977.3} \approx \frac{22}{7} \approx 3.14$, $\frac{24564.7}{7916.6} \approx \frac{25}{8} \approx 3.13$, $\frac{26955.1}{8895.9} \approx \frac{270}{89} \approx 3.03$, $\frac{29381}{9892} \approx \frac{30}{10} = 3$, $\frac{31195}{11422} \approx \frac{31}{11} \approx 2.82$, $\frac{33616}{12363} \approx \frac{336}{124} \approx 2.71$, 呈逐年递减的趋势, 故选 B。

100. D [解析] A 项, 根据文字资料“据不完全统计, 河南、甘肃、河北等地 2016 年贫困地区农民人均可支配收入增长速度普遍高于当地农民人均可支配收入增速”可知, A 项“居民”说法错误。B 项, 根据第一个图形资料中的空白柱状图可知, 2012 年全国农村居民人均可支配收入增速为 $\frac{7916.6}{6977.3} - 1 \approx \frac{8}{7} - 1 = \frac{1}{7}$, 2013 年为 $\frac{8895.9}{7916.6} - 1 \approx \frac{9}{8} - 1 = \frac{1}{8}$, $\frac{1}{7} > \frac{1}{8}$, 即 2012 年增速大于 2013 年增速, 说明不是逐年上涨的, B 项说法错误。根据两个图形资料可知, 2016 年河南省贫困地区农村居民人均可支配收入为 9394.9 元, 全国农村居民人均可支配收入为 12363 元, 差额为 $12363 - 9374.9 = 3000 -$ (元), 即不到 3000 元, C 项说法错误。D 项, 根据第二个图形资料可知, 2016 年江西省贫困地区农村居民人均可支配收入为 9133 元, 增

速为 11%, 故 2015 年的人均可支配收入为 $\frac{9133}{1+11\%} \approx \frac{9133}{1+\frac{1}{9}} = 9133 \times \frac{9}{10} \approx 913 \times 9 = 8217$ (元), 与 8230 元非常接近, D 项说法正确。故选 D。