



2014 年北京公务员考试

《行政职业能力测验》真题



扫描二维码, 关注厚职公考官方公众号获取更多真题和资料
厚职公考网 (www.houzhiwang.com) 整理提供



2014年北京公务员考试行测真题及答案解析

2014年北京公务员考试行测真题及答案 PDF 版下载 (答案解析请下载 PDF 版查看)

第一部分 常识判断

(共 35 题, 参考时限 20 分钟)

本部分包括两种类型的题目, 请根据题目要求作出正确选择。多项选择题错选、多选、少选均不得分。

一、单项选择题 (共 25 题)

1. 根据中央部署, 党的群众路线教育实践活动于 2013 年 6 月 18 日正式启动。活动总的要求是 ()

- A. 贯彻落实中央八项规定, 反对形式主义、官僚主义、享乐主义、奢靡之风
- B. 紧紧围绕保持和发展党的先进性和纯洁性, 为民务实清廉
- C. 照镜子、正衣冠、洗洗澡、治治病
- D. 学习教育、听取意见; 查摆问题、开展批评; 整改落实、建章立制

【答案】C。

【考点】时政

【解析】根据中共中央部署, 党的群众路线教育实践活动于 2013 年 6 月 18 日启动。一年左右的时间里, 活动将紧紧围绕保持和发展党的先进性和纯洁性, 以为民务实清廉为主要内容, 按照“照镜子、正衣冠、洗洗澡、治治病”的总要求, 自上而下在中共全党深入开展。因此本题答案选 C。

2. 2013 年 7 月 6 日我国与 () 正式签署了自由贸易协定, 这是我国与欧洲大陆国家签署的首个自贸协定。

- A. 英国
- B. 德国
- C. 意大利
- D. 瑞士

【答案】D。

【考点】时政

【解析】2013 年 7 月 6 日, 中瑞自由贸易协定于在北京正式签署, 这是中国与欧洲大陆国家达成的首个自贸协定。根据协定, 瑞方将对中方 99.7% 的出口立即实施零关税, 中方将对瑞方 84.2% 的出口最终实施零关税。因此本题答案选 D。

3. 国家“十二五”规划纲要提出, 处于区域发展总体战略优先位置的是 ()

- A. 深入实施西部大开发战略
- B. 大力促进中部地区崛起
- C. 全面振兴东北老工业基地
- D. 积极支持东部地区率先发展

【答案】A。

【考点】时政

【解析】国家“十二五”规划纲要提出, 促进区域协调互动发展, 实施区域发展总体战略和主体功能区战略, 把实施西部大开发战略放在区域发展总体战略优先位置, 充分发挥各



地区比较优势, 促进区域间生产要素合理流动和产业有序转移, 在中西部地区培育新的区域经济增长极, 增强区域发展的协调性。因此本题答案选 A。

4. 2013 年 11 月 5 日北京市召开宣传思想工作会议, 市委书记郭金龙强调, 全市各级党组织和宣传文化战线要深入学习贯彻全国宣传思想工作会议和习近平总书记重要讲话精神, 牢牢把握 () 主导权和 () 主导权, 积极深化文化体制改革。

- A. 文化传播工作 媒体宣传工作
- B. 意识形态工作 网络舆论工作
- C. 信念教育工作 正面宣传工作
- D. 宣传思想工作 媒体舆论工作

【答案】B。

【考点】时政

【解析】2013 年 11 月 5 日, 北京市召开宣传思想工作会议, 市委书记郭金龙强调, 全市各级党组织和宣传思想文化战线要深入学习贯彻全国宣传思想工作会议和习近平总书记重要讲话精神, 牢牢把握意识形态工作主导权和网络舆论工作主导权, 积极深化文化体制改革, 努力开创首都宣传思想文化工作新局面。因此本题答案选 B。

5. 2013 年 9 月北京市出台《北京市 2013—2017 年清洁空气行动计划》, 该计划的目标是经过五年努力, 全市空气质量明显改善, () 天数较大幅度减少。

- A. 轻度污染
- B. 中度污染
- C. 重污染
- D. 污染

【答案】C。

【考点】时政

【解析】《北京市 2013—2017 年清洁空气行动计划》指出, 经过五年努力, 全市空气质量明显改善, 重污染天数较大幅度减少。到 2017 年, 全市空气中的细颗粒物年均浓度比 2012 年下降 25% 以上, 控制在 60 微克/立方米左右。因此本题答案选 C。

6. 2013 年 10 月北京市出台的《北京市人民政府关于加快推进养老服务业发展的意见》指出, 对城市“三无”(无劳动能力, 无生活来源, 无赡养人和抚养人、或者其赡养人和抚养人确无赡养能力) 人员将实行 (), 保障其基本养老服务需求。

- A. 政府供养
- B. 单位供养
- C. 社会供养
- D. 家庭供养

【答案】A。

【考点】时政

【解析】《北京市人民政府关于加快推进养老服务业发展的意见》指出, 要推进基本养老服务均等化, 对城市“三无”(无劳动能力, 无生活来源, 无赡养人和抚养人、或者其赡养人和抚养人确无赡养能力) 人员和农村五保对象中的老年人实行政府供养, 保障其基本养老服务需求; 对低收入、失能、失独、高龄和特殊困难老年人, 由政府给予相应的福利保障。因此本题答案选 A。



7. 网络黑客攻击是全球性问题。我国是黑客攻击的最大受害国之一, 我国政府一贯坚决反对黑客攻击行为, 并愿就推动互联网安全和打击网络黑客攻击等违法犯罪活动加强国际合作。这说明 ()

- A. 我国在国际事务中发挥主导作用
- B. 维护国家利益是我国对外活动的目的和依据
- C. 我国与其他各国的国家利益相同
- D. 独立自主是我国处理国际关系的基本准则

【答案】B。

【考点】中国特色社会主义理论体系

【解析】我国政府一贯坚持反对黑客攻击行为, 并愿就此加强国际合作, 说明我国在对外活动中, 是以维护我国的国家利益为目的和依据的。选项 B 正确。选项 ACD 在材料中并没有体现出来, 不选。因此本题答案选 B。

8. 一般情况下, 银行利率提高, 股票价格会 ()

- A. 随之上升
- B. 不受其影响
- C. 随之下降
- D. 不稳定波动

【答案】C。

【考点】宏观经济

【解析】银行利率与股票价格二者成反比。利率下降时, 股票的价格就会上涨; 利率上升时, 股票的价格就会下跌。因此本题答案选 C。

9. 1710 年到 1760 年, 英国大量从中国进口茶叶等特产, 在此期间, 英国为此向中国支付了大量白银, 该国的白银几乎耗尽。而当时英国的产品在中国几乎无人知晓。上述现象说明当时 ()

- A. 英国的生产力远落后于中国
- B. 英中贸易对英国而言贸易逆差显著
- C. 英国对中国有明显经济优势
- D. 中国成为英国原料产地和商品市场

【答案】B。

【考点】中国近代史

【解析】贸易逆差指一国在一定时期内出口贸易总值小于进口贸易总值, 反映的是国与国之间的商品贸易状况。在本题中, 英国大量从中国进口茶叶等特产, 为此向中国支付了大量的白银, 而英国的产品在中国几乎无人知晓。可以判断出英中贸易中, 英国的进口贸易总值远远大于出口贸易总值, 处于贸易逆差。选项 B 正确。选项 A、D 本身说法错误。选项 C 在材料中未体现。因此本题答案选 B。

10. 下列对有关法律的解释, 正确的是 ()



- A. 人民法院不可以在当事人不在场或者不知情的情况下缺席判决离婚
- B. 有配偶的人又与他人以夫妻的名义同居生活, 形成事实有效婚姻
- C. 我国法律规定, 对婚姻关系解除的判决不能申请再审
- D. 对于父母无力赡养的祖父母, 有负担能力的孙子女没有赡养义务

【答案】C。

【考点】民法

【解析】我国《民事诉讼法》第 202 条规定, 当事人对已经发生法律效力的解除婚姻关系的判决、调解书, 不得申请再审。因此本题答案选 C。

11. 2013 年高考前夕, 一则消息让广大农村考生感到温暖和振奋: 国家决定, 提高重点高校招收农村学生比例, 今年比去年增加 8.6%。这主要体现了 ()

- A. 党和政府维护社会公平
- B. 党和政府以人为本的执政理念
- C. 党同人民群众的血肉联系
- D. 党和政府求真务实的工作作风

【答案】A。

【考点】时政

【解析】提高重点高校招收农村学生比例, 有利于促进教育公平, 体现了党和政府维护社会公平。因此本题答案选 A。

12. 王某不服工商所对其依法作出的 300 元罚款的决走, 应向 () 提出复议。

- A. 该工商所
- B. 派出该工商所的工商局的上级机关
- C. 该工商所所在地的乡政府
- D. 派出该工商所的工商局

【答案】D。

【考点】行政法

【解析】我国《行政复议法》第 15 条规定, 对政府工作部门依法设立的派出机构依照法律、法规或者规章规定, 以自己的名义作出的具体行政行为不服的, 向设立该派出机构的部门或者该部门的本级地方人民政府申请行政复议。在本题中, 工商所属于工商局的派出机关。应向该工商所的派出机关工商局或者工商局所在的本级人民政府申请行政复议。因此本题答案选 D。

13. 王某明知某电器产品不符合保障人身安全的国家标准, 仍然大量进货销售, 销售金额达 80 万元。某企业因使用这种电器造成短路, 引起火灾, 致 3 人轻伤, 部分厂房被烧毁。下列说法中正确的是 ()

- A. 王某的行为已构成失火罪
- B. 王某的行为已构成销售伪劣产品罪



- C. 对王某应按照失火罪和销售伪劣产品罪中的一个重罪定罪处罚
- D. 对王某应按照销售伪劣产品罪和过失伤人罪, 数罪并罚

【答案】 B。

【考点】 刑法

【解析】 失火罪是指由于行为人的过失引起火灾, 造成严重后果, 危害公共安全的行为。本罪在客观方面表现为行为人实施引起火灾, 造成严重后果的危害公共安全行为。即行为人必须有引起火灾的行为。在本题中, 王某并没有引起火灾的行为, 不构成失火罪。

生产、销售伪劣产品罪, 是指生产者、销售者在产品中掺杂、掺假, 以假充真, 以次充好或者以不合格产品冒充合格产品, 销售金额达 5 万元以上的行为。本题中王某明知某电器产品不符合保障人身安全的国家标准, 仍然大量进货销售, 构成销售伪劣产品罪。因此本题答案选 B。

14. 2013 年 11 月 18 日国家主席习近平在会见美国前总统克林顿时指出, 中美两国正在共同致力于中美“新型大国关系”。下列对于中美两国关系发展历程中的历史事件, 时间排序正确的是 ()

- ①签订《中美贸易关系协定》 ②尼克松访华
- ③中美联合发表“八一七公报” ④乒乓外交

- A. ④③②① B. ⑧①④②
- C. ④②①③ D. ④②③①

【答案】 C。

【考点】 中国近现代史

【解析】 1979 年 7 月 1 日, 中国与美国在北京签订《中美贸易关系协定》。1972 年 2 月 21 日, 美国总统尼克松抵达北京, 受到周恩来总理等中国领导人的欢迎, 开始访华。1982 年 8 月 17 日美国与中国发表有关军售台湾问题的公报 (即“八一七公报”)。乒乓外交是指 1971 年中国邀请美国乒乓球队访华事件。1971 年 4 月 10 日, 美国乒乓球代表团和一小批美国新闻记者抵达北京, 成为自 1949 年以来第一批获准进入中国境内的美国人。因此本题答案选 C。

15. 我国南方和北方的地理分界线是 ()

- A. 乌蒙山—长江 B. 祁连山—黄河
- C. 伏牛山—淮河 D. 秦岭—淮河

【答案】 D。

【考点】 地理国情

【解析】 秦岭—淮河一线, 就是人们常说的中国 (特别是东部) 南方和北方的地理分界线, 是中国季风区的南方和北方的地理分界线。此线的南面和北面, 无论是自然条件、农业生产方式, 还是地理风貌以及人民的生活习俗, 都有明显的不同。因此本题答案选 D。

16. “新思潮的精神是一种评判的态度。新思潮的手段是研究问题和输入学理。……新



思潮对旧文化的态度, 在积极一面是反对盲从, 是反对调和, 是用科学的方法来做整理的工夫。新思潮的唯一目的是什么? 是再造文明。”下列历史事件中, 体现新思潮的是 ()

- A. 洋务运动
- B. 戊戌变法
- C. 辛亥革命
- D. 新文化运动

【答案】D。

【考点】中国近现代史

【解析】新文化运动使民主和科学思想得到弘扬。中国知识分子在新文化运动中, 受到一次西方民主和科学思想的洗礼。这就为新思潮的传播开辟了道路, 也推动了中国自然科学事业的发展。在本题中, 新文化运动正是材料中所论述的“新思潮”的体现。因此本题答案选 D。

17. 先秦时期, 诸子百家提出了各种治国的主张, 下列观点属于法家政治思想的是 ()

- A. 人法地, 地法天, 天法道, 道法自然
- B. 境内之民, 其言谈者必轨于法, 为勇者尽之于军
- C. 凡入国, 必择务而从事焉
- D. 易其田畴, 薄其税敛, 民可使富也

【答案】B。

【考点】中国传统文化

【解析】选项 A 属于道家的思想。选项 B 属于法家的思想。选项 C 属于墨家的思想。选项 D 属于儒家的思想。因此本题答案选 B。

18. 对下列对联依次所指的文学家, 判断正确的一项是 ()

- ①哀怨托离骚, 生而独开诗赋立; 孤忠报楚国, 余风波及汉湘人。
 - ②兵甲富于胸中, 一代功名高宋室; 忧乐关乎天下, 千秋俎豆重苏台。
 - ③质而绮, 真而醇, 自可传之千古; 樽中酒, 篱下诗, 岂甘了此一生。
 - ④笔诤时政, 心在苍生, 万户争传新乐府; 堤建西湖, 神归东洛, 千秋永祀老诗翁。
- A. 孔子 李白 李煜 陆游
 - B. 屈原 陶潜 李煜 白居易
 - C. 屈原 范仲淹 陶潜 白居易
 - D. 孔子 李白 白居易 范仲淹

【答案】C。

【考点】文学

【解析】在①中, 根据关键词“离骚”和“楚国”, 可以判断出所指的文学家是屈原。在②中, 根据“宋室”和“忧乐关乎天下”, 可以联想到范仲淹在《岳阳楼记》写出“先天下之忧而忧, 后天下之乐而乐”, 判断出所指的文学家是范仲淹。在③中, 根据“樽中酒, 篱下诗”并结合选项, 可以判断出, 描写的是陶潜, 即陶渊明, 来源于陶渊明在《桃花源记》《归去来兮辞》《归园田居》中的描述。在④中, 根据“新乐府”, 并结合选项, 我们可知描写的应该是白居易, 因为其白居易与元稹共同倡导新乐府运动, 世称“元白”。因此本题答



案选 C。

19. 交响乐团通常由 () 三大声部组成。

- A. 管乐、弦乐、钢琴
- B. 弦乐、管乐、打击乐
- C. 管乐、钢琴、打击乐
- D. 弦乐、钢琴、打击乐

【答案】 B。

【考点】 艺术

【解析】 交响乐团(管弦乐团)按建制可分为双管乐团和三管乐团,通常由弦乐,管乐,打击乐三大声部组成,小规模交响乐团一般有大约 20~30 名乐手,而大型的三管乐团演出阵容可达百余人。因此本题答案选 B。

20. 下列关于人体血压的说法,正确的是 ()

- A. 心室收缩时,动脉血压值称为收缩压,也称为低压
- B. 正常的血压是血液循环流动的前提,受到多种因素的影响
- C. 高血压对身体健康有重大危害,低血压不会影响身体健康
- D. 高血压病人应遵医嘱,服用降压药;血压正常后,应立刻停药

【答案】 B。

【考点】 生物医学

【解析】 心室收缩时,主动脉压急剧升高,在收缩期的中期达到最高值,这时的动脉血压值称为收缩压,也称为“高压”。选项 A 错误。低血压也会影响人的身体健康。选项 C 错误。高血压患者在血压恢复正常以后要继续坚持服药控制血压,可以在医生的指导下适当减少剂量,但不能停用,不然是很容易导致病情复发,使并发症发病。选项 D 错误。因此本题答案选 B。

21. 许多现代化武器采取了“隐身”技术,下列不属于“隐身”技术的是 ()

- A. 降低潜艇发动机噪音,采用喷水推进、电磁推进
- B. 改进飞机的外形结构,尽量减少或者消除雷达接收到的有用信号
- C. 武器装备采用吸收雷达波的涂敷材料和结构材料
- D. 施放多个假目标,增多雷达监视目标数量

【答案】 D。

【考点】 近现代重大科技成就

【解析】 D 项是伪装技术,因此本题答案选 D。

22. 2013 年 7 月 8 日北京市海淀区政府宣布,将在海淀北部生态科技新区全力打造 CID。CID 是指 ()

- A. 首都信息化先导性示范区



- B. 新生态办公区
- C. 首都休闲娱乐示范区
- D. 国际商务中心区

【答案】A。

【考点】时政

【解析】北京市城市功能拓展区简介指出, 采取“点面结合、以点带面”的发展模式, 以海淀区为主体, 将中央信息区 (CID) 建设成为首都信息化的先导性示范区和中国向世界展示信息化水平的窗口。因此本题答案选 A。

23. 下列建筑中, 位于北京南北向中轴线上的是 ()

- A. 天坛祈年殿
- B. 中华世纪坛
- C. 人民英雄纪念碑
- D. 东便门城楼

【答案】C。

【考点】地理国情

【解析】为体现封建王朝在国家的中心地位, 北京许多著名的建筑都处在南北中轴线的位上, 如正阳门、天安门、帝王所居之地紫禁城、全城报时中心钟、鼓楼等。新中国成立以后, 又陆续扩建了天安门广场、人民英雄纪念碑、毛主席纪念堂等等。因此本题答案选 C。

24. 下列有关“函”的表述中, 错误的是 ()

- A. 适用于不相隶属的机关之间
- B. 用于向有关主管部门的请求和批准
- C. 用于相互商洽工作、询问和答复问题
- D. 是公文中使用范围比较广泛的一种文种

【答案】B。

【考点】公文

【解析】《党政机关公文处理工作条例》第 8 条规定, 函, 适用于不相隶属机关之间商洽工作、询问和答复问题、请求批准和答复审批事项。B 项说主管部门, 说法错误。因此本题答案选 B。

25. 我国采用北京所在的东八时区的区时作为标准时间, 称为北京时间, 其发布地位于 ()

- A. 北京天文台的授时中心
- B. 拉萨天文台的授时中心
- C. 甘肃酒泉的国家授时中心
- D. 西安临潼的国家授时中心

【答案】D。

【考点】地理国情

【解析】“北京时间”的发布地点不在北京, 而是在远离北京的陕西省西安临潼的国家



授时中心。因此本题答案选 D。

二、多项选择题 (共 10 题)

26. 党的十八大报告中提出“为全面建成小康社会而奋斗”,与十七大报告中提出的“为夺取全面建设小康社会新胜利而奋斗”的表述不同,从“建设”到“建成”,一词之变说明 ()

- A. 意识对物质具有推动作用
- B. 主观与客观要做到具体的、历史的统一
- C. 真理是一个由不正确到正确的发展过程
- D. 认识总是随着实践的发展而变化

【答案】BD。

【考点】马克思主义哲学

【解析】A 项意识对物质具有推动作用为错误表述,意识对物质具有能动作用,正确促进错误阻碍。C 项亦为错误表述,人类认识真理的过程是一个不断发展的过程,真理在形式上是客观的,一直是正确的。所以选 BD 选项。

27. 近年来,我国多地出现冬季因雨雪天气导致蔬菜价格明显上涨。另有报道显示,我国目前蔬菜流通环节的成本要占到菜价的 60%,有的甚至占到了 90%。这表明 ()

- A. 气候因素通过供求关系对商品价格产生影响
- B. 蔬菜价格的高低在一定程度上受制于流通成本
- C. 提高生产蔬菜的劳动生产率可抑制其价格上涨
- D. 新鲜蔬菜的价格不受生产蔬菜劳动时间的影响

【答案】AB。

【考点】微观经济

【解析】材料中提到,蔬菜价格明显上涨,是因为其流通成本高,因此 B 项正确。而造成流通成本高的原因之一就是雨雪天气,雨雪天到不畅,以至于在市场上出现蔬菜供求不平衡的现象发生,从而影响到了蔬菜的价格,因此 A 项正确。因此本题答案选 AB。

28. 人大代表在人代会期间依法提出议案和建议案,是履行其职责的重要形式。可见,为履行好职责,人大代表需要 ()

- A. 广泛听取和反映人民群众的意见
- B. 参与行使国家权力,接受人民监督
- C. 发挥先锋模范作用,做到执政为民
- D. 审慎行使自己提出建议的权利

【答案】ABD。

【考点】中国特色社会主义理论体系

【解析】人大代表是中华人民共和国全国和地方各级人民代表大会的组成人员。人大代表经过民主选举方式产生,代表人民行使国家权力,具有广泛性、代表性、先进性。人大代



表主要权利: 提出议案的权利; 提出质询的权利; 选举和罢免政权机关领导人的权利; 人身特别保护权; 在人大会上发言和表决不受法律追究的权利。由于人大代表的提议是反映广大人民的心声的, 因此要审慎提出。人大代表必须履行的义务有, 模范地遵守宪法和法律, 协助宪法和法律的实施; 密切联系人民群众。人大代表要经常倾听群众的意见, 积极向国家机关反映人民群众的意见和要求等。因此本题答案选 ABD。

29. 下列哪些选项被认为是影响宏观经济运行的两大预期 ()

- A. 通货膨胀预期
- B. 工作收入预期
- C. 企业盈利预期
- D. 政府税收预期

【答案】AD。

【考点】宏观经济

【解析】预期对宏观经济运行具有重要的影响。预期的种类有很多种, 但从宏观角度方面来看, 最主要的是通货膨胀预期和政府税收预期。国家通过这两项, 从宏观的校对来制定方案, 确保经济的正常运行。因此本题答案选 AD。

30. 调整和优化经济结构是当前我国一项重要的经济工作, 这里的经济结构主要包括 ()

- A. 产业结构
- B. 资本结构
- C. 总需求与总供给结构
- D. 内需与外需结构

【答案】AD。

【考点】宏观经济

【解析】经济结构指国民经济的组成和构造, 包括产业结构、分配结构、交换结构、消费结构、技术结构、劳动力结构、内需与外需结构等。资本结构是针对企业而言的, 排除 B 项。总需求与总供给结构属于宏观调控的范畴, 排除 C 项。

31. 20 世纪八、九十年代, 中国经受住了国内外环境变化的考验, 发展成具有广泛影响的世界性大国。这一时期中国在内政外交上的重大决策和成就有 ()

- A. 从计划经济向市场经济过渡
- B. 恢复中国在联合国的合法席位
- C. 对香港、澳门恢复行使主权
- D. 开展多边外交, 维护世界和平

【答案】ACD。

【考点】中国近现代史

【解析】1971 年 10 月 25 日, 第 26 届联合国大会以 76 票赞成 35 票反对 17 票弃权的压倒多数通过了恢复中华人民共和国在联合国的一切合法权利的提案。此历史事件发生在 70 年代, 因此 B 项错误。因此本题答案选 ACD。



32. 劳动者依法享受以下哪些假期时, 用人单位应按劳动合同规定的标准支付劳动者工资 ()

- A. 年休假 B. 探亲假 C. 婚假 D. 丧假

【答案】 ABCD。

【考点】 民法

【解析】 劳动者可以要求用人单位支付工资的假期有: (1) 法定节假日; (2) 年休假; (3) 探亲假; (4) 产假; (5) 婚丧假; (6) 病假; (7) 工伤假期。劳动部《违反和解除劳动合同的经济补偿办法》劳部发〔1994〕481号第十一条规定: 劳动者依法享受年休假、探亲假、婚假、丧假期间, 用人单位应按劳动合同规定的标准支付劳动者工资。

33. 1934年《申报》载“现代中国的摩登姑娘、太太们, 哪一个不是成了洋货商店的好主顾, 从头发丝尖儿起, 至高跟鞋鞋底的最末一英寸止, 差不多除了她们固有的中华血统的皮肉之外, 全都装饰着舶来的服饰用品。连日常的食品, 为了求清洁卫生的绝大理由, 也积极地洋化起来, 以期脱胎换骨, 由黄皮肤黑眼珠渐渐地变成优生的雅利安或是斯拉夫的新种”。

这则材料表明在当时 ()

- A. 欧风美雨开始影响中国
B. 贵重的物品都是西方人制造的
C. 国人生活西化趋势明显
D. 西化影响的加深引发人们担忧

【答案】 AC。

【考点】 中国近现代史

【解析】 材料中提到, 在当时的社会, 很多太太们崇尚洋产品, 从服饰到用品, 可以看出, 欧美风的产品对当时的中国产生了很大的影响, 国人们的生活也在不知不觉中越来越西化。因此本题答案选 AC。

34. 下列单位之间可以联合行文的是 ()

- A. 某政府各部门之间
B. 上级政府部门和下级政府之间
C. 党委部门和政府部门
D. 政府部门和相关企业

【答案】 AB。

【考点】 公文

【解析】 根据《党政机关公文处理条例》第17条的规定, 联合行文主要包括以下情况: (1) 同级政府、同级政府各部门、上级政府部门与下一级政府可以联合行文; (2) 政府与同级党委和军队机关可以联合行文; (3) 政府部门与相应的党组织和军队机关可以联合行文; (4) 政府部门与同级人民团体和具有行政职能的事业单位可以联合行文。A、B两项正确。



联合行文要求行文的单位必须是同级的, C 项没有说明党委部门和政府部门是同级, 排除。企业不是公文主体, 排除 D 项。

35. 科学家通过对周口店北京猿人遗址的长期发掘和研究, 发现北京猿人 ()

- A. 群居洞穴
- B. 已经学会使用火
- C. 还不能直立行走
- D. 不会使用工具

【答案】 AB。

【考点】 中国古代史

【解析】 考古学者在对北京猿人的研究中发现, 北京猿人通常几十人结成一群。它们的骨头常常在洞内出现, 上面往往有清楚的砍切痕迹。北京猿人会用火, 成堆的灰烬说明当时已能很好地管理火。另外北京猿人的文化遗物包括石制品、骨角器和用火遗迹。北京人的头部保存的原始性质和爪哇人相似, 因而它们同属于直立人发展阶段。因此本题答案选 AB。

第二部分 言语理解与表达

(共 30 题, 参考时限 35 分钟)

本部分均为单项选择题, 着重考查考生对语言文字的理解与驾驭能力。这种能力包括: 对词、句子、篇章一般意思和特定意义的理解; 对比较复杂的概念和观点的准确理解; 对语句隐含信息的合理推断; 根据上下文, 恰当选用词语; 准确地辨明句义, 筛选信息。

注意: 问题可能是选择一个词语或一个句子, 使表达最为准确, 也可能是考查对文字内容的理解, 你的选择应与题目要求最相符合。

36. 大约六千年前, 古巴比伦的人们开始制作黏土代币作为交易的记录。不同形状的黏土代币表示不同的物品。当一次交易需要用到很多代币时, 人们就用黏土把它们包裹起来, 交易者用削尖的木棍在上面刻上不同的符号, 用以表示里面包了些什么。后来一些人想到了更简洁的办法, 只需简单地将符号刻在黏土上, 就可以表示交易内容, 这样就摆脱了烦琐的代币。于是文字被发明了, 而这正是文明的开始。

这段文字主要介绍了 ()

- A. 古巴比伦的货币发展史
- B. 古巴比伦文字是如何产生的
- C. 文字对文明发展的重要意义
- D. 古巴比伦人怎样进行商品交换

【答案】 B。

【考点】 主旨概括

【解析】 文段通过介绍古巴比伦时代人们在制作黏土代币中的一些变化引出了文字的产生, 即文段主要介绍的是古巴比伦文字是如何产生的, 因此本题答案为 B。

37. 中国长江以南的居民最初来自北方, 周期性的天灾与持续不断的人口压力迫使汉族



逐渐离开黄河流域, 迁移到南方, 如南宋时就有一次南迁高峰。但是人口流动常常是不易察觉的, 通过将地方志中提到的水利工程统计制表, 历史学家现在能够说, 早在 3 世纪就有相当数量的移民开始渡过长江, 进入拥有季风气候、热带丛林的南方。唐代移民迅速增长, 13 世纪晚期移民数量达到高峰, 之后开始下降, 直到 1700 年相对稳定。此时, 中国大半人口已住在长江以南。

对这段文字的主旨概括最准确的是 ()

- A. 描述长江以南的人口迁入史
- B. 介绍人口研究方面的新成果
- C. 分析中国古代人口大规模迁移的原因
- D. 说明人口压力与人口流动之间的关系

【答案】A。

【考点】主旨概括

【解析】文段首先说明了中国古代人口大规模迁移的原因, 紧接着又说明了根据地方志中提到的水利工程统计制表, 历史学家所掌握的南迁具体情况——3 世纪开始, 唐代迅速增长, 13 世纪达到高峰, 之后下降, 直到 1700 年相对稳定。由此可知, 本题正确答案为 A。

38. “天池”的最早出处大概是《庄子》, 原义是指寓言中所说的海, 但至少到了南北朝时, 人们已开始用“天池”专指那些位于山原之上的湖泊。比如北魏郦道元《水经注》中就特别提到, 山西宁武县西南的管涔山上, 有一处俗名祁连泊池的湖泊, 因其坐落在山原之上, 当地人又称其为“天池”。近代以来, 随着地理视野的扩大, 越来越多景致各异的天池相继进入人们的视野。时至今日, 提到天池, 在中国知名度最高的有两处, 一是吉林长白山天池, 另一处则是位于新疆博格达峰下的天山天池。

下列说法能在原文中得到印证的是 ()

- A. 《庄子》中提到的天池指的是天山天池
- B. 郦道元首先用“天池”指称山原上的湖泊
- C. 山西宁武县管涔山上的天池已经趋于干涸
- D. “天池”现在的含义与《水经注》相一致

【答案】D。

【考点】细节理解

【解析】《庄子》中提到的天池指的是寓言中的海, 不是天山天池, A 项错误。由文段的第二三句可知, 此处只是拿郦道元作为例子, 并没说他首先用“天池”指称山原上的湖泊, B 项错误。文段没有提及山西宁武县管涔山上的天池趋于干涸, C 项错误。D 项说法与原文相符, 当选。

39. 在今天南京的清凉山西部, 有一段石壁叫鬼脸城, 一般认为是古代石头城的遗址, 但作为六朝古迹的石头城, 却可能不在这里。据专家考证, 早在六朝以前, 江水就已经逐渐向西迁移。211 年, 孙权将东吴的政治中心从京口迁到秣陵, 并将秣陵改名为建业, 次年营建了石头城, 东吴大将周瑜曾在石头城操练水兵。这个石头城或应在今天定淮门旁边的四望



山上, 地势靠近长江。清凉山也叫石头山, 不过, 它的得名却迟至五代十国, 由于江水不断向西迁徙, 杨行密所建立的吴国就把石头城迁到了清凉山。

下列说法与原文相符的是 ()

- A. 历史上的石头城曾多次搬迁
- B. 孙权营建的石头城靠近长江
- C. 清凉山是由杨行密所命名的
- D. 石头城始建于五代十国时期

【答案】B。

【考点】细节理解

【解析】由整个文段来看, 石头城并没有多次搬迁, A 项错误。由第三句至第五句内容可知, B 项正确。由文段的最后一句可知, C、D 两项说法错误。因此本题答案为 B。

40. 徽州文化具有自然与人文、物质文化遗产与非物质文化遗产相融合的整体性特征, 独特而集中。村落依山而建, 讲究水系与自然的和谐, 目连戏和村落、宗族信仰、文化活动紧密联系, 徽剧演出的戏台就是村落建筑的组成部分; 文房四宝与古建筑中的“文气”融为一体; 罗盘制作源于徽州人对堪舆风水的重视; 医学与宗族以及山区的药材资源有密切关联; 楹联匾额不仅突出了徽州文化的品位, 也体现山区丰富的竹木资源……凡此种种, 无不是其文化生态的整体性的体现。

这段文字意在说明 ()

- A. 徽州文化的突出特征
- B. 徽州文化的组成部分
- C. 徽州文化的传承关系
- D. 徽州文化的存在基础

【答案】A。

【考点】意图判断

【解析】文段属于总分结构, 首句为中心句, 后面分说。概括第一句内容可知, 文段主要说明了徽州文化的突出特征。因此本题答案为 A。

阅读以下文字, 完成 41~45 题。

根据《全国经济普查条例》的规定, 国务院决定开展第三次全国经济普查工作: 全面调查了解我国第二产业和第三产业的发展规模及布局; 了解我国产业组织、产业结构、产业技术的现状以及各生产要素的构成; 进一步查实服务业、战略性新兴产业和小微企业的发展状况; 摸清我国各类单位的基本情况; 全面更新覆盖国民经济各行业的基本单位名录库、基础信息数据库和统计电子地理信息系统。通过普查, 进一步夯实统计基础, 健全统计工作的部门协调机制和信息共享机制, 为_____宏观调控, 加快经济结构战略性调整, 科学制定中长期发展规划, 提供科学准确的统计信息支持。

国务院将成立第三次全国经济普查领导小组, 负责普查组织和实施中重大问题的研究和决策。普查领导小组由国务院领导同志任组长, 成员单位包括国务院办公厅、统计局、发展



改革委等部门。普查领导小组办公室设在统计局, 负责普查的具体组织实施和协调。其中, 涉及普查经费方面的事项, 由财政部负责和协调; 涉及固定资产投资保障方面的事项, 由发展改革委负责和协调。国务院其他各有关部门, 也要按照各自的职能, 各负其责、通力协作、密切配合。

地方各级人民政府要设立相应的普查领导小组及其办公室, 加强领导、认真组织好本地区的普查实施工作。对于普查工作中遇到的困难和问题, 要及时采取措施, 切实予以解决。要充分发挥街道办事处和居民委员会、乡镇政府和村民委员会的作用, 广泛动员和组织社会力量积极参与并认真配合做好普查工作。

地方普查机构应当根据工作需要, 聘用或者从有关单位商调符合条件的普查指导员和普查员, 并及时支付聘用人员的劳动报酬, 保证商调人员在原单位的工资、福利及其他待遇不变, 稳定经济普查工作队伍, 确保普查工作顺利进行。

利用统计电子地理信息系统, 全面建立普查区电子地图; _____统计联网直报系统成果; 积极推广使用手持电子数据采集设备, 努力提高普查工作的信息化水平和效率, 减轻基层普查人员的工作负担。

41. 据上下文, 填入第 1 段划线部分最恰当的一项是 ()

- A. 建立和健全 B. 保障和完善
C. 加强和改善 D. 实现和发展

【答案】C。

【考点】实词辨析

【解析】本题考查固定搭配, 四个选项中能与“宏观调控”搭配的只有“加强和改善”。且这两个词语意思与上下文所讲内容相符, 因此本题答案为 C。

42. 第 1 段文字材料的内容可以概括为 ()

- A. 普查的基本内容 B. 普查的主要目的
C. 普查的基本要素 D. 普查的重点内容

【答案】B。

【考点】主旨概括

【解析】从第一段所讲内容来看, 它主要说明的是通过开展第三次经济普查所要达到的效果, 即普查的目的。因此本题答案为 B。

43. 根据本文, 普查工作组织实施的原则是 ()

- A. 中央政府统一领导、地方政府组织实施
B. 中央政府统一协调、地方政府分工负责
C. 统计局统一领导、其他部门分工协作、地方实施、共同参与
D. 全国统一领导、部门分工协作、地方分级负责、各方共同参与

【答案】D。

【考点】细节理解

【解析】文段的第二段和第三段主要说明了普查工作组织实施的原则, 概括这两段内容



可知, 该原则即为全国统一领导、部门分工协作、地方分级负责、各方共同参与。因此本题答案为 D。

44. 根据上下文, 填入最后 I 段划线部分最恰当的一项是 ()

- A. 深化和普及 B. 巩固和拓展
C. 健全和支持 D. 改进和完善

【答案】 B。

【考点】 实词辨析

【解析】 本题考查的是固定搭配, 四个选项中与“成果”搭配只有“巩固和拓展”。因此本题答案为 B。

45. 下列标题中与本文内容吻合度最高的是 ()

- A. 《国务院关于开展第三次全国经济普查的通知》
B. 《国务院关于开展第二、三产业调查统计工作的意见》
C. 《国务院关于进一步加强对第三次全国经济普查管理的决定》
D. 《国务院关于进一步加强对第三次全国经济普查工作的批复》

【答案】 A。

【考点】 标题选择

【解析】 文章开篇点题, 指出“国务院决定开展第三次全国经济普查工作”, 因此最适合的标题为《国务院关于开展第三次全国经济普查的通知》, A 当选。

阅读以下文字, 完成 46~50 题。

网络时代巨大的信息量要求网络人际交流迅速快捷, 此时, 传统语言的表达已不足以将信息转变成最简洁的形式输入输出。于是网络语言应运而生, 这种语言以轻松活泼、幽默风趣、戏谑调侃的面目出没于传统媒体, 让人耳目一新。比如“美眉”指年轻漂亮、的姑娘, “灌水”则指没有实际内容的聊天。

人们天生有一种追求新奇的心理, 构成网络主体的年轻人尤其难以坚持使用传统语言固定完整的本义; 汉语本身具有一字(词)多义、适用语境宽泛等特点, 方便人们随意改造词语, 或将英文字母和网络符号交织在一起, 形成一种新词表新义或新词表旧义的极富个性色彩的新词汇。同时, 传统的、固定的现有语汇系统有时也缺少能准确表达网络概念的新词汇, 于是吸纳一部分网络语言成为新词, 如“猫”(modem)指调制解调器等, 丰富了传统媒体的语言表达。

近年来, 许多主流媒体都在互联网上开辟了自己的网站, 并设立读者在线交流的论坛, 网民(也是读者们)就各种事件发表自己的看法和观点, 其中不乏真知灼见。传统媒体因此也经常将一些有见地的发言经过编辑加工后发表, 但来自网上的语言会或多或少地留下痕迹。由于网络人际交流匿名、隐匿的独特性, 又由于网民主体是追求新潮和前卫的年轻人, 因此网络语言会不可避免地偏离传统语言。如果网络语言仅是对规范的主流语言做适度的、局部的非系统性的偏离, 传统媒体对此会做出有选择的接受; 但如果有些网络语言完全丧失语言



的本来面目, 将传统规范的语汇彻底变乱, 其概念的意指和符指都发生了根本变化, 比如那些数字加符号或字母的表达方式和让大多数人群完全不知所云的“去踩一下”等, 恐怕就只能限于网上而且仅限于在“小众”之间的交流, 很难登上传统媒体的大雅之堂。因此, 网络语言对传统媒体的影响, 尽管有一个渗透的过程, 但传统媒体对网络语言的吸收不会不分良莠地全盘接收, 它有一个甄选、保留的过程。

一般来说, 传统媒体注重对规范语言的继承, 并在此基础上不断推陈出新, 而网络语言则强调对规范语言的偏离。随着时间的推移, 这种继承和偏离的相互交融会使一些精辟的网络语言在一段时间内影响传统媒体, 并在媒体的表达中与规范的主流语言并存。

46. 根据本文, 下列哪项不是网络语言盛行的主要原因 ()

- A. 信息科学技术的迅速发展
- B. 人们求新求异的心理
- C. 网络时代迅速快捷的交际要求
- D. 汉语字词的多义性

【答案】A。

【考点】细节查找

【解析】由“巨大的信息量要求网络人际交流迅速快捷, ……有别于中国传统语言的网络语言应运而生”可知, C项正确。由“在语言的交流过程和对传统媒体的阅读过程中, 人们有一种追求新奇的心理预期。教育这种求新的心理预期使得年轻人难以坚持使用固定完整的语言本义”可知, B项正确。由“汉语本身就是一种一字多义, 一词多义, 适用语境非常宽泛的领会式语言……”可知, D项正确。因此本题答案为A。

47. 下列选项中, 哪项不属于文中提到的网络新词形成的方式 ()

- A. 新词表旧义 B. 旧词表新义
- C. 数字加符号 D. 使用方言词

【答案】D。

【考点】细节理解

【解析】由“他们将汉字中的词语信手拈来, 随意改造, 或是与一些英文字母和网络符号交织在一起, 形成一种新词表新意或新词表旧意的极富个性色彩的新词汇”可知, A、C正确。由“传统的、固定的现有语汇系统有时也缺少能准确表达网络概念的新词汇, 于是吸纳一部分网络语言成为新词, 如“猫”(modem)指调制解调器等”可知, B项正确。文段未提及网络新词是否包含方言词, 因此本题答案为D。

48. 作者批评了以下哪种网络语言 ()

- A. 美眉 B. 灌水 C. 猫(modem) D. 去踩一下

【答案】D。

【考点】细节查找

【解析】由“但如果有些网络语言完全丧失其本来面目……比如那些数字加符号加字母的网络语表达方式和让大多数人群完全不知所云的‘去踩一下’”可知, 作者批判的网络语言



为 D 项。

49. 作者预测未来的网络语言在媒体中会 ()

- A. 替代传统语言 B. 与传统语言融合
C. 与传统语言并存 D. 逐渐走向消亡

【答案】C。

【考点】细节查找

【解析】由“随着时间的推移, 这种继承和偏离的相互交融会使一些精辟的网络语言在一段时间内影响传统媒体, 并在媒体的表达中与规范的主流语言并存”可知, 网络语言会与传统媒体共存, C 项与此相符, 当选。A、D 项说法本身错误, B 项“与传统语言融合”与原文“相互渗透”的说法不符。因此本题答案为 C。

50. 最适合作为本文标题的是 ()

- A. 网络语言对传统媒体的影响
B. 网络语言的优势与弊端
C. 网络语言与传统语言的区别
D. 迅速快捷的网络人际交流

【答案】A。

【考点】标题选择

【解析】文段首先说明了网络语言的兴起以及原因, 接下来论述了网络语言对于传统媒体的影响, 最后预测未来网络语言与传统语言会在相互影响相互渗透中并存。因此文段主要说明的是网络语言对于传统媒体的影响。A 项与此相符, 当选。B、C 项是文段的部分内容, D 项范围过于宽泛, 均排除。因此本题答案为 A。

阅读以下文字, 完成 51~55 题。

从花粉到花生, 让人类产生过敏变态反应的东西实在太多了。变态反应研究起步相对较晚, “变态反应”这一术语是儿科医生冯·皮尔凯和贝拉·锡克在 20 世纪首先提出的。几乎同一时期, “过敏症”使生理学家查尔斯·里歇声名远播并荣膺 1913 年诺贝尔奖。此后多年, 变态反应研究始终将过敏视为一种病态或障碍, 极少有科学家探询究竟为何存在这种严重而有潜在危险的免疫反应, 更不用说免疫系统为什么会以这种方式对貌似无害、却经常充当过敏原的物质作出反应。

上世纪 60 年代有关多细胞真核寄生物引发免疫反应的研究回答了这个问题。研究人员发现, 人体如果受到蠕虫这种寄生虫的感染会导致高含量免疫球蛋白 E 的生成, 而引起变态反应的正是这一抗体。从那时起, 有种观点盛行不衰: 在进化中, 人体为抵御寄生虫, 发生变态反应, 但却把免疫反应的目标弄错了。

加利福尼亚大学伯克利分校的玛吉·普罗菲特在 1991 年对变态反应作出了一种非主流理论解释。她推测, 在进化中, 变态反应的形成是为了启动免疫系统, 保护我们不受环境毒素 (例如有毒的植物化学物质和毒液) 的伤害。过敏原在多数人看来是无害的, 但有很多事



实上就是毒素。所以, 与其把变态反应看成对蠕虫目标锁定有误的反应, 倒不如视之为一种有益的反应, 目的在于防御环境中的有毒物质。

虽然“毒素假设”至今仍不受生物医学界重视, 但是其仍有一定合理性。首先, 流鼻涕等过敏症状可以理解为身体力求摆脱过敏原的一种尝试, 类似于食物和空气中的有毒物质引起类似的驱逐反应。其次, 变态反应往往发生在接触毒素后的几秒钟或几分钟内, 与需要一定时间方才显现的蠕虫感染相比, 有一定差异。此外, 患有过敏症的人常对过敏原变得极度敏感, 环境中稍有微量便立即反应。考虑到对细菌和病毒的免疫反应都不能如此灵敏, 对蠕虫表现得如此敏感就不是那么令人信服了。最后, 充当过敏原的物质多种多样。“蠕虫假设”无法解释为什么这么多的物质都能造成变态反应, 但“毒素假设”却预料到这些过敏原可能共同具有一种造成伤害的能力。“毒素假设”也无法直接解释面对环境中哪怕是微乎其微的过敏原, 肌体为什么有时候会作出如此严重的、潜在致死的过敏反应。

过敏症的多数患者会发现, 变态反应可能有有益的说法是令人难以置信的。但是, 反应的好处可能类似于疼痛的好处: 疼痛固然给人带来不快, 但这种不快会帮助我们避开损害我们肌体的环境原, 从而使我们更有幸存的可能。

51. 关于变态反应研究, 下列说法正确的是 ()

- A. 自古以来一直受到重视
- B. 过敏症这一术语是由冯·皮尔凯提出的
- C. 最初将过敏视为对身体有害的变态反应
- D. 贝拉·锡克因在该领域的成就而获得诺贝尔奖

【答案】C。

【考点】细节理解

【解析】由文段第一段可知, A、B、D 三项表述都错误。由“此后多年, 对变态反应的研究始终将过敏视为一种病态或障碍”可知, C 项正确, 当选。

52. 第 2 段中的“这个问题”指的是 ()

- A. 变态反应的产生机制
- B. 人体过敏的反应类型
- C. 导致变态反应的基因
- D. 对人体损害最严重的过敏原

【答案】A。

【考点】代词指代

【解析】从后往前推, “这个问题”指的是“免疫系统为什么会以这种方式对貌似无害、却经常充当过敏原的物质作出反应的机制”, 即变态反应的机制。因此本题答案为 A。

53. 玛吉·普罗菲特研究的独特之处在于 ()

- A. 对引发过敏原的毒素进行了系统整理
- B. 将变态反应视为身体的一种有益反应
- C. 扩大了会导致变态反应的过敏原的范围



D. 界定了导致变态反应的免疫系统的缺陷

【答案】 B。

【考点】 细节查找

【解析】 由第三段可知, 玛吉·普罗菲特对变态反应做出了一种非主流的解释: 将变态反应视为一种有益的反应。因此本题答案为 B。

54. “毒素假设”的缺陷在于无法解释 ()

A. 一接触过敏原即发生变态反应

B. 为何存在多种多样的过敏原

C. 变态反应类似于驱逐反应

D. 微量的过敏原会致死

【答案】 D。

【考点】 细节查找

【解析】 由“‘毒素假设’也无法直接解释面对环境中哪怕是微乎其微的过敏原, 肌体为什么有时候会作出如此严厉、潜在致死的过敏反应”可知, 本题答案为 D。

55. 这篇文章暗示我们 ()

A. 变态反应并非对身体一无是处

B. “蠕虫假设”略胜“毒素假设”

C. 有些过敏是可以主动避免的

D. 过敏症的治疗已取得很大进展

【答案】 A。

【考点】 意图判断

【解析】 由文段最后一段“但是, 反应的好处可能类似于疼痛的好处”可知, 作者意在强调过敏反应也不是没有任何好处的。因此本题答案为 A。

阅读以下文字, 完成 56~60 题。

2500 年前诞生的《孙子兵法》(又称《孙武兵法》), 是世界上现存最古老的兵书, 代表了中国古代军事思想的最高境界, 但是它的作者究竟是谁?

司马迁在《史记·孙武吴起列传》中说, 孙武和孙臆都确有其人, 孙武生于春秋末期, 孙臆则晚 100 多年, 生于战国, 各有兵法传世。由于孙武是春秋末期吴王的客卿, 孙臆在战国中期的齐国担任过军师, 因此班固在《汉书》中把孙武的兵法叫《吴孙子》, 把孙臆的兵法《齐孙子》。《吴孙子》就是一直流传于世的《孙子兵法》, 而《齐孙子》(《孙臆兵法》)在魏晋时已无记载。

唐宋以后, 有人对《孙子兵法》及作者提出疑问, 认为此书源于孙武, 却完成于孙臆; 也有人认为先秦著作往往不是出自一人之手, 唐代杜牧说, 孙武的兵法原有数十万言, 曹操削其繁剩, 笔其精粹, 以成此书; 近代著名学者梁启超等不但怀疑《孙子兵法》其书为伪, 甚至怀疑孙武、孙臆为同一人。



孙武与孙臆是否同为一入? 他们各自是否都有兵书留世? 此谜在 20 世纪 70 年代山东临沂银雀山汉墓的考古发掘中被解。1972 年, 临沂地区偶然发现一座汉墓, 陪葬品中有大量竹筒, 其中包括《孙子兵法》(105 枚)、《孙臆兵法》(232 枚), 这批竹筒经刮削、烤炙而成, 做工精细, 两端平整, 无刀削痕迹, 系先用锯锯成而后锉磨而成。银雀山汉筒的形制、书写格式、篇题的处理及各式符号的运用等, 均符合汉代的简册制度。

临沂银雀山汉墓竹筒带给世人最大的惊喜, 莫过于还原了《孙子兵法》十三篇全貌以及《孙臆兵法》十六篇。经专家整理分析, 银雀山竹筒中的《孙子兵法》十三篇都有文字保存, 这是现存最早的《孙子兵法》版本, 大约成书于西汉初期, 是最接近作者原始思想的版本, 为校勘和研究《孙子兵法》提供了宝贵的资料, 文献价值非同一般。竹筒本《孙子兵法》计 2300 余字, 现存内容与宋代版本相比, 有 100 多处不同点, 十分值得研究。

竹筒本《孙臆兵法》整理出 222 枚, 共得 6000 字以上, 该兵法在消失了上千年后, 失而复得。该书整理出上、下两编, 上编可以确定属于《齐孙子》, 共十五篇; 下编是还不能确定属于《齐孙子》的论兵之作。竹筒本篇数大大少于《艺文志》著录本, 也不是完善的版本。这些实物证据揭示历史上的孙武、孙臆并非一人, 也印证了司马迁《史记》中有关孙武、孙臆记载的真实性, 《孙臆兵法》确有其书。

56. 唐代杜牧对《孙子兵法》的观点是 ()

- A. 现存版本是根据原著缩减而成的
- B. 是由多位作者合著而成的
- C. 是后人以孙臆的名义写成的
- D. 前部分由孙武完成, 孙臆完成后续成书工作

【答案】A。

【考点】态度理解

【解析】由第 3 段的“唐代杜牧说, 孙武的兵法原有数十万言, 曹操削其繁剩, 笔其精粹, 以成此书”可知, 杜牧认为《孙子兵法》现存版本是根据原著缩减而成的。因此本题答案为 A。

57. 关于《孙子兵法》, 下列说法正确的是 ()

- A. 曾经失传上千年
- B. 班固称其为《吴孙子》
- C. 作者生活于战国时期
- D. 魏晋之后的史书中已无相关记载

【答案】B。

【考点】细节理解

【解析】由“班固在《汉书》中把孙武的兵法叫《吴孙子》”可知, 本题答案为 B。

58. 银雀山汉墓竹筒不能用来证明 ()

- A. 《孙臆兵法》的作者是谁
- B. 司马迁相关记载的可靠性



- C. 《孙臆兵法》是否确有其书
- D. 孙武、孙臆是否为同一人

【答案】A。

【考点】细节查找

【解析】由“这些实物证据揭示了历史上的孙武、孙臆并非一人,也印证了司马迁《史记》中有关孙武、孙臆记载的真实性,《孙臆兵法》确有其书”可知B、C、D正确。文中并未提到《孙臆兵法》的作者是孙臆。因此本题答案为A。

59. 根据本文,确定银雀山汉墓竹简年代依据的是()

- A. 书写文字
- B. 陵墓特征
- C. 陪葬物品
- D. 简册特征

【答案】D。

【考点】细节查找

【解析】由“这批竹简经刮削、烤炙而成,做工精细,两端平整,无刀削痕迹,系先用锯锯成而后锉磨而成。银雀山汉简的形制、书写格式、篇题的处理及各式符号的运用等,均符合汉代的简册制度”可知,确定银雀山汉代竹简年代的依据是简册特征,D项当选。

60. 最适合本文的标题是()

- A. 银雀山汉墓整理出土大批竹简
- B. 银雀山汉墓竹简:为孙武、孙臆正名
- C. 银雀山汉墓《孙子兵法》的发现和破译
- D. 20世纪的考古大发现--银雀山汉墓竹简

【答案】B。

【考点】标题选择

【解析】文段提出了前人的看法莫衷一的历史之谜:孙武与孙臆是否同为一人?他们各自是否都是兵书留世?接着提出了20世纪70年代银雀山的考古发掘解开了这个历史之谜,即:历史上的孙武、孙臆并非一人,司马迁《史记》中有关孙武、孙臆记载的真实性得到印证,《孙臆兵法》确有其书。因此文段的中心是银雀山对于解开孙武与孙臆之谜的作用,B项当选。

阅读以下文字,完成61~65题。

采集蝴蝶标本在维多利亚女王时代的英国非常流行。英国大蓝蝶的标本很受欢迎,它不很大,也不很蓝,并不特别美丽,但数量稀少,且生活在人迹罕至的荒野。即便如此,仍然有大量的大蓝蝶被制作成标本。在19世纪末,已经开始有人呼吁保护它。进入汽车时代,到大蓝蝶栖息地更加方便,有的地方大蓝蝶已经绝迹,保护更为迫切。1930年,英国建立了第一个大蓝蝶保护区。九年之后,保护区内的大蓝蝶种群灭绝了。此后,虽然保护区越来越多,但是大蓝蝶的数量越来越少。上世纪五十年代,英国大约还有数万只大蓝蝶,到1972年只剩下300多只。1975年,英国通过《野生动植物保护法》,首次把大蓝蝶列为法



定保护对象, 但已无济于事。1979 年, 英国最后一只大蓝蝶死去。这是为什么呢?

每年六、七月间, 是英国大蓝蝶飞翔的季节。大蓝蝶成虫的寿命只有四、五天, 在短暂的生命结束前, 雌大蓝蝶必须找到合适的百里香产卵。百里香必须是生长在红蚁巢的边上, 而且含苞待放。卵被产在百里香的花蕾里。一两周后, 大蓝蝶幼虫孵化出来, 就以花为食, 大约两周, 在蜕了三次皮后, 幼虫掉到了地上, 等待红蚁。幼虫靠分泌蜜汁吸引红蚁。红蚁将其带回蚁巢, 为了得到蜜汁, 它会用触角拍打它。蜜汁分泌完时, 幼虫就有生命危险, 这时它会像红蚁幼虫那样蠕动, 发出红蚁的气味和声音, 让红蚁误以为它是蚁巢中的一员。

大蓝蝶幼虫要在蚁巢中整整待上十个月, 不仅能躲避天敌, 还以红蚁的卵和幼虫为食。但是大蓝蝶幼虫仍然面临重重危险。红蚁蚁后会误以为它是一只以后也将变成蚁后的超级红蚁幼虫, 而让工蚁杀死它; 如果蚁巢规模太小, 或者又来了另一只大蓝蝶幼虫, 食物不够, 最终也会饿死。

但红蚁本身对生活环境也有要求: 它们喜欢温暖, 在朝南向阳的山坡筑巢, 地面上草的高度最好只有 2~3 厘米, 因为草太高会遮住阳光, 蚁巢温度太低, 红蚁幼虫会冻死。当大蓝蝶的栖息地被划为保护区后, 禁止烧荒、放牧, 野草疯长: 本来还有野兔能在一定程度上抑制草的生长, 但在上世纪 50 年代, 一种传染性很强的病毒入侵英国, 使野兔的数量锐减 99%。草越长越高, 大蓝蝶依赖的红蚁迅速消失, 被另一种较耐寒的红蚁取而代之。这种红蚁也喜欢吃蜜汁, 但它们能识破伪装, 将大蓝蝶幼虫杀死。等到草皮高度超过 10 厘米, 连百里香也难以生长、繁殖了, 等人们发现这一奥秘, 已经太迟了, 英国大蓝蝶灭绝了。

为了让大蓝蝶再次飞翔, 英国逐渐恢复了 52 处百里香草地, 并通过割草、放牧控制草皮的高度, 红蚁数量随之上升。1983 年, 大蓝蝶被从瑞典带到英国。到 2008 年, 已有上万只。大蓝蝶成了第一个成功获得重生的濒危蝴蝶物种。

61. 由本文第 1 段可知 ()

- A. 大蓝蝶在英国对其进行保护前就已经灭绝
- B. 大蓝蝶的灭绝是因为人们为制作标本而过度捕捉
- C. 大蓝蝶标本受欢迎是因为这种蝴蝶难以捕捉
- D. 保护区的建设仅起到了保持大蓝蝶种群数量的效果

【答案】B。

【考点】细节查找

【解析】由“且生活在人迹罕至的荒野。即便如此, 仍然有大量的大蓝蝶被制作成标本……进入汽车时代, 到大蓝蝶栖息地更加方便, 有的地方的大蓝蝶已经绝迹……”可知, B 项说法正确。由“在 19 世纪末, 已经开始有人呼吁保护它……1979 年, 英国最后一只大蓝蝶死去”可知, A 项说法错误。原文只是说大蓝蝶数量稀少, 但不等于其“难以捕捉”, 因此 C 项说法有误。由“九年之后, 保护区内的大蓝蝶种群灭绝了”可知, D 项说法错误。因此本题选 B。

62. 成年大蓝蝶可以活 ()

- A. 两个月左右
- B. 五天左右
- C. 两周左右
- D. 三周左右



【答案】 B。

【考点】 细节查找

【解析】 由文章第 2 段的“大蓝蝶成虫的寿命只有四、五天”可知, B 项正确, 当选。

63. 第 3 段中划线部分提到大蓝蝶幼虫面临的“重重危险”不包括 ()

- A. 巢中有一只大蓝蝶幼虫
- B. 被红蚂蚁后视为竞争对手
- C. 红蚂蚁巢规模太小
- D. 蚁巢中红蚂蚁幼虫数量过多

【答案】 D。

【考点】 细节理解

【解析】 “重重危险”出现在原文第 3 段, 后面的内容是对其进一步解释, 即危险有三: 一是红蚁将它误以为一只具有竞争性的超级红蚁幼虫; 二是蚁巢规模太小, 其食量不够; 三是蚁巢中出现另一只大蓝蝶幼虫与它竞争。由此可知, A、B、C 三项正确。D 项在原文第 3 段中未提及, 错误。因此本题选 D。

64. 根据本文, 对草地进行管理可以 ()

- A. 减少病毒传播的可能性
- B. 增加百里香花蕾的数量
- C. 为红蚁提供适宜的生活环境
- D. 为兔子提供充足的食物

【答案】 C。

【考点】 细节查找

【解析】 由文章最后一段的“英国逐渐恢复了 52 处百里香草地, 并通过割草、放牧控制草皮的高度, 红蚁数量随之上升”可知, 对草地进行管理的直接结果是“红蚁数量随之上升”。C 项正确, 当选。

65. 英国政府保护大蓝蝶的早期措施可以用下列哪个词来评价 ()

- A. 适得其反
- B. 画蛇添足
- C. 操之过急
- D. 鼠目寸光

【答案】 A。

【考点】 主旨概括

【解析】 由文章可知, 大蓝蝶生存所依赖的红蚁喜温, 且红蚁对草的高度要求在 2~3 厘米。而英国政府早期所采取的措施, 使得野草疯长, 恰碰野兔数量锐减, 导致草越长越高, 喜温的红蚁被耐寒的红蚁取代, 而这种耐寒的红蚁恰能识破大蓝蝶幼虫, 导致大蓝蝶灭绝。因此其做法不仅没有保护大蓝蝶, 反而将大蓝蝶的生存环境破坏殆尽, 为其天敌的生存创造了条件。因此用“适得其反”来形容英国政府早期所采取的措施最恰当。因此本题选 A。



阅读以下文字, 完成 66~70 题。

《拿破仑法典》在世界司法制度史上值得大书一笔, 它第一次把资产阶级的生产关系和社会关系用法律形式固定下来, 奠定了资本主义统治的法律基础。除总则外, 共有 3 编 2281 条。第一编是人法, 规定了民事权利主体; 第二编是物法, 规定了各种财产和所有权及其他物权; 第三编是关于取得所有权的方法。从内容和结构来看, 法典的核心是财产关系, 即所有制问题。恩格斯说, 它把在消灭了封建专制主义之后刚刚诞生的现代社会的经济生活条件译成了法律语言, 他把这部法典称作“典型的资产阶级社会的法典”。

长期以来, 很多人都以为这部法典虽然以拿破仑的名字命名, 但他并未直接参与法典的制定, 原因是他正四处征战, 无暇顾及, 只是下令而已。这个误解同法国史书对拿破仑辉煌战绩的片面描述以及法国绘画、雕塑等艺术作品对他赫赫战功的过度渲染有关。实际上, 拿破仑不仅下令而且直接、积极参与了法典的制定。他于 1799 年发动“雾月政变”成立执政府, 翌年就成立了“民法起草委员会”, 并亲自担任主席。委员会按期完成民法草案, 经大理院和上诉院研究修改后, 提交参议院讨论修改。参议院围绕草案召开了 102 次讨论会, 拿破仑参加了 97 次。法典最后经立法院一致通过, 于 1804 年 3 月 21 日正式公布实施。最初定名为《法国民法典》, 1807 年改称为《拿破仑法典》。

1816 年又改称为《民法典》, 1852 年再度改称为《拿破仑法典》, 但从 1870 年以后, 习惯上一直沿用《法国民法典》的名称。这部法典之所以以拿破仑的名字命名, 是因为拿破仑的军队走到哪里, 就把这部法典带到哪里, 他通过法典把资本主义制度推向全欧洲。拿破仑并非一介武夫, 他深知, 同欧洲封建同盟的殊死搏斗不仅要靠军事力量, 更要靠资产阶级法律这无比锐利的武器。他为锻造了这样的武器而感到自豪。

有人认为拿破仑是个实用主义者, 对理论一窍不通, 因此《拿破仑法典》只是一种法律工具, 根本没有理论价值。这种看法有失偏颇。英国的资产阶级革命早于法国, 革命后又经历了长期的复辟和反复辟的较量, 特别是 1660 年还发生了斯图亚特王朝复辟。法国资产阶级革命的爆发比英国晚 100 多年, 但比英国更彻底, 原因就在于其理论准备更充分, 从文艺复兴运动到启蒙时期准备了数百年。启蒙运动的中心是在法国, 因此法国资产阶级在理论上也就表现得更成熟, 《拿破仑法典》就是明证。

66. 《拿破仑法典》的核心是 ()

- A. 财产关系
- B. 社会关系
- C. 公民权利
- D. 权力结构

【答案】A。

【考点】细节查找

【解析】根据第一自然段中“从内容和结构来看, 法典的核心是财产关系, 即所有制问题”可知, 答案为 A。

67. 根据本文, 为什么恩格斯将《拿破仑法典》称为“典型的资产阶级社会的法典” ()

- A. 在其之后所诞生的宪法法典大多以该法典为效仿对象
- B. 是世界上第一部由资产阶级国家起草的国家宪法法典
- C. 首次用法律形式确立资产阶级的生产关系和社会关系



D. 使革命的任务由推翻封建政权转向建立资产阶级政权

【答案】C。

【考点】细节查找

【解析】第一自然段最后一句话“恩格斯说, 它把在消灭了封建专制主义者之后刚刚诞生的现代社会的经济生活条件译成了法律语言……”意思就是说, 《拿破仑法典》首次用法律形式确立了资产阶级的生产关系和社会关系。因此正确答案为 C。

68. 人们会产生拿破仑并未参与《拿破仑法典》制定的误解, 是因为 ()

- A. 他反对启蒙主义
- B. 感觉他当时戎马倥偬
- C. 他是典型的实用主义者
- D. 他将立法权完全交给了人民

【答案】B。

【考点】细节查找

【解析】根据第二自然段第一句话中“原因是他四处征战, 无暇顾及, 只是下令而已”可知, 人们会产生拿破仑并未参与《拿破仑法典》的制定这个误解的原因是拿破仑当时四处征战。因此答案为 B。

69. 关于《拿破仑法典》, 以下说法正确的是 ()

- A. 于 1799 年正式公布并开始实施
- B. 习惯上一直被称为《法国民法典》
- C. 由当时的参议院修改并讨论通过
- D. 在“雾月政变”后开始起草工作

【答案】D。

【考点】细节理解

【解析】由文中“法典, 最后经立法院一致通过, 于 1984 年 3 月 21 日正式公布实施”可知 A、C 说法错误。由文中“最初定名为……1807 年改称为……1816 年又改称为……1852 年再度改称为……”可知 B 项“习惯上一直被称为《法国民法典》说法错误”。由文中“他于 1799 年发动‘雾月政变’成立政府, 翌年就成立了‘民法起草委员会’”可知 D 说法正确。

70. 最后一段意在说明 ()

- A. 《拿破仑法典》独特的理念价值
- B. 《拿破仑法典》在法国诞生的原因
- C. 启蒙思想家对法国资产阶级革命的深刻影响
- D. 法国资产阶级革命与英国资产阶级革命的差异

【答案】A。

【考点】意图判断



【解析】最后一自然段是总分总结构, 第一句提出此段的观点, 即有人认为《拿破仑法典》没有理论价值的观点不正确的。接下来用法国资产阶级革命比英国资产阶级革命更彻底的例子来说明《拿破仑法典》具有一定的理论价值。最后一句话又重申观点。因此正确答案为 A。

第三部分 数量关系

(共 15 题, 参考时限 15 分钟)

在这部分试题中, 每道题呈现一段表述数字关系的文字, 要求你迅速、准确地计算出答案。

71. 已知 $1^3+2^3+3^3+\dots+n^3=(1+2+3+\dots+n)^2$, 问 $1^3+3^3+5^3+\dots+19^3=()$

A. 19500 B. 19900 C. 20300 D. 22500

【答案】B。

【考点】整数类计算

【解析】 $1^3+3^3+5^3+\dots+19^3=(1^3+2^3+3^3+\dots+20^3)-(2^3+4^3+6^3+\dots+20^3)=(1+2+3+\dots+20)$

$$^2-2^3 \times (1^3+2^3+3^3+\dots+10^3) = (1+2+3+\dots+20)^2 - 2^3 \times (1+2+3+\dots+10)^2 = \left[\frac{20 \times (20+1)}{2} \right]^2 - 2^3 \times \left[\frac{10 \times (10+1)}{2} \right]^2 = 210^2 - 2 \times 110^2 = 44100 - 24200 = 19900$$

72. 某人乘坐缆车下山, 发现每隔半分钟就能看到一架对面上山的缆车。如果所有的缆车速度相同, 那么每隔几分钟发一架缆车 ()

A. 0.25 B. 0.5 C. 1 D. 2

【答案】C。

【考点】相遇追及问题

【解析】相遇问题, 时间 = $\frac{\text{路程}}{\text{速度和}}$, 路程一定, 时间和速度和成反比, 每辆缆车的速度是相等的, 半分钟相遇一次, 所以每隔 1 分钟发一架缆车, 答案选 C。

73. 在正方形草坪的正中有一个长方形池塘, 池塘的周长是草坪的一半, 面积是除池塘之外草坪面积的 $\frac{1}{3}$, 则池塘的长和宽之比为 ()

A. 1 : 1 B. 2 : 1 C. 4 : 1 D. $\sqrt{2} : (2 - \sqrt{2})$

【答案】A。

【考点】长度计算

【解析】

设草坪的边长为 1, 长方形池塘的边长分别为 a、b, 可得方程
$$\begin{cases} 2(a+b) = 2 \\ ab = \frac{1}{3}(1-ab) \end{cases}, \text{ 整理}$$



得 $\begin{cases} a+b=1 \\ 4ab=1 \end{cases}$, 解得 $a=b=\frac{1}{2}$, 则长和宽之比为 1:1, 答案选 A。

74. 某件商品如果打九折销售, 利润是原价销售时的 $\frac{2}{3}$; 如果打八折后再降价 50 元销售, 利润是原价销售时的 $\frac{1}{4}$ 。该商品如果打八八折销售, 利润是多少元 ()

- A. 240 B. 300 C. 360 D. 480

【答案】 C。

【考点】 利润率折扣类

【解析】

设商品原价为 x , 进价为 y , 根据题干可得方程 $\begin{cases} 0.9x - y = \frac{2}{3}(x - y) \\ 0.8x - 50 - y = \frac{1}{4}(x - y) \end{cases}$, 解得 $x=2000$

元, $y=1400$ 元, 所以打八八折时, 利润为 $0.88 \times 2000 - 1400 = 360$ 元, 答案选 C。

75. 甲工厂每天生产的零件数比乙工厂的 1.5 倍还多 40 个, 乙工厂每天生产的零件数比甲工厂的一半多 20 个。则两个工厂每天共能生产多少个零件 ()

- A. 400 B. 420 C. 440 D. 460

【答案】 C。

【考点】 二元一次方程组

【解析】 设乙工厂每天生产零件 x 个, 则甲工厂每天生产 $1.5x+40$ 个, 根据乙工厂每天生产的零件数是甲工厂的一半多 20 个可得 $x = \frac{1}{2}(1.5x+40)+20$, 解得 $x=160$ 个则甲工厂每天生产 $1.5x+40=280$ 个, 两个工厂每天共能生产 $160+280=440$ 个, 答案选 C。

76. 某人开车从 A 镇前往 B 镇, 在前一半路程中, 以每小时 60 公里的速度前进; 而在后一半的路程中, 以每小时 120 公里的速度前进。则此人从 A 镇到达 B 镇的平均速度是每小时多少公里 ()

- A. 60 B. 80 C. 90 D. 100

【答案】 B。

【考点】 基本行程问题

【解析】 设 A 镇到 B 镇的一半路程为 120 公里, 则总路程为 240 公里, 前半段路程用时 2 小时, 后半段路程用时 1 小时, 总用时为 3 小时, 平均速度为 $240 \div 3 = 80$ 公里/小时, 答案选 B。

77. 小周买了五件价格不等的服装, 总价为 2160 元。其中最贵的两件衣服总价与其余三件衣服的总价相当, 而最便宜的两件衣服的总价比最贵的衣服高 100 元, 比第二贵的衣服



高 200 元。则第三贵的衣服价格是多少元 ()

- A. 300 B. 330 C. 360 D. 390

【答案】D。

【考点】简单费用计算

【解析】总价为 2160 元, 设价格从高到低分别为 a_1 、 a_2 、 a_3 、 a_4 、 a_5 , 由题意知, $a_1+a_2=a_3+a_4+a_5=1080$ 元, $a_4+a_5=a_1+100$, $a_4+a_5=a_2+200$, 则 $a_4+a_5=(a_1+100+a_2+200) \div 2=(1080+300) \div 2=690$, 则价格第三贵的衣服价格为 $a_3=1080-690=390$ 元, 答案选 D。

78. 相邻的 4 个车位中停放了 4 辆不同的车, 现将所有车开出后再重新停入这 4 个车位, 要求所有车都不得停在原来的车位中, 则一共有多少种不同的停放方式 ()

- A. 9 B. 12 C. 14 D. 16

【答案】A。

【考点】基础公式型

【解析】方法一: 假设 1 号车停在 2 号车位, 若 2 号车停在 1 号位只有一种方式, 若 2 号车不停在 1 号位, 则 2 号车有两种停放方式, 对应的 3、4 号车都只有一种方式。所以共有 3 种停放方式。同理, 1 号车停在 3、4 号车位也各有三种方式, 所以总的方式数为 $3 \times 3=9$ 种。

方法二: 错位重排问题, 可以直接由错位重排公式 $S_n=(n-1)(S_{n-1}+S_{n-2})$, ($S_1=0$, $S_2=1$) 计算得到。

79. 钟表有一个时针和一个分针, 分针每一小时转 360 度, 时针每 12 小时转 360 度, 则 24 小时内时针和分针成直角共多少次 ()

- A. 28 B. 36 C. 44 D. 48

【答案】C。

【考点】表盘计算

【解析】方法一: 分针 1 分钟转动 $360 \div 60=6$ 度, 时针每分钟转动 $30 \div 60=0.5$ 度, 设经过 x 分钟后, 时针与分针成为直角, 则有 $x \times (6-0.5)=90$, 解得, $x=\frac{180}{11}$ 。则 24 小时内,

时针与分针成直角的次数为: $24 \times 60 \div \frac{180}{11}=88$ 。但是, 两针到下次重合前, 形成的角依次是 90° 、 180° 、 270° 、 360° (相当于 0°), 其中, 符合题意的只有 90° 和 270° 两个。因此, 24 小时内, 时针和分针可以形成 44 次直角。

方法二: 画钟表意知每个小时内成两次直角, 共形成 $24 \times 2=48$ 次直角, 又在 3 点、9 点时时针和分针成 90 度, 意味着每 12 个小时多算了 2 次直角, 所以 24 小时内共成 44 次直角。

80. 某旅行团共有 48 名游客, 都报名参观了三个景点中的至少一个。其中, 只参观了一个景点的人数与至少参观了两个景点的人数相同, 是参观了三个景点的人数的 4 倍。则需要为这些游客购买多少张景点门票 ()

- A. 48 B. 72 C. 78 D. 84



【答案】 C。

【考点】 三集合容斥

【解析】 根据题意, 只参观一个景点的人数与至少参观了两个景点的人数相同, 都为 $48 \div 2 = 24$, 则参观了三个景点的人数为 $24 \div 4 = 6$, 只参观两个景点的人数为 $24 - 6 = 18$, 则共需购买 $24 + 18 \times 2 + 6 \times 3 = 78$ 张景点门票。

81. 小张购买了 2 个苹果、3 根香蕉、4 个面包和 5 块蛋糕, 共消费 58 元。如果四种商品的单价都是正整数且各不相同, 则每块蛋糕的价格最高可能为多少元 ()

A. 5 B. 6 C. 7 D. 8

【答案】 D。

【考点】 不定方程

【解析】 根据选项, 采用排除法, 若蛋糕价格为 8 元, 则剩下的总和为 $58 - 40 = 18$, 设苹果的价格为 a 元、香蕉为 b 元、面包为 c 元, 则 $2a + 3b + 4c = 18$, $a = 4$ 、 $b = 2$ 、 $c = 1$ 。符合题意, 选 D。

82. 某单位五个处室分别有职工 5、8、18、21 和 22 人, 现有一项工作要从该单位随机抽调若干人, 问至少要抽调多少人, 才能保证抽调的人中一定有两个处室的人数和超过 15 人 ()

A. 34 B. 35 C. 36 D. 37

【答案】 B。

【考点】 抽屉原理

【解析】 根据题意前两个处室人数较少相加小于 15, 则最坏的情况是前两个处室的人都抽调出来, 剩下每个科室再抽调 7 人, 能保证一定有两个处室人数和刚好 15 人, 那么再抽调 1 人就能符合题意, 则至少抽调 $5 + 8 + 3 \times 7 + 1 = 35$ 人。

83. 用一个饼铛烙煎饼, 每次饼铛上最多只能同时放两个煎饼, 煎熟一个煎饼需要 2 分钟的时间, 其中每煎熟一面需要一分钟。如果需要煎熟 15 个煎饼, 至少需要多少分钟 ()

A. 14 B. 15 C. 16 D. 30

【答案】 B。

【考点】 统筹问题

【解析】 先将两个饼同时放入锅里一起煎, 1 分钟后两个饼都熟了一面, 这时可选将第一个取出, 第二个翻个面, 再放入第三个。又煎了 1 分钟, 第二个已煎好, 可以取出来, 把第三个翻个面, 再将第一个的另一面放入煎, 再煎 1 分钟就全部熟了。因此, 煎 3 个饼至少需要 3 分钟。 $15 = 3 \times 5$, 所以, 煎 15 个饼至少需要 15 分钟。

84. 某单位组织的羽毛球男单比赛共有 48 名选手报名参加, 比赛采用淘汰赛制, 在比赛中负一场的选手即被淘汰, 直至决出最后的冠军, 如每名选手每天最多参加一场比赛, 则比赛至少需要举行几天 ()



- A. 4 B. 5 C. 6 D. 7

【答案】C。

【考点】比赛问题

【解析】根据题意, 每一轮的比赛都安排在同一天, $48=24 \times 3$, 则 4 天后还剩 3 名选手, 这三名选手还需要两场比赛才能决出冠军, 所以比赛至少要举行 $4+2=6$ 天。验证: 第一天进行 24 组, 淘汰掉 24 人, 剩出 24 人第二天分 12 组进行, 淘汰掉 12 人, 剩出 12 人第三天分 6 组进行, 淘汰掉 6 人, 剩出 6 人第四天分 3 组进行, 淘汰掉 3 人, 剩出 3 人需两天决出冠军。共 6 天。

85. 一个 20 人的班级举行百分制测验, 平均分为 79 分, 所有人得分都是整数且任意两人得分不同。班级前 5 名的平均分正好是 16 到 20 名平均分的 2 倍。则班级第 6 名和第 15 名之间的分差最大为多少分 ()

- A. 34 B. 37 C. 40 D. 43

【答案】D。

【考点】构造设定

【解析】要使第 6 和第 15 名之间的分差最大, 则要求前 5 名和后 5 名的分差尽可能大, 由于前 5 名的平均分是后 5 名的 2 倍, 所以 1~5 名的分数为 100-96 分时两者分差最大, 此时前 5 名的平均分为 98, 16~20 名的平均分为 49 分, 16~20 名的分数为 51~47 分。则 6~15 名的总成绩为 $79 \times 20 - 98 \times 5 - 49 \times 5 = 845$ 。要想分差最大, 设第六名的分数为 95 分, 第 15 名的分数为 52 分, 则第 7~14 名的成绩和为 $845 - 95 - 52 = 698$, 则 7~14 名的平均成绩为 $698 \div 8 = 87.25$ 分, 可以满足题目要求, 则所求为 $95 - 52 = 43$ 分。

第四部分 判断推理

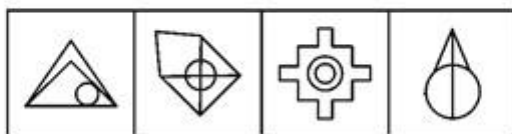
(共 30 题, 参考时限 30 分钟)

本部分包括三种类型的题目:

一、图形推理: 共 5 题。

(一) 每道题包含两套图形和可供选择的 4 个图形。这两套图形具有某种相似性, 存在某种差异。要求你从四个选项中选择最适合取代问号的一个。正确的答案应不仅两套图形表现出最大的相似性, 而且使第二套图形也表现出自己的特征。

86. 从所给的四个选项中, 选择最合适的一个填入问号处, 使之呈现一定的规律性 ()



A B C D

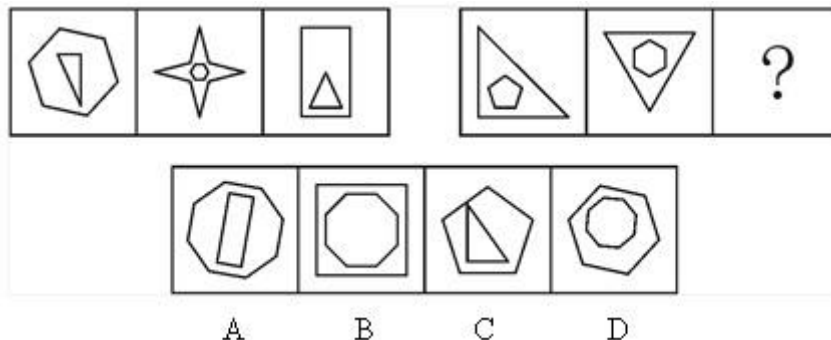


【答案】D。

【考点】对称性

【解析】本题考查图形属性问题中的对称性和数量问题中的封闭空间数。两段式的出题形式, 第一段中所有图形包含的封闭空间的数量为 3, 第二段中给出的两幅图形包含的封闭空间数量为 4, 因此问号处图形包含的封闭空间的数量应为 4, 故排除答案 B、C。同时第一段中, 第一个图形没有对称轴, 第二个图形有一条对称轴, 第三道图形有两条对称轴; 第二段图形与第一段规律应该一致, 对称轴数量为 0、1、2。A、D 选项中 D 选项有一条对称轴。因此选择 D 项。

87. 从所给的四个选项中, 选择最合适的一个填入问号处, 使之呈现一定的规律性 ()



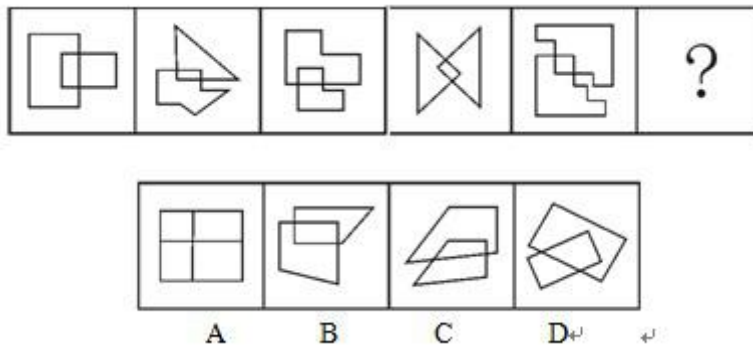
【答案】B。

【考点】线段

【解析】第一组内部图形的线条数均比外部图形少, 且差分别为 3、2、1; 第二组内部图形的线条数均比外部图形多, 且差分别为 2、3、(4), 只有 B 项符合。

(二) 每道题包含一套图形和四个选项, 请从四个选项中最恰当的一项填在问号处, 使图形呈现一定的规律性。

88. 从所给的四个选项中, 选择最合适的一个填入问号处, 使之呈现一定的规律性 ()

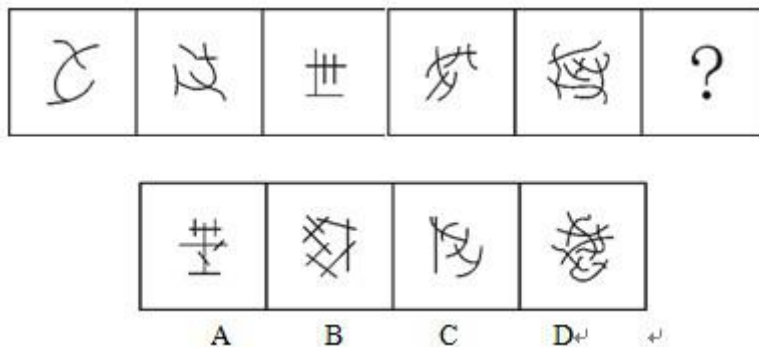


【答案】B。

【考点】运算

【解析】图中两个图形的重叠部分都是矩形, 只有 B 项符合。

89. 从所给的四个选项中, 选择最合适的一个填入问号处, 使之呈现一定的规律性 ()

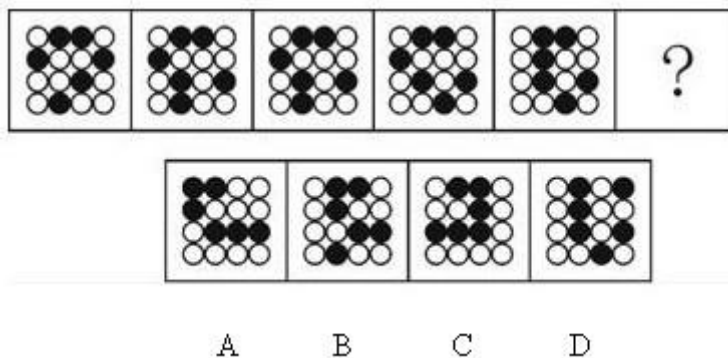


【答案】A。

【考点】交点

【解析】图中图形的交点数分别为 2、3、4、5、6、(7)，只有 A 项符合。

90. 从所给的四个选项中, 选择最合适的一个填入问号处, 使之呈现一定的规律性 ()



【答案】D。

【考点】平移

【解析】从第二个图形开始, 每个图形都是由前一个图形中移动一个黑色原点得到, 只有 D 项符合。

二、演绎推理: 共 15 题, 每题给出一段陈述, 这段陈述被假设是正确的, 不容置疑的。要求你根据这段陈述, 选出一个答案。注意, 正确的答案应根据所给的陈述选出, 不需要附加陈述之外的任何信息。

91. 熟练掌握输入法技能对于提高打字效率至关重要。所以, 打字员应参加专门教授五笔输入法的培训班。

以下哪项如果正确, 最能削弱上述论证 ()

- A. 只有熟练掌握输入法技能的打字员才参加过专门教授五笔输入法的培训班
- B. 只有参加过专门教授五笔输入法培训班的打字员才能熟练掌握输入法技能
- C. 一些打字员能熟练掌握输入法技能, 但从未参加过专门教授五笔输入法的培训班
- D. 有些教授其他计算机技能的机构比专门教授五笔输入法的培训班更有助于学员掌握输入法技能

【答案】C。

【考点】其他逻辑



【解析】题干由“掌握输入法技能很重要”得出“应该参加专门教授五笔输入法的培训班”的结论, 题干论证存在一个隐含前提即“只有参加专门教授五笔输入法的培训班才能掌握输入法技能”, A、B 两项均能支持题干论证; C 项说明没参加过专门教授五笔输入法的培训班依然可以掌握输入法技能, 是题干隐含假设的矛盾命题, 削弱了题干论证; D 项不能削弱。因此答案选 C。

92. 某教师对美国高中生和中国高中生做了一项测试, 他问被测试相同的问题“一张 A4 纸如果对折, 最多可以折几次”。结果发现, 听到问题后, 大部分美国高中生马上开始动手折纸, 然后根据实际情况回答能折的次数, 而大部分中国高中生听到问题后马上回答: 无穷多次。这位教师由此得出结论: 美国高中生注重实践, 而中国高中生注重理论。

以下哪项是这位教师得出结论所必须假设的 ()

- A. 理论与实践是相互对立的
- B. 只要开始动手折纸并根据实际情况来回答问题, 就是注重实践
- C. 只要开始动手折纸并根据实际情况来回答问题, 就是不注重理论
- D. 只要马上回答“无穷多次”, 就是不注重实践

【答案】B。

【考点】双观点

【解析】题干根据美国高中生听到问题后开始动手折纸并根据实际情况来回答的表现, 得出美国高中生注重实践的结论, 根据中国高中生听到问题后马上回答无穷多次, 得出中国高中生注重理论的结论。题干显然缺乏研究对象的不同表现与结论之间的联系, 要得出题干结论则需要一定的假设, 即开始动手折纸并根据实际情况来回答就代表注重实践, 马上回答无穷多次就代表注重理论。因此答案选 B。

93. 某公司有些新入职职工拥有博士学位。该公司所有拥有博士学位的职工都被董事长单独接见过, 而该公司所有甲省的职工都没有被董事长单独接见过。

如果以上陈述为真, 则以下哪项也一定为真 ()

- A. 有些新入职职工不是甲省的
- B. 所有新入职职工都是甲省的
- C. 有些新入职职工没有被董事长单独接见过
- D. 有些拥有博士学位的职工是甲省的

【答案】A。

【考点】模态命题

【解析】由“公司所有甲省的职工都没有被董事长单独接见过”和“公司所有拥有博士学位的职工都被董事长单独接见过”可得“公司所有拥有博士学位的职工都不是甲省的”, 可知 D 项错误, 再结合“有些新入职职工拥有博士学位”, 可得“有些新入职职工不是甲省的”, 即 A 项正确, B 项错误。由“有些新入职职工拥有博士学位”和“公司所有拥有博士学位的职工都被董事长单独接见过”无法确定 C 项的真假。因此答案选 A。



94. 某食品包装上标明: 本食品可放心食用, 因为其中不含防腐剂和人工色素。

该食品包装上所标明内容最可能假设了以下哪项 ()

- A. 有些食品中含防腐剂和人工色素
- B. 安全的食品一定不含防腐剂和人工色素
- C. 不含防腐剂和人工色素的食品一定是安全食品
- D. 这些食品的生产者抓住了消费者的心理需求

【答案】C。

【考点】双观点

【解析】食品包装上的内容含义是: 如果食品中不含防腐剂和人工色素, 则可以放心食用。要使该论证成立, 需保证: 不含防腐剂和人工色素的食品就是安全食品。因此答案选 C。

95. 健康专家在电视节目中劝说经常饮用纯净水的人群: 与矿泉水相比, 纯净水缺乏矿物质, 而其中有些矿物质是人体必需的。所以, 你们应该改变习惯, 多饮用矿泉水。

以下哪项最能削弱健康专家的观点 ()

- A. 人体所必需的不仅仅是矿物质
- B. 人们可以从其它食物中摄取足够的矿物质
- C. 一些经常饮用某品牌矿泉水的人得了肾结石
- D. 可以饮用纯净水和矿泉水以外的其它水

【答案】B。

【考点】双观点

【解析】健康专家的观点是: 人们应该多饮用矿泉水补充人体必需的矿物质。B 项指出人们可以从其他食物中摄取足够的矿物质, 而不需要改变习惯, 多饮用矿泉水, 削弱了健康专家的观点。因此答案选 B。

96. 王涛的好朋友都喜欢歌手周某的歌。王涛在某咨询公司工作的同学都不喜欢歌手周某的歌。丽莎既是王涛的同学, 也是他的好朋友, 米蓝是王涛的同学但不在该咨询公司工作, 贺宇是王涛的同学但不喜欢歌手周某的歌。

根据以上陈述, 一定可以得出以下哪项 ()

- A. 米蓝喜欢歌手周某的歌
- B. 王涛不在该咨询公司工作
- C. 贺宇在该咨询公司工作
- D. 丽莎不在该咨询公司工作

【答案】D。

【考点】选言命题

【解析】根据王涛的好朋友都喜欢歌手周某的歌, 以及丽莎既是王涛的同学, 也是他的好朋友, 可推出丽莎喜欢歌手周某的歌, 再根据王涛在某咨询公司工作的同学都不喜欢歌手周某的歌, 可推出丽莎不在该咨询公司工作, D 项正确。由米蓝是王涛的同学但不在该咨询公司工作, 无法确定 A 项的真假; 由题干信息也无法确定王涛是否在该咨询公司工作; 由



贺宇是王涛的同学但不喜欢歌手周某的歌, 可知贺宇不在该咨询公司上班, C 项一定为假。因此答案选 D。

97. 在科学界, 我们希望论证中不出现任何“存在预设”。所谓存在预设, 即预先设定命题中的主体存在。例如在“孙悟空有火眼金睛”这个命题中, 并不预设孙悟空的存在, 但在命题“有的花是红的”中, 必须预设花的存在。牛顿第一运动定律, 断定的是不受任何外力作用的物体必然保持静止状态或匀速直线运动状态。这个定律可能为真, 但物理学家在表达和断定它的时候, 并没有预设不受任何外力作用的物体存在。

从这段话中可以推出的是 ()

- A. 存在预设取决于命题主体是否真的存在
- B. 没有不受外力作用的物体
- C. 牛顿第一运动定律不适用于现实
- D. 牛顿第一运动定律的论证中不存在“存在预设”

【答案】D。

【考点】机械推理

【解析】结合题干中“存在预设”的定义, 由于物理学家在表达和断定牛顿第一运动定律时, 并没有预设不受任何外力作用的物体存在, 因此可推出牛顿第一定律中不存在“存在预设”。因此答案选 D。

98. 近来, 月嫂收入成为人们讨论的热门话题。有人要求政府加强监管, 并质疑月嫂的收入为何能高过一个医学博士的月薪。也有人反驳说, 月嫂的收入为什么不能高过医学博士呢? 月嫂收入的提高, 一方面是市场调节的结果, 另一方面反映了我国越来越重视体力劳动, 尊重体力劳动者是社会的进步。

下列哪项陈述不能支持反驳者的观点 ()

- A. 收入高低不完全取决于学历高低
- B. 有些月嫂非常优秀, 具有博士学位
- C. 随着新生儿的增多, 出现“一嫂难求”的现象
- D. 谁能放下身段去赚辛苦钱, 谁就值得尊重

【答案】B。

【考点】从弱原则

【解析】反驳者的观点是月嫂的收入可以超过医学博士。A 项支持了反驳者的观点; B 项说明有些月嫂具有博士学位, 不能支持; C 项和 D 项分别说明月嫂收入提高是市场调节和尊重体力劳动的结果, 支持了反驳者的论据。因此答案选 B。

99. 某硕士班同学举办毕业 20 周年聚会, 联络人王宁说班里有同学不能参加。班长说: “我看 513 宿舍的 4 名同学秋菊、阿春、秀秀和楠楠最多有两人能参加。”团支书说: “班长, 我觉得你说得不对。”

如果团支书说得不对, 则下列哪项必定为假 ()



- A. 秋菊、阿春、秀秀和楠楠四人中有两人能参加
- B. 秋菊、阿春、秀秀和楠楠四人都不能参加
- C. 秋菊、阿春、秀秀和楠楠四人都能参加
- D. 如果秋菊、阿春能参加, 那么秀秀和楠楠也能参加

【答案】C。

【考点】充分条件

【解析】由团支书说得不对可知班长说得对, 则“秋菊、阿春、秀秀和楠楠最多有两人能参加”, A、B 两项都可能为真, C 项“秋菊、阿春、秀秀和楠楠四人都能参加”显然为假; D 项是一个假言命题, 也可能为真。因此答案选 C。

100. 某招考职位规定: 凡通过英语专业八级、参加过支教活动的英语专业应届毕业生均有资格报考该职位。张华是北京某名牌大学英语专业的一名应届毕业生, 却没有资格报考该职位。

由此一定可以推出的是 ()

- A. 张华没有通过英语专业八级考试
- B. 张华没参加过支教活动
- C. 如果张华通过了英语专业八级考试, 那么他没有参加过支教活动
- D. 如果张华参加过支教活动, 那么他通过了英语专业八级考试

【答案】C。

【考点】联言命题

【解析】由题干可知: 通过英语专业八级、参加过支教活动的英语专业应届毕业生是有资格报考某职位的充分条件。张华是应届生却没有资格报考该职位, 否定后件则否定前件, 则张华没有通过英语专业八级或没参加过支教活动, 等值于 C 项。因此答案选 C。

101. 统计表明, 某国的火车事故多发生在南部地区, 因此在北部地区坐火车更安全。

以下哪项最能反驳上述论证 ()

- A. 该国北部的火车车速较慢
- B. 该国南部的火车线路比北部多得多
- C. 该国南部的许多线路已经使用动车组了
- D. 该国北部大部分地区为山区, 更适合汽车行驶

【答案】B。

【考点】单观点

【解析】题干由“火车事故多发生在南部”推出“在北部坐车更安全”的结论, 实际上该论证还需要考虑南北部的火车线路数量, B 项则说明南部的火车线路比北部多得多, 则题干论证不成立。A、C、D 三项均为无关项。因此答案选 B。

102. 英语六级考试结束后, 关于王刚、刘超二人是否能通过考试, 宿舍同学有如下讨论:



王刚说: 或者我能通过, 或者刘超能通过, 或者我和刘超都能通过。

李强说: 王刚一定能通过。

杨帆说: 刘超能通过。

赵进说: 王刚没有可能通过。

考试成绩出来后, 证明四人的话有两人说的是真的, 两人说的是假的。

根据以上陈述, 可推出以下哪项 ()

- A. 王刚、刘超都通过了
- B. 王刚、刘超都没通过
- C. 王刚通过了, 刘超没通过
- D. 刘超通过了, 王刚没通过

【答案】C。

【考点】矛盾关系

【解析】李强和赵进的话互为矛盾命题, 必有一真一假。则由题干条件可知, 杨帆和王刚的话也必有一真一假。而若杨帆的话为真, 则王刚的话为真, 与题意不符, 则杨帆的话为假, 王刚的话为真, 即刘超没通过, 而王刚通过了, 因此答案选 C。

103. 一类疫苗是国家根据目前国内疾病流行情况以及我国儿童的普遍身体状况规定的必须接种的疫苗, 接种费用由政府支付, 而其他不属于一类疫苗并且需要家长自费的疫苗属于二类疫苗。由此, 家长们普遍认为, 二类疫苗只是预防一类疫苗之外的疾病的。

以下哪项最能反驳家长们的看法 ()

- A. 二类疫苗中的五联疫苗可以预防一类疫苗已覆盖的一些疾病, 因此可减少接种次数
- B. 一类疫苗预防的是可能给孩子带来更大伤害的疾病, 二类疫苗则不一定
- C. 同一种疫苗在不同的国家和地区可能属于不同类型的疫苗
- D. 选择不接种二类疫苗除了经济原因, 还有对其安全性的考虑

【答案】A。

【考点】单观点

【解析】题干中家长的观点是“二类疫苗只是预防一类疫苗之外的疾病”。A项通过实例说明二类疫苗可以预防一类疫苗已覆盖的一些疾病, 直接反驳了家长们的观点。B、C、D三项均不能削弱家长的观点。因此答案选 A。

104. 某实验室一共有 3 种类型的机器人, C 型能识别颜色、S 型能识别形状, X 型既不能识别颜色也不能识别形状。3 类机器人都能根据简单命令拿起实验品。实验室对 1 号机器人和 2 号机器人进行实验, 当命令它们拿起红球时, 1 号拿起的是红方块, 2 号拿起的是蓝球。

根据上述实验, 以下哪项断定一定为真 ()

- A. 1 号和 2 号都是 X 型
- B. 1 号和 2 号都不是 X 型
- C. 1 号是 C 型且 2 号是 S 型



D. 1 号不是 S 型且 2 号不是 C 型

【答案】 D。

【考点】 充分条件

【解析】 当命令拿起红球时, 1 号机器人拿起的是红方块, 只能说明 1 号机器人不能识别形状, 但并不能确定它是否能识别颜色, 因此只能得出 1 号不是 S 型的结论; 同理可得, 2 号拿起蓝球, 说明 2 号机器人不能识别颜色, 因此 2 号不是 C 型。因此答案选 D。

105. 甲、乙、丙、丁、戊、己六位运动员的跳高纪录有如下比较:

- (1) 乙的成绩比丙好, 但不如甲
- (2) 丁的成绩不如甲和丙
- (3) 戊的成绩好于丁和己, 但不如甲和丙

由此, 可以确定 ()

- A. 丁的成绩好于己
- B. 己的成绩好于丁
- C. 戊的成绩好于乙
- D. 乙的成绩好于戊

【答案】 D

【考点】 最大信息优先

【解析】 由条件 (1) 可知: 甲 > 乙 > 丙; 由条件 (2) 可知甲 > 丁, 丙 > 丁; 由条件 (3) 可知: 丙 > 戊 > 丁 (己)。综合可得: 甲 > 乙 > 丙 > 戊 > 丁 (己)。其中, 无法确定丁和己的成绩, 而乙的成绩好于戊。因此答案选 D。

三、定义判断: 共 10 题, 每道题中都给出了一个概念的定义, 请你根据这个定义, 从四个备选的事物或行为中选出一个最为符合或最不符合该定义的典型事物或行为。注意: 在这项测验中, 本定义被假定为正确的、不容置疑的。

106. 非我所创综合症或 NIH 综合症, 是社会、公司和组织中的一种文化现象, 人们不愿意使用、购买或者接受某种产品、研究成果或者知识, 不是出于技术或者法律等因素, 而只是因为它源自其他地方。

根据上述定义, 下列选项中涉及非我所创综合症的是 ()

- A. 每年九一八纪念时时小李都会将自己的日系车车标摘下
- B. 甲国某公司经检验后退回一整批不合格的乙国进口光学器材
- C. 某国宣布全面禁止进口日本福岛第一核电站周边 8 个县水产品
- D. 有强烈爱国情结的某国居民只购买本国生产的手机

【答案】 D。

【考点】 社会学类

【解析】 非我所创综合症的定义要点是: ①人们不愿购买源自其他地方的产品; ②不是出于技术或法律等因素。A 项已经购买了日系车, 不符合要点①; B 项不合格的乙国进口产品, C 项核电站周边 8 个县的水产品, 均不符合要点②; D 项符合定义要点。因此答案选 D。

107. 心理学家认为, 在一般情况下, 人们都不愿接受较高较难的要求, 因为它费时费



力又难以成功, 相反, 人们却乐于接受较小的、较易完成的要求, 在实现了较小的要求后, 人们才慢慢地接受较大的要求, 这就是“登门坎效应”。

根据上述定义, 下列不符合登门坎效应的是 ()

- A. 某推销员总是仔细地记录客户的需求, 并定期向他们宣传新产品
- B. 先请居民在赞成安全行驶的请愿书上签字, 几周后再向他们提出在自己房前竖立“小心驾驶”的语牌
- C. 某高中的班主任不忽视学生的每一点进步, 并帮助他们制定短期目标, 促使他们考上理想的大学
- D. 一位万米长跑冠军说: “我将 10000 米分成 10 段。每段我都保持了领先, 所以赢得了胜利。”

【答案】A。

【考点】心理学类

【解析】登门坎效应的定义要点是: 在实现较小的要求后人们才慢慢接受较大的要求。

A 项没有体现出较小的要求和较大的要求的区别。因此答案选 A。

108. 音乐治疗, 是一个系统的干预过程, 在这个过程中, 治疗师利用音乐体验的各种形式, 以及在治疗过程中发展起来的、作为治疗动力的治疗关系来帮助治疗对象达到健康的目的。

根据上述定义, 下列选项中属于音乐治疗的是 ()

- A. 病人李某无意中听到其他病友推荐的治疗音乐后感觉非常舒服
- B. 医生为精神紧张抑郁的周某播放催眠音乐, 周某说他感到非常放松
- C. 某治疗师给病人听过某些音乐后, 病人出现呕吐等不适症状
- D. 治疗师王某旅游时在山泉前听到潺潺水声顿觉心旷神怡

【答案】B。

【考点】心理学类

【解析】音乐治疗的定义要点是: 治疗师利用音乐体验来帮助治疗对象达到健康的目的。

A 项不是治疗师提供音乐, C 项没有达到治疗的目的, D 项是治疗师自己的感觉, 均不符合定义。因此答案选 B。

109. 自媒体, 是指一个普通市民或机构组织能够在任何时间、任何地点, 以任何方式访问网络, 通过现代数字科技与全球知识体系相联, 并提供或分享他们的真实看法、自身新闻的一种途径和即时传播方式。

根据上述定义, 以下哪项行为没有涉及自媒体 ()

- A. 张教授将他的课件传到网上, 供学生下载
- B. 小李在微博上与网友讨论食品卫生问题
- C. 小张将拍摄的“中国式过马路”用电子邮件发给网友
- D. 老刘浏览论坛上的关于春运的新闻

【答案】D。



【考点】社会学类

【解析】自媒体的定义要点是: 提供或分享真实看法、自身新闻。D项中, 老刘浏览论坛上关于春运的新闻, 并没有与他人分享自身想法或新闻。因此答案选D。

110. 社会体育, 是由企业、事业单位职工, 国家机关工作人员, 以及城镇或农村居民等不同的群体, 为达到健身、健心、健美、娱乐、医疗等目的而进行的内容丰富、形式多样的身体锻炼活动。

根据上述定义, 以下哪项活动不是社会体育活动 ()

- A. 由北京市体委举办的群众长跑运动
- B. 某大学举办了教工篮球队与社区篮球队的友谊比赛
- C. 某市承办了国际铁人三项赛
- D. 在国家奥林匹克体育中心举办的社区居民网球赛

【答案】C。

【考点】社会学类

【解析】社会体育活动的定义主体是: 企业、事业单位职工, 国家机关工作人员, 以及城镇或农村居民等不同群体。C项中国际铁人三项赛的参与者与定义主体不同。因此答案选C。

111. 分布式能源, 是一种新型的建于用户当地或附近的发电系统, 可产生电能及其他形式能量, 并优先满足当地用户需求, 且由用户来管理支配。

根据上述定义, 下列选项中属于分布式能源的是 ()

- A. 葛洲坝水电枢纽发电满足附近省市用电需求
- B. 某核电站生产的电能并入了国家电网
- C. 某农户将自家化粪池产生的沼气用于照明
- D. 西部地区某乡建风力发电站发电用于本村生产生活

【答案】D。

【考点】其他定义

【解析】分布式能源的定义要点是: ①新型的建于用户当地或附近的发电系统; ②优先满足当地用户需求, 且有用户来管理支配。A项水电、C项沼气都不是新型的发电系统, B项产生的电能没有优先满足当地用户需求; C项满足定义要点。因此答案选C。

112. 宅经济, 又称闲人经济, 是指人们将假日时间分配在家庭生活、减少出门消费而带来商机的现象。

根据上述定义, 下列选项中属于宅经济的是 ()

- A. 十一长假期间, 某小区附近的音像店提供光盘上门租借服务
- B. 某在线购物网站的客服人员因需要在节假日值班, 而在网上定购快餐
- C. 放假期间, 某镇的甲商场门可罗雀, 而乙商场因搞促销而门庭若市
- D. 某快递公司在十一长假时订单大幅减少, 这是因为很多人去旅游了



【答案】 A。

【考点】 经济学类

【解析】 宅经济的定义要点是: ①人们将假日时间分配在家庭生活、减少出门消费; ②带来商机。B 项客服人员加班、C 项商场销售都不符合要点①; D 项订单减少不符合要点②; A 项符合定义要点。因此答案选 A。

113. 超限效应, 是指当人们所接受的刺激过多、过强或者作用时间过久时, 引起的心理极不耐烦或逆反的心理现象。

根据上述定义, 下列不符合超限效应的是 ()

- A. 小林因为妈妈经常唠叨, 他决定毕业后到外地找工作
- B. 王老师因为儿子意外身亡, 上课时无法集中注意力
- C. 小方因学习成绩不好, 多次受到老师的批评, 后来她就放弃了学业
- D. 小华连续加班一周, 感到非常疲惫, 因琐事与家人大吵

【答案】 B。

【考点】 心理学类

【解析】 超限效应的定义要点是: ①接受的刺激过多、过强或作用时间过久时; ②引起心理极不耐烦或者逆反的现象。A 项说明小林因妈妈的唠叨过多而去外地, C 项小方受到老师的批评过多而放弃学业, D 项小华因加班时间长而与家人大吵, 均属于超限逆反。而 B 项王老师因儿子意外身亡而无法集中注意力是正常的反应, 不符合定义。因此答案选 B。

114. 病毒式营销, 是指发起人把产品的最初信息发送到用户, 再依靠用户自发进行口碑宣传的一种营销方法。这种战略像病毒一样, 利用快速复制的方式将信息传向数以千计、乃至百万计的受众。

根据上述定义, 下列属于病毒式营销的是 ()

- A. 某公司通过发展客户作为销售渠道, 鼓励他们向更多人推销该公司产品
- B. 某企业举办广告创意设计大赛活动, 让消费者自己设计相关产品的广告
- C. 某公司通过电子邮箱随机发送产品广告, 并告知转发该广告可参与抽奖
- D. 某商家用标新立异的广告词宣传, 网友纷纷转发使其迅速成为流行语

【答案】 D。

【考点】 经济学类

【解析】 病毒式营销的定义要点是: 依靠用户自发进行口碑宣传。A 项鼓励客户推销, B 项举办广告创意大赛, C 项随机发送广告均不是用户自发进行的宣传; 只有 D 项网友转发标新立异的广告词并使其成为流行语符合病毒式营销的定义。因此答案选 D。

115. 中国传统医学中“七情”之一的“惊”指突然遭受意料之外的事, 引起心神欠稳或脏腑机能失调, 之后又遇到异物异声而产生的伴有紧张惊骇的情绪体验。

根据上述定义, 下列选项中可以认定为“惊”的是 ()

- A. 李某意外摔下楼梯后昏迷不醒, 醒来后未感到异常, 只觉得自己睡了一觉



- B. 遭遇歹徒劫持的王某被营救后大哭起来, 并拉着民警的手连声称谢
- C. 赵某目睹车祸惨剧后呆若木鸡, 再次看到摩托车紧急刹车时一下子晕倒在地
- D. 周某与朋友聊天时得知自己中了 500 万大奖, 他顿时热泪盈眶并跳了起来

【答案】 C。

【考点】 其他定义

【解析】 根据题干中惊的定义, 其定义要点是: ①遭受意外引起心神欠佳或机能失调; ②之后又遇到异声异物而产生的紧张惊骇的情绪。A 项“醒来后未感到异常”不符合要点②; B 项并未遇到异声异物, 不符合要点②; C 项符合定义; D 项不符合①②。因此答案选 C。

第五部分 资料分析

(共 20 题, 参考时限 20 分钟)

针对下列图、表或文字回答问题。你应根据资料提供的信息进行分析、比较、计算、处理。你可以在题本上运算。

一、根据下列统计资料回答问题。

2001~2010 年我国税收统计表

(单位: 亿元)

税种 年份	消费税	增值税	营 业 税	进口产品 消费税和 增值税	企业所 得税	个人所 得税	证券交 易印花 税
2001	929.99	4015.47	214.99	1651.63	945.29	279.24	265.91
2002	1046.32	4631.01	155.30	1885.65	1882.21	605.95	108.62
2003	1182.26	5425.55	76.89	2788.59	1740.71	850.79	123.87
2004	1501.90	6613.51	110.99	3700.42	2361.33	1042.24	166.69
2005	1633.81	7931.35	129.64	4211.78	3204.03	1256.94	65.30
2006	1885.69	9588.43	160.54	4962.64	4358.46	1472.17	174.09
2007	2206.83	11602.61	202.66	6153.41	5646.97	1911.80	1945.15
2008	2568.27	13497.76	232.10	7391.13	7173.55	2234.23	949.68
2009	4761.22	13915.96	167.10	7729.79	7619.09	2366.81	495.04
2010	6071.55	15897.21	153.34	10490.64	7795.17	2902.97	527.82

116. 2004 年个人所得税及同比增长幅度分别约为 ()



- A. 1042 亿元, 23%
- B. 1024 亿元, 20%
- C. 1042 亿元, 32%
- D. 1024 亿元, 30%

【答案】 A。

【考点】 增长率计算

【解析】 根据表格可知, 2004 年个人所得税为 1042.24 亿元, 2003 年的为 850.79 亿元, 则 2004 年同比增长 $\frac{1042.24 - 850.79}{850.79} < \frac{200}{800} = 25\%$, 故正确的为 A。

117. 与 2001 年相比, 2010 年税收收入增长幅度最大的是哪个税种 ()

- A. 进口产品消费税和增值税
- B. 个人所得税
- C. 企业所得税
- D. 消费税

【答案】 B。

【考点】 增长率大小比较

【解析】 由表格得, 与 2001 年相比, 2010 年 A 项的增幅为 $\frac{10490.64}{1651.63} - 1$, B 项的为 $\frac{2982.97}{279.24} - 1$, C 项为 $\frac{7795.17}{945.29} - 1$, D 项为 $\frac{6071.55}{629.99} - 1$, 直接观察大致估算 B 项大于 9, 而其他三项均小于 9, 则增幅最大的就是 B 项。

118. 从 2002 年至 2010 年间, 表中各项税种收入均比上年有所上升的年份共有几个 ()

- A. 2
- B. 3
- C. 4
- D. 5

【答案】 B。

【考点】 直接读数

【解析】 根据表格数据, 只有 2004、2006、2007 年这三年各项税收收入均比上年上升, 因此选 B。

119. 按 2010 年对国家财政的收入贡献对部分税种进行排序, 正确的一项是 ()

- A. 个人所得税 > 进口产品消费税和增值税 > 企业所得税 > 增值税
- B. 增值税 > 企业所得税 > 进口产品消费税和增值税 > 个人所得税
- C. 增值税 > 个人所得税 > 企业所得税 > 进口产品消费税和增值税
- D. 增值税 > 进口产品消费税和增值税 > 企业所得税 > 个人所得税

【答案】 D。

【考点】 直接读数

【解析】 将表格中的各税种税收 2010 年的值进行比较, 得到增值税 (15897.21) > 进口产品消费税和增值税 (10490.64) > 企业所得税 (7795.17) > 消费税 (6071.55) > 个人



所得税 (2902.07) > 证券交易印花税 (527.82) > 营业税 (153.34), 结合选项正确的只有 D 项。

120. 关于 2001~2010 年我国税收状况, 能够从上述资料中推出的是 ()

- A. 消费税年均增长率高于企业所得税
- B. 期间内收入波动最大的税种是营业税
- C. 增值税的年均同比, 增量高于其余各税种
- D. 进口产品消费税和增值税年均增量超千亿元

【答案】C。

【考点】增长率大小比较

【解析】A 项, 2001~2010 年消费税年均增长率为 $\sqrt[9]{\frac{6071.55}{929.99}} - 1 = \sqrt[9]{\frac{6071.55}{929.99}} - 1$,

企业所得税年均增长率为 $\sqrt[9]{\frac{7795.17}{945.29}} - 1 = \sqrt[9]{\frac{7795.17}{945.29}} - 1$, 只需比较根号下的数的大

小即可。 $\frac{6071.55}{929.99} = 6.X$, $\frac{7795.17}{945.29} = 8.X$, 显然企业所得税增长率大于消费税, 错误; B 项,

2001 年到 2010 年期间, 营业税税收最大值与最小值之差为 $232.10 - 76.89 < 200$ 亿元, 而证券交易印花税为 $1945.15 - 65.30 > 1000$ 亿元, 故营业税不是最大的, 错误; C 项题目可直接转化为求 2010 年较 2001 年增量最大的税种, 由表格数据直接估算可知, 只有增值税的增量超过 1 万亿元, 故其年增量也是最大的, 正确, 直接选 C。验证 D 项: 所求为 $\frac{10490.64 - 1651.63}{2010 - 2001} < \frac{10500 - 1500}{9} = 1000$ 亿元, 故错误。

二、根据下列统计资料回答问题。

2012 年建材工业增加值同比增长 11.5%, 增速回落 8 个百分点, 占全国工业增加值的 6.6%。全年水泥产量 21.8 亿吨、同比增长 7.4%, 陶瓷砖 92 亿平方米、同比增长 9.4%, 天然花岗岩石材 4.1 亿平方米、同比增长 27.2%。平板玻璃 7.1 亿重量箱、同比下降 3.2%, 卫生陶瓷产量 1.6 亿件、同比下降 13.1%。

2012 年底规模以上企业 3.4 万家, 全年完成主营业务收入 5.3 万亿元, 同比增长 13.4%。尽管水泥、平板玻璃等行业利润总额同比分别下降 32.8%、66.6%, 但由于水泥制品、轻质建筑材料、建筑陶瓷、耐火材料制品、金属门窗和玻纤增强塑料材料等行业利润总额同比分别增长 22.5%、21.8%、33.8%、10.5%、26.9% 和 30.6%, 全行业利润总额仍创 3750 亿元新高, 同比增长 3.5%。

大宗产品产销率呈下降态势, 水泥产销率 97.3%、同比下降 0.6 个百分点, 平板玻璃产销率 95.6%、同比下降 0.1 个百分点。截至 12 月, 水泥制造业存货 790 亿元, 同比增加 1.8%; 砖瓦、石材等建筑材料制造业存货 590 亿元, 同比增加 15.7%; 玻璃制品制造业存货 319 亿元, 同比增加 15.8%。

2012 年行业出口交货值约 2250 亿元, 同比增长 7.9%, 出口商品离岸价格上涨 9.3%。



其中, 建筑卫生陶瓷、建筑和技术玻璃、玻璃纤维及制品出口额同比分别增长 31.5%、10%、5.7%。

121. 与 2010 年相比, 2012 年建材工业增加值约增长了 ()

- A. 3.5% B. 19.5% C. 31.5% D. 33.2%

【答案】D。

【考点】增长率计算

【解析】由文字第一段“2012 年建材工业增加值同比增长 11.5%, 增速回落 8 个百分点”, 可知 2011 年同比增长率为 $11.5\%+8\%=19.5\%$, 所求为 $(1+11.5\%)(1+19.5\%)-1=11.5\%+19.5\%+11.5\%\times 19.5\%\approx 11.5\%+19.5\%+10\%\times 20\%=33\%$, 只有 D 项满足。

122. 如 2012 年建材行业无新增规模以上企业, 则当年平均每家规模以上企业完成主营业务收入约比上年增长多少亿元 ()

- A. 0.07 B. 0.18 C. 0.63 D. 1.56

【答案】B。

【考点】平均数计算

【解析】解析: 由文字第二段, 2012 年底规模以上企业 3.4 万家, 全年完成主营业务收入 5.3 万亿元, 同比增长 13.4%, 则根据题干假设, 所求为

$$\frac{5.3}{3.4 \times (1+13.4\%)} \times 13.4\% \approx \frac{5}{3.5 \times (1+\frac{1}{7})} \times \frac{1}{7} = \frac{5}{4} \times \frac{1}{7} = 1.2 \div 7 = 0.1X, \text{ 选 B.}$$

123. 以下关于 2012 年产品产量或行业利润总额同比增长率的排序, 按从高到低排列正确的是 ()

- A. 产量增长率: 水泥 > 平板玻璃 > 卫生陶瓷
 B. 利润增长率: 水泥制品 > 玻纤增强塑料材料 > 金属门窗
 C. 产量增长率: 天然花岗岩石材 > 卫生陶瓷 > 陶瓷砖
 D. 利润增长率: 轻质建筑材料 > 建筑陶瓷 > 耐火材料制品

【答案】A。

【考点】直接读数

【解析】根据文字第一、二段的数据可知排序正确的只有 A 项。

124. 如果 2012 年建筑卫生陶瓷商品出口价格同比涨幅与建材行业出口商品离岸价格同比涨幅相同, 则 2012 年建筑卫生陶瓷商品出口量与上年相比 ()

- A. 下降了 1% B. 上升了 1% C. 下降了 17% D. 上升了 20%

【答案】D。

【考点】增长率计算

【解析】根据最后一段可知, 2012 年建材行业出口商品连价格同比上涨 9.3%, 建筑卫生陶瓷出口额同比增长 31.5%, 根据出口量 = 出口额 ÷ 出口价格, 并结合题干, 所求为



$$\frac{1+31.5\%}{1+9.3\%} - 1 = \frac{31.5\% - 9.3\%}{1+9.31\%} \approx \frac{0.22}{1.1} = 20\%, \text{ D 项满足。}$$

125. 以下关于 2012 年建材行业产销状况的描述, 与资料相符的是 ()

- A. 玻璃制品制造业存货同比增速低于水泥制造业
- B. 玻璃制品制造业存货比上年增长约 30 亿元
- C. 2012 年全年水泥销量超过 21 亿吨
- D. 建材行业利润总额比上年增长约 200 亿元

【答案】C。

【考点】增长量计算

【解析】A 项, 玻璃制品制造业存货同比增速为 15.8%, 水泥制造业为 1.8%, 前者大于后者, 错误;

B 项, 根据文字第三段, 所求为 $319 \times \frac{15.8\%}{1+15.8\%} > 310 \times \frac{0.1158}{1.158} = 31$ 亿元, 错误;

C 项, 根据文字可知, 2012 年水泥产量为 21.8 亿吨, 其产销率为 97.3%, 根据产销率=产量÷销量, 则水泥销量为 $21.8 \div 97.3\% > 21 \div 100\% = 21$ 亿吨, 正确。直接选 C。

验证 D 项: 第二段, 所求为 $\frac{3750}{1+3.5\%} \times 3.5\% = \frac{3750}{103.5} \times 3.5 \approx 3750 \times \frac{1}{3} = 1250$ 亿元, 远大于 200 亿元, 故错误。

三、根据下列统计资料回答问题。

2012 年国家火炬计划项目总立项数 2108 项, 其中产业化示范项目 1834 项, 环境建设项目 274 项。2012 年火炬计划重点支持项目 445 项。2012 年, 国家火炬计划项目中央财政安排经费 3.2 亿元支持重点项目。

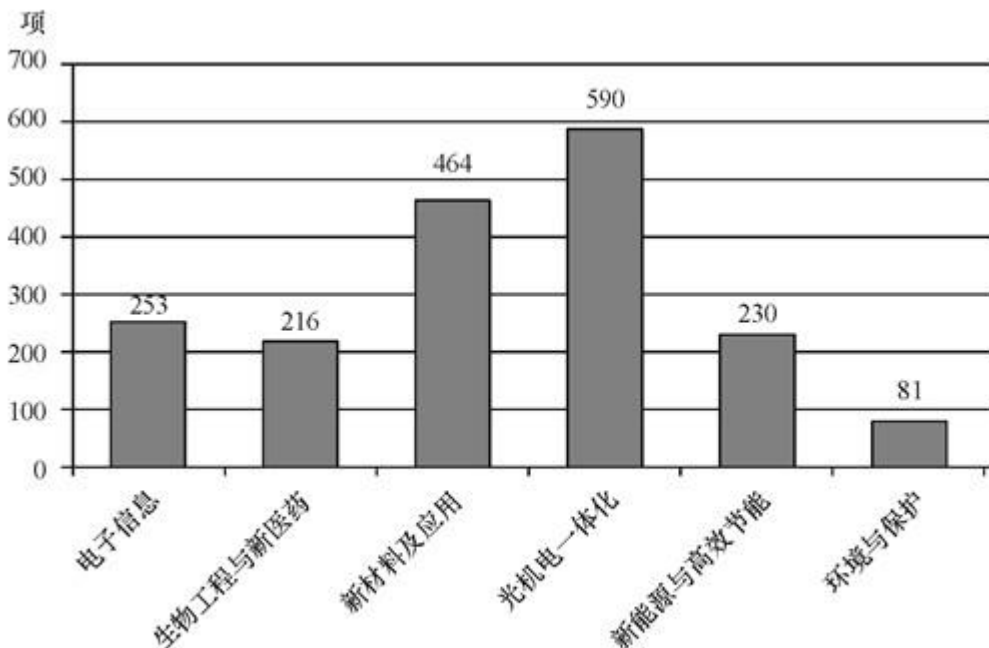


图 1 2012 年国家火炬计划产业化示范项目图 (按技术领域划分)

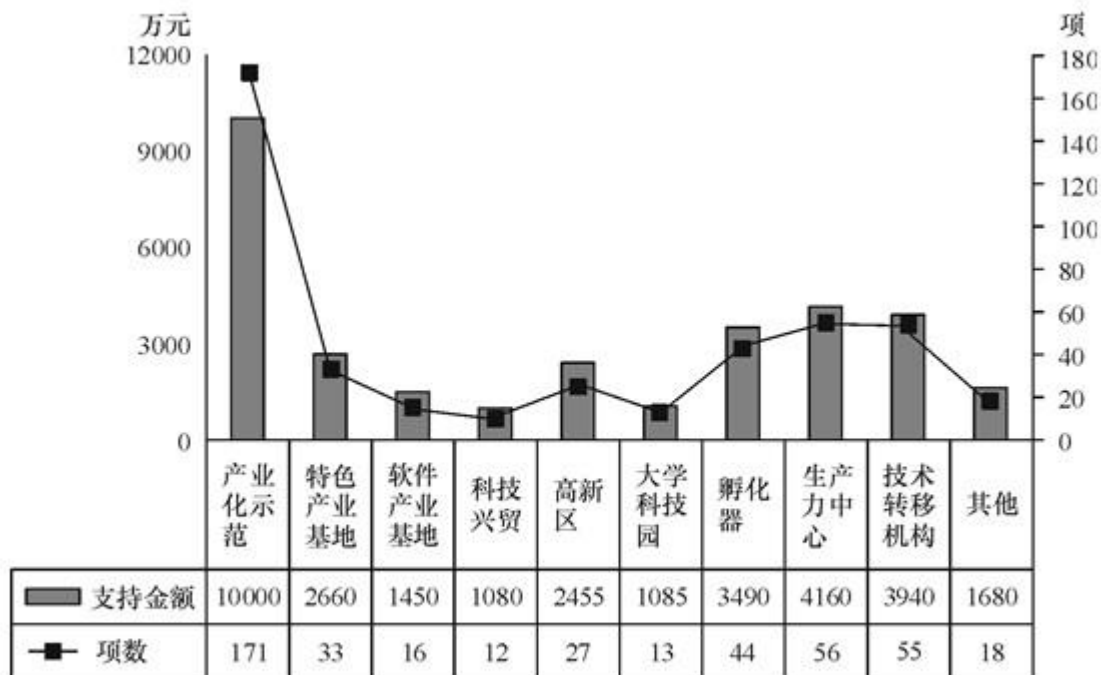


图 2 2012 年火炬计划重点支持项目及资金分布图 (按领域划分)

126. 2012 年国家火炬计划总立项数中, 产业化示范项目占比约为 ()

- A. 75% B. 79% C. 83% D. 87%

【答案】D。

【考点】比重计算

【解析】第一段文字说明, 国家火炬计划项目总立项数 2108 项, 其中产业化示范项目 1834 项, 占比为 $1834 \div 2108 > 18 \div 21 = 85\%$, 选择 D 项。

127. 产业化示范项目中, 立项数最高的技术领域占产业化示范项目总立项数的比重比立项数最低的领域高约多少个百分点 ()

- A. 25 B. 28 C. 32 D. 37

【答案】B。

【考点】比重计算

【解析】观察图 1, 立项数最高的为光机电一体化 590 个, 最低的为环境与保护 81 个, 立项数最高的技术领域占产业化示范项目总立项数的比重, 比最低的高 $\frac{590 - 81}{1834} \times 100 \approx \frac{510}{1834} \times 100 = 27.8$ 个百分点, 选择 B。

128. 在火炬计划重点支持项目中, 平均每个项目获得的支持资金最少的领域是 ()

- A. 孵化器 B. 技术转移机构
C. 大学科技园 D. 产业化示范

【答案】D。



【考点】平均数大小比较

【解析】在重点支持项目中, 孵化器平均每个项目获得的支持资金为 $\frac{3490}{44} < \frac{3520}{44} = 80$, 技术转移机构为 $\frac{3940}{55} \approx 70$; 大学科技园为 $\frac{1085}{13} = 83.46$; 产业化示范为 $\frac{10000}{171} < 60$ 。平均资金最少的领域是产业化示范, 选择 D 项。

129. 在 2012 年火炬计划重点支持项目中有几个领域获得的支持资金超过中央财政安排经费总额的 10% ()

- A. 4 B. 5 C. 3 D. 6

【答案】A。

【考点】其他计算

【解析】文字材料最后一句, 中央财政安排支持重点项目经费为 3.2 亿元, 其 10% 为 3200 万元。图 2 中支持金额超过 3200 万元的有 4 个, 包括产业化示范、孵化器、生产力中心和技术转移机构。选择 A 项。

130. 关于 2012 年国家火炬计划重点支持项目, 能够从上述资料中推出的是 ()

- A. 重点支持项目中产业化示范项目不到 $\frac{1}{3}$
 B. 所有的环境建设项目都是重点支持项目
 C. 有 5 个领域的项目数少于重点支持项目总数的 5%
 D. 产业化示范项目支持经费在重点支持项目中的比重约为 40%

【答案】B。

【考点】比重计算

【解析】A 选项, 根据文字材料“2012 年火炬计划重点支持项目 445 项”和图 2 可知, 重点支持项目中产业化示范项目的比重为 $\frac{171}{445} > \frac{1}{3}$, A 选项错误。

B 选项, 根据图 2 和文字材料“2012 年国家火炬计划项目总立项数 2108 项, 其中产业化示范项目 1834 项, 环境建设项目 274 项。2012 年火炬计划重点支持项目 445 项”可知, 重点支持项目 445 项包括 171 项产业化示范项目和 274 项环境建设项目, B 选项正确。

C 选项, 根据文字材料“2012 年火炬计划重点支持项目 445 项”可知, 重点支持项目总数的 5% 为 22.25 项, 少于 22.25 项的有软件产业基地、科技兴贸、大学科技园和其他 4 个领域, C 选项错误。

D 选项, 根据图 2 和文字材料“2012 年, 国家火炬计划项目中央财政安排经费 3.2 亿元支持重点项目”可知, 产业化示范项目支持经费在重点支持项目中的比重为, D 选项错误。因此, 本题答案为 B 选项。

四、根据下列统计资料回答问题。

据统计, 2012 年 1~10 月我国农产品进出口总额 1414.48 亿美元, 较上年同期 (下同)



增长 16.27%。其中, 出口 500.52 亿美元, 增长 4.49%, 进口 913.96 亿美元, 增长 23.92%。

2012 年 1~10 月我国八类主要农产品进出口情况

品种	出口				进口			
	金额 (亿美元)	同比 (%)	数量 (万吨)	同比 (%)	金额 (亿美元)	同比 (%)	数量 (万吨)	同比 (%)
谷物	5.37	-9.92	88.39	-6.61	42.67	181.64	1255.14	212.77
——稻谷产品	2.31	-13.25	24.78	-28.63	9.58	184.30	200.07	283.88
——小麦产品	1.23	-4.87	23.29	-12.77	10.64	212.55	357.46	246.72
——玉米产品	0.98	118.17	25.02	89.36	15.00	373.13	455.72	285.32
食用油籽	13.38	22.33	78.66	10.38	304.52	21.29	5111.74	18.56
——大豆	2.01	54.67	23.76	38.23	283.40	19.02	4833.68	16.61
食用植物油	1.47	-21.29	8.09	-26.35	84.86	19.41	733.10	19.66
食糖	0.37	-15.18	4.03	-21.22	20.25	46.40	335.12	67.02
水产品	149.33	6.62	302.52	-4.28	64.28	-2.93	325.04	-7.89
畜产品	51.63	10.56	110.73	-2.54	88.11	21.68	381.22	12.71
蔬菜	77.80	-18.88	724.53	-9.68	3.34	31.21	18.28	33.60
水果	36.99	11.45	315.04	2.20	31.69	24.72	288.10	1.38

131. 2012 年 1~10 月我国八类主要农产品中, 进口数量最多的三类是 ()

- A. 食用油籽、畜产品、食用植物油
- B. 蔬菜、水果、水产品
- C. 食用油籽、谷物、食用植物油
- D. 蔬菜、畜产品、水产品

【答案】C。

【考点】直接读数

【解析】观察表格中八大类主要农产品, 进口数量最多的三类是食用油籽 5111.74 万吨、谷物 1255.14 万吨、食用植物油 733.10 万吨。选择 C 项。

132. 2011 年 1~10 月我国小麦产品的出口量约比大豆 ()

- A. 少 0.5 万吨
- B. 少 3.5 万吨
- C. 多 3.5 万吨
- D. 多 9.5 万吨

【答案】D。

【考点】基期量计算

【解析】2011 年 1-10 月我国小麦产品的出口量为 $23.29 \div (1-12.77\%)$, 大豆的出口量为 $23.76 \div (1+38.23\%)$ 。明显小麦高于大豆出口量, 排除 A、B 两项。



$$\frac{23.29}{1-12.77\%} - \frac{23.76}{1+38.23\%} \approx \frac{23}{0.88} - \frac{24}{1.4} = 26 - 17 = 9 \text{ 万吨, 选择 D 项。}$$

133. 2011 年 1~10 月我国农产品约实现 ()

- A. 贸易逆差 413 亿美元
- B. 贸易逆差 259 亿美元
- C. 贸易顺差 413 亿美元
- D. 贸易顺差 259 亿美元

【答案】 B。

【考点】 基期量计算

【解析】 文字材料中, 2012 年 1-10 月出口 500.52 亿美元, 同比增长 4.49%, 2011 年 1-10 月的出口额为 $\frac{500.52}{1+4.49\%} \approx \frac{500}{1.045}$; 2011 年 1-10 月的进口额为 $\frac{913.96}{1+23.92\%} \approx \frac{914}{1.24}$; 出口额 $\frac{500}{1.045}$ 小于进口额 $\frac{914}{1.24}$, 实现逆差, 排除 C、D 项。 $\frac{914}{1.24} - \frac{500}{1.045} = 73X - 47X < 300$ 亿元, 选择 B 项。

134. 与上年同期相比, 2012 年 1~10 月我国蔬菜和水果的平均出口单价 ()

- A. 均有所提高
- B. 均有所下降
- C. 只有蔬菜价格提高
- D. 只有水果价格提高

【答案】 D。

【考点】 比重大小比较

【解析】 观察表格最后两行的第 2~5 列数据, 水果出口金额的同比增长率 11.45%, 大于出口数量的同比增长率 2.20%, 所以水果单价比去年提高, 排除 B、C 项。蔬菜出口金额的同比增长率为 -18.88%, 小于出口数量的同比增长率 -9.68%, 所以蔬菜单价比去年降低。选择 D 项。

135. 下列关于我国 2012 年 1~10 月八类主要农产品进出口状况的描述与资料相符的是 ()

- A. 有 7 类主要农产品的出口量同比下降
- B. 大豆进口量与食用油籽总进口量的比重不足 9 成
- C. 玉米产品进口金额的同比增速高于稻谷产品和小麦产品
- D. 食用植物油的平均进口单价高于水产品

【答案】 C。

【考点】 综合分析

【解析】 A 项, 在八大类主要农产品中, 出口量下降的有 6 个, 食用油籽和水果的出口量增加, 错误。B 项, 食用油籽总进口量为 5111.74 万吨, $5111.74 \times 90\% < 5200 \times 0.9 = 4680$ 万吨, 小于大豆的进口量 4833.68 万吨, 错误。C 项, 玉米产品进口金额的同比增速为 373.13%, 明显高于稻谷和小麦的同比增速, 正确。D 项, 食用植物油的平均进口单价为 $84.86 \div 733.10 \approx 10\%$, 水产品的平均进口单价为 $64.28 \div 325.04 \approx 20\%$, 水产品高于食用植物油, 错误。综

