



2018年3月四川雅安市 人力资源和社会保障局考试 《职业能力测试》真题



公众号名称: 厚职事业单位, 扫码关注获取更多真题和资料
厚职教育事业单位招聘信息网 (www.kaosydw.com) 整理提供



2018年3月四川雅安人社局考试行测真题及答案

2018年3月四川雅安市人力资源和社会保障局考试《职业能力测试》真题

一、常识判断, 在四个选项中选出一个最恰当的答案。

1. 在2018年的新年贺词中, 国家主席习近平说, 我们要以庆祝() 40周年为契机, 逢山开路, 遇水架桥, 将其进行到底。

- A、改革开放
- B、澳门回归
- C、新中国成立
- D、设立经济特区

2. 2018年1月19日12时12分, 我国在() 卫星发射中心用长征十一号运载火箭, 以“一箭六星”方式成功将吉林一号视频07星、08星和四颗小卫星发射升空并送入预定轨道。

- A、酒泉
- B、西昌
- C、太原
- D、文昌

3. “农业兴, 全国兴; 农民富, 国家富; 农村安, 天下安。”这句话体现的哲学关系是()。

- A、整体和局部
- B、原因和结果
- C、偶然和必然
- D、对立和统一

4. 成语“揠苗助长”出自《孟子·公孙丑上》: “天下之不助苗长者寡矣, 以为无益而舍之者, 不耘苗者也; 助之长者, 揠苗者也。非徒无益, 而又害之。”这个成语体现的主要哲理是()。

- A、事物是普遍联系的
- B、矛盾双方相互依存
- C、主观能动性的发挥受客观条件的制约
- D、发挥主观能动性必须尊重客观规律

5. 甲因乙借钱不还, 携刀恐吓乙以催促其还钱, 结果甲在争执之时砍伤了乙, 后来乙因失血过多而死。甲的行为属于()。

- A、犯罪预备
- B、犯罪中止
- C、正当防卫
- D、过失杀人罪

6. 小李和小蔡是前后桌, 一日小李手机丢失, 怀疑是小蔡趁着自己去上厕所的时候偷了, 便要搜查小蔡的衣服口袋, 小李的这一行为被老师发现后及时制止。小李的行为()。



- A、是合法的, 因为这是维护自己财产权的行为
- B、是合法的, 因为这是小李找回手机的有效方式
- C、是非法的, 因为这是侵犯小蔡荣誉权的行为
- D、是非法的, 因为这是侵犯小蔡人身自由权的行为

7. 陈某养了一只狗, 这只狗喜欢每天夜里不停地叫。陈某由于习惯夜生活, 所以并不会对此感到困扰。可是他的邻居王某习惯早睡, 每天就会被狗的叫声弄得失眠, 于是不得不花钱买安眠药。此事件产生的外部效果 ()。

- A、为正外部性效果
- B、为负外部性效果
- C、为零和外部性效果
- D、是相互抵消的

8. 80年代为了满足人们对彩电、冰箱的需求, 彩电业、冰箱业迅猛发展。近几年, 由于人们对健康和休闲的需求, 美容、娱乐、旅游业等随之兴旺发达起来。该案例体现了 ()。

- A、生产决定消费的对象
- B、生产决定消费的方式
- C、生产为消费创造劳动力
- D、消费对生产具有反作用

9. 中国地势 (), 呈阶梯状分布。山地、高原面积广大。东西相距约 5000 千米, 大陆海岸线长达 18000 多千米, 气温降水的组合多种多样, 形成了多种多样的气候。

- A、四周低中间高
- B、四周高中间低
- C、西高东低
- D、东高西低

10. () 位于安徽省, 有“天下第一奇山”之美称。

- A、黄山
- B、泰山
- C、武当山
- D、庐山

11. 2017 年 8 月, 美国迎来了一场百年一遇的日全食, 从俄勒冈州开始, 依次穿过 11 个州, 一条宽度约 113 公里的日全食带贯穿美国东西两岸。日食形成的原因是 ()。

- A、地球挡住了太阳
- B、月球挡住了太阳
- C、水星挡住了太阳
- D、金星挡住了太阳

12. 三峡大坝、葛洲坝、小浪底大坝、新安江大坝中, 位于浙江的是 ()。



- A、三峡大坝
- B、葛洲坝
- C、小浪底大坝
- D、新安江大坝

13. 鸦片战争后十年间, 各地各族人民的起义达百余次, 到 1851 年终于爆发了一场浩大的革命斗争, 即是 ()。

- A、义和团运动
- B、太平天国运动
- C、黄花岗起义
- D、武昌起义

14. “有志者事竟成, 破釜沉舟, 百二秦关终属楚; 苦心人天不负, 卧薪尝胆, 三千越甲可吞吴”一联中所涉及的历史人物及其历史时期分别对应正确的是 ()。

- A、项羽—秦末, 勾践—春秋
- B、项羽—春秋, 勾践—战国
- C、项羽—秦末, 刘邦—汉初
- D、刘邦—汉初, 勾践—战国

15. 夏朝最后一个统治者是 (), 其暴虐无道。东方的商部落在汤的领导下强大起来, 打败了夏, 建立商朝。

- A、桀
- B、太康
- C、相
- D、不降

16. 下列选项中, () 用来比喻做事技艺不精湛, 如今多比喻对各种技艺略知皮毛的人。

- A、白眼狼
- B、下山虎
- C、三角猫
- D、哈巴狗

17. 田园诗是以山水田园为审美对象, 把细腻的笔触投向静谧的山林和田野, 创造出一种田园牧歌式的生活, 借以表达对现实的不满和对宁静生活的向往。其中, () 是田园诗人的鼻祖。

- A、刘禹锡
- B、陶渊明
- C、白居易
- D、杜牧

18. 下列成语俗语中, 能够体现无视联系的客观性, 只顾眼前利益, 不顾长远利益的是 ()。

- A、无风不起浪



- B、杀鸡取卵
- C、盲人摸象
- D、城门失火, 殃及池鱼

19. 按照一天时间的早晚, 下列诗句所描写的时间最早的是 ()。

- A、日轮当午凝不去, 万国如在洪炉中
- B、关山凌旦开, 石路无尘埃
- C、银烛秋光冷画屏, 轻罗小扇扑流萤
- D、枯藤老树昏鸦, 小桥流水人家

20. 泥石流具有突然性、流速快、流量大、物质容量大和破坏力强等特点, 容易造成较大经济损失和人员伤亡。当泥石流发生时, 我们应 ()。

- A、迅速转移到低处
- B、顺沟方向往上游或下游逃生
- C、向两边的山坡上面逃生
- D、在泥石流中横渡

21. 全球气候变暖是世界各国所关注的问题, 造成温室效应最主要的气体是 ()。

- A、二氧化碳
- B、氮气
- C、臭氧
- D、氧气

22. 明清古典木质家具工艺精细, 不依靠钉子连接各个部分, 而是采用 () 的连接方式。

- A、电焊
- B、胶合
- C、榫卯
- D、滑轨

23. 不发酵茶, 以采摘适宜茶树新梢为原料, 不经发酵, 采用直接杀青、揉捻、干燥等典型工艺过程, 以区别经发酵制成的其他类型茶叶。其干茶色泽和冲泡后的茶汤、叶底均以绿色为主调。下列属于不发酵茶的是 ()。

- A、龙井
- B、黑茶
- C、红茶
- D、大红袍

24. 垃圾分类是减少环境污染、提高资源利用率的有效措施。下列不属于可回收垃圾的是 ()。

- A、塑料瓶
- B、报纸
- C、布鞋



D、果皮

25. 以下选项中, 属于能飞的哺乳动物的是 ()。

A、袋鼠

B、蝙蝠

C、天鹅

D、乌鸦

二、言语理解与表达, 本部分包括表达与理解两方面的内容。请根据题目要求, 在四个选项中选出一个最恰当的答案。

26. 广阔的东海大陆棚海底平坦, 水质优良, 又有多种水团交汇, 为各种鱼类_____了良好的繁殖、索饵和越冬条件。

填入划横线部分最恰当的一项是 ()。

A、提供

B、提及

C、提倡

D、提出

27. 周王朝的大小官职, 有很多是世代相承的, 这样就形成了“世卿世禄”的_____。同时, 还出现了不少以官职为氏号的家族。

填入划横线部分最恰当的一项是 ()。

A、场面

B、场合

C、局面

D、局域

28. 中国在唐朝时与亚欧国家均有往来, 因此唐朝文化_____, 接纳海内外各民族进行交流学习, 形成开放的国际文化。

填入划横线部分最恰当的一项是 ()。

A、百家争鸣

B、兼容并蓄

C、兼而有之

D、排斥异己

29. 科研成果走向市场并非_____, 中间试验环节是二者之间不可缺少的桥梁。

填入划横线部分最恰当的一项是 ()。

A、妙手偶得

B、心血来潮

C、守株待兔

D、一蹴而就



30. 将下列选项中的词语依次填入各句横线部分, 最恰当的一项是 ()。

①选择甜豆花或咸豆花反映的仅仅是个人口味的_____ , 无伤大雅。

②灾后如何妥善_____ 受灾居民是当前政府急需考虑的问题。

- A、癖好 安顿
- B、嗜好 安顿
- C、癖好 整顿
- D、嗜好 整顿

31. 大气中的臭氧吸收了大部分对生命有破坏作用的太阳紫外线, 对地球生命形成了天然的保护作用。_____ 平流层臭氧的含量减少, _____ 地面受到的紫外辐射的强度将会增加。依次填入划横线部分最恰当的一项是 ()。

- A、不但 而且
- B、虽然 但是
- C、如果 那么
- D、即使 因而

32. 围棋在中国经历了数千年的发展, 一向乐于动脑勤于动手的中国古代劳动人民_____ 给围棋注入了深厚的思辨内涵, _____ 产生了一大批堪称艺术杰作的棋具。

依次填入划横线部分最恰当的一项是 ()。

- A、不仅 同时也
- B、与其说 不如说
- C、之所以 是因为
- D、尽管 还是

33. 继 2016 年底全面推行河长制之后, 湖长制浮出水面_____。河流也好, 湖泊也罢, 本为一体, 都是大自然的_____ , 是江河水系、国土空间和生态系统的重要组成部分。

依次填入划横线部分最恰当的一项是 ()。

- A、顺其自然 血脉
- B、顺理成章 脉搏
- C、顺理成章 血脉
- D、顺其自然 脉搏

34. 不论是_____ 食品药品还是别的方面的弊病, 我们可以发现个案就抨击, 但不要轻易论断某一行业某一群体, 将猜疑、不信任_____ 到全体, 影响全社会的心理, 造成人与人之间的_____ 和敌意。

依次填入划横线部分最恰当的一项是 ()。

- A、检举 推广 疏远
- B、举报 扩展 疏远
- C、披露 发散 疏离



D、揭露 扩散 疏离

35. _____, 形势在发展, 时代在进步。要跟上时代前进步伐, 就不能身体已进入 21 世纪, 而脑袋还停留在冷战思维、零和博弈的旧时代。

填入划横线部分最恰当的一项是 ()。

- A、“功以才成, 业由才广”
- B、“国不以利为利, 以义为利也”
- C、“前事不忘, 后事之师”
- D、“明者因时而变, 知者随事而制”

36. 好的带头人要像一块吸铁石, 能够将党员群众紧紧凝聚在一起, 齐心协力; _____, 能够温暖和鼓舞人心, 一呼百应; 要像一面旗帜, 激发干事创业的热情, 带领大家走向更加美好的明天。

填入划横线部分最恰当的一项是 ()。

- A、要像一堵围墙
- B、要像一株小草
- C、要像一盆水
- D、要像一把火

37. ①宇宙因此有了“无穷无尽的希望”

②无穷多的六边形房间和联结各层各空间的旋梯, 构成了那个通过分类排序组织起来的百科全书图书馆的知识空间

③每本书都有 410 页纸, 每页有 40 行, 每行大约能写 80 个字母, 字母有 22 个, 3 个标点符号

④每个房间里都有若干书架, 每个书架有五个书栏, 每个书栏上有 32 册的书

⑤这些符号的排列组合, 将包含着世界知识发展延续的无限可能

⑥在大英博物馆时空交错的小径里和展厅间穿行, 我常想起博尔赫斯想象里的巴别尔图书馆

将上述句子组成语意连贯的语段, 排序最恰当的是 ()。

- A、⑥②③⑤④①
- B、⑥④③②①⑤
- C、⑥②④③⑤①
- D、②⑥④③⑤①

38. ①三教堂真美, 那里被群山环抱着, 山上树林密布, 杂树居多

②秋天, 满目的野菊花盛开, 白的、黄的、粉的

③春天, 漫山遍野的山花, 最先开的是山杏花, 雪白雪白的

④不久, 山桃花也开了, 粉红粉红的

⑤夏天, 大片大片的山梨花、槐树花、荆条花, 争奇斗妍

⑥到了老秋, 枫叶、菠篱叶, 漫山红遍

⑦冬天, 白雪覆盖松柏树和各种灌木丛, 远远看去, 犹如一幅幅水墨丹青

将上述句子组成语意连贯的语段, 排序最恰当的是 ()。



- A、①③⑤④②⑥⑦
- B、③⑤④②⑥⑦①
- C、①③④⑤②⑥⑦
- D、⑦②⑥⑤④③①

39. 青年马克思临近毕业、谋划前途时, 决心选择“最能为人类福利而劳动的职业”, 后来, 即使陷于没钱买面包的境地, 他也未曾背弃誓言。“年纪轻轻就干大事、年纪轻轻就丢性命”的战争年代, 青年贺龙抛弃高官厚禄、青年彭湃舍弃“乌鸦都飞不过”的万贯田产, 皆因“主义”而义无反顾。有了精神的觉醒, 一个人就不难做到处优而不养尊, 受挫而不短志, 就能够从高尚工作中收获快乐, 在舍我其谁中成就大写人生。

这段文字最恰当的标题是 ()。

- A、燃旺生命之火, 成就不凡人生
- B、觉醒之意识, 铸就无悔之青春
- C、肩负新使命, 踏上新征程
- D、青年的觉醒就是世界的未来

40. 人们生活在一个政府腐败的国家之时, 他们自身的生活满意度是较低的。幸福同样受到人际关系质量的影响, 这点是显而易见的。美国社会的发展使得人们通过财富判断一个人的价值和他们的行为, 而不是他们的正直程度。正如许多公司的总裁或是高层领导都对于一些商业犯罪行为予以承认, 但在支付了巨额的罚款之后, 他们依旧是受人尊敬之人, 依旧是白宫的常客, 因为他们依旧有钱。这样的情况, 中国一样在发生。

这段文字中, “这样的情况”具体指的是 ()。

- A、人际关系质量越好, 人们的幸福感越高
- B、人们对自身生活的满意度较低
- C、一个人能否受到尊敬与正直程度没有关系
- D、人们通过财富来判断一个人的价值和行为

41. 渤海水质肥沃, 营养盐含量高, 饵料生物十分丰富, 浮游植物年生产量 1.4 亿吨, 鱼类年生产量 49 万吨。渤海是黄渤海渔业的摇篮, 是多种鱼、虾、蟹、贝类繁殖生长的良好场所, 故有“聚宝盆”之称。对虾、毛虾、小黄鱼、带鱼, 是其最重要的经济种类。

这段文字主要介绍了 ()。

- A、渤海的著名海产品
- B、渤海渔业资源丰富
- C、渤海的渔业经济发达
- D、渤海的水质情况

42. 红点奖这个“源于德国”的大奖, 近年来逐渐地“去德国化”, 成为一个国际性的大奖。这不仅体现在参赛者的国别组成, 也体现在评审团的国际化上。如今, 随着德国评审人数减少, 评委团已成为



真正的“多国部队”。主办方规定,在每一届的评审团中,德国评审最多不能超过评委人数的20%,而实际情况远远低于这个规定,一般不超过10%。

对于这段话的主要内容概括最准确的是()。

- A、红点奖中德国评审的人数趋减
- B、红点奖的“去德国化”趋势
- C、红点奖的参赛者来自世界各地
- D、红点奖的评审团日益国际化

43. 互联网成为越来越多公众获取相关医学健康知识的重要渠道。据调查显示,39%的用户在患病时会先自行网上搜索。然而,信息繁杂找不到、专业知识看不懂、医疗广告分不清的三大问题成为公众面对互联网医学科普的最大困扰。同时,借助互联网进行健康科普的平台也层出不穷,但同样差强人意。

这段文字接下来最有可能介绍的是()。

- A、如何有效地扩大医学专业知识的推广
- B、公众通过互联网获取医学知识的最大困扰
- C、为大众提供高质量医学科普的重要性
- D、人民群众对健康的需求日益提高的表现

44. 每年电商促销期间,常爆出电商巨头让卖家“二选一”,令其自断后路,抱紧“一条大腿”。微信封杀淘宝客、苹果与微信打赏风波等事件,直接影响人们的生活,甚至扰乱市场秩序,严重者造成部分业态瘫痪。随着流量红利褪去,马太效应开始显现。许多互联网企业应用,已经深入渗透并改变着我们生活的方方面面。

这段文字接下来最有可能谈论的是()。

- A、电商的促销策略
- B、电商削弱了人们的消费的能力
- C、互联网企业如何快速扩张
- D、互联网企业如何盈利

45. 中国最先胖起来的一代诞生于饥荒之后,饥饿的记忆告诉他们的大脑要不断储存热量,因此对于食物有着穷凶极恶的热情。肥胖者说:“我什么都缺,所以我什么都吃。”而新型的城市中产说:“我什么都不缺,所以我什么都不吃。”戒糖、戒油,戒一切因为过于幸福而让灵魂出窍的食物。在跑步这个近乎受苦的单调运动中,把过剩的能量呕吐出来,中产再次掌握了自己的身体。

根据这段话,下列选项中最有可能与该作者观点一致的是()。

- A、当今社会物质丰富,人们已经不再懂得珍惜食物
- B、新型的城市中产物质条件优越,其追求不再停留在低层次的需求上
- C、现代人的满足感和幸福感比以前低了
- D、健康意识的提高使得当今社会的肥胖率越来越低

46. 我在组织读川端康成的《雪园》时,阅读者身份不同、经历相别、学养不一,读出的感受截然不同。一个人容易陷入长期养成的阅读习惯而缺少创新式阅读升华,而读书会则会让人跳出阅读泥潭,思



维活跃起来。所以, 从某种意义上说, 参加一次读书会, 相当于把一本书从不同的视角读了多遍, 对文本本身的理解加深了, 自然也就有了新收获。

这段话意在强调 ()。

- A、读书会能让参与者对同一本书从多个角度进行品鉴
- B、读书会上与书友的辩论能让人对一本书的认识加深
- C、形式各异的读书会给各类读者提供了广阔的空间
- D、参加读书会的好处之一是能让人结识到更多书友

47. 丹麦哥本哈根被公认为全球最宜居、最健康的城市之一, 糖尿病患病率只有 5.1%。然而对于哥本哈根来说, 重点要解决的是健康不平等问题。哥本哈根的初步研究表明: 受教育程度低的居民患糖尿病和出现高患病风险的概率是受教育程度较高的居民的两倍, 失业居民患糖尿病和出现高患病风险的概率明显高于同龄受雇居民, 非西方背景人群患糖尿病的概率是西方背景人群的两倍。

关于这段话, 以下理解正确的是 ()。

- A、在哥本哈根的不同社会群体中, 糖尿病的患病率和患病风险存在较大差异
- B、在哥本哈根, 受教育程度与糖尿病的患病率和患病风险呈正相关
- C、糖尿病患病率是判断一个城市是否宜居的最重要指标
- D、非西方背景人群不健康的饮食习惯是造成其患上糖尿病的重要因素

48. 加班是个容易引发争论的话题, 是出自“自愿”还是“被自愿”似乎很难说得清。其实, 有些工作完全可以在上班时间完成, 提高工作效率就可以减少无谓加班。关于加班费, 有关部门的回应没毛病, 员工再纠结也要以法律规定为准绳。

根据这段文字, 下列理解正确的是 ()。

- A、作者并不赞成给员工发加班费
- B、提高工作效率可以减少加班时间
- C、法律并没有关于加班费如何派发的规定
- D、只要提高工作效率就可以不加班

49. 据我国音乐理论家钱仁康先生考证, 《茉莉花》是“流传到海外的第一首中国民歌”。在这一点上, 约翰·巴罗功不可没。正是他在欧洲音乐史上最早对《茉莉花》采用五线谱记谱并翻译了英语歌词, 才使得乾隆年间《茉莉花》的完整曲调得以保存下来, 并在短短三四年间, 广泛在欧洲各国流传, 甚至有了英、法、荷、德等不同文字的版本。在 19 世纪德国、英国、丹麦、美国等西方音乐家所编著的音乐史著作和音乐曲谱中, 巴罗记录下的《茉莉花》均被作为东方音乐的典型加以介绍。

下面说法正确的是 ()。

- A、《茉莉花》是约翰·巴罗创作的
- B、《茉莉花》英文版最早是约翰·巴罗翻译的
- C、最早的《茉莉花》是用五线谱记谱的
- D、《茉莉花》是中国第一首民歌



50. 有研究称, 高纬度的强火山爆发可对全球气候系统造成多年影响。中国新闻网在报道中指出, 科学家们认为, 如果北半球高纬度地区夏季发生大规模火山爆发, 那么便会造成北半球温度显著下降; 火山爆发后 8-9 个月内, 大气和太平洋洋流循环都可能因此产生变化, 令大太平洋中西部的信风减弱, 造成类似厄尔尼诺现象的效应。如环球网报道的冰岛在 1783 年拉基火山喷发, 当时的火山活动不仅改变了当地气候模式, 还造成不列颠岛许多人的死亡, 欧洲西部农业减产, 饥荒蔓延。

根据这段文字, 下面说法正确的是 ()。

- A、火山爆发对全球气候系统造成多年影响
- B、假如冰岛火山爆发, 太平洋西部便会出现厄尔尼诺现象
- C、7 月份高纬度的火山爆发时所在地区气温下降
- D、火山喷发可能造成严重灾害

(一)

吉尼斯世界纪录和趣味有关, 也和无聊有关。27 个法国人用牙签搭建了微型的埃菲尔铁塔, 一个美国人收集了 600 余双匡威运动鞋, 一个古巴人做出了世界上最长的雪茄。吉尼斯就是无聊大观园, 没有想不到, 也不存在做不到。但太无聊的纪录连吉尼斯也会望而生畏, 有人注册了互联网时代以来最长的域名, 长达 70 个字符, 当域名的主人找到吉尼斯组委会申请纪录时被婉然拒绝, 理由是: 曾经不断有神经病宣称自己发现了世界上最大的数字, 要求载入纪录。我们可以无聊, 但不能过分。

挪威学者在《无聊的哲学》中说: 无聊是现代人的专利, 人类的快乐与愤怒是保持不变的, 然而当下人们的无聊感却是与日俱增, 世界明显变得越来越无聊。在人类历史的绝大部分时间, 无聊是身份的象征。这话自有道理, 我们发现了天然气, 发明了电饭煲, 把厨房变成全自动化, 腾出了双手, 省出了时间, 那些凭空多出来的分秒该如何消耗? 人类每被自己的发明解放一次, 就离无聊更近一步。

无聊曾经是需要物质作为基础的, 英国贵族发明了下午茶, 法国贵族觉得为一顿丰盛的晚餐等待两个小时并不算过分, 当其余人都在奔忙时, 无聊是他们的专属权利。但现在, 谷歌都在搭建 1G 带宽的跨海网络电缆了, 无聊的成本越来越低, 蔓延至社会的各个角落, 已经不再有排他性——坐长途飞机的商务人士会感到百无聊赖, 挤在地铁上的上班族也觉得拥堵的生活实在, 只有无聊感是没有阶级性的。

看看苹果公司的联合创始人史蒂夫·沃兹尼克是怎样实践无聊的, 这位为苹果立下奇功的人最喜欢的事情是用电烙铁复制软盘, 没事找事计算 e 值算到小数点后十万位 (用电脑计算要花三天, 打印要四个月), 老外的无聊之道总隐约带有科学属性和商业属性, 要么就像英国人那样研究下午茶该吃什么, 开化出全新的休闲生活。中国人的无聊则异化为生活本身, 你问问自己为什么每天上网 16 个小时, 是为了消除无聊还是不由自主的惯性使然?

51. 根据原文, 关于吉尼斯世界纪录的说法, 不正确的是 ()。

- A、有的吉尼斯世界纪录是很无聊的
- B、世界上并不存在“最长”域名
- C、吉尼斯世界纪录也无法忍受过分的无聊
- D、能否入选吉尼斯世界纪录, 关键在于趣味性

52. 填入文中划横线部分的词语最恰当的是 ()。



- A、痛苦不堪
- B、乏善可陈
- C、普普通通
- D、忍无可忍

53. 下列说法符合文意的是 ()。

- A、上网就是为了消除无聊
- B、无聊是没有阶级性的
- C、人的欲望决定了人的无聊
- D、无聊从不需要物质基础

54. 根据原文, 下列分析不正确的是 ()。

- A、从趋势上讲, 世界正变得越来越无聊
- B、发明带来便捷, 但人们却没因此增加更多的趣味性
- C、中国人的无聊与世界上其他国家没什么不同, 但更注重生活
- D、侧面上, 外国人的无聊中可能具有科学性与商业性

55. 根据文章的内容, 下列最适合作为本文标题的是 ()。

- A、无聊的本质
- B、无聊的象征
- C、无聊的生活
- D、无聊的中外之别

三、数量关系, 在四个选项中选出一个最恰当的答案。

56. 某年级共有教师 20 名, 其中英语教师 4 名, 从该年级中选取一位教师到外地培训, 选中英语教师的概率是 ()。

- A、12%
- B、15%
- C、18%
- D、20%

57. 某七位领导给 A 职员打的年终绩效平均分为 88 分, 若去掉最低分, 平均分可提高到 92 分, 则最低分为 () 分。

- A、58
- B、60
- C、64
- D、67

58. 某酒店现有若干间空房, 现需要安排一家旅游团住宿, 如果每间房安排 4 人, 那么还有 2 名旅客没有住房, 如果每间安排 5 人, 那么留下一间房不空也不满, 则该酒店的空房最多有 () 间。

- A、3



B、4

C、5

D、6

59. 某玩具店进了一批新玩具, 按每个 3 元的利润卖出 8 个的钱与按每个 8 元的利润卖出 7 个的钱一样多, 则该种玩具的进价是 () 元。

A、12

B、28

C、32

D、38

60. 小皮去购置年货, 他想要买三种饼干, A 种每盒 7 元, B 种每盒 4 元, C 种每盒 3 元, 买 10 盒饼干共用 48 元, 那么 A~C 这三种饼干小皮可能各买了 () 盒。

A、3、3、4

B、4、3、3

C、4、2、4

D、5、2、3

61. 某中学举行运动会, 入场仪式要求 100 个运动员中有 50 个要穿蓝色运动服, 有 60 个要穿灰色运动裤, 还有 20 个运动员既不能穿蓝色运动服也不能穿灰色运动裤。那么一共有 () 个运动员既穿蓝色运动服也穿灰色运动裤。

A、30

B、34

C、40

D、42

62. 一次抽奖活动中, 抽奖箱里有一等奖 3 个, 二等奖 10 个, 三等奖 30 个, 最少从中抽 () 次, 才能保证能抽到一等奖 (抽出的奖不再放回)。

A、10

B、33

C、40

D、41

63. 张某驱车从甲地前往乙地, 如果早上 8 点出发, 每小时行车 100 公里, 下午 4 点就可到达乙地。现将速度改为每小时行车 80 公里, 则 () 点可到达乙地。

A、17 点

B、18 点

C、19 点

D、20 点



64. 甲、乙两港口相距 360 千米, 某船只从甲港口顺流而下至乙港口需要 4.5 小时, 从乙港口返回至甲港口所花的时间为顺流的 2 倍。假设该船只的静水速度一定, 则该河的水流速度为 () 千米/小时。

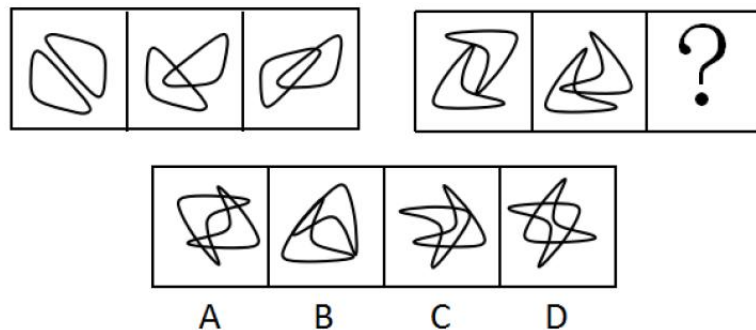
- A、12
- B、15
- C、18
- D、20

65. 有两个长方体容器, 其底面积不同。现将两个体积为 24 立方厘米的铁块分别放入这两个容器, 甲容器的水位上升 4 厘米, 乙容器的水位上升 6 厘米, 则甲容器与乙容器的底面积之比为 ()。

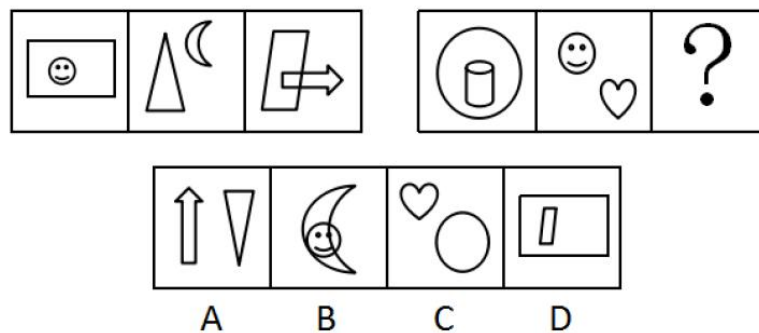
- A、1: 1
- B、2: 3
- C、3: 2
- D、3: 4

四、判断推理, 本部分包括图形推理、类比推理、定义判断、逻辑判断、事件排序五种类型的题目, 在四个选项中选出一个最恰当的答案。

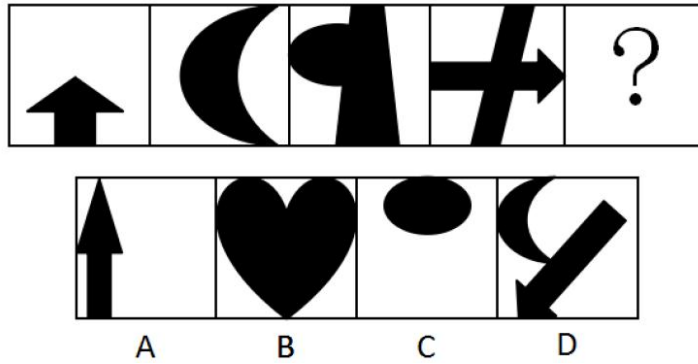
66. 根据所给图形的既有规律, 选出一个最合理的答案。()



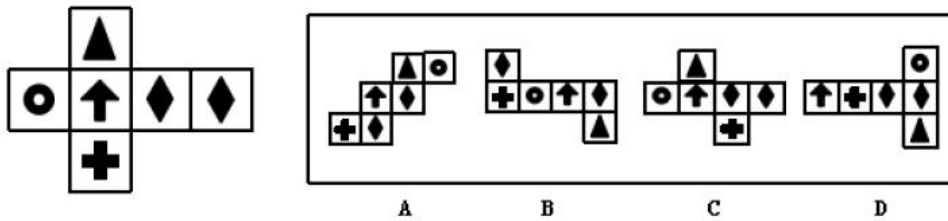
67. 根据所给图形的既有规律, 选出一个最合理的答案。()



68. 根据所给图形的既有规律, 选出一个最合理的答案。()



69. 左边给定的是纸盒的外表面展开图, 下列能与给定项折成外表完全相同的纸盒的是 ()。



70. 把下面的六个图形分为两类, 使每一类图形都有各自的共同特征或规律, 分类最为恰当的一项是 ()。



- A、①②③, ④⑤⑥
- B、①②④, ③⑤⑥
- C、①⑤⑥, ②③④
- D、①③④, ②⑤⑥

71. 耦合效应也称互动效应, 是指群体中两个或以上的个体通过相互作用而彼此影响从而联合起来产生增力的现象。根据上述定义, 下列不属于耦合效应的是 ()。

- A、众人拾柴火焰高
- B、人心齐, 泰山移
- C、坐山观虎斗
- D、相辅而行, 相得益彰



72. 心理暗示是人们为了某种目的, 在无对抗的条件下, 用含蓄的、间接的方式发出一定的信息, 使他人或自己接受所示意的观点、意见, 或按所示意的方式进行活动。根据上述定义, 下列不属于心理暗示的是 ()。

- A、望梅止渴
- B、杯弓蛇影
- C、草木皆兵
- D、知己知彼

73. 彼得潘综合征, 是指成年人面对社会的剧烈竞争和残酷倾轧, 越来越多的人喜欢“装嫩”, 行事带有孩子气, 渴望回归到孩子的世界。往往表现为不敢承担责任、情绪化、依赖他人、以自我为中心等。根据上述定义, 下列属于彼得潘综合征的是 ()。

- A、小赵到了结婚的年龄, 但又不想工作赚钱养家, 于是依然我行我素, 继续在家打游戏啃老
- B、小华长了张娃娃脸, 尽管他现在已经二十多岁了, 看上去还像一个高中生
- C、初中生楠楠因为学习压力而情绪不佳, 回到家经常向父母发脾气, 还想着离开校园做回无忧无虑的孩子
- D、王总因为一单生意没谈好, 而向他的下属员工大发雷霆

74. 维权是指为维护个人或群体的合法权益所进行的行政及司法诉讼。维权的范围可能包括人身损害、土地纠纷、医疗事故、婚姻、家庭, 继承等民事纠纷。根据上述定义, 下列不属于维权的是 ()。

- A、会所更名, 会员要求会员卡依旧有效
- B、要求损坏快递物品的人员赔偿费用
- C、为进城务工农民追讨工资
- D、老师必须给成绩好的学生精神表扬

75. 网络犯罪是针对和利用网络进行的犯罪, 其本质特征是危害网络及其信息的安全与秩序。根据上述定义, 下列不属于网络犯罪的是 ()。

- A、肖某通过互联网贩卖色情视频
- B、赵某与网友钟某见面后垂涎钟某的美色, 将其强暴
- C、甘某在网络上散播不利于国家团结的谣言, 以假乱真
- D、杨某通过短信向多名市民发送含木马病毒的网址, 以此盗取他人钱财

76. 阴雨天气容易发生交通事故, 所有新手司机都发生过汽车追尾事故, 只有发生事故的车辆才能占用应急车道。如果以上陈述为真, 以下陈述必然为真的是 ()。

- A、所有新手司机都没有占用过应急车道
- B、阴雨天时占用应急车道的车辆都是新手司机驾驶的车辆
- C、新手司机在阴雨天时都占用过应急车道
- D、占用应急车道的车辆都是发生了交通事故的车辆



77. 某单位有 30 名工作人员, 有以下说法: ①所有人都是理工科毕业的; ②有人不是理工科毕业的; ③小李不是理工科毕业的。若上述三个说法中只有一个为假, 那么下列判断一定为真的是 ()。

- A、该单位所有人都不是理工科毕业的
- B、该单位至多有一人是理工科毕业的
- C、该单位至少有一人不是理工科毕业的
- D、该单位所有人都是理工科毕业的

78. 甲、乙、丙三个人都很喜欢音乐, 且每人只喜欢流行、摇滚、民谣中的一种。小红猜测到: 甲喜欢民谣, 乙不喜欢民谣, 丙不喜欢民谣。但是她只猜对了其中一个人的喜好。由此可知 ()。

- A、甲喜欢摇滚, 乙喜欢民谣, 丙喜欢流行
- B、甲喜欢民谣, 乙喜欢摇滚, 丙喜欢流行
- C、甲喜欢民谣, 乙喜欢流行, 丙喜欢民谣
- D、甲喜欢流行, 乙喜欢民谣, 丙喜欢民谣

79. 某个盒子中共有四张带有图案的卡片, 已知卡片上的图案分别为花、鸟、鱼三种, 现在让小明、小雨、小娜和小芳四人从盒子中抽取卡片。已知小明和小雨所抽到的卡片上的图案相同, 小娜和小芳所抽到的卡片都不带有鸟的图案, 则以下推断必然不正确的是 ()。

- A、小明抽到的卡片上带有鸟的图案
- B、小雨抽到的卡片上带有鱼的图案
- C、小娜抽到的卡片上带有花的图案
- D、小芳抽到的卡片上带有鱼的图案

80. 有人在网上发文称, 锂电池存在剧毒、短命、易爆炸等缺点, 且全世界至今都没有妥善的废电池处理方法。若以下论断为真, 最能反驳题干结论的是 ()。

- A、有证据指出, 锂电池的电解液为剧毒的有机溶剂
- B、与传统电池相比, 锂电池不产生任何有毒、有害金属元素和物质, 污染相对较小
- C、调查显示, 民众大都不清楚锂电池是否有毒, 是否会对环境造成严重污染
- D、锂电池的分解产物中含有氟化物和其他含氟化合物, 具有放射性和毒性

81. 与“黄酒: 酒精”这组词逻辑关系最为相近的一项是 ()。

- A、牡丹: 鲜花
- B、水分子: 水
- C、火车: 司机
- D、文章: 文字

82. 与“异口同声: 众说纷纭”这组词逻辑关系最为相近的一项是 ()。

- A、博古通今: 知书达理
- B、深谋远虑: 目光短浅
- C、察言观色: 旁敲侧击
- D、坚持不懈: 一时大意



83. 与“园丁: 教师: 教学”这组词逻辑关系最为相近的一项是 ()。

- A、希望: 孩子: 男性
- B、白衣天使: 医生: 治病
- C、军人: 战士: 战争
- D、公务员: 仆人: 管理

84. 与“轮船: 汽车: 摩托车”这组词逻辑关系最为相近的一项是 ()。

- A、书本: 书立: 书柜
- B、显示屏: 计算机: 手机
- C、锅盖: 燃气灶: 烹饪
- D、电话: 传真: 通讯工具

85. () 对于“矿石”相当于“驯服”对于 ()。

- A、流星养殖
- B、资源手段
- C、勘探猛兽
- D、开采温顺

五、资料分析, 本部分包括文字、图示和表格三种类型的题目, 你应根据提供的资料信息进行分析、比较、计算、处理。

(二)

根据以下材料, 回答 86~90 题。

2017 年 1-10 月, 广东省规模以上工业综合能源消费量 13068.72 万吨标准煤, 同比增长 8.2%, 增幅同比加快 6.7 个百分点, 与前三季度持平。

一、重工业能耗保持较快增长。1-10 月, 广东重工业综合能源消费量 11061.47 万吨标准煤, 同比增长 9.8%, 增幅同比加快 7.7 个百分点, 与前三季度持平, 拉动全省规模以上工业能耗增长 8.1 个百分点; 轻工业综合能源消费量 2007.25 万吨标准煤, 增长 0.1%, 增幅同比加快 1.2 个百分点, 比前三季度回落 0.2 个百分点。

二、制造业能耗平稳增长。1-10 月, 在工业 41 个行业大类中, 有 28 个行业能耗保持正增长。其中, 制造业综合能源消费量增长 5.9%, 增幅同比加快 0.2 个百分点, 与前三季度持平, 拉动全省规模以上工业能耗增长 3.8 个百分点。

三、六大高耗能行业能耗增长较快。1-10 月, 广东六大高耗能行业综合能源消费量 10049.81 万吨标准煤, 增长 9.9%, 增幅同比加快 7.7 个百分点, 比前三季度回落 0.2 个百分点, 拉动全省规模以上工业能耗增长 7.5 个百分点。其中, 能耗增速同比加快的行业为: 电力、热力生产和供应业, 增长 12.1%, 增幅同比加快 17.0 个百分点, 比前三季度回落 0.3 个百分点, 拉动六大高耗能行业能耗增长 5.6 个百分点, 拉动全省规模以上工业能耗增长 4.2 个百分点; 石油加工、炼焦和核燃料加工业综合能源消费量增长 7.4%, 增幅同比加快 4.7 个百分点, 比前三季度加快 1.8 个百分点; 非金属矿物制品业综合能源消费量增长 4.8%, 增幅同比加快 2.7 个百分点, 比前三季度加快 0.3 个百分点; 有色金属冶炼和压延加工业



综合能源消费量增长 3.0%, 增幅同比加快 5.3 个百分点, 比前三季度加快 0.9 个百分点。能耗增速同比回落的行业是: 黑色金属冶炼和压延加工业综合能源消费量增长 19.8%, 增幅同比回落 27.9 个百分点, 比前三季度回落 2.0 个百分点; 化学原料和化学制品制造业综合能源消费量增长 2.5%, 增幅同比回落 1.2 个百分点, 比前三季度回落 0.5 个百分点。

四、珠三角和山区能耗保持平稳增长, 东翼和西翼能耗增长较快。1-10 月, 珠三角规模以上工业综合能源消费量 7495.61 万吨标准煤, 增长 5.6%, 增幅同比加快 6.7 个百分点, 比前三季度加快 0.4 个百分点; 东翼规模以上工业综合能源消费量 1435.04 万吨标准煤, 增长 18.5%, 增幅同比加快 26.4 个百分点, 比前三季度加快 0.7 个百分点; 西翼规模以上工业综合能源消费量 2249.74 万吨标准煤, 增长 15.9%, 增幅同比回落 3.4 个百分点, 比前三季度回落 2.3 个百分点; 山区规模以上工业综合能源消费量 1888.33 万吨标准煤, 增长 3.1%, 增幅同比加快 0.2 个百分点, 与前三季度持平。

86. 2016 年 1-10 月, 广东省规模以上工业综合能源消费量约为 () 万吨标准煤。

- A、14236.08
- B、14007.21
- C、13089.21
- D、12078.30

87. 2017 年 1-9 月广东六大高耗能行业综合能源消费量的增幅比 2016 年 1-10 月 ()。

- A、高 7.9 个百分点
- B、高 2.2 个百分点
- C、低 7.9 个百分点
- D、低 2.2 个百分点

88. 2017 年 1-10 月, 广东六大高耗能行业中, 能耗增速同比加快的行业有 () 个。

- A、6
- B、5
- C、4
- D、3

89. 2016 年 1-10 月, 广东省规模以上工业综合能源消费量最高的是 ()。

- A、珠三角
- B、东翼
- C、西翼
- D、山区

90. 根据以上材料, 下列说法不正确的是 ()。

- A、2017 年 1-10 月, 广东重工业综合能源消费量比轻工业综合能源消费量多 9054.22 万吨标准煤
- B、2016 年 1-10 月, 广东制造业综合能源消费量增长 6.1%
- C、2016 年 1-10 月, 广东六大高耗能行业综合能源消费量约 9144.50 万吨标准煤
- D、2017 年 1-9 月, 黑色金属冶炼和压延加工业综合能源消费量增长 21.8%



(三)

根据以下资料, 回答 91~95 题。

2017 年 1-4 月份全国规模以上工业企业主要财务指标表

经济类型分组	营业成本		其中: 主营
	1-4 月 (亿元)	同比增长 (%)	1-4 月 (亿元)
总计	328438.4	13.6	322348.4
其中: 采矿业	14062.8	18.4	13397.7
制造业	295514.4	13.5	290298.9
电力、热力、燃气及水生产和供应业	18861.2	11.2	18651.8
其中: 国有控股企业	69255.0	17.0	66349.0
其中: 集体企业	1826.8	5.5	1753.2
股份制企业	233587.4	14.6	229196.0
外商及港澳台商投资企业	72203.1	11.2	70936.4
其中: 私营企业	115248.6	12.5	114378.2

(注: 经济类型分组之间存在交叉, 故各经济类型企业数据之和大于总计)

91. 2016 年 1-4 月份, 私营企业的营业成本均为 () 亿元。

- A、92435.3
- B、102443.2
- C、284257.4
- D、231934.5

92. 2017 年 1-4 月份, 全国规模以上工业企业中, 营业成本同比增长最快的工业企业类型是 ()。

- A、制造业
- B、国有控股企业
- C、采矿业
- D、股份制企业

93. 2017 年 1-4 月份, 全国规模以上工业企业中, 主营业务成本的同比增长速度超过总体同比增长速度的工业企业类型有 () 个。

- A、1
- B、2
- C、3
- D、4

94. 2017 年 1-4 月份, 全国规模以上工业企业营业成本最高的工业企业类型约为营业成本最低的工业企业类型的 () 倍。

- A、180
- B、128
- C、162
- D、137

95. 根据上述材料, 下列说法有误的是 ()。



A、2017 年 1-4 月份, 外商及港澳台商投资企业的主营业务成本约占营业成本的 98%

B、2016 年 1-4 月份, 制造业的主营业务成本约为 255770 亿元

C、2017 年 1-4 月份, 全国规模以上工业企业中, 营业成本的同比增长速度超过总体同比增长速度的类型有 4 个

D、2017 年 1-4 月份, 全国规模以上工业企业中, 主营业务成本同比增长最快的工业企业类型是采矿业和国有控股企业

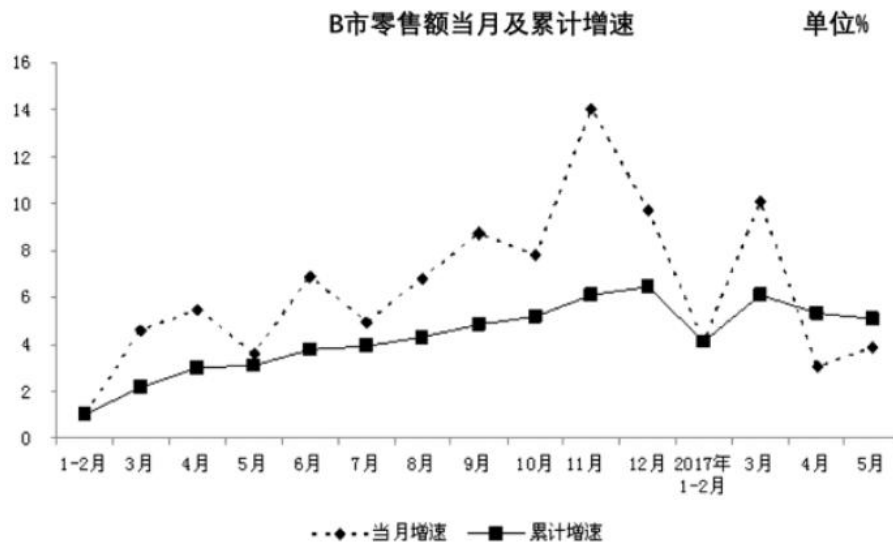
(四)

根据下列资料, 回答 96~100 题。

2017 年 1-5 月, B 市实现社会消费品零售总额 4283.6 亿元, 同比增长 5.1%, 增速较 1-4 月回落 0.2 个百分点。

从商品用途看, 吃、穿、用和烧类商品分别实现零售额 980.3 亿元、312.3 亿元、2785.3 亿元和 205.9 亿元, 同比分别增长 7.9%、2.9%、4.6%和 1.8%。

限额以上单位商品类值中, 汽车类商品实现零售额 790 亿元, 同比增长 6.3%, 拉动社会消费品零售总额增长 1.2 个百分点; 文化办公用品类商品实现零售额 195.3 亿元, 同比增长 12.4%, 拉动社会消费品零售总额增长 0.5 个百分点; 家用电器和音像器材类商品实现零售额 193.4 亿元, 同比增长 18.1%, 拉动社会消费品零售总额增长 0.7 个百分点。



96. 2017 年 1-4 月, B 市社会消费品零售总额同比增长 ()。

- A、5.3%
- B、4.6%
- C、5.6%
- D、4.9%

97. 2016 年 5 月-2017 年 5 月, B 市社会消费品零售总额当月增速最慢出现在 (), 最快出现在 ()。

- A、2017 年 4 月 2016 年 11 月
- B、2017 年 3 月 2016 年 11 月



C、2017 年 4 月 2016 年 12 月

D、2016 年 5 月 2017 年 3 月

98. 按照 2017 年 1-5 月的增长速度, 2018 年 1-5 月 B 市社会消费品零售总额将突破 () 亿元。

A、5005

B、4952

C、4513

D、4502

99. 2017 年 1-5 月, B 市汽车类商品零售额比家用电器和音响器材类商品零售额约 ()。

A、多 4.1 倍

B、多 3.1 倍

C、少 4.1 倍

D、少 3.1 倍

100. 根据所给资料, 下列说法不正确的是 ()。

A、2016 年全年, B 市社会消费品零售额累计增速逐月上升

B、2017 年 3 月, B 市社会消费品零售额当月增速超过 10%

C、2016 年 1-5 月, B 市汽车类商品实现零售额已超 700 亿元

D、2017 年 1-5 月, B 市用类商品零售额占该市社会消费品零售额的比重不足 50%

参考答案

1. A

解析

本题考查时政的相关知识。

A 项正确, 2017 年 12 月 31 日, 国家主席习近平发表二〇一八年新年贺词。贺词中强调“2018 年, 我们将迎来改革开放 40 周年。改革开放是当代中国发展进步的必由之路, 是实现中国梦的必由之路。我们要以庆祝改革开放 40 周年为契机, 逢山开路, 遇水架桥, 将改革进行到底”。

B 项错误, 澳门于 1999 年 12 月 20 日回归祖国, 2018 年是澳门回归 19 周年。

C 项错误, 新中国于 1949 年 10 月 1 日成立, 2018 年是新中国成立 69 周年。

D 项错误, 1979 年 4 月邓小平首次提出要开办“出口特区”, 后于 1980 年 3 月将“出口特区”改名为“经济特区”, 2018 年是设立经济特区 38 周年。

故正确答案为 A。

2. A

解析

本题考查时政知识。

2018 年 1 月 19 日 12 时 12 分, 我国在酒泉卫星发射中心用长征十一号运载火箭, 以“一箭六星”方式成功将吉林一号视频 07 星、08 星和四颗小卫星精确送入预定轨道。此次发射是我国长征系列运载火箭



的第 264 次发射。此次发射任务是长征十一号火箭首次“全商业发射”, 也是我国固体运载火箭首次向国际用户提供发射服务。

故正确答案为 A。

3. A

解析

本题考查马克思主义哲学。

A 项正确, 整体和局部是辩证统一的关系, 整体由局部构成, 局部离不开整体, 关键局部的功能对整体的功能起决定性作用。农业、农民、农村是局部, 而且是关键局部, 全国、国家、天下是整体。题干体现了整体由局部构成, 关键局部的功能会对整体功能起决定作用。

B 项错误, 原因和结果是反映事物或现象间的引起和被引起关系的一对哲学范畴。二者有确定的界限和先后次序。同时二者又相互依存、相互联系、相互作用, 并在一定条件下相互转化。题干不体现。

C 项错误, 偶然和必然是揭示事物发生、发展和灭亡的不同趋势的一对范畴。二者产生的根据不同, 在事物发展过程中所处的地位和作用不同。同时二者又相互依存, 相互渗透, 在一定条件下可以相互转化, 相互过渡。题干不体现。

D 项错误, 对立统一规律是唯物辩证法的实质和核心。它揭示了任何事物以及事物之间都包含着矛盾, 事物矛盾双方的对立和统一, 推动事物的运动、变化和发展。题干不体现。

故正确答案为 A。

4. D

解析

本题考查马克思主义哲学。

A 项错误, 联系具有普遍性, 是指任何事物内部的不同部分和要素都是相互联系的, 任何事物都同其他事物处于一定的相互联系之中, 整个世界是相互联系的整体。题干不体现。

B 项错误, 矛盾双方相互依存体现了矛盾的统一性, 即二者共处于一个统一体中, 并在一定条件下可以相互转化。题干不体现。

C 项错误, 主观能动性与客观条件二者是辩证统一的。首先, 要尊重客观规律, 发挥人的主观能动性必须以承认规律的客观性为前提; 其次, 在尊重客观规律的基础上, 要充分发挥人的主观能动性。题干不体现。

D 项正确, 尊重客观规律是发挥主观能动性的前提, 只有认识了客观规律, 按客观规律办事, 才能有效地发挥主观能动性, 否则就会受到规律的惩罚。“揠苗助长”就是过渡重视发挥主观能动性, 而忽略了农作物生长的客观规律。

故正确答案为 D。

5. D

解析

本题考查刑法相关知识。



A 项错误,《中华人民共和国刑法》第二十二条规定:“为了犯罪,准备工具、制造条件的,是犯罪预备。对于预备犯,可以比照既遂犯从轻、减轻处罚或者免除处罚”。题干中甲已经实施了犯罪行为,故其行为不属于犯罪预备。

B 项错误,《中华人民共和国刑法》第二十四条规定:“在犯罪过程中,自动放弃犯罪或者自动有效地防止犯罪结果发生的,是犯罪中止。对于中止犯,没有造成损害的,应当免除处罚;造成损害的,应当减轻处罚”。题干中甲砍伤了乙,并没有放弃犯罪,故甲的行为不属于犯罪中止。

C 项错误,根据《刑法》第二十条第一款规定:“为了使国家、公共利益、本人或者他人的人身、财产和其他权利免受正在进行的不法侵害,而采取的制止不法侵害的行为,对不法侵害人造成损害的,属于正当防卫,不负刑事责任。”甲乙发生争执,甲把乙砍伤且死亡,甲的行为已经构成犯罪。故甲的行为不属于正当防卫。

D 项正确,过失杀人罪规范表达应当为过失致人死亡罪。根据《中华人民共和国刑法》第二百三十三条规定:“过失致人死亡罪,是指行为人因疏忽大意没有预见到或者已经预见到而轻信能够避免造成的他人死亡,剥夺他人生命权的行为。”甲将乙砍伤,后因失血过多死亡,甲并没有预见自己的行为可能造成乙死亡。故甲的行为属于疏忽大意的过失致人死亡。

故正确答案为 D。

6. D

解析

本题考查宪法的相关知识。我国《宪法》第三十七条规定:“中华人民共和国公民的人身自由不受侵犯。任何公民,非经人民检察院批准或者决定或者人民法院决定,并由公安机关执行,不受逮捕。禁止非法拘禁和以其他方法非法剥夺或者限制公民的人身自由,禁止非法搜查公民的身体。”小李搜查小蔡的衣服口袋,属于非法搜查公民身体,侵犯了小蔡的人身自由权。

故正确答案为 D。

7. B

解析

本题考查经济常识。外部性指一个人或一群人的行动和决策使另一个人或一群人受损或受益的情况,分为正外部性和负外部性。

A 项错误,正外部性是某个经济行为个体的活动使他人或社会受益,而受益者无须花费代价。题干中王某并未受益,不属于正外部性效果。

B 项正确,负外部性是某个经济行为个体的活动使他人或社会受损,而造成负外部性的人却没有为此承担成本。陈某的狗影响了王某的休息,自己掏钱买安眠药,陈某没有替其承担,属于负外部性效果。

C 项错误,零和外部性即没有外部性,也就是个体的活动对他人没有造成影响。陈某的狗对王某的睡眠产生了影响,故不属于零和外部性。

D 项错误,经济的外部性对双方当事人带来的影响不会相互抵消。选项说法错误。

故正确答案为 B。

8. D



解析

本题考查经济常识相关知识。

生产与消费的辩证关系: (1) 生产决定消费。①生产决定消费的对象; ②生产决定消费的方式; ③生产决定消费的质量和水平; ④生产为消费创造动力。(2) 消费对生产具有重要的反作用, 消费的发展促进生产的发展。①消费是生产的目的。②消费调节生产。消费所形成的新的需要, 对生产的调整和升级起着导向作用; ③消费是生产的动力。一个新的消费热点的出现, 往往能带动一个产业的出现和成长。④消费为生产创造出新的劳动力, 能提高劳动力的质量, 提高劳动者的生产积极性。

材料说为了满足对彩电、冰箱的“需求”, 彩电业、冰箱业迅速发展, 近几年, 由于人们对健康和休闲的“需要”, 美容、健体、娱乐、旅游随之兴旺发达起来。强调了消费对生产具有反作用。

故正确答案为 D。

9. C

解析

本题考查我国的国情知识。我国地势西高东低, 呈三级阶梯状分布, 该地势对我国气候所产生的影响是有利于海洋上的暖湿气流深入我国内陆, 形成丰沛的降水; 对河流的影响是使大部分河流滚滚东流, 沟通了东西交通, 方便了沿海与内地的联系, 在阶梯与阶梯的交界处, 河流落差大, 水能丰富。

故正确答案为 C。

10. A

解析

本题考查国情社情, 结合选项具体分析。

A 项正确, 黄山是天下第一奇山, 位于安徽省南部黄山市境内。黄山代表景观有“四绝三瀑”, “四绝”分别是: 奇松、怪石、云海、温泉; “三瀑”分别是: 人字瀑、百丈泉、九龙瀑。

B 项错误, 泰山位于山东省中部, 隶属于泰安市, 气势雄伟磅礴, 有“五岳之首”、“五岳之长”之称。

C 项错误, 武当山是中国道教圣地, 有“太岳”、“玄岳”、“大岳”之称。位于湖北西北部十堰市丹江口市境内。

D 项错误, 庐山位于江西省九江市境内, 以雄、奇、险、秀闻名于世, 素有“匡庐奇秀甲天下”之美誉。

故正确答案为 A。

11. B

解析

本题考查自然常识, 主要涉及日食的相关知识。

日食指指的是月球运动到太阳和地球中间, 当三者正好处在一条直线时, 月球就会挡住太阳射向地球的光, 月球身后的黑影正好落到地球上, 这时发生日食现象。所以日食形成的原因是由于月球挡住了太阳。

故正确答案为 B。



12. D

解析

本题考查自然常识, 主要涉及我国大坝的相关知识。

A 项错误, 三峡大坝, 位于中国湖北省宜昌市, 是当今世界最大的水利发电工程三峡水电站的主体工程、三峡大坝旅游区的核心景观、三峡水库的东端。

B 项错误, 葛洲坝, 位于中国湖北省宜昌市境内的长江三峡末端河段上, 它是长江上第一座大型水电站, 也是世界上最大的低水头大流量、径流式水电站。

C 项错误, 小浪底大坝, 位于河南洛阳以北 40 公里的黄河干流上, 它是治理开发黄河的关键性工程, 属国家“八五”重点项目, 工程于 1997 年截流, 2001 年底竣工。

D 项正确, 新安江大坝, 位于杭州建德市新安江镇, 建于 1957 年 4 月, 是建国后中国自行设计、自制设备、自主建设的第一座大型水力发电站。

故正确答案为 D。

13. B

解析

本题考查中国历史, 主要涉及农民起义的相关知识。

A 项错误, 义和团运动 (1899 年秋-1901 年 9 月), 又称义和拳、义和团事件、庚子事变等, 是一场以“扶清灭洋”为口号的农民运动。

B 项正确, 太平天国运动 (1851 年-1864 年), 是清朝后期的一次由农民起义创建的农民政权, 也是中国历史上最大规模的农民战争。

C 项错误, 黄花岗起义 (1911 年 4 月), 黄兴率 130 余名敢死队员直扑两广总督署, 起义军浴血奋战, 终因寡不敌众而不幸失败。。牺牲的革命同志遗体由潘达微寻获安葬于广州红花岗。潘达微将红花岗改名为黄花岗, 这次起义因此被称为黄花岗起义。

D 项错误, 武昌起义 (1911 年 10 月), 是在湖北武昌发生的一场旨在推翻清朝统治的兵变, 也是辛亥革命的开端。

故正确答案为 B。

14. A

解析

本题考查中国历史, 主要涉及历史人物及所处历史时期的相关知识。

这则对联是出自清代小说家蒲松龄撰写的读书联, 讲的是西楚霸王灭秦和勾践卧薪尝胆灭吴的故事, 涉及到的两个典故是破釜沉舟和卧薪尝胆。所以涉及的两个历史人物是西楚霸王项羽和越王勾践, 项羽所处的历史时期是秦末楚汉之际, 勾践所处的历史时期是春秋末期。

故正确答案为 A。

15. A

解析

本题考查中国历史, 主要涉及夏朝的相关知识。



A 项正确, 桀, 姒姓, 夏后氏, 谥号桀, 史称夏桀, 帝发之子, 夏朝最后一位君主, 是历史上有名的暴君。

B 项错误, 太康, 夏朝的皇帝, 是夏启的儿子。他生活荒淫, 朝政松弛。在他外出打猎时, 有穷氏首领后羿乘机入侵, 自己作了君长, 史称“太康失国”。但他不是夏朝最后一个统治者。

C 项错误, 相, 夏朝的皇帝, 是仲康的儿子, 即位 28 年后, 寒浞攻打他, 相被杀。但他不是夏朝最后一个统治者。

D 项错误, 不降, 夏朝的皇帝, 是泄的儿子, 在位 59 年后, 让位与其弟扈。但他不是夏朝最后一个统治者。

故正确答案为 A。

16. C

解析

本题考查文学常识, 主要涉及常见词语的含义。

A 项错误, “白眼狼”多用来形容忘恩负义, 过河拆桥、恩将仇报的人。

B 项错误, “下山虎”采用的是饿虎扑食的姿势, 常常配上雪景山石, 突出虎威, 用来镇宅避邪。“下山虎”是指老虎肌肠辘辘, 下山找食儿, 所以一定要伤害人, 多形容给人们带来伤害的人。

C 项正确, “三脚猫”最早出自元末明初陶宗仪的《南村辍耕集》, 指做事技艺不精。现今是比喻对各种技艺略知皮毛的人, 形容水平不高。

D 项错误, “哈巴狗”常形容一个人对另一个人卑躬屈膝, 唯命是从, 拍马屁。

故正确答案为 C。

17. B

解析

本题考查文学常识, 主要涉及田园诗人的相关知识。

A 项错误, 刘禹锡, 字梦得, 河南洛阳人, 唐朝文学家、哲学家, 有“诗豪”之称, 代表作有《刘梦得文集》。

B 项正确, 陶渊明, 字元亮, 又名潜, 私谥“靖节”, 世称“靖节先生”, 是东晋末至南朝宋初期伟大的诗人、辞赋家。他是中国第一位田园诗人, 被称为“古今隐逸诗人之宗”, 代表作有《陶渊明集》。

C 项错误, 白居易, 字乐天, 号香山居士, 是唐代伟大的现实主义诗人, 代表诗作有《长恨歌》、《卖炭翁》、《琵琶行》等。

D 项错误, 杜牧, 字牧之, 号樊川居士, 是唐代杰出的诗人、散文家, 杜牧的诗歌以七言绝句著称, 代表作有《樊川文集》。

故正确答案为 B。

18. B

解析



本题考查马克思主义哲学, 主要涉及联系的相关知识。联系的客观性是指联系是事物本身所固有的本性, 它不以人的意志为转移。

A 项正确, “无风不起浪”的意思是没有风就不会引起波浪, 比喻事情的发生总有个原因。体现了联系的客观性。

B 项错误, “杀鸡取卵”的意思是为了要得到鸡蛋, 不惜把鸡杀了, 比喻贪图眼前利益而不顾长远利益。无视联系的客观性。

C 项正确, “盲人摸象”的意思是比喻对事物只凭片面的了解或局部的经验, 就乱加猜测, 想做出全面的判断。无视联系的客观性和普遍性, 割裂了整体和部分之间的联系。

D 项正确, “城门失火, 殃及池鱼”的意思是城门失火了, 大家都用护城河的水去灭火, 水被用完了, 池中的鱼也遭殃了, 比喻无辜被连累而遭受灾祸。体现了事物的联系具有客观性和多样性, 不可孤立地看问题。

本题为选非题, 故正确答案为 B。

19. B

解析

本题考查文化常识, 主要涉及诗句与时间的相关知识。

A 项错误, 这句诗出自唐代诗人王毂的《苦热行》, 意思是正午的太阳, 仿佛凝固在当空, 炙烤着大地, 天地万物如同在大火炉中蒸烤一样。描写的时间是正午。

B 项正确, 这句诗出自唐代诗人王勃的《散关晨度》, 意思是眼见关山随着日出展露了真面目, 石路上轻盈洁净没有尘埃。描写的时间是早晨日出时。

C 项错误, 这句诗出自唐代诗人杜牧的《秋夕》, 意思是在秋夜里烛光映照着画屏, 手拿着小罗扇扑打萤火虫。描写的时间是夜晚。

D 项错误, 这句诗出自元代诗人马致远的《天净沙·秋思》, 意思是天色黄昏, 一群乌鸦落在枯藤缠绕的老树上, 发出凄厉的哀鸣。小桥下流水哗哗作响, 小桥边庄户人家炊烟袅袅。描写的时间是黄昏。

按照时间早晚的顺序为日出、正午、黄昏、夜晚。

故正确答案为 B。

20. C

解析

本题考查生活常识, 主要涉及泥石流的相关知识。

A 项错误, 发生泥石流时, 山坡、斜坡的岩石或土体在重力作用下, 失去原有的稳定性而整体下滑坡。所以不能转移到低处。

B 项错误, 发生泥石流时, 不能往泥石流的上游或下游方向逃生, 如果顺着沟的上游逃生, 很容易在重大阻力下被冲进泥石流中; 如果顺着沟的下游逃生, 很有可能会被泥石流冲走, 发生危险。

C 项正确, 发生泥石流时, 要立即向坚固的高地或泥石流的旁侧山坡跑去, 不要在谷地停留。要马上向与泥石流成垂直方向一边的山坡上面跑, 绝对不能向泥石流的流动方向走。



D 项错误, 发生泥石流时, 泥石流的速度会非常快。所到之处, 墙倒屋塌下, 一切物体都会被厚重粘稠的泥石所覆盖, 所以决不能在泥石流中横渡。

故正确答案为 C。

21. A

解析

本题考查化学常识, 主要涉及温室效应的相关知识。

A 项正确, 二氧化碳常温下是一种无色无味、不可燃的气体, 是空气中常见的温室气体。大气中的二氧化碳浓度增加, 阻止地球热量的散失, 使地球发生可感觉到的气温升高, 从而产生温室效应。

B 项错误, 氮气通常状况下是一种无色无味的气体, 而且一般氮气比空气密度小。氮气的化学性质不活泼, 常温下很难跟其他物质发生反应。

C 项错误, 臭氧在常温下是一种有特殊臭味的淡蓝色气体。吸入少量臭氧对人体有益, 吸入过量对人体健康有一定危害。

D 项错误, 氧气是一种无色无味的气体, 是氧元素最常见的单质形态, 在自然界中分布最广。动物呼吸、燃烧和一切氧化过程都需要消耗氧气。

故正确答案为 A。

22. C

解析

本题考查中国历史, 主要涉及明清时期家具工艺的相关知识。

A 项错误, 电焊是指利用电能, 通过加热或加压, 或两者并用, 并且用或不用填充材料, 使焊件达到原子结合的焊接方法。电焊是在 19 世纪末随着电力工业的发展而发展起来的, 明清时期还没有电焊。

B 项错误, 胶合是将涂胶后或经过适当晾置的被粘表面叠合在一起的操作方法。木质家具不能只靠胶来粘合, 不牢固。

C 项正确, 榫卯是古代中国建筑、家具及其它器械的主要结构方式, 是在两个构件上采用凹凸部位相结合的一种连接方式。凸出部分叫榫 (或叫榫头); 凹进部分叫卯 (或叫榫眼、榫槽)。其特点是在物件上不使用钉子, 利用卯榫加固物件, 体现出中国古老的文化和智慧。

D 项错误, 滑轨又称导轨、滑道、是指固定在家具的柜体上, 供家具的抽屉或柜板出入活动的五金连接部件。

故正确答案为 C。

23. A

解析

本题考查生活常识, 主要涉及茶的相关知识。

A 项错误, 龙井茶产于浙江杭州西湖一带, 属于绿茶, 位列中国茶品之首。绿茶是指采取茶树的新叶或芽, 未经发酵, 经杀青、整形、烘干等工艺而制作的饮品。所以龙井不属于发酵茶。

B 项正确, 黑茶属于后发酵茶, 主产区为四川、云南、湖北、湖南、陕西、安徽等地。



C项正确, 红茶属全发酵茶, 是以适宜的茶树新芽叶为原料, 经萎凋、揉捻(切)、发酵、干燥等一系列工艺过程精制而成的茶。

D项正确, 大红袍产于福建武夷山, 属乌龙茶。乌龙茶亦称青茶、半发酵茶及全发酵茶, 是经过采摘、萎凋、摇青、炒青、揉捻、烘焙等工序后制出的品质优异的茶类。主要产于福建的闽北、闽南及广东、台湾三个省。

本题为选非题, 故正确答案为A。

24. D

解析

本题考查生活常识, 主要涉及可回收垃圾的相关知识。

D项错误, 可回收垃圾是指可以再生循环的垃圾。主要包括废纸、塑料、玻璃、金属和布料五大类。所以塑料瓶、报纸、布鞋都属于可回收垃圾。果皮属于厨余垃圾, 是不可回收的垃圾。

本题为选非题, 故正确答案为D。

25. B

解析

本题考查生物常识, 主要涉及哺乳动物的相关知识。哺乳动物多数是全身被毛、运动快速、恒温胎生、体内有膈的脊椎动物, 是脊椎动物中躯体结构、功能行为最为复杂的最高级动物类群。

A项错误, 袋鼠属于袋鼠目的有袋动物, 是跳得最高最远的哺乳动物。袋鼠属于哺乳动物, 但不能飞。

B项正确, 蝙蝠是翼手目动物, 翼手目是动物中仅次于啮齿目动物的第二大类群, 是一类演化出真正有飞翔能力的哺乳动物。

C项错误, 天鹅指雁族的鸟类, 属游禽。主要以水生植物为食, 也吃螺类和软体动物。天鹅不属于哺乳动物。

D项错误, 乌鸦是雀形目鸦科数种黑色鸟类的俗称。乌鸦不属于哺乳动物。

故正确答案为B。

26. A

解析

所填词语要搭配横线后的“条件”, “提供”指提出可供参考或利用的意见、资料、物资、条件等。符合语境, 当选。

B项, “提及”指提到, 说起。其主语一般是人或书籍等, 应排除。

C项, “提倡”指倡导、提议, 指出事物的优点, 让大家使用或实行, 侧重于引导、带头使用或实行。例如: 提倡自强不息、勤俭节约、环保、人人平等的观念。应排除。

D项, “提出”指揭示, 提请考虑、讨论、接受或采纳。主语一般是带有思想的, 故应排除。

故正确答案为A。

【出处】百度百科《东海》

27. C



所填词语要搭配“形成”, 填入“局面”合适, “局面”在这里指事态、形势。A项, “场面”在一定场合下的情景, 一般指具体的情景, 应排除。B项, “场合”指某个特定的时间和空间, 这里没有“时间、空间”形成的地方, 应排除。D项, “局域”指一个区域, 这里也没有涉及区域、地方, 应排除。

故正确答案为C。

【出处】百度百科《西周》

28. B

解析

横线后出现解释性句子, 强调接纳海内外各民族, 形成开放的国际文化, 横线前也强调唐朝与亚欧国家均有往来, 故填入的成语应该形容唐朝文化吸收了很多其他国家的文化, 故“兼收并蓄”符合语境, 强调指把不同内容、不同性质的东西收下来, 保存起来。

A项, “百家争鸣”指不同学派之间争芳斗艳, 这里的主语是唐朝文化, 不能搭配, 应排除。

C项, “兼而有之”指同时涉及几种事物, 几个方面, 也指同时占有或具有几种事物。代词“之”在这里指代不明, 应排除。

D项, “排斥异己”指清除和自己意见不同的人。和文中“接纳海内外各民族”的意思刚好相反, 应排除。

故正确答案为B。

【出处】互动百科《唐朝》

29. D

解析

文段强调科研成果走向市场需要中间试验环节, 故填入的成语应该强调走向市场不是一下子就完成的, 故填入“一蹴而就”合适。

A项, “妙手偶得”指技术高超的人, 偶然间得到的灵感或作品。文中已经有“成果”了, 不需要再产生了, 应排除。

B项, “心血来潮”指心里突然或偶然起了一个念头。这里的主语不是“人”, 应排除。

C项, “守株待兔”指不知变通, 死守教条。文段中没有死守教条的意思, 应排除。

故正确答案为D。

【出处】光明日报《细节可操作才能“松绑”和“转化”》

30. B

解析

第一空, “癖好”指对某种事物的特别爱好, 且形容怪异、不良的或有心理因素的、无厘头的爱好。“嗜好”具有浓厚兴趣并积极参加。这里是豆花的口味问题, 不是怪异的, 所以填入“嗜好”更合适。排除A、C项。

第二空, “安顿”指使人或事物有着落, 安排妥当。“整顿”指使紊乱变整齐。这里搭配的是“受灾居民”, 应该是让受灾居民有着落, 故填入“安顿”合适, 排除D项。

故正确答案为B。



31. C

解析

文段首句提到臭氧能吸收紫外线, 对地球生命形成了天然的保护作用。接下来强调了臭氧含量减少, 则保护作用也就减弱, 紫外线的强度将会增加, 故填入 C 项“如果那么”合适。A 项, 是递进关联词, 强调两者之间的程度不同, 应排除。B 项, 是转折关系, 连接的两句话应该含义相反, 也表现不出臭氧能吸收紫外线, 应排除。D 项, 关联词混乱, 两者不能搭配, 应排除。

故正确答案为 C。

【出处】百度百科《臭氧空洞》

32. A

解析

文段介绍了中国古代劳动人民有两个方面的围棋贡献: 一是给围棋注入了思辨内涵; 二是产生了一大批棋具。这两个贡献直接应该是并列关系, 故连接他们用“同时也”合适, 答案选择 A 项。B 项, “与其说不如说”是选择关联词, 应排除。C 项, “之所以是因为”是因果关联词, 应排除。D 项, “尽管还是”是转折关联词, 应排除。

故正确答案为 A。

【出处】南方周末《“阿尔法狗”真的懂围棋吗?》

33. C

解析

第一空, “顺其自然”指顺应形势, 不过分强求。“顺理成章”比喻随着某种情况的发展而自然产生的结果。横线处强调的是河长制推行后, 湖长制也随着出台了, 故填入“顺理成章”合适, 排除 A、D 项。

第二空, 横线后强调河流湖泊是重要组成部分, 故河流湖泊应是大自然的一部分, 填入“血脉”合适, “血脉”是人体的组成部分, 符合语境。“脉搏”指潜在的感情、意见或动向, 用于语境中是为了突出“活力”的, 文中只是强调“组成部分”, 故应排除 B 项。

故正确答案为 C。

【出处】光明日报《最严“湖长制”管好一池春水》

34. D

解析

第一空, “披露”通常是由旁观者通过比较正式的渠道进行公布、发表, 这里只是说到了披露的内容, 不一定是“正式的渠道”, 故应排除 C 项。

第二空, 搭配的内容是“猜疑、不信任”, 而“推广”一般是好的事物, 应排除 A 项。

第三空, “疏离”是一种感觉很陌生, 冷漠, 和人很疏远的感觉, 常用来形容城市之间人与人之间的关系, 大家在大街上面对面, 但互相陌生, 面无表情。符合语境, 当选。“疏远”指关系、感情不亲近, 冷淡, 说明的是一种状态, 而“疏离”还含有“离开”之意, 更适合形容缺乏信任之后的人与人之间的关系, 排除 B 项。



故正确答案为 D。

【出处】东方网《猜疑的扩散与隔离》

35. D

解析

横线放在文段开头一般选择总结性的句子。横线后面的内容都在强调要跟得上时代步伐, 故填入句子也应该强调跟上时代的步伐。D 项, “明者因时而变, 知者随事而制” 指聪明的人往往会根据时期的不同而改变自己的策略和方法, 有大智慧的人会伴随着事物发展方向的不同而制定相应的管理方法, 符合“与时俱进”的语境, 当选。

A 项, “功以才成, 业由才广” 指功绩是凭借才能而成就的, 事业是由于才能而展开来的, 强调的是“才能”的重要性。

B 项, “国不以利为利, 以义为利也” 指国家之间不应当把谋取财富当作利益, 而应当把道义作为利益。这是强调“义利观”。

C 项, “前事不忘, 后事之师” 在提醒人们记住过去的教训, 以作后来的借鉴。强调的是“教训”。

故正确答案为 D。

【出处】人民网《习近平: 不能身体已进入 21 世纪脑袋还停留旧时代》

36. D

解析

文段整体上是通分号来连接了三个句式相同的句子, 可以结合完整的句子来判断横线处所填句子的内容。横线前强调要像吸铁石能够将党员群众紧紧凝聚在一起, 而“吸铁石”的作用是“凝聚”, 故填入的句子应该能“温暖和鼓舞人心”, 只有“火”能带来温暖, 其他均可排除。

故正确答案为 D。

【出处】新华网《基层党组织需要这样的“领头羊”》

37. C

解析

整个文段描述的都是巴别尔图书馆的景象, 故应先引出话题, 即⑥比②更适合首句, 应先排除 D 项。继续观察选项, ②描述的是六边形房间和旋梯构成了整个图书馆, 属于整体描述, ④说的是每个房间的特征, 应先整体再部分, 故⑥后面先跟②, 排除 B 项。③说的是每本书的情况, 应该放在④之后, 承接④中的“每个书栏上有 32 册的书”, 排除 A 项。

故正确答案为 C。

【出处】三联生活周刊《看懂大英博物馆: 在一座建筑里思考整个世界》

38. C

解析

文中出现四季的描述, 故应按照“春-夏-秋-冬”的顺序来排列。A 项, “山桃花”开放时间是春天, 而⑤说的是“夏天”, 故④应在⑤之前, 排除。B 项, 也是⑤④顺序, 亦可排除。C 项, 整体顺序符合。D 项, ⑦说的是“冬天”的情况, 不应放在首句, 应排除。



故正确答案为 C。

39. B

解析

标题需要和文段主要内容一致。文段开始先举马克思、贺龙、澎湃的例字, 来说明青年即使穷也要有信仰, 即使抛弃丰厚的诱惑也要寻求“主义”, 最后一句话总结全文, 有了精神的觉醒, 就能从高尚的工作中收获快乐。故文段属于“分-总”结构, 重在总, 强调青年人要觉醒, 故本题答案为 B 项。A、C 项都没有提及“觉醒”, 应排除。D 项, “世界的未来”也没有提到, 应排除。

故正确答案为 B。

【出处】人民日报《青年不可一日无觉醒》

40. D

解析

词语理解题首先定位原文, “这样的情况”在最后一句出现, 根据就近原则, 理解前一句的语境。前文提到美国的总裁或高层领导承认了一些商业犯罪, 但因为有钱, 他们依旧受人尊敬。即人们是通过财富来判断一个人的价值和行为的, 也进一步的照应前一句“美国社会的发展使得人们通过财富判断一个人的价值和他们的行为”, 故本题答案选择 D 项。

A 项、B 项, 属于第一句的内容, 而不是中国和美国类似的情况, 应排除。

C 项, 文段强调的是社会对人的判断倾向, 此项只强调了一个人的价值本身, 另外文段先说的是“人们通过财富判断一个人的价值和他们的行为”, 故在 D 项存在的情况下应该优选 D 项, 需要和原文肯定的句子保持一致。故应排除。

故正确答案为 D。

【出处】《幸福是个陷阱?》

41. B

解析

文段首句先提到渤海水质肥沃、营养盐含量高等优势, 接着说到渤海是多种鱼虾蟹贝繁殖生长的良好场所, 最后举例说明了几种重要的经济种类。故文段属于“分-总-分”, 重点在“总”, 强调的是渤海的渔业资源丰富, 答案选择 B 项。

A 项, “著名”在原文没有提到, 无中生有, 应排除。

C 项, “渔业经济发达”在原文没有提到, 只是强调资源丰富, 应排除。

D 项, 水质资源是渔业发展好的一个条件, 表述片面, 应排除。

故正确答案为 B。

【出处】百度百科《渤海》

42. B

解析

文段首句先提出观点——红点奖近年来逐渐地“去德国化”, 成为一个国际化大奖。接着开始解释说明: 先提到参赛者的国别组成上国际化, 接着是评审团的国际化上, 剩下的后半部分内容在具体解释



评审团的国际化。故文段属于“提出观点——解释说明”, 重点在“观点”, 同义替换后选定答案 B 项。

A 项, 属于最后的“解释说明”部分, 本身不重要, 应排除。

C 项, “参赛者”只是“去德国化”的一个方面, 应排除。

D 项, “评审团”只是“去德国化”的一个方面, 应排除。

故正确答案为 B。

43. A

解析

文段首句先提到互联网成为公众获取医学健康知识的重要渠道, 接着通过转折关联词“然而”提到通过互联网查找医学知识时存在的问题: 一是三大问题给公众造成了困扰; 而是互联网平台水平不足。即文段最后属于“提出问题”, 故接下来应该给出解决问题的对策, 只有 A 项是。

B 项, “困扰”在最后一句已经论述完, 不会再次谈论的, 应排除。

C 项、D 项都不是对策, 应排除。

故正确答案为 A。

【出处】光明网《为大众提供触手可及的高质量医学科普》

44. C

解析

结语选择题需要承接最后一句的话题。文段先提到电商促销期间让卖家“二选一”, 接着提到微信封杀淘宝客等事件, 来说明电商之间的恶性竞争会导致马太效应, 最后提到互联网企业应用, 已经深入渗透并改变着我们生活的方方面面。故接下来谈论的主体就应该是“互联网企业”, 先把 A、B 排除, 主体错误。文中描述的是互联网企业之间的竞争, 故接下来应该强调的也应该是互联网企业之间的关系, 即如何扩张问题, 答案选择 C 项。D 项, “盈利”无关话题, 应排除。

故正确答案为 C。

【出处】半月谈《互联网: 巨头正在“扼杀”后来创业者》

45. B

解析

文中提到新型的城市中产说自己什么都不缺, 所以什么都不吃, 故此阶级已经不满足于“吃”这一需求了, 而要通过跑步这种运动, 来消耗掉过剩的能量。因此可以看出中产物质比较富足, 不满足于低层次的“吃”了, 故 B 项和作者的观点有可能是一致的。其他选项的观点在文中都没有提及, 应排除。

故正确答案为 B。

【出处】新周刊蒋方舟《马拉松是中产无声的广场舞》

46. A

解析



文段首句先提到自己在组织读《雪园》时, 阅读者不同读出的感受不同, 接着解释原因, 读书会会让人思维活跃起来, 最后通过结论引导词“所以”, 得出结论: 参加读书会相当于把一本书从不同的视角读了多遍。重在结论, 对结论同义替换后选定答案 A 项。

B 项, “与书友辩论”在文中没有出现, 应排除。

C 项, “形式各异”在文中没有出现, 应排除。

D 项, “结识到更多书友”不是重点, 而是强调能从不同的角度读多遍同一本书, 故应排除。

故正确答案为 A。

【出处】人民日报《打开阅读世界的多重通道》

47. A

解析

根据提问方式可知, 本题为细节判断题, 将选项信息和原文信息进行对比即可。

A 项, 文段第二句提到“对于哥本哈根来说, 重点要解决的是健康不平等”, 接着说明了不同群体患病的概率差异较大, 故此项表述正确。

B 项, 文中提到“受教育程度低的居民患糖尿病和出现高患病风险的概率是受教育程度较高的居民的两倍”, 故受教育程度越高, 患病概率越低, 两者之间应该是负相关, 此项表述错误, 应排除。

C 项, “最重要指标”在文中没有出现, 无中生有, 应排除。

D 项, “造成其患上糖尿病的重要因素”在文中没有提及, 无中生有, 应排除。

故正确答案为 A。

【出处】三联生活周刊《联合国糖尿病日 | “升糖”的城市, 如何才能“降糖”? 》

48. B

解析

根据提问方式可知, 本题为细节判断题, 将选项信息和原文信息进行对比即可。

A 项, 此项无中生有, 作者没有否定发放加班费, 只是强调以法律为准绳, 故此项表述错误, 应排除。

B 项, 文中提到“有些工作完全可以在上班时间内完成, 提高工作效率就可以减少无谓加班”, 故提高工作效率后可以减少无谓的加班时间, 此项表述正确, 当选。

C 项, 文中提到“关于加班费, 有关部门的回应没毛病, 员工再纠结也要以法律规定为准绳”, 既然提及以法律规定为准绳, 说明法律规定了加班费如何发放, 此项表述错误。

D 项, “只要……就……”是充分条件, 在这里表述太绝对, 文中只是强调有些工作可以提高效率, 并不是所有的, 故此项表述错误。

故正确答案为 B。

【出处】新华网《与其纠结加班费, 不如研究怎么干》

49. B

解析

根据提问方式可知, 本题为细节判断题, 将选项信息和原文信息进行对比即可。



A 项, 约翰·巴罗是在欧洲音乐史上最早对《茉莉花》采用五线谱记谱并翻译了英语歌词, 《茉莉花》是中国的歌曲, 并不是他创作的, 偷换概念, 应排除。

B 项, 文段第三句提到约翰·巴罗在欧洲音乐史上最早翻译了英文歌词, 故此项表述正确。

C 项, 是约翰·巴罗采用五线谱记谱, 并不是最早的《茉莉花》采取这种方式, 偷换概念, 应排除。

D 项, 《茉莉花》是“流传到海外的第一首中国民歌”, 并不是第一首中国民歌, 应排除。

故正确答案为 B。

【出处】《民歌《茉莉花》的前世今生: 歌词意在反腐?》

50. D

解析

根据提问方式可知, 本题为细节判断题, 将选项信息和原文信息进行对比即可。

A 项, 文段首句提到“高纬度的强火山爆发可对全球气候系统造成多年影响”, 故应该是“高纬度的强火山”爆发才会对全球气候系统造成多年影响, 此项偷换概念, 应排除。

B 项, 文段在举例时提及“环球网报道的冰岛在 1783 年拉基火山喷发”, 造成了类似厄尔尼诺现象的效应, 前一句也是“大气和太平洋洋流循环都可能因此产生变化”, 故并不是所有的冰岛火山爆发, 太平洋西部便会出现厄尔尼诺现象, 此项表述太过于绝对, 应排除。

C 项, 文段提及“如果北半球高纬度地区夏季发生大规模火山爆发, 那么便会造成北半球温度显著下降”, 7 月份是夏季, 但选项中并没有强调是“北半球”, 故此项表述错误, 应排除。

D 项, 整个文段都在强调火山爆发带来的一系列影响, 故此项表述正确。

故正确答案为 D。

【出处】人民网《地球动怒会如何? 地球: 我若“生气”火山爆发》

51. D

解析

根据提问方式可知, 本题为细节判断题, 将选项信息和原文信息进行对比即可。

A 项, 第一段中提到“吉尼斯就是无聊大观园”, 故有些吉尼斯世界记录是很无聊的, 此项和原文表述一致。应排除。

B 项, 第一段最后提及吉尼斯在拒绝最长域名的申请时, 给的理由是“曾经不断有神经病宣称自己发现了世界上最大的数字”, 说明世界上最大的数字是不存在的, 故类比“最长域名”, 也应该是不存在的, 此项和原文表述一致。应排除。

C 项, 第一段中提到“但太无聊的纪录连吉尼斯也会望而生畏”、“我们可以无聊, 但不能过分”, 故太无聊的记录会被吉尼斯拒绝, 即吉尼斯世界纪录也无法忍受过分的无聊, 此项表述正确。应排除。

D 项, “关键”文段中并没有提及, 在第一段首句提及“吉尼斯世界纪录和趣味有关, 也和无聊有关”, 故“有趣”只是“有关”而已, 并不是“关键”, 此项和原文表述不一致。

本题为选非题, 故正确答案为 D。

【出处】新周刊《从无聊经济到无聊的哲学》

52. B



解析

横线后提到“只有无聊感是没有阶级性的”,说明所有人都是能感受到无聊的,加之横线前提到“坐长途飞机的商务人士会感到百无聊赖”,故“挤在地铁上的上班族”的感受也应该是和商务人士一样的,故应填入“百无聊赖”的近义词,“百无聊赖”形容非常无聊,故应填入“乏善可陈”,指一事物没有什么优点可以提出来称道,说明每天的日子都是一样的,没有什么新意,很无聊,故本题答案选择B项。

A项,“痛苦不堪”指非常痛苦,这里只是无聊,填入后语义程度太重,应排除。

C项,“普普通通”指平常的、一般的,用来形容事物没有什么特点,这里是“无聊”,感情色彩上更消极,故应排除。

D项,“忍无可忍”指再也忍受不下,填入后语义程度太重,应排除。

故正确答案为B。

【出处】新周刊《从无聊经济到无聊的哲学》

53. B

解析

根据提问方式可知,本题为细节判断题,将选项信息和原文信息进行对比即可。

A项,最后一段提到“中国人的无聊则异化为生活本身,你问问自己为什么每天上网16个小时,是为了消除无聊还是不由自主的惯性使然”,故上网有两个可能的目的“为了消除无聊”和“不由自主的惯性使然”,此项表述太绝对,应排除。

B项,第三段最后提到“只有无聊感是没有阶级性的”,故此项表述正确,当选。

C项,“人的欲望”在文中没有出现,应排除。

D项,第三段首句提到“无聊曾经是需要物质作为基础的”,故此项表述太绝对,应排除。

故正确答案为B。

【出处】新周刊《从无聊经济到无聊的哲学》

54. C

解析

根据提问方式可知,本题为细节判断题,将选项信息和原文信息进行对比即可。

A项,第二段提到“当下人们的无聊感却是与日俱增,世界明显变得越来越无聊”,此项表述和原文一致。

B项,第二段最后提到“人类每被自己的发明解放一次,就离无聊更近一步”,故发明并没有增加更多趣味,此项表述正确。

C项,最后一段提到“老外的无聊之道总隐约带有科学属性和商业属性,要么就像英国人那样研究下午茶该吃什么,开化出全新的休闲生活。中国人的无聊则异化为生活本身”,外国人的无聊带有科学属性和商业属性,而中国人的无聊异化为生活本身了,说明中国人的无聊和其他国家的是不一样的,故当选。

D项,最后一段提到“老外的无聊之道总隐约带有科学属性和商业属性”,故此项表述正确。



本题为选非题, 故正确答案为 C。

【出处】新周刊《从无聊经济到无聊的哲学》

55. A

解析

标题应和文段主要内容一致。第一段主要介绍了吉尼斯世界纪录和无聊相关, 但也不能忍受过分的无聊。第二段重点介绍了当下人们的无聊感却是与日俱增, 世界明显变得越来越无聊, 而人类的各种发明也没有使得无聊减少。第三段主要说明了无聊是没有阶级性的。第四段主要告诉我们外国人的无聊带有科学属性和商业属性, 而中国人的无聊异化为生活本身。故整篇文章先提出“无聊”这一话题, 接着介绍了无聊的一些特点, 最后总结了无聊的本质——外国人和中国人是不一样的, 故适合做本文标题的是“无聊的本质”, 选择 A 项。

B 项, “象征”指用一个具体的事物来代表一个抽象的事物, 文中并没有这层含义, 应排除。

C 项, 表述太宏观, 文章重在分析无聊生活背后代表的东西, 故应排除。

D 项, 此项只是最后一段的内容, 表述片面, 应排除。

故正确答案为 A。

【出处】新周刊《从无聊经济到无聊的哲学》

56. D

解析

概率 $P = \frac{\text{满足情况数}}{\text{全部情况数}}$ 。从全部教师中抽选一人情况数为 $C_{20}^1 = 20$ 种, 选中英语老师情况数为 $C_4^1 = 4$ 种, 故选中英语老师的概率 P 为 $\frac{4}{20} = 20\%$ 。

故正确答案为 D。

57. C

解析

平均分 = $\frac{\text{总分}}{\text{人数}}$ 。根据题意可知, 7 人的平均分为 88 分, 则总分为 $88 \times 7 = 616$ 分。去掉最低分后, 平均分 = $\frac{\text{剩余6人总分}}{6} = 92$ 分, 则剩余 6 人总分 = $92 \times 6 = 552$ 分, 故最低分为 $616 - 552 = 64$ 分。

选项尾数不同, 可用尾数法。 $88 \times 7 - 92 \times 6$, 尾数为 $6 - 2 = 4$, 只有 C 满足。

故正确答案为 C。

58. D

解析

设该酒店共有 x 间空房, 每间安排 5 人时, 最后一间有 a ($1 \leq a < 5$) 人。根据题意可得, $4x + 2 = 5(x - 1) + a$, 则 $x + a = 7$ 。要让空房最多, 即 x 要取最大值, 则 a 要取最小值即 $a = 1$, 可得 x 最大为 $7 - 1 = 6$ 间。

故正确答案为 D。

59. C

解析



设每个玩具进价为 x 元, 根据题意可得, $(x+3) \times 8 = (x+8) \times 7$, 解得 $x=32$ 元。

故正确答案为 C。

60. C

解析

设 A、B、C 三种饼干各买了 x 、 y 、 z 盒, 根据题意可列方程:

$$7x+4y+3z=48 \text{ ①};$$

$$x+y+z=10 \text{ ②};$$

①-② $\times 3$ 可得, $4x+y=18$ 。 $4x$ 、 18 均为偶数, 则 y 也为偶数。可排除 AB 选项。

代入 C 项, $7x+4y+3z=7 \times 4+4 \times 2+3 \times 4=4 \times (7+2+3)=4 \times 12=48$, $x+y+z=4+2+4=10$, 满足题意所有要求, 无需验证 D 项。

故正确答案为 C。

61. A

解析

由两集合容斥原理公式可得, 蓝色运动服人数+灰色运动裤人数-两者都穿=总数-两者都不穿, 代入题干数据, 即 $50+60$ -两者都穿= $100-20$, 解得既穿蓝色运动服也穿灰色运动裤人数为 30 人。

故正确答案为 A。

62. D

解析

要保证抽到一等奖, 考虑最不利情况, 即将所有非一等奖全部抽出, 为 $10+30=40$ 次。此时任意抽一次均为一等奖, 因此至少抽 $40+1=41$ 次, 才能保证能抽到一等奖。

故正确答案为 D。



63. B

解析

早上 8 点出发, 下午 4 点到达, 则共行驶 8 小时, 每小时行车 100 公里, 总路程=8×100=800 公里。速度

变为每小时 80 公里后, 所需时间为 $\frac{800}{80}=10$ 小时, 8 点出发, 要到 18 点到达。

故正确答案为 B。

64. D

解析

方法一: 由甲到乙为顺流, $V_{顺} = \frac{360}{4.5} = 80$ 千米/小时, 即 $V_{船} + V_{水} = 80$ 千米/小时①; 由乙到甲为逆流,

$V_{逆} = V_{船} - V_{水} = \frac{360}{4.5 \times 2} = 40$ 千米/小时, 即 $V_{船} - V_{水} = 40$ 千米/小时②。

①-②可得, $2 \times V_{水} = 40$ 千米/小时, 则 $V_{水} = 20$ 千米/小时。

方法二: 船顺流与逆流的路程均为甲、乙两港口之间的距离, 路程相同, 速度与时间成反比, 故

$\frac{V_{顺}}{V_{逆}} = \frac{V_{船} + V_{水}}{V_{船} - V_{水}} = \frac{2}{1}$, 解得 $V_{船} = 3V_{水}$ 。 $V_{船} + V_{水} = \frac{360}{4.5} = 80$ 千米/小时, 即 $4 \times V_{水} = 80$ 千米/小时, $V_{水} = 20$ 千米/小时。

故正确答案为 D。

65. C

解析

根据题意可知, 放入相同体积的铁块后, 甲乙水位分别上升 4、6 厘米, 即水的高度分别升高 4、6 厘米。长方体体积=底面积×高, 体积一定的情况下, 底面积与高成反比, 则甲容器与乙容器的底面积之比为 6: 4=3:2。

故正确答案为 C。

66. A

解析

元素组成相同, 优先考虑位置规律。观察发现, 第一组图形中图 1 到图 2 左边的图形不变, 右边的图形向下翻转, 图 2 到图 3 右边的图形不变, 左边的图形向上翻转。第二组图形应用此种规律, 图 1 到图 2 左边的图形不变, 右边的图形向下翻转, ? 处的图形为图 2 右边的图形不变, 左边的图形向上翻转, 对应 A 项。

故正确答案为 A。

67. B

解析

元素组成不同, 题干图形均由两个元素组成, 优先考虑图形间关系。观察发现, 第一组图形间的关系为内含、外离、相交, 第二组图形间的关系为内含、外离、?, ? 处应为两个相交的图形, 只有 B 项符合。



故正确答案为 B。

68. B

解析

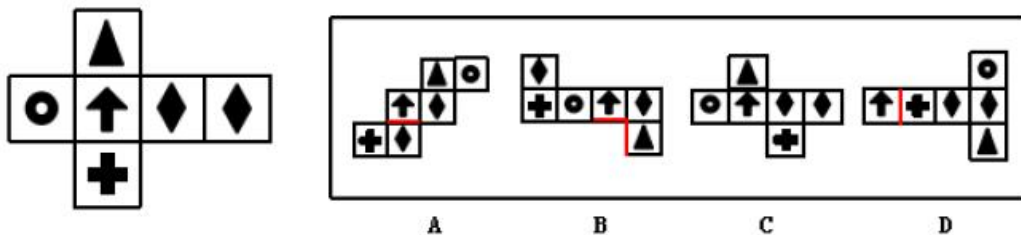
元素组成不同, 没有明显属性规律, 观察发现图形均为外框和阴影部分组成, 内部阴影和外框相交的部分数为: 1、2、3、4、? 处阴影和外框相交的部分应为 5, 只有 B 项符合。

故正确答案为 B。

69. C

解析

本题属于空间重构类。



A 项: 选项箭头面的下方是菱形面, 题干箭头面的下方为加号面, 选项与题干对应不一致, 排除;

B 项: 选项箭头面的下方是三角形, 题干箭头面的下方为加号面, 选项与题干对应不一致, 排除;

C 项: 选项与题干图形对应一致, 当选;

D 项: 选项箭头面的右边是加号面, 题干箭头面的右边是菱形面, 选项与题干图形对应不一致, 排除。

故正确答案为 C。

70. B

解析

观察发现, 题干图形均为汉字, 图①②④均为半包围结构的汉字, 图③⑤⑥均为左右结构的汉字, 据此可将图形分为两组, 对应 B 项。

故正确答案为 B。

71. C

解析

第一步: 找出定义关键词。

“群体中两个或以上的个体”、“相互作用而彼此影响”、“联合起来产生增力”

第二步: 逐一分析选项。

A 项: 众人拾柴火焰高, 意思是众人都往燃烧的火里添柴, 火焰就必然很高。众人符合“群体中两个或以上的个体”, 拾柴符合“相互作用而彼此影响”, 火焰高符合“联合起来产生增力”, 符合定义, 排除;



B项: 人心齐, 泰山移, 意思是只要人们心向一处, 共同努力, 就能发挥出移动高山的巨大力量, 克服任何困难。人心齐符合“群体中两个或以上的个体”、“相互作用而彼此影响”, 泰山移符合“联合起来产生增力”, 符合定义, 排除;

C项: 坐山观虎斗, 意思是坐在山上看老虎相斗, 不符合“相互作用而彼此影响”、“联合起来产生增力”, 不符合定义, 当选;

D项: 相辅而行, 相得益彰, 指两个人或两件事物互相配合, 双方的能力和作用更能显示出来。相辅、相得符合“群体中两个或以上的个体”、“相互作用而彼此影响”, 而相得益彰符合“联合起来产生增力”, 符合定义, 排除。

本题为选非题, 故正确答案为C。

72. D

解析

第一步: 找出定义关键词。

“无对抗的条件下”、“含蓄的、间接的方式”、“使他人或自己接受所示意的观点、意见, 或按所示意的方式进行活动”

第二步: 逐一分析选项。

A项: 望梅止渴, 讲述的是曹操为了加快行军速度, 用“梅子”间接诱导士兵联想到了“酸”, 从而使士兵口腔分泌大量唾液起到了暂时解渴的效果, 比喻愿望无法实现, 用空想安慰自己。曹操为了达到鼓励行军的目的, 在无对抗的条件下, 凭借梅子会使人分泌唾液这个含蓄的方式, 暗示士兵继续前进, 马上就可以有吃喝, 符合定义, 排除;

B项: 杯弓蛇影, 指见到弓的影子联想到了蛇而恐慌, 形容疑神疑鬼, 自相惊扰。通过错觉这个含蓄、间接的方式, 使自己接受自己看到的错觉, 让自己感到恐惧, 符合定义, 排除;

C项: 草木皆兵, 把山上的草木也当作敌兵, 形容人在惊慌时疑神疑鬼。通过错觉这个含蓄、间接的方式, 使自己接受自己看到的错觉, 让自己感到恐惧, 符合定义, 排除;

D项: 知己知彼, 指对敌我双方的优劣短长均能透彻的了解, 是对现实的情况进行客观的分析, 不存在含蓄的、间接的方式, 也没有体现“使他人或自己接受所示意的观点、意见, 或按所示意的方式进行活动”, 不符合定义, 当选。

本题为选非题, 故正确答案为D。

73. A

解析

第一步: 找出定义关键词。

“成年人”、“面对社会的剧烈竞争和残酷倾轧”、“不敢承担责任、情绪化、依赖他人、以自我为中心”

第二步: 逐一分析选项。



A 项: 小赵到了结婚的年龄, 符合“成年人”, 工作赚钱养家, 符合“面对社会的剧烈竞争和残酷倾轧”、不想这样做并且我行我素、在家打游戏啃老, 符合“不敢承担责任、情绪化、依赖他人、以自我为中心”, 符合定义, 当选;

B 项: 二十岁多的小华, 符合“成年人”, 只是长的像高中生, 不符合“不敢承担责任、情绪化、依赖他人、以自我为中心”, 不符合定义, 排除;

C 项: 初中生年龄段在 12-15 岁之间, 成年人年龄是 18 岁以上, 初中生楠楠不符合“成年人”, 不符合定义, 排除;

D 项: 王总因生意没谈好而向员工大发雷霆的行为, 属于正常的行为表现, 不符合“不敢承担责任、情绪化、依赖他人、以自我为中心”, 不符合定义, 排除。

故正确答案为 A。

74. D

解析

第一步: 找出定义关键词。

“维护个人或群体的合法权益所进行的行政及司法诉讼”

第二步: 逐一分析选项。

A 项: 会员卡属于预付卡消费, 通常会员已经先存入了一笔钱, 会所更名要求卡片依旧有效, 符合“维护个人或群体合法权益”, 符合定义, 排除;

B 项: 快递物品在运输过程中受损, 承运人承担损害赔偿责任, 因此要求赔偿费用, 符合“维护个人或群体合法权益”, 符合定义, 排除;

C 项: 国家规定企业等部门不得拖欠或克扣农民工工资, 因此追讨工资, 符合“维护个人或群体合法权益”, 符合定义, 排除;

D 项: 老师表扬学生, 不涉及法律权益和纠纷, 不符合定义, 当选。

本题为选非题, 故正确答案为 D。

75. B

解析

第一步: 找出定义关键词。

“针对和利用网络进行的犯罪”、“危害网络及其信息的安全与秩序”

第二步: 逐一分析选项。

A 项: 通过互联网贩卖色情视频, 符合“针对和利用网络进行的犯罪”、“危害网络及其信息的安全与秩序”, 符合定义, 排除;

B 项: 赵某将网友强暴, 不符合“危害网络及其信息的安全与秩序”, 不符合定义, 当选;

C 项: 在网络上散播不利于国家团结的谣言, 符合“针对和利用网络进行的犯罪”、“危害网络及其信息的安全与秩序”, 符合定义, 排除;

D 项: 通过含木马病毒的网址盗取他人钱财, 符合“针对和利用网络进行的犯罪”、“危害网络及其信息的安全与秩序”, 符合定义, 排除。



本题为选非题, 故正确答案为 B。

76. D

解析

第一步: 翻译题干。

①新手司机→发生交通事故;

②占用应急车道→发生事故的车辆。

第二步: 逐一分析选项。

A 项翻译: 新手司机→没有占用过应急车道, 新手司机肯定了①的前件, 肯前必肯后, 而发生交通事故是肯定了②的后件, 肯定后件无法推出确定性结论, 即不知道是否占用过应急车道, 无法推出, 排除;

B 项翻译: 占用应急车道→新手司机。占用应急车道肯定了②的前件, 肯前必肯后, 而发生交通事故是肯定了①的后件, 肯定后件无法推出确定性结论, 即不知道是否是新司机驾驶的车辆, 无法推出, 排除;

C 项翻译: 题干第一句话“阴雨天气容易发生交通事故”, 表述的是一种可能性, 无法推出确定性的“都占用过”, 同时发生交通事故是肯定了②的后件, 肯后无法推出确定性结论, 此选项无法推出, 排除;

D 项翻译: 占用应急车道→发生事故的车辆, 是对②的肯前, 肯前必肯后, 能够从题干中推出, 当选。

故正确答案为 D。

77. C

解析

第一步: 找突破口。

根据题干信息, ①所有人都是理工科毕业的与②有的人不是理工科毕业的, 二者之间为矛盾关系, 二者之间必然一真一假。

第二步: 分析其他选项。

三个说法中只有一个为假, 那么这一假应该在①和②之中, 所以③必然为真, 即③小李不是理工科毕业的, 由此可知①为假, ②为真, 即有人不是理工科毕业的, 只有 C 项符合。

故正确答案为 C。

78. A

解析

题干信息不确定, 考虑代入法。代入后符合小红只猜对一个人喜好的即为正确选项。

A 项: 丙的喜好猜对, 甲乙的喜好猜错, 与题干中“小红只猜对一个人喜好”一致, 当选;

B 项: 甲乙丙的喜好均猜对, 与题干中“小红只猜对一个人喜好”不一致, 排除;

C 项: 甲和乙的喜好猜对, 丙的喜好猜错, 与题干中“小红只猜对一个人喜好”不一致, 排除;

D 项: 甲乙丙的喜好均猜错, 与题干中“小红只猜对一个人喜好”不一致, 排除。



故正确答案为 A。

79. B

解析

第一步: 分析题干

①小明=小雨

②小娜≠鸟, 小芳≠鸟

第二步: 根据题干条件分析选项

本题考虑代入法, 将选项信息带入题干, 若与题干信息矛盾则当选。

A 项: 将小明=鸟代入, 那么小明=小雨=鸟, 小娜和小芳抽到的是花和鱼, 与题干信息不矛盾, 符合题意, 排除;

B 项: 将小雨=鱼代入, 那么小明=小雨=鱼, 小娜和小芳抽到的是花和鸟, 与题干信息“小娜≠鸟, 小芳≠鸟”矛盾, 无法推出, 当选;

C 项: 将小娜=花代入, 那么小芳=鱼, 小明=小雨=鸟, 与题干信息不矛盾, 符合题意, 排除;

D 项: 将小芳=鱼代入, 那么小娜=花, 小明=小雨=鸟, 与题干信息不矛盾, 符合题意, 排除。

本题为选非题, 故正确答案为 B。

80. B

解析

第一步: 找出论点和论据。

论点: 锂电池存在剧毒、短命、易爆炸等缺点, 且全世界至今都没有妥善的废电池处理方法。

论据: 无。

第二步: 逐一分析选项。

A 项: 说明锂电池中的锂电池电解液存在剧毒, 补充论据加强了论点, 无法削弱, 排除;

B 项: 说明锂电池的安全性, 不产生任何有毒、有害金属元素和物质, 污染相对较小, 直接削弱了题干论点, 当选;

C 项: 民众对锂电池的认知与锂电池是否真的有毒等无关, 无法削弱, 排除;

D 项: 说明锂电池的分解产物有辐射性和毒性, 补充论据加强了论点, 无法削弱, 排除。

故正确答案为 B。

81. D

解析

第一步: 判断题干词语间逻辑关系。

黄酒中含有酒精, 酒精是黄酒的组成部分, 二者是组成关系。

第二步: 判断选项词语间逻辑关系。

A 项: 牡丹是鲜花的一种, 二者是种属关系, 与题干逻辑关系不一致, 排除;

B 项: 水分子是水的组成部分, 但顺序相反, 与题干逻辑关系不一致, 排除;

C 项: 司机开火车, 二者是职业和工作场所的对应关系, 与题干逻辑关系不一致, 排除;



D项: 文章中含有文字, 文字是文章的组成部分, 与题干逻辑关系一致, 当选。

故正确答案为D。

82. B

解析

第一步: 判断题干词语间逻辑关系。

异口同声指不同的人说同样的话, 形容意见一致; 众说纷纭指人多嘴杂, 各有各的说法, 议论纷纷, 二者为反义关系。

第二步: 判断选项词语间逻辑关系。

A项: 博古通今指对古代的事知道得很多, 并且通晓现代的事情, 形容知识渊博; 知书达理形容有知识通事理, 指人有文化教养, 二者不是反义关系, 与题干逻辑关系不一致, 排除;

B项: 深谋远虑指计划得很周密, 考虑得很长远; 目光短浅指眼光不远, 见识不深, 形容缺乏远见, 二者为反义关系, 与题干逻辑关系一致, 当选;

C项: 察言观色意思是留意观察别人的话语和神情, 多指揣摩别人的心意; 旁敲侧击比喻说话、写文章不从正面直接点明, 而是从侧面曲折地表明观点或加以讽刺、抨击, 二者不是反义关系, 与题干逻辑关系不一致, 排除;

D项: 坚持不懈形容做事持之以恒, 比喻有恒心, 有毅力; 一时大意形容不小心疏忽, 二者不是反义关系, 与题干逻辑关系不一致, 排除。

故正确答案为B。

83. B

解析

第一步: 判断题干词语间逻辑关系。

教师被比喻为园丁, 二者是比喻关系; 教师的工作是教学, 二者是职业和工作内容的对应关系。

第二步: 判断选项词语间逻辑关系。

A项: 孩子被比喻为希望, 孩子和男性是交叉关系, 与题干逻辑关系不一致, 排除;

B项: 医护人员被比喻为白衣天使, 医护人员包括医生, 医生的工作是治病, 二者是职业和工作内容的对应关系, 与题干逻辑关系一致, 当选;

C项: 军人和战士是交叉关系, 战士在战争中战斗, 与题干逻辑关系不一致, 排除;

D项: 公务员被比喻为仆人, 但顺序相反, 仆人的工作是服务而不是管理, 与题干逻辑关系不一致, 排除。

故正确答案为B。

84. B

解析

第一步: 判断题干词语间逻辑关系。

轮船、汽车、摩托车都是交通工具的一种, 三者是并列关系。

第二步: 判断选项词语间逻辑关系。



A 项: 书立用来支撑书本平稳站立, 书柜用来放置书本, 后两词与前一词是对应关系, 与题干逻辑关系不一致, 排除;

B 项: 显示屏又称显示器、监控器, 与计算机和手机都是电子产品的一种, 三者是并列关系, 与题干逻辑关系一致, 当选;

C 项: 锅盖和燃气灶都是厨房用具的一种, 可以用来烹饪, 前两词与后一词是功能的对应, 与题干逻辑关系不一致, 排除;

D 项: 电话、传真都是通讯工具的一种, 前两词与后一词是种属关系, 与题干逻辑关系不一致, 排除。

故正确答案为 B。

85. C

解析

逐一代入选项。

A 项: 流星体飞入地球大气层, 跟大气摩擦发生了光和热, 最后被燃尽成为一束光, 这种现象叫流星, 所以流星是自然现象, 跟矿石无必然联系, 养殖和驯服无必然联系, 前后逻辑关系不一致, 排除;

B 项: 矿石是一种资源, 驯服是一种手段, 二者均是种属关系, 但顺序相反, 前后逻辑关系不一致, 排除;

C 项: 勘探矿石, 驯服猛兽, 二者均是动宾关系, 前后逻辑关系一致, 当选;

D 项: 开采矿石, 二者是动宾关系, 驯服后动物变得温顺, 二者是对应关系, 前后逻辑关系不一致, 排除。

故正确答案为 C。

86. D

解析

根据题干“2016 年 1-10 月…约为…万吨”, 结合材料时间为 2017 年 1-10 月, 可判定本题为基期计算问题。定位材料第一段可得: 2017 年 1-10 月, 广东省规模以上工业综合能源消费量 13068.72 万吨标准煤, 同

比增长 8.2%。故 2016 年 1-10 月, 广东省规模以上工业综合能源消费量 = $\frac{\text{现期}}{1 + \text{增长率}} = \frac{13068.72}{1 + 8.2\%} < 13068.72$, 只有 D 选项符合要求。

故正确答案为 D。

87. A

解析

定位材料第四段: 1-10 月, 广东六大高耗能行业综合能源消费量 10049.81 万吨标准煤, 增长 9.9%, 增幅同比加快 7.7 个百分点, 比前三季度回落 0.2 个百分点。根据“比前三季度回落 0.2 个百分点”可得: 2017 年 1-9 月广东六大高耗能行业综合能源消费量的增幅为 9.9%+0.2%=10.1%; 根据“增幅同比加快 7.7 个百分点”可得: 2016 年 1-10 月广东六大高耗能行业综合能源消费量的增幅为 9.9%-



7.7%=2.2%。故 2017 年 1-9 月广东六大高耗能行业综合能源消费量的增幅比 2016 年 1-10 月高 10.1-2.2=7.9 个百分点。

故正确答案为 A。

88. C

定位材料第四段, 可知 2017 年 1-10 月, 广东六大高耗能行业中, 能耗增速同比加快的行业有: 电力、热力生产和供应业; 石油加工、炼焦和核燃料加工业; 非金属矿物制品业; 有色金属冶炼和压延加工业, 共有 4 个。

故正确答案为 C。

89. A

解析

根据题干“2016 年 1-10 月……最高的是”, 结合材料时间为 2017 年 1-10 月, 可判定本题为基期比较问题。定位材料第五段, 可得 2016 年 1-10 月四个地区的规模以上工业综合能源消费量依次如下:

$$\begin{aligned} \text{珠三角: } \frac{\text{现期量}}{1 + \text{增长率}} &= \frac{7495.61}{1 + 5.6\%} = \frac{7495.61}{1.056} \approx 7000^+ \\ \text{东翼: } \frac{\text{现期量}}{1 + \text{增长率}} &= \frac{1435.04}{1 + 18.5\%} = \frac{1435.04}{1.185} \approx 1000^+ \\ \text{西翼: } \frac{\text{现期量}}{1 + \text{增长率}} &= \frac{2249.74}{1 + 15.9\%} = \frac{2249.74}{1.159} \approx 1000^+ \\ \text{山区: } \frac{\text{现期量}}{1 + \text{增长率}} &= \frac{1888.33}{1 + 3.1\%} = \frac{1888.33}{1.031} \approx 1000^+ \end{aligned}$$

珠三角地区规模以上工业综合能源消费量最高。

故正确答案为 A。

90. B

解析

A 项: 定位材料第二段, 2017 年 1-10 月, 重工业综合能源消费量 11061.47 万吨标准煤, 轻工业综合能源消费量 2007.25 万吨标准煤, 则广东重工业综合能源消费量比轻工业综合能源消费量多 11061.47-2007.25=9054.22 万吨标准煤, 正确;

B 项: 定位材料第三段, 2017 年 1-10 月制造业综合能源消费量增长 5.9%, 增幅同比加快 0.2 个百分点, 则 2016 年 1-10 月, 广东制造业综合能源消费量增长 5.9%-0.2%=5.7%, 错误;

C 项: 定位材料第四段, 2017 年 1-10 月, 广东六大高耗能行业综合能源消费量 10049.81 万吨标准煤, 增长 9.9%, 则 2016 年 1-10 月, 广东六大高耗能行业综合能源消费量=

$$\frac{\text{现期量}}{1 + \text{增长率}} = \frac{10049.81}{1 + 9.9\%} = \frac{10049.81}{1.099} \approx 9100^+, \text{ 正确;}$$

D 项: 定位材料第四段, 2017 年 1-10 月, 黑色金属冶炼和压延加工业综合能源消费量增长 19.8%, 比前三季度回落 2.0 个百分点, 则 2017 年 1-9 月, 黑色金属冶炼和压延加工业综合能源消费量增长 19.8%+2%=21.8%, 正确。

本题为选非题, 故正确答案为 B。



91. B

解析

根据题干“2016年1-4月份……亿元”, 结合材料时间为2017年1-4月份, 可判定本题为基期计算问题。

定位材料表格可得: 2017年1-4月份, 私营企业的营业成本为115248.6亿元, 同比增长12.5%。故2016年

1-4月份, 私营企业的营业成本 = $\frac{\text{现期}}{1 + \text{增长率}} = \frac{115248.6}{1 + 12.5\%} = \frac{115248.6}{1.125} \approx 100000^+$ 亿元, 与B项最接近。

故正确答案为B。

92. C

解析

定位材料表格, 可得: 2017年1-4月份, 全国规模以上工业企业中, 营业成本同比增长最快的工业企业为采矿业, 同比增长18.4%。

故正确答案为C。

93. D

解析

定位材料表格, 可得: 2017年1-4月份, 全国规模以上工业企业主营业务成本总体的同比增长速度为13.4%, 则主营业务成本的同比增长速度超过总体同比增长速度的工业企业有: 采矿业(16.5%)、制造业(13.5%)、国有控股企业(16.5%)、股份制企业(14.5%)共4个。

故正确答案为D。

94. C

解析

根据题干“2017年1-4月份……是……倍”, 且材料时间一致, 可判定本题为现期倍数问题。定位材料表格, 2017年1-4月份, 全国规模以上工业企业营业成本最高的工业企业类型为制造业(295514.4亿元), 营业成本最低的工业企业类型为集体企业(1826.8亿元)。则2017年1-4月份, 全国规模以上工业企业营业成本最高的工业企业类型约为营业成本最低的工业企业类型的 $295514.4 \div 1826.8 \approx 162$ 倍。

故正确答案为C。

95. C

解析

A项: 定位材料表格, 2017年1-4月份, 外商及港澳台商投资企业的主营业务成本70936.4亿元, 营业成本72203.1亿元, 则2017年1-4月份, 外商及港澳台商投资企业的主营业务成本约占营业成本的 $\frac{70936.4}{72203.1} \approx 98\%$, 正确;

B项: 定位材料表格, 2017年1-4月份, 制造业的主营业务成本290298.9亿元, 同比增长13.5%, 则2016年1-4月份, 制造业的主营业务成本 = $\frac{\text{现期量}}{1 + \text{增长率}} = \frac{290298.9}{1 + 13.5\%} = \frac{290298.9}{1.135} \approx 255770$ 亿元, 正确;



C项: 定位材料表格, 2017年1-4月份, 全国规模以上工业企业中, 营业成本的总体同比增长速度为13.6%, 则营业成本的同比增长速度超过总体同比增长速度的类型有: 采矿业(18.4%)、国有控股企业(17.0%)、股份制企业(14.6%)共3个, 错误;

D项: 定位材料表格, 2017年1-4月份, 全国规模以上工业企业中, 主营业务成本同比增长最快的工业企业类型是采矿业(16.5%)和国有控股企业(16.5%), 正确。

本题为选非题, 故正确答案为C。

96. A

解析

定位材料文字第一段, 可得: 2017年1-5月, B市实现社会消费品零售总额同比增长5.1%, 增速较1-4月回落0.2个百分点。则2017年1-4月, B市社会消费品零售总额同比增长 $5.1\% + 0.2\% = 5.3\%$ 。

故正确答案为A。

97. A

解析

定位材料图表, 可得: 2016年5月-2017年5月, B市社会消费品零售总额当月增速最慢出现在2017年4月, 最快出现在2016年11月。

故正确答案为A。

98. D

解析

根据题干“按照2017年1-5月的增长速度, 2018年1-5月……总额……亿元”, 可判定问题为现期计算问题。定位材料文字第一段, 可得: 2017年1-5月, B市实现社会消费品零售总额4283.6亿元, 同比增长5.1%。则按照2017年1-5月的增长速度, 2018年1-5月B市社会消费品零售总额为=基期量 $\times (1 + \text{增长率}) = 4283.6 \times (1 + 5.1\%) = 4283.6 \times 1.051 \approx 4502$ (注: 选项差距小, 需精确计算)。

故正确答案为D。

99. B

解析

根据题干“2017年1-5月……比……”结合选项为倍数且材料时间一致, 可判定本题为现期倍数问题。定位材料文字第三段, 可得: 2017年1-5月, B市汽车类商品零售额790亿元, 家用电器和音响器材类商品零售额193.4亿元。则2017年1-5月, B市汽车类商品零售额比家用电器和音响器材类商品零售额多 $790 \div 193.4 - 1 \approx 3.1$ 倍。

故正确答案为B。

100. D

解析



A 项: 定位材料图表, 可得 B 市社会消费品零售额累计增速逐月上升, 正确;

B 项: 定位材料图表, 可得 2017 年 3 月, B 市社会消费品零售额当月增速超过了 10%, 正确;

C 项: 定位材料文字第三段, 可得 2017 年 1-5 月, B 市汽车类商品实现零售额 790 亿元, 同比增长

6.3%, 则 2016 年 1-5 月, B 市汽车类商品实现零售额 = $\frac{\text{现期量}}{1 + \text{增长率}} = \frac{790}{1 + 6.3\%} = \frac{790}{1.063} > 700$ 亿元, 正确;

D 项: 定位材料文字第二段, 可得 2017 年 1-5 月, B 市用类商品零售额 2785.3 亿元; 定位材料文字第一段, 可得 2017 年 1-5 月, B 市实现社会消费品零售总额 4283.6 亿元, 则 2017 年 1-5 月, B 市用类商品零售额

占该市社会消费品零售额的比重 = $\frac{2785.3}{4283.6} \approx 65\% > 50\%$, 错误。

本题为选非题, 故正确答案为 D。