



2019 年河北省直事业单位 招聘考试

《职业能力测验》真题



公众号名称: 厚职事业单位, 扫码关注获取更多真题和资料
厚职教育事业单位招聘信息网 (www.kaosydw.com) 整理提供



2019 年河北省直事业单位考试行测真题及答案

2019 年河北省省直事业单位公开招聘工作人员《职业能力测试》真题

一、言语理解与表达。本部分包括表达与理解两方面的内容。请根据题目要求, 在四个选项中选出一个最恰当的答案。

1、“雄安新区”之所以被称之为“千年大计”, 其背后实则有重振北方经济, 使得中国经济的南北发展更趋均衡之意。从华北地区来看, 过去呈现出典型的区域内部发展不均衡, 京津冀的均衡发展水平远低于珠三角与长三角。“雄安新区”背后的另一层涵义, 则是通过实现京津冀更加紧密的一体化来促进华北地区的均衡发展。

这段文字暗含的意思是:

- A、华北地区内部发展不均衡
- B、我国经济南北发展不均衡
- C、京津冀均衡发展水平较低
- D、京津冀一体化可以促进华北地区的均衡发展

2、据调查, 我国有的老年人希望在自己家里安度晚年, 他们最大的愿望是在家门口就能享受到生活照料、康复理疗、文化娱乐等专业服务。日前, 北京市丰台区老龄办贴出公告, 试点通过政府购买“喘息服务”的方式, 给长期照料失能、失智老人的家庭成员每月放 4 天假, 需要服务的家庭可到居委会提出申请。“喘息服务”方式有两种, 一种是养老机构短期托养照顾, 一种是居家上门照料。

这段文字意在说明:

- A、社区将成为我国养老的主要场所
- B、我国绝大多数老人选择居家养老
- C、我国的“养老”问题过去一直依靠家庭内部解决
- D、政府职能部门承担起越来越多的“公共养老”责任

3、近年来, 习近平总书记多次在不同场合反复强调构建人类命运共同体, 这是中国传统和合思想在当代的发展。和而不同、美美与共是生命创造和生命兴盛的前提。万千世界如此丰富多彩, 恰恰是无限多样性的存在共同参与创造的结果。只有人类不同文明都带着其自身存在的意义与价值参与到人类命运共同体的构建之中, 不同文明、文化和而不同, 各美其美, 美美与共, 才有生生不息的人类大同。

这段文字意在强调:

- A、不同文明间是可以和而不同的
- B、各国应共同构建人类命运共同体
- C、中国传统和合思想在当代的发展
- D、不同文明都有其自身存在的意义与价值

4、奥林匹克运动强调体育运动与文化艺术融为一体, 促进人类全面和谐的发展, 现代奥林匹克运动的发展表明, 竞技运动精神价值的加强有赖于人类的文化艺术。多年来, 社会的物质生产和消费水平迅速提高, 而精神文化却相对贫乏, 由此使竞技运动出现了重物质、轻精神的现象, 出现了嫉妒、虚荣和



不信任的风气, 使竞技运动沦为低层次的娱乐消遣。要减少竞技运动中这些不协调的现象, 回到促进身心均衡发展的轨道, 就必须提高它的文化艺术价值, 使之成为高尚的社会文化活动。

根据这段文字, 导致竞技运动出现种种不协调现象的主要原因是:

- A、竞技运动逐渐沦为低层次的娱乐消遣
- B、人们对物质利益的追求超过对精神文化的追求
- C、物质生产和消费水平迅速提高, 精神文化相对贫乏
- D、长期以来社会上滋长了嫉妒、虚荣和不信任的风气

5、在西方, 足球曾经是卑贱、粗野的代名词。那时的足球活动没有什么规则, 更谈不上什么礼仪, 和打群架没有什么区别, 弄出人命是常有的事。但这种游戏特别血腥, 特别刺激, 特别有吸引力, 虽屡屡遭禁, 却每每“春风吹又生”。为了使得这个人们又爱又恨的游戏益于身心, 也为了改变“下贱的踢球人”的形象, 人们创造了足球规则, 增加了足球礼仪。

这段文字意在强调 ()。

- A、规则和礼仪对足球运动很重要
- B、足球在西方一直颇受大众欢迎
- C、足球运动曾有遭人唾弃的历史
- D、足球运动面貌经历了巨大变化

6、红色基因是中国共产党领导人民群众在伟大斗争实践中孕育的先进思想因子的结晶, 是中国共产党优良传统、思想路线、先进本质、精神风范的集中体现。中华人民共和国成立 70 年来, 红色基因在社会主义革命、建设和改革开放的伟大历程中薪火相传并蓬勃发展, 成为中国人民独特的精神标识, 需要中国人民发扬光荣传统、传承红色基因、不忘初心、继续前进, 把传承红色基因与培育时代新人有机结合起来, 在新的历史起点上当好红色基因的传承者和实践者。

这段文字主要谈论的是:

- A、与时俱进地传承红色基因
- B、红色基因是党的思想结晶
- C、红色基因是中国人民的精神标识
- D、红色基因是党精神风范的集中体现

7、人到中年, 睡眠情况也会有所改变, 如一般人在清晨 3~5 点和午间的睡意最高, 当身体发出睡眠信号后, 保持清醒的时间越长, 进入深睡眠的可能性越高。这是大脑中一种被称为“腺苷”的物质堆积增多造成的。长时间的午睡会让大脑彻底清除腺苷, 导致晚上失眠。不过, 短时间午睡能提升记忆力, 提高下午工作效率, 时间控制在 30~60 分钟最好。

根据这段文字, 不能推出的是:

- A、午睡会导致晚上失眠
- B、午睡时间不宜超过一个小时
- C、人脑中“腺苷”堆积越多, 则越容易进入深睡眠
- D、困了以后不要马上就睡, 反而能获得良好的睡眠质量



8、法国人的衣着讲究时尚化、多彩化, 其时装代表着世界服装新潮流。巴黎在法国北部盆地的中央, 城跨塞纳河两岸。巴黎有许多世界闻名的艺术建筑, 如高耸的埃菲尔铁塔、迷人的卢浮宫和凡尔赛宫、神秘的巴黎圣母院、雄伟的凯旋门等。巴黎的“街头艺术”同样令人神往, 包括闻名世界的露天画廊、随时随地可组织起来的街头音乐会、沿街建筑上随处可见的小小纪念碑等等。

这段文字意在说明:

- A、巴黎的丰富多彩
- B、法国的人文地理特点
- C、巴黎的艺术建筑世界闻名
- D、闻名遐迩的巴黎人文风景

9、猩猩峡外的沙漠, 如果在中午阳光正射的时候, 那单纯而强烈的反光会使你的眼睛不舒服。四顾只是茫茫一片, 那样的纯然一色, 即使偶尔有些驼马枯骨, 它那微小的白光, 也早融入了周围的苍茫, 又是那样的寂静, 似乎只有热空气在作哄哄的火响。

对“融入”一词正确的解释是:

- A、驼马枯骨在沙漠强烈的阳光下消融了
- B、茫茫的沙漠中难以发现微小的驼马枯骨
- C、驼马枯骨微小的光消融在茫茫的沙漠中
- D、驼马枯骨微小的白光与沙漠强烈的阳光形成巨大反差

10、中国发展的密码在哪里? 时至今日, 这依然是很多国外观察者苦苦求索的问题。有学者认为, 谁能解释中国经济, 谁就能获诺贝尔经济学奖。曾提出中国发展“冲击——回应”模式的著名学者费正清, 在去世前否定了自己的这一提法, 他说, 经过 50 年的阅历和观察, 他发现中国的现代化很可能不是“冲击——回应”的结果, 而是自身内在基因变革和内在发展冲动的结果。中国的现代化道路, 具有自身的内在性和动力源。

这段文字意在强调:

- A、学者费正清解释了中国发展的密码
- B、对中国发展密码存在多种解读模式
- C、诺贝尔经济学奖获得者没能解释中国经济
- D、中国的现代化道路具有独特的内在性和动力源

11、2019 年 4 月 23 日, 作为全国第三批启动高考综合改革试点的 8 个省市, 河北、辽宁、江苏、福建、湖北、湖南、广东、重庆发布本省市实施方案。而考生与家长最关注的, 依旧离不开“考试怎么考”、“成绩怎么算”、“高校怎么招”等关键问题。对此, 记者在梳理政策的同时, 采访了多位考试招生专家。

作者接下来最有可能阐述的是:

- A、关于“高校怎么招”的新政策和专家看法
- B、关于“成绩怎么算”的新政策和专家看法
- C、关于“考试怎么考”的新政策和专家看法



D、关于高考综合改革的新政策方案和专家看法

12、前来巴塞罗那“朝圣”的年轻学生终年不绝,他们与其说为凭吊中世纪名胜而来,不如说是被安东尼·高迪这位现代主义大师的作品所吸引。毕加索虽说出生于马加尔,但在巴塞罗那的阿吉拉宫,你可以观赏到他从8岁起按年代陈列的琳琅满目的作品。达利早年狂热地迷恋海洋,一生大部分时间在有着白色粉墙的渔村里度过,但他超现实主义的天才之作却珍藏在这个艺术的圣地——他的诞生与安息之地。

这段文字意在强调:

- A、巴塞罗那是一个绘画艺术的圣殿
- B、现代主义的作品吸引了年轻的艺术家
- C、画家去世后其作品一般被保存在他的故乡
- D、画家去世后其作品不一定保存在他的出生地

13、在世界战争史上,滑铁卢大战以战线短、时间短、影响大、结局意外而著称。正如法国著名作家维克多·雨果所说,滑铁卢是一场一流的战争,而得胜的却是二流的将军。大战前一天突降大雨,整个滑铁卢变成一片泥沼,拿破仑主力火炮部队在泥沼中挣扎,进不了阵地,所以进攻炮火打晚了,失败由此成为定局。这一战不仅彻底结束了拿破仑的军事生涯和政治生命,也改变了欧洲的历史进程。

根据这段文字,可以推断出的是:

- A、雨果眼中的滑铁卢战争
- B、滑铁卢战争失败的细节
- C、拿破仑军事生涯结束的原因
- D、滑铁卢是“失败”的代名词的原因

14、乔布斯打造苹果手机,追求的是每一个产品细节和营销上极致的情感体验;奇葩说节目上那些打动人的辩手,一定最能共情到人内心深处最真实的情感;那些经典的广告文案,让人不断花钱的游戏,每一个设计都戳中一个情绪点;甚至,在生活中,同一个想法换个暖心的表达,便能达到不同的效果。这些都和“感受”分不开。

这段文字意在说明:

- A、注重“情感体验”的时代已经来临
- B、给产品注入“情感”比提升产品质量更重要
- C、一切卓越源自对人类内心最真实的感受和触碰
- D、人们更多地将自身感受作为选择产品和服务的首要考虑因素

15、有人大胆预言,假如不好好控制肥胖和糖尿病,那中国经济发展的势头很有可能被抵消,经济将因此受到拖累。因此,有关专家建议,中国政府可以制定相应的政策,比如学校里不卖可乐等甜饮料;多鼓励大家走路,骑自行车上班的可适当发放交通补助;现在流行的自助餐形式应该改善,比如定个规矩,吃得多交钱就得多,吃得少要奖励。中国政府应该在宣传教育上多做工作,这才是真正切实可行的。媒体也应发挥职能,多宣传肥胖对健康的危害,以及正确的减肥方法。企业也应该承担起一部分



责任。比如恢复以前流行的工间操, 让员工定时出去锻炼。这对今天的中国来讲, 应具有某些启发的意义, 因为这关系到中国的未来。

这段文字意在强调:

- A、减肥应该从个人小事成为国家大事
- B、解决肥胖问题政府应发挥主导作用
- C、肥胖能影响一个国家经济发展的质量
- D、解决肥胖问题需要政府、企业和个人的共同努力

16、所谓诚其意者, 毋自欺也, 如恶恶臭也, 如好好色。此之谓自谦。故君子必慎其独。小人闲居为不善, 无所不至, 见君子而后厌然, 揜其不善而著其善。人之视己, 如见其肺肝然, 则何益矣? 此谓诚于中, 形于外。故君子此慎其独也。曾子曰: “十目所视, 十手所指, 其严乎!”

这段文字意在说明:

- A、君子应该注重品德
- B、君子应该有高尚的德行
- C、君子应该注重自身德行的修养
- D、君子应该注重内心德行的修养

17、历史从来不是在温情脉脉的人道牧歌声中进展, 相反, 它经常要无情地践踏千万具尸体而前行。炫耀暴力和武功, 是氏族、部落大合并的早期宗法制这一历史时期的光辉和骄傲。所以, 继原始的神话、英雄之后的, 便是这种对自己氏族、祖先和当代的种种野蛮吞并战争的歌颂和夸扬。殷周青铜器也大多为此而制作, 它们作为祭祀的“礼器”, 多半供献给祖先或铭记自己武力征伐的胜利。

这段文字意在强调:

- A、殷周青铜器是祭祀的“礼器”
- B、历史经常要无情地践踏千万具尸体而前行
- C、殷周青铜器大多为歌颂和夸扬吞并战争而制作
- D、炫耀暴力和武功是早期宗法制时期的光辉和骄傲

18、谈起 5G, 人们往往有一种矛盾的心态, 觉得它若即若离, 忽近忽远。一方面, 小到商家广告, 大到国际竞争, 5G 都当仁不让地成为高频词汇。这时, 大家觉得 5G 在舆论上离我们很近。但另一方面, 有时又觉得 5G 离我们还很遥远, 谁也不知道它何时能像 4G 一样, 深度融入我们的生活, 也不清楚当那一天来临时, 我们的生活到底会发生哪些根本性的变化。造成这种现象的重要原因, 就是在技术与消费者之间, 还隔着一座“应用”的桥。只有通过应用的变化, 消费者才能感知到技术的变化。

这段文字意在说明:

- A、人们对 5G 的矛盾心态
- B、应用对于 5G 的重要性
- C、5G 若即若离, 忽远忽近
- D、5G 成为当前人们谈论的热门话题

19、把下面的几段文字, 组成一段语意连贯的话, 排序最恰当的是:



① “盛年不重来, 一日难再晨”

②从“风雨如磐暗故园”的年代一路走来, 投笔从戎、参加抗战的学生, 抗美援朝、保家卫国的战士, 走南闯北、摸爬滚打的创业者……一代代青年以奋斗为人生交上了完美的答卷

③谁都只有一次青春, 谁也不应作青春的看客

④反过来说, 青年时的成绩与挫折, 都将成为受用终身的财富。由此看来, 无奋斗, 不青春, 努力拼搏是青年的最鲜明标志

⑤五四运动为中国青年奠定了精神的基调

⑥在人生的“拔节孕穗期”, 在思想最开放、精神最活跃、精力最旺盛的年纪, 如果不学更多本领、干一番事业、扣好人生的“第一粒扣子”, 只会成为莫大的缺憾

A、①③⑥④⑤②

B、⑤⑥④②①③

C、①③⑤⑥④②

D、⑤②①③⑥④

20、将脚步放慢一点, 我们才能听到别人的心声和自我灵魂的独白。__。因此, 我们不妨将脚步放慢一点, 多多聆听心灵的激情呼唤或喃喃低语。

把下面的几段文字, 填入画横线处, 组成一段语意连贯的话, 排序最恰当的是:

①倘若钟子期当时步履匆匆, 就不可能听清楚, 更谈不上欣赏伯牙弹奏的“高山流水”了

②因此, 与他人沟通的最好方式就是倾听。然而, 倾听是需要一种定力的

③“高山流水逢知音”, 琴师伯牙与樵夫钟子期演绎了千古知音情

④没有人会把自己的内心世界完全暴露给别人, 也没有人能够不让自己的愿望从言语中流露出来

⑥孙子曰“知彼知己, 百战不殆。”其实, “知彼”难, “知己”更难

⑥心浮气躁的人, 既无暇听清别人的心声, 也很难静心聆听自我灵魂的独白

A、③①②④⑤⑥

B、④②③①⑥⑤

C、⑤③①②④⑥

D、⑥②①③④⑤

(一)

现在有不少关于鸡蛋的不利传闻, 说蛋黄含有大量胆固醇, 吃鸡蛋会升高血脂, 增加心血管疾病风险。而且, 权威的《美国医学会杂志》在近日发表的一项研究似乎也为这一论点提供了佐证。那究竟鸡蛋是“好”还是“坏”? 我们来深入看看。

该杂志发表的这项研究中, 有接近 3 万名成年人参与。研究开始前参与者需要填写一份饮食习惯, 在 17 年间, 观察这些习惯与心血管事件的关联性。结果显示, 与不吃鸡蛋的人相比, 每天吃半个鸡蛋的人心脏病发作、中风或过早死亡的相对风险增加 6%~8%。

但是, 这项研究的设计有几个缺陷, 其一, 参与者通过回忆填写的饮食习惯不一定可靠; 其二, 17 年间参与者的饮食习惯不可能一成不变; 其三, 结果得出的关联性不一定是因果关系。因此, _____。



关于鸡蛋与心血管健康的关系, 我们可以参考中国人自己的研究数据。在 2018 年发表的一项统计超过 50 万人的研究发现, 每天吃一个鸡蛋的人, 发生心血管事件风险降低 11%, 心血管事件死亡风险降低 18%。另一项接近 3 万人的研究发现, 每天吃一个鸡蛋不会增加心血管死亡风险, 甚至还能降低卒中的风险。

还有一个关键问题我们应该了解, 我们吃进去的胆固醇越多, 血液中胆固醇就会越多吗? 事实并非如此! 人体不是一个容器, 而是一个极其复杂的系统, 摄入量和体内水平不能简单地画等号。

实际上, 身体中的胆固醇大部分是由自身合成的, 肝脏每天大约合成 1000 毫克胆固醇, 这相当于 5 个鸡蛋所含的胆固醇量。而且, 当你吃进去更多的胆固醇, 身体产生的胆固醇就会越少, 以便维持胆固醇的正常水平。

有研究发现, 对于的人群来说, 每天 1~3 个鸡蛋不会升高低密度脂蛋白胆固醇 (坏胆固醇) 水平。但是, 在整体人群中, 有 30% 的人对鸡蛋中的胆固醇较敏感, 而导致低密度脂蛋白胆固醇升高。我们可以通过吃鸡蛋和检测血脂相结合, 来判断自己是否对鸡蛋有“超反应”。

最后, 我们来总结一下, 鸡蛋不仅有大量的蛋白质, 也有一定水平的胆固醇, 还含有叶黄素等抗氧化物质, 是营养丰富的食品。对于的人来说, 每天吃 1~3 个鸡蛋不会升高血液的胆固醇水平, 但是, 如果您是鸡蛋的“超反应”者, 或者您的胆固醇水平较高, 就应该适当控制鸡蛋或者蛋黄的摄入量。所以, 鸡蛋是“好”还是“坏”, 还得看您的个体情况。

21、最适合做这段文字标题的是:

- A、鸡蛋的真相
- B、您能吃鸡蛋吗
- C、鸡蛋的中外研究对比
- D、鸡蛋的“好”与“坏”

22、填入文中画横线处, 最恰当的一项是:

- A、发表在权威杂志上的论文也未必不存在瑕疵
- B、这些设计上的缺陷直接影响着这项研究结果的可信度
- C、这项研究的结果并不能证明吃鸡蛋会增加心血管疾病的风险
- D、这项研究必须消除设计上的缺陷后才能得出让人信服的结论

23、下列哪项不是《美国医学会杂志》发表的研究存在的设计缺陷:

- A、成人在十年间的饮食习惯会发生一些变化
- B、无法证明鸡蛋是导致心脑血管疾病的原因
- C、人们对自己饮食习惯的回忆并不一定准确
- D、参与者的数量没有达到该研究的最低要求

24、下列表述最符合文意的一项是:

- A、每个鸡蛋大约含有 200 毫克的胆固醇
- B、人体摄入的胆固醇越高, 体内的胆固醇水平也就越高
- C、我国的研究发现, 每天吃五个鸡蛋能降低心血管发病率



D、以上的人即使每天吃 2 个鸡蛋, 体内低密度脂蛋白胆固醇也会升高

25、下列说法, 作者最不认可的是:

- A、鸡蛋中的胆固醇主要集中在蛋黄
- B、吃鸡蛋后没有异常反应的人应该坚持食用
- C、鸡蛋中含有的抗氧化物质对人体非常有益

26、两岸的豆麦和河底的水草所散发出来的清香, _____在水气中扑面的吹来; 月色便_____在这水气里。淡黑的起伏的连山, 仿佛是_____的铁的兽脊似的, 都远远地向船尾跑去了, 但我却还以为船慢。

- A、掺杂 游离 跳跃
- B、麇杂 埋没 跳动
- C、混杂 迷蒙 奔腾
- D、夹杂 朦胧 踊跃

27、文学说到底还是关乎心灵的事, 它给心灵注入养料, 给心灵_____黑暗, 给心灵以润物细无声的_____, 让它变得更加饱满、更加有力, 从而能感受更_____的生活。

- A、遮蔽 滋养 美妙
- B、驱散 滋补 辽远
- C、消除 关爱 壮阔
- D、驱赶 关怀 多彩

28、最使我艳羡的还是园林艺术家化平淡为神奇的_____。某些树木当植当伐; 某些花卉当疏当密; 何处须巧借地形, 顺势筑坡; 何处又宜少见轩敞, _____: 所有这一切都煞费心血, 但又不露惨淡经营的痕迹, 正像一帧名作脱稿前画师那奇绝而_____的点睛之笔。

- A、匠心 别有洞天 浑成
- B、技艺 别有情趣 饱满
- C、本领 别树一帜 惊艳
- D、技巧 别有天地 浑圆

29、这几年流行过一种“食物艺术”, 艺术家用各种方式把可以吃下去的东西变成不能吃的视觉_____, 除去食物最重要的功能和本质, 使之_____成能够让人欣赏的艺术品。

- A、作品 转变
- B、盛宴 转化
- C、产品 提升
- D、媒介 升华

30、家风, 是一个家庭或家族长期以来形成并_____的道德操守和处世方法。家风中蕴藏着先人所_____的价值理念和道德规范, 也包含着简单朴素的为人_____。千百年来, 家风在一个个家庭里承载、延续, 奠定了整个民族文明的基础。

- A、传承 恪守 准则



- B、发展 坚守 规矩
- C、传播 遵守 规则
- D、维护 信守 原则

31、长生草的进化历史要从一百多年前说起。那时欧洲百姓开始把长生草从野外带回家园,用它来美化环境。他们将长生草从石缝中拔下来,_____地扔到屋顶上,_____的长生草就把根扎在瓦片间,长出一座空中花园。后来园艺家们也_____到这种神奇植物,通过近百年的杂交培育,目前已有400多个园艺品种。

- A、随便 坚强 注意
- B、粗暴 顽强 关注
- C、随意 倔强 留心
- D、野蛮 坚毅 留意

32、①人在生命中_____,只顾衣食欲望而没有觉醒的心,和蟑螂、蚊子又有什么两样呢?

②有智慧的人,一直以来都在享受每一秒,因为他知道这一秒一旦过去就永不再来;而愚痴的人,一直以来都在抱怨每一秒,总觉得这一秒不幸,下一秒才好!同样经历每分每秒,但_____,天地悬隔。

③丧失阅读的习惯,我们哀悼的将不仅仅是实体书店的消亡,而是一个崇尚诗书礼乐的民族失去精神家园后的_____。

- A、无的放矢 泾渭分明 迷失
- B、行尸走肉 得过且过 迷茫
- C、浑浑噩噩 南辕北辙 迷离
- D、张皇奔走 毫厘之差 迷惘

33、拿热点资讯来说,每一条 APP 推送,背后都有一个运营团队_____,经过初审、复审等一系列环节,有专业的消费者行为学理论作_____,用尽各种技法。目的是什么呢?就是吸引你的注意力,让你点进去。

- A、集思广益 指导
- B、精心谋划 基础
- C、群策群力 支撑
- D、同甘共苦 背景

34、人生难免会寂寞,但寂寞的滋味却不尽相同。陶渊明“采菊东篱下”的寂寞是_____的,苏轼“人有悲欢离合”的寂寞是_____的,柳宗元“独钓寒江雪”的寂寞是_____的,李白“我歌月徘徊”的寂寞是的_____;唯有直面寂寞,才能品出别样人生。

- A、洒脱 豁达 孤傲 浪漫
- B、浪漫 豁达 孤傲 洒脱
- C、洒脱 浪漫 豁达 孤傲
- D、孤傲 洒脱 浪漫 豁达



35、中国特色社会主义文化, _____于中华民族五千多年文明历史所孕育的中华优秀传统文化, _____于党领导人民在革命、建设、改革中创造的革命文化和社会主义先进文化, _____于中国特色社会主义伟大实践。

- A、融会 融合 融入
- B、源自 熔铸 植根
- C、萌芽 成长 形成
- D、发端 发展 发轫

36、①阳光柔媚, 轻风拂面, 我闲坐于兰苑窗前, 思绪如白云_____于蓝天。

②培育“工匠精神”, 需要全社会弘扬_____、一丝不苟、追求卓越、爱岗敬业的品格。

③某些食品生产经营企业_____, 只顾眼前利益, 滥用食品添加剂以获取高额利润, 严重危害了消费者健康。

- A、飘荡 精雕细琢 目光短浅
- B、徜徉 精益求精 鼠目寸光
- C、徘徊 精挑细选 胡作非为
- D、游离 精妙绝伦 利益熏心

37、奋斗是青春最亮丽的底色。新时代中国青年要勇做走在时代前列的奋进者、开拓者、奉献者, 毫不畏惧面对一切艰难险阻, 在_____中开拓前进, 在_____中开辟天地, 在_____中创造业绩, 用青春和汗水创造出让世界刮目相看的新奇迹!

- A、攻坚克难 劈波斩浪 披荆斩棘
- B、攻坚克难 披荆斩棘 劈波斩浪
- C、披荆斩棘 劈波斩浪 攻坚克难
- D、劈波斩浪 披荆斩棘 攻坚克难

38、王羲之、颜真卿的作品让我们认识到书法是心灵和性格的表现。王羲之酒后即兴而作《兰亭集序》, 字体式样_____, 笔面疏密有致, 大小自由随性。尤其是全篇二十多个“之”字, 个个_____. 此帖被称为“天下第一行书”。颜真卿的侄儿在安史之乱中义不从贼, 全家惨遭杀害, 颜真卿_____, 写下《祭侄文稿》, 其字笔画相重, 字字独立, 痛切之情读之可感。此帖被称为“天下第二行书”。

- A、行云流水 圆润婉转 情真意切
- B、变化多端 别具一格 义愤填膺
- C、千变万化 飘逸洒脱 悲痛欲绝
- D、变幻莫测 匠心独具 义正词严

39、亚特兰蒂斯文明的传说, 在今天听来有些像是_____。然而柏拉图反复强调, 这是历代_____的事实。古希腊另一位伟大的哲学家苏格拉底也认为, 确实曾经存在着一个亚特兰蒂斯岛。而世界各地的民间传说也在不约而同的认证着那个_____的古代文明。

- A、离奇古怪 口说耳听 神秘莫测



- B、无稽之谈 口传心授 望而不及
- C、天方夜谭 口耳相传 遥不可及
- D、荒诞不经 流传不息 高不可攀

40、秋是成熟的季节, 是收获的季节, 是充实的季节, 却也是_____的季节。它饱经了春之蓬勃与夏之繁盛, 不再以受赞美、被宠爱为荣。它把一切赞美与宠爱都_____在澹澹的秋光外, 而愿做一个闲闲的、远远的、可望而不可即的秋。

- A、宁静 遗留
- B、寡淡 抛弃
- C、清冷 遗忘
- D、淡泊 隔离

41、丰富多彩的地球自诞生之日起就隐藏着太多的奥秘, 沧海桑田, 在不断变化中演绎着不朽的神奇。然而, 人类一直都没有停止探索地球的脚步, _____的求知欲让世界变得美好而有趣。无论是浩瀚的宇宙、神奇的自然、蔚蓝的海洋、变化万千的气候, 还是_____的动物、生机勃勃的植物, 或是奇妙的人类, 每一个知识都会带给你_____的神奇感受。

- A、无法控制 生机盎然 意想不到
- B、永无止境 千奇百态 忘乎所以
- C、永不满足 奇趣盎然 超乎想象
- D、无法抑制 形形色色 美不胜收

42、“天地英雄气, 千秋尚凛然”。无论哪一个时代, 英雄的事迹和精神都是_____社会前行的强大力量。期盼“崇尚英雄”_____, 光荣永远传承, 英雄永不独行。

- A、推动 蔚为大观
- B、激励 蔚然成风
- C、鞭策 高山仰止
- D、勉励 风靡一时

43、天幕上, 群星闪闪烁烁, 静静地_____着黑黝黝的地面, 突然在大熊星座中, 飘洒出一缕彩虹般的神奇光带, 如烟似雾, 摇曳不定, 最后化成一个硕大无比的光环, _____在北斗星的周围。其时, 环的亮度急剧增强, 宛如皓月悬挂当空, 向大地_____一片淡银色的光华。

- A、鸟瞰 环绕 倾泻
- B、俯瞰 萦绕 泻下
- C、注视 萦绕 抛洒
- D、凝视 围绕 喷发

44、我们读所有的书, 最终的目的都是读自己。读有益的书, 你会发现_____的心平息下来了, 有种_____的感觉, 你会发现你百思不得其解的困惑, 千百年来被无数的人思考过, 并且提供了各种各样的答案。每一本在你心目中值得阅读和记住的书, 都是因为其中_____着未来你更期待的那个自己。

- A、焦躁 豁然开朗 蕴藏



- B、焦灼 醍醐灌顶 隐含
- C、焦虑 茅塞顿开 蕴含
- D、焦急 幡然醒悟 暗藏

45、从出土的楚乐器看, 编钟与编磬往往在一起, 以构成“金石之声”。编钟音色丰富优美, 重击如_____, 轻敲若_____, 闻之令人心旷神怡; 编磬至今仍有优美的音质, 并刻有以凤鸟为主题的凹凸纹饰。这些凤鸟, 有的回首展翅_____, 有的昂首远眺_____, 有的仅露首尾神态盎然, 充分体现了楚人声形兼美的匠心。

- A、万马奔腾 余音绕梁 蓄势待发 惟妙惟肖
- B、鼓乐喧天 喃喃自语 传神写照 跃然纸上
- C、雷霆万钧 风动杨柳 动感十足 栩栩如生
- D、惊涛拍岸 风摆荷叶 呼之欲出 活灵活现

二、数量关系。在四个选项中选出一个最恰当的答案。

46、的得数小数点后第 406 位上的数字是几?

- A、1
- B、2
- C、4
- D、8

47、口袋里有 6 个白球和若干个黑球, 它们除颜色外完全相同。从中摸出一球, 若摸出白球的可能性是 $\frac{3}{11}$, 则黑球比白球多几个?

- A、8
- B、10
- C、14
- D、16

48、甲乙两车分别从 A、B 两地同时出发相向而行, 甲车每小时行 90 公里, 乙车速度是甲车的 $\frac{4}{5}$, 当甲车行至全程的 $\frac{2}{5}$ 时, 乙车距离中点还有 45 公里。A、B 两地相距多少公里?

- A、175
- B、200
- C、225
- D、250

49、如果在某月份里, 星期五、星期六和星期日各有 5 天, 那么该月的 1 日是星期几?

- A、星期五
- B、星期六
- C、星期日
- D、星期一



50、从 1001, 1002, 1003, 1004, 1005, 1006, 1007, 1008, 1009 中任意选出四个数, 使它们的和为偶数, 共有多少种不同的选法?

- A、60
- B、62
- C、65
- D、66

51、已知白糖水有若干毫升, 第一次加入一定量的水后, 白糖水的浓度为; 第二次加入同样多的水后, 白糖水的浓度变为。第三次加入同样多的水后, 白糖水的浓度为多少?

- A、1%
- B、1.25%
- C、1.5%
- D、1.75%

52、小鹏家的座钟快 2 分钟, 当北京标准时间为 5 点 6 分时, 小鹏家座钟的分针与时针间的夹角为多少度?

- A、102
- B、106
- C、112
- D、142

53、老张从家到单位上班, 出发时他看看手表, 如果步行, 每分钟走 50 米, 他将迟到 12 分钟; 如果骑自行车, 每分钟行 150 米, 他可以提前 8 分钟。老张出发时离上班时间还有多少分钟?

- A、15
- B、16
- C、17
- D、18

54、货场上有一堆沙子, 如果用 3 辆卡车, 4 天可以运完; 如果用 4 辆三轮车, 5 天可以运完; 如果用 20 辆手推车, 6 天可以运完。现在由 2 辆卡车、3 辆三轮车、7 辆手推车共同运两天后, 全部改用手推车运, 必须在两天运完, 后两天每天至少需要多少辆手推车?

- A、9
- B、12
- C、15
- D、18

55、用 64 盆花围成每边两层的空心方阵, 若在外再增加一层成为三层空心方阵, 需增加多少盆花?

- A、44
- B、48
- C、52



D、60

56、有四张扑克牌, 牌的数字互不相同, 并且都在 10 以内。把四张牌洗好后, 分别发给甲、乙、丙、丁四人。每人记下自己牌的数字, 再重新洗牌、发牌、记数。这样反复三次后, 四人各自记录的数字和分别为 11、17、18、20。这四张牌的数字和是多少?

A、21

B、22

C、23

D、24

57、东风小学有 3 名同学去参加数学竞赛, 一份试卷共 10 道题, 答对一题得 10 分, 答错一题倒扣 3 分。这 3 名同学都回答了所有的题目, 小明得 74 分, 小华得 22 分, 小红得 87 分, 他们三人共答对多少题?

A、21

B、22

C、23

D、24

58、某停车场白天和夜间两个不同时段的停车费的单价不同。假如某车辆在 2 月份白天的停车时间比夜间要多 40%, 3 月份白天的停车时间比夜间要少 40%。若 3 月份的总停车时间比 2 月份多 20%, 但停车费用却少了 20%, 那么该停车场白天时段与夜间时段停车费的单价之比是多少?

A、3:1

B、5:1

C、15:1

D、25:1

59、甲乙丙三人都始终以匀速进行 400 米赛跑, 当甲冲过终点时, 领先乙 50 米, 领先丙 120 米。当乙到达终点时, 领先丙多少米?

A、40 米

B、70 米

C、80 米

D、90 米

60、由 1、2、3、4 不重复使用数字组成的所有四位数, 将这些四位数从小到大依次排列, 则 3421 排在多少位?

A、15

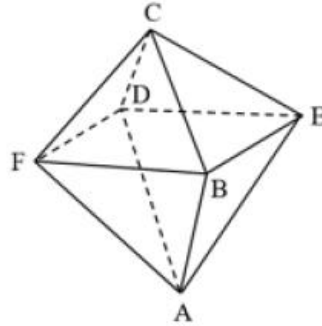
B、16

C、17

D、18



61、如右图所示, 八面体顶点 A 有一只蚂蚁沿棱爬行, 每个顶点最多只能经过一次, 共有多少种不同方法可以到达顶点?



- A、28
- B、30
- C、32
- D、34

62、小张到果园采摘水果, 共摘了桔子 52 个、苹果 47 个。果园提供三种规格的小型水果箱子, 分别能装 4 个、7 个、11 个水果, 每个箱子售价均为 10 元。要求每个箱子只能装一种水果且必须装满。小张购买箱子最少需要多少元?

- A、100
- B、110
- C、120
- D、130

63、李师傅加工 1000 个零件后, 改进技术, 工作效率提高到原来的 2.5 倍, 再加工 1000 个零件时, 比改进技术前少用了 12 小时。改进技术后每小时比原来多加工多少个零件?

- A、50
- B、75
- C、100
- D、125

64、有大、中、小三个正方形水池, 底面边长分别是 10 米、6 米和 4 米。把两堆碎石分别沉入中、小两个水池里面, 水面分别上升了 10 厘米和 20 厘米。如果把这两堆碎石都沉入大水池中, 水面会升高多少厘米?

- A、6.8
- B、7.2
- C、7.8
- D、8.5

65、某商场以每件 120 元的成本价进货 80 件裙子, 按获利定价。裙子售出后, 剩下的打 5 折售完。该商场销售这批裙子共获利多少元?

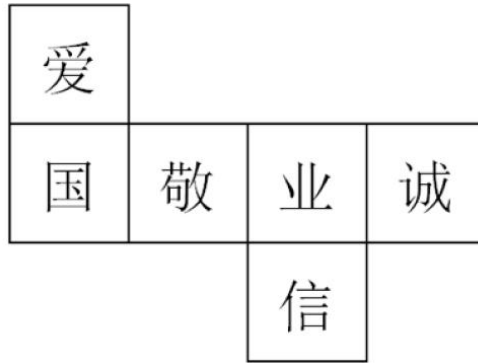
- A、2040



- B、2960
- C、3360
- D、3600

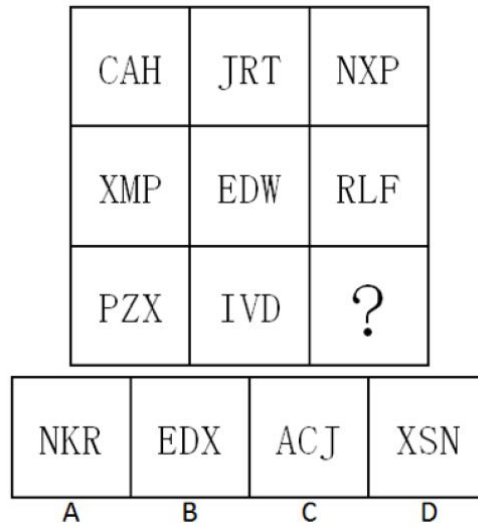
三、判断推理。本部分包括图形推理、定义判断、类比推理、逻辑判断四种类型的题目, 在四个选项中选出一个最恰当的答案。

66、正方体的每个面上都有一个字, 其平面展开图如下。在该正方体中与“诚”相对的字是:

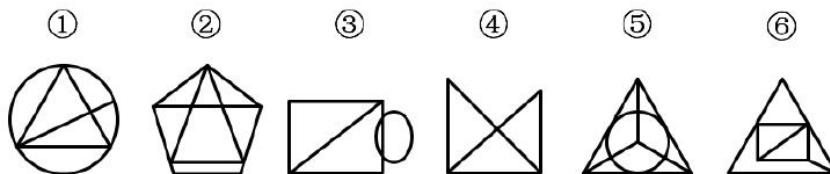


- A、爱
- B、信
- C、国
- D、敬

67、从所给四个选项中, 选择最合适的一个填入问号处, 使之符合已呈现的规律性:



68、把下面的图形分为两类, 使每一类图形都有各自的共同规律或特征, 分类正确的一项是:



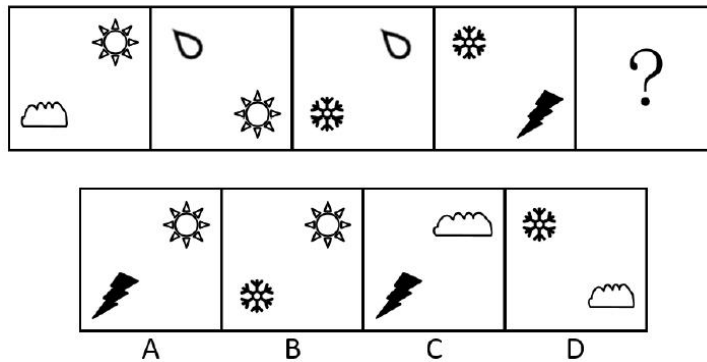
- A、①②⑥, ③④⑤
- B、①③④, ②⑤⑥



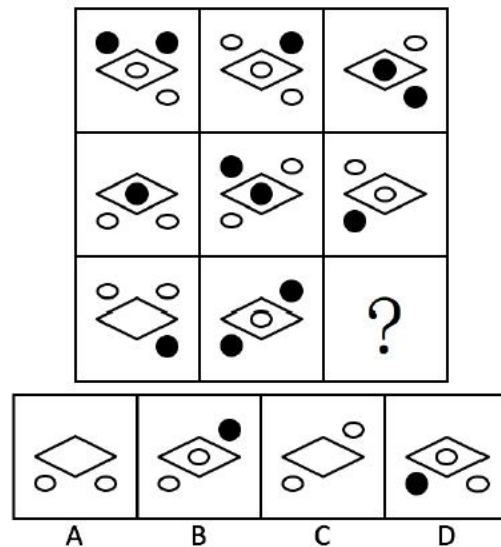
C、①③⑤, ②④⑥

D、①④⑤, ②③⑥

69、从所给四个选项中, 选择最合适的一个填入问号处, 使之符合已呈现的规律性:



70、从所给四个选项中, 选择最合适的一个填入问号处, 使之符合已呈现的规律性:



71、先用权是指专利申请之前, 已有人制造相同产品, 或使用相同方法, 或已作好制造或使用的必要准备, 则在批准申请人的专利权以后, 上述人员仍可在原范围内继续制造和使用的权利。

根据上述定义, 下列不属于先用权的是:

A、某公司获得专利权后发现另一公司一年前就已经生产该类产品

B、老周将祖传秘方申请专利, 同样知道该秘方的弟弟继续使用秘方生产中成药

C、甲、乙公司都为生产某种产品安装好了全套设备, 甲公司获得专利权后, 乙公司继续生产

D、很多工厂的专业技术人员都在研究激光切割刀, 虹光机械加工厂获得该项专利后, 其他工厂也可以无偿使用该项专利生产激光切割刀

72、信赖保护原则是行政法的一项基本原则, 是指政府对自己作出的行为或承诺应守信用, 不得随意变更、反复无常。

根据上述定义, 下列违反信赖保护原则的是:

A、某市环保局认为县级环保局对某企业处罚五万元过重, 改为罚款两万元

B、某地市场监管局规定, 凡是外地啤酒进入本地销售必须先获得该局许可, 并缴纳特别经营费, 因该规定涉嫌行政垄断被上级机关废除



C、某市公安局拟吊销钱某的特种行业经营许可证, 后经证实钱某的经营并不存在违法行为, 未对钱某进行处罚

D、某市政府规定, 对能够吸引企业到本市投资的个人进行奖励, 老马引荐某大型央企到该市进行投资, 事成之后市政府却以老马是本市公务人员为由拒绝给付奖励

73、疑罪是指司法机关对被告人是否犯罪或罪行轻重难以确证的情况。疑罪从无是指刑事诉讼中, 检察院对犯罪嫌疑人的犯罪事实不清, 证据不确实、充分, 不应当追究刑事责任的, 应当作出不起诉决定。

根据上述定义, 下列符合疑罪从无原则的是:

- A、张三起诉李四侵权, 但因拿不出任何证据, 结果败诉
- B、王五因涉嫌投毒被起诉, 后因证据不足, 法院判决王五无罪
- C、赵六因窃取他人网银密码被起诉, 但赵六证明了自己不会使用网银, 法院判其无罪
- D、钱七和马八两人互殴, 二人均轻微受伤, 但无法证明谁先动的手, 法庭建议庭外和解?

74、蘑菇管理是许多组织对待初出茅庐者的一种管理方法, 初学者被置于阴暗的角落 (不受重视的部门, 或打杂跑腿的工作), 浇上一头大粪 (无端的批评、指责、代人受过), 任其自生自灭 (得不到必要的指导和提携)。“蘑菇”的经历能够帮助年轻人消除不切实际的幻想, 对形形色色的人与事物有更深入的了解, 为今后的发展打下坚实的基础。

根据上述定义, 下列不属于蘑菇管理的是:

- A、某五星级酒店餐厅的厨师刚入职时切葱姜蒜至少半年
- B、小高跟着师傅学木匠, 近一年的时间里, 师傅只让他整理各种工具
- C、李雷自己开了一家烟酒店, 十几年来勉强维持生计, 至今未能买房娶妻
- D、小马从厦门大学会计学专业毕业后, 在一家会计师事务所工作, 每天的主要工作就是接待来访人员、接打电话、打扫卫生等, 一直持续了三年

75、人身关系是与人身不可分离, 以人身利益为内容、不直接体现财产利益的社会关系。人身关系包括人格关系和身份关系两类。身份关系是以特定的身份利益为内容的社会关系。

根据上述定义, 下列属于身份关系的是:

- A、穆某收养庞某而形成的父子关系
- B、汤某将房产赠与孙某形成的赠与关系
- C、唐某与李某签订合同而形成的买卖关系
- D、房某借给康某一万元而形成的借贷关系

76、民事法律行为是指公民或法人设立、变更、终止民事权利和民事义务的合法行为, 包括附期限的民事法律行为和附条件的民事法律行为。民事法律行为所附的条件是行为人约定的将来发生的不确定的合法事实。附期限的民事法律行为是指在民事法律行为中约定一定期限, 并把该期限的到来作为行为人的民事权利、义务发生、变更、消灭的前提的民事法律行为。

根据上述定义, 下列属于附条件的民事法律行为的是:

- A、甲向乙说: “如果我女儿到外地工作, 我就把房屋租给你”



- B、甲向乙说: “如果太阳从西方升起, 我就把房屋赠送给你”
- C、甲乙在合同中约定: 乙须在合同订立 20 日内支付全部货款
- D、甲与乙有积怨, 甲与丙协商并承诺。如果丙将乙打伤, 则给丙 5000 元

77、体象障碍是指通过医学检查并没有发现患者存在身体缺陷, 但患者认为自己具有某种明显缺陷或者某些别人没有发现的身体缺陷, 这让他们觉得自己很丑陋, 每当在公众场合露面或者发言, 就会觉得非常窘迫。

根据上述定义, 下列不属于体象障碍的是:

- A、刘梅是个空姐, 总在外出前画淡妆
- B、晓丽认为自己的小腿太粗, 总是身着长裤或者长裙
- C、大壮认为自己皮肤太黑, 不愿意同皮肤白皙的女同学有任何交往
- D、小袁有点驼背, 商场买衣服时, 总感觉服务员在背后议论他的驼背

78、反弹效应, 源于社会心理学家丹尼尔·魏格纳的一个实验。他要求参与者尝试不要想象一只白色的熊, 结果人们的思维出现强烈的反弹, 很快在脑海中浮现出一只白熊的形象。

据上述定义, 下列属于反弹效应的是:

- A、初中生小芳正处于叛逆期, 妈妈想让她把头发剪短, 可她偏要留长发
- B、小明喜欢吃蛋糕, 每次路过蛋糕店, 即使不进去买, 也要不由自主的朝店内张望
- C、被女友甩了的晓华, 心情特别差, 他试着努力忘记她, 但她的音容笑貌总是出现在脑海里
- D、小张总是很努力的想把两位同事的长相和名字记清, 结果发现, 即使偶尔分清了, 过两天又记不准了

79、窝藏、包庇罪是指非共同犯罪人明知他人犯罪, 而为其提供隐藏处所、财物, 帮助其逃匿或者作假证明包庇的行为。

根据上述定义, 以下属于窝藏、包庇罪的是:

- A、老刘在家开了一间麻将馆, 为他人赌博提供场所和各种便利, 收取劳务费
- B、老张酒后驾车将路人撞死后, 开车逃逸到表哥老李家, 得知事情经过后, 老李将老张送至山区老家并把肇事车辆藏入山洞中
- C、老赵怂恿小田去某手机店盗窃, 小田偷得华为 mate20 手机 15 部, 老赵带着小田将 15 部手机卖给手机回收店, 将所得 3 万元平分后, 老赵将小田送至火车站让其逃离
- D、老魏的哥哥从外地来看望他, 并在家住了三天, 走时以孩子结婚需要花钱为由向老魏借款 2 万元。一天后, 警察来到老魏家询问, 老魏才得知其哥哥五天前杀人潜逃

80、挂一个鸟笼在客厅最显眼的地方, 过不了多久, 主人就会做出如下选择: 要么把鸟笼扔掉, 要么买一只鸟养着。这就是鸟笼逻辑——被别人用习惯思维的逻辑推理误解, 最终屈服于强大的惯性思维。

根据上述定义, 下列没有陷入鸟笼逻辑的是:

- A、结婚前必先买房
- B、努力才会有收获



C、进学校读书才叫学习

D、到婚嫁年龄必须结婚

81、毛笔：书法家

A、警械：警察

B、辽宁舰：海军

C、庄稼：农民

D、驾驶证：司机

82、荔枝：一骑红尘妃子笑

A、鹅：白毛浮绿水

B、鲈鱼：鲈鱼雪片肥

C、酒：醉卧沙场君莫笑

D、元宵：东风夜放花千树

83、狡猾：狐狸

A、凶险：老虎

B、速度：豹子

C、纯洁：鸽子

D、忠诚：狗

84、窗户：玻璃

A、钢琴：琴键

B、画布：画笔

C、电脑：鼠标

D、秤杆：秤砣

85、斑马线：马路：通行

A、彩票：纸张：福利

B、摄像头：手机：拍照

C、刹车：汽车：停止

D、落叶松：森林：环保

86、暖气：东北：寒冷

A、电扇：南方：闷热

B、防风镜：西北：刮风

C、空调：华中：夏天

D、烘干机：华南：潮湿

87、阳光：太阳

A、月光：月亮

B、灯光：台灯



C、炊烟: 野炊

D、烛光: 蜡烛

88、学校: 教师

A、作者: 读者

B、公司: 雇员

C、监狱: 犯人

D、医院: 病人

89、手机 对于 () 相当于 电影 对于 ()

A、芯片 演员

B、通讯 娱乐

C、销售 放映

D、网络 荧幕

90、() 对于 家具 相当于 () 对于 城墙

A、样式 防御

B、合页 城门

C、木材 墙砖

D、制造 巡逻

91、光华公司董事会讨论在唐山、廊坊、邯郸、沧州等 4 处建立分公司的必要性, 甲说: “分公司应建在唐山或沧州。” 乙说: “我不同意在唐山、沧州两地都建分公司。” 丙说: “我经过调查确信, 不应该在唐山或邯郸建立分公司。” 丁说: “必须在廊坊建立分公司”。后来事实证明, 甲、乙、丙、丁 4 人都说对了。

根据以上叙述, 可以推出建立分公司的地点是:

A、沧州和廊坊

B、唐山或廊坊

C、沧州和邯郸

D、沧州或廊坊

92、为验证戒酒是否有助于减肥, 某课题组进行了一次实验, 参与实验的人均为饮酒超过十年以上的人, 将参与者分为两组, 一组不戒酒, 保持以前的饮酒习惯; 另一组完全戒酒。四个月对实验参与者测量体重, 发现戒酒组成员的体重平均减少了 3 公斤, 而非戒酒组成员的体重基本不变。因此, 课题组得出结论: 戒酒有助于减肥。

以下哪项如果为真, 最能加强实验结论的说服力?

A、戒酒组和饮酒组的平均体重基本相同

B、戒酒组和饮酒组的平均年龄基本相同

C、除戒酒外, 每个实验参与者的饮食习惯基本相同

D、除戒酒外, 每个实验参与者的其他生存条件基本不变



93、小芳说：“所有爱吃雪花梨的人皮肤都很白。”大丽听完小芳的话后说：“呵呵，未必。”

以下哪项准确表达了大丽的观点？

- A、有的人爱吃雪花梨皮肤却不白
- B、所有爱吃雪花梨的人皮肤都不白
- C、有的爱吃雪花梨的人皮肤可能不白
- D、所有爱吃雪花梨的人皮肤都不一定白

94、柏木都可以用来造船，这块木头不能用来造船，所以这块木头不是柏木。

以下哪项的推理结构与上述推理的形式最为类似？

- A、食肉动物都吃肉，羊吃草，所以羊不是食肉动物
- B、跑鞋都是有鞋钉的，皮鞋不是跑鞋，所以皮鞋没有鞋钉
- C、白洋淀的渔民都会划船，小赵不会划船，所以小赵不是白洋淀的
- D、跑步爱好者都能跑十公里，小胖跑不完十公里，所以小胖不是跑步爱好者？

95、下图是一个的表格，共有 16 个小方格，每个方格中只可填入一个字。要求表格的每行、每列均需填入“春、夏、秋、冬”四个字，不能重复且不得遗漏。

依次填入图形中 A、B、C、D 处的 4 个字应是：

A	B	C	D
秋			
		冬	春
	夏	秋	

- A、冬、春、夏、秋
- B、夏、冬、春、秋
- C、冬、秋、春、夏
- D、夏、秋、春、冬

96、新能源电动汽车作为一种新的出行方式，因其节能环保、绿色低碳的优点而受到各国政府和民众的欢迎，越来越多的企业和个人因其优点而考虑购买新能源电动汽车。因此，有研究机构认为，新能源电动汽车将在未来十年内取代燃油汽车。

以下哪项表述如果为真，最能削弱上述结论？

- A、燃油汽车的安全性高于电动汽车
- B、燃油汽车的销售价格比电动汽车平均低
- C、当前电动汽车的废旧电池的回收处理技术不过关，对环境的污染严重



D、电动汽车的普及会大幅度提高对电力的需求, 而未来十年内发电量却无法与其需求

97、许多影视放映场所为了增加其票房收入, 把一些并不包含有限制内容的影视片也标以“少儿不宜”。这些影视放映厅之所以这样做, 是因为确信以下哪组断定?

- I “少儿不宜”的影视片对成年人无害
- II 观众中成年人在数量上远远超过少儿
- III 成年人普遍对标明“少儿不宜”的影视片感兴趣

- A、I 和 II
- B、I 和 III
- C、II 和 III
- D、I、II、III

98、某机场停车场 T1 区目前的收费标准是每小时 5 元, T2 区的收费标准是每 12 小时 20 元。为了提高停车费收入, 该停车场计划改变 T1 区收费模式, 改为 2 小时之内收费 10 元, 而后每小时收费 5 元。

下面哪项如果为真, 该计划能提高机场停车费收入?

- A、长时间将车停在机场的旅客一般将车停在 T2 区
- B、过去 5 年间, T1 区的运行成本一直高于停车费收入
- C、在 T1 区内一次停车超过 1 小时的车辆占比不超过 10%
- D、T1 区扩建后面积提高了 1 倍, 再也不会出现停车位紧张的情况

99、脱脂、脱单、脱贫是现今大学生们面临的三大难题。如果处理不当, 则可能导致大学生出现严重的心理问题。只有彻底改变不良的生活方式, 才有望解决这三大难题。对即将毕业的大学生而言, 如果这三大难题不能得到有效解决, 幸福就很难到来。

如果以上陈述为真, 以下哪项陈述必然为真?

- A、只要三大难题能够有效解决, 幸福很快就会到来
- B、如果幸福还没有到来, 一定是三大难题还没有得到有效解决
- C、如果大学生出现严重的心理问题, 一定是三大问题处理不当
- D、不彻底改变不良的生活方式, 三大难题很难有希望得到解决

100、稀土是储备较少的一类金属的统称, 广泛应用于尖端科技和军工领域。世界上绝大部分稀土产自中国。1998 年以来, 中国开始减少稀土开采, 控制稀土出口配额, 加强稀土行业的集中度。对此, 一些国家指责中国垄断资源, 对世界其他国家“有极大的破坏性”, 要求中国放宽对稀土产业的控制。

如果以下哪项陈述为真, 最适合用来反驳这些国家对中国的指责?

- A、稀土是不可再生的重要战略资源, 中国需要足够的战略储备
- B、中国稀土储量占全球储量的 36%, 美国占 13%, 俄罗斯占 19%, 澳大利亚占 5.4%。2018 年, 中国占世界总产量的 85%, 而美国为零
- C、从 1980 年起, 中国一些地方对稀土滥采滥挖, 造成资源的严重浪费和对环境的极大破坏
- D、随着中国高科技产业的发展, 对稀土的需求大幅度增加, 中国已经没有能力满足其他国家对稀土的需求



四、资料分析。本部分包括文字、图示和表格三种类型的题目, 你应根据提供的资料信息进行分析、比较、计算、处理。

(二)

2019年4月份全省规模以上工业主要产品产量

指 标	4月		1-4月	
	绝对值	同比增长 (%)	绝对值	同比增长 (%)
汽车(万辆)	8.3	-7.5	37.4	2.7
#新能源汽车(辆)	5023	21739.1	20493	8368.2
锂离子电池(万只)	406.9	52.8	1052.5	2.7
太阳能电池(万千瓦)	33.0	-12.0	125.9	-6.7
集成电路(万块)	21.0	-41.6	49.7	-14.3
单晶硅(万克)	51555.5	69.4	182704.3	18.7
铁矿石原矿量(万吨)	2338.9	2.8	10055.7	20.0
乳制品(万吨)	28.9	4.630	117.3	5.3
饮料(万吨)	50.5	9.3	196.7	5.7
服装(万件)	1545.4	-15.3	5409.0	-13.7
化学药品原药(万吨)	5.2	15.8	19.7	8.4
化学纤维(万吨)	7.9	30.8	31.6	47.3
水泥(万吨)	1023.1	7.4	2365.4	22.2
平板玻璃(万重量箱)	1421.4	11.1	4558.7	7.9
生铁(万吨)	2015.3	14.9	7306.9	19.1
粗钢(万吨)	2216.2	15.4	7968.8	18.7
钢材(万吨)	2526.3	13.8	8902.6	17.9
电力电缆(千米)	98833.9	-37.6	454645.1	-13.2

101、2018年1-4月, 太阳能电池产量约为多少万千瓦?

- A、117.4
- B、118.0
- C、124.3
- D、134.9

102、2019年1-3月, 铁矿石原矿产量约为多少万吨?

- A、6104.6
- B、7716.8
- C、8915.4
- D、10055.7

103、2018年1-3月, 锂离子电池产量约为多少万只?

- A、758.5
- B、712.5
- C、673.4
- D、645.6



104、2019年1-3月,工业主要产品产量从高到低排列,顺序正确的是:

- A、粗钢生铁乳制品钢材
- B、铁矿石原矿水泥化学纤维饮料
- C、钢材生铁水泥单晶硅
- D、饮料化学纤维乳制品化学药品原药

105、根据以上资料,下列说法不正确的是:

- A、2019年1-3月,汽车产量同比为正增长
- B、2019年1-4月,集成电路产量同比呈萎缩态势
- C、2019年1-3月,服装同比增长速度高于-13.7%
- D、2019年1-4月,工业主要产品中化学纤维同比增速最快

(三)

2018年,全国居民人均消费支出19853元,比上年名义增长8.4%,扣除价格因素,实际增长6.2%。其

中,城镇居民人均消费支出26112元,增长6.8%,扣除价格因素,实际增长4.6%;农村居民人均消费支出

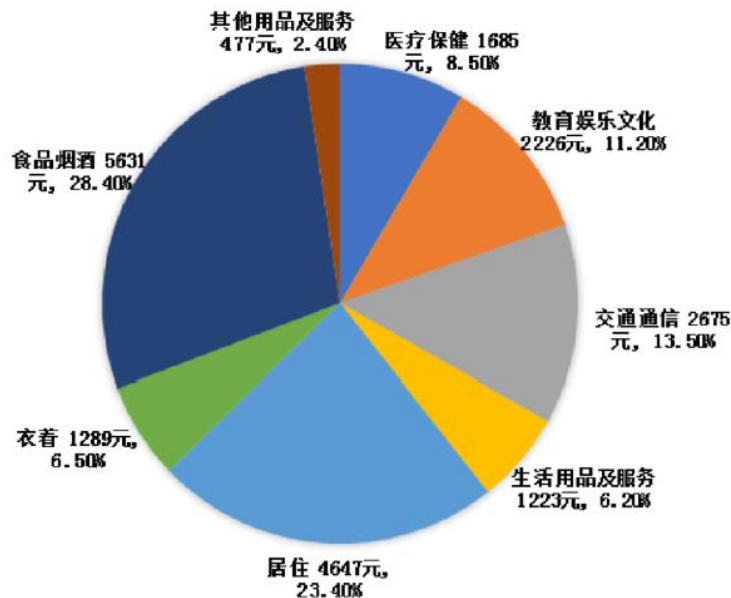
12124元,增长10.7%,扣除价格因素,实际增长8.4%。

全年全国居民人均食品烟酒消费支出5631元,比上年增长4.8%;人均衣着消费支出1289元,增长4.1%;人均居住消费支出4647元,增长13.1%;人均生活用品及服务消费支出1223元,增长9.1%;人均交通

通信消费支出2675元,增长7.1%;人均教育文化娱乐消费支出2226元,增长6.7%;人均医疗保健

消费支出1685元,增长16.1%;人均其他用品及服务消费支出477元,增长6.8%。

2018年全国居民人均消费支出比重图





106、按照 2017 年价格计算, 2018 年全国居民人均消费支出约为多少元?

- A、19853
- B、18314
- C、19450
- D、20314

107、2018 年城镇居民人均消费支出比农村居民人消费支出高:

- A、215.4%
- B、115.4%
- C、53.6%
- D、15.4%

108、2018 年全国居民人均消费支出中, 支出最少的项目占人均消费支出的比重比最多的少几个百分点?

- A、27
- B、26
- C、22
- D、21

109、2017 年全国居民人均消费支出中, 支出排在前三 (降序) 的是:

- A、食品烟酒, 居住, 交通通信
- B、医疗保健, 居住, 食品烟酒
- C、居住, 食品烟酒, 教育文化娱乐
- D、食品烟酒, 居住, 教育文化娱乐

110、与上年相比, 2018 年全国居民人均消费支出中增长速度最快的是:

- A、人均交通通信消费支出
- B、人均生活用品及服务消费支出
- C、人均居住消费支出
- D、人均医疗保健消费支出

(四)

2018 年研究生教育招生 85.8 万人, 在学研究生 273.1 万人, 毕业生 60.4 万人。普通本专科招生 791.0 万人, 在校生 2831.0 万人, 毕业生 753.3 万人。中等职业教育招生 557.0 万人, 在校生 1555.2 万人, 毕业生 487.3 万人。普通高中招生 792.7 万人, 在校生 2375.4 万人, 毕业生 779.2 万人。初中招生 1602.6 万人, 在校生 4652.6 万人, 毕业生 1367.8 万人。普通小学招生 1867.3 万人, 在校生 10339.3 万人, 毕业生 1616.5 万人。特殊教育招生 12.4 万人, 在校生 66.6 万人, 毕业生 8.1 万人。学前教育在园幼儿园 4656.4 万人。



111、2014-2018年, 普通本专科增长人数最多的一年是:

- A、2015年
- B、2016年
- C、2017年
- D、2018年

112、2014-2018年, 中等职业教育招生人数下降最少的一年是:

- A、2015年
- B、2016年
- C、2017年
- D、2018年

113、2018年, 九年义务教育阶段的在校生有多少万人?

- A、14991.9
- B、17367.3
- C、20224.3
- D、24991.9

114、各类教育中, 2018年毕业生人数最少的是:

- A、特殊教育
- B、研究生教育
- C、普通小学
- D、普通高中

115、根据材料, 下列说法不正确的是:

- A、不论是招生、在校生还是毕业生, 普通小学的人数都是最多的
- B、2014-2018年, 高中毕业后进入大学念书的人逐年增加
- C、2014-2018年, 普通高中招生人数呈逐年下降趋势
- D、2018年超过一成的大学毕业生继续接受研究生教育



(五)

2018年,河北省城镇非私营单位就业人员年平均工资为68717元,与2017年相比9.0%,增长。其中,在岗职工平均工资71633元,比上年增长9.8%。扣除物价因素,全省城镇非私营单位就业人员年平均工资实际增长6.3%。分设区市看,全省有5个市就业人员年平均工资超过全省平均水平,分别是廊坊85563元、石家庄(不含辛集市)73903元、唐山71894元、秦皇岛71316元、沧州70361元。就业人员平均工资排在第6位到第11位的分别是保定(不含定州市)66548元,张家口64084元、邢台61527元、承德61475元、衡水60987元、邯郸59888元。2018年,定州市和辛集市城镇非私营单位就业人员平均工资分别为66563元和56890元。

分国民经济行业门类看,高于全省平均工资的行业有8个。年平均工资最高的三个行业中,科学研究、技术服务业93052元,电力、热力、燃气及水的生产和供应业91575元,信息传输、软件和信息技术服务业86861元。年平均工资最低三个行业中,农、林、牧、渔业23402元,居民服务、修理和其他服务业39223元,住宿和餐饮业42478元。

2018年,全省城镇私营单位就业人员年平均工资为39512元,与2017年相比,增长3.6%,扣除物价因素,实际增长2.6%。分设区市看,廊坊49259元、唐山41716元、石家庄(不含辛集)40756元、秦皇岛40535元、保定(不含定州)39197元、衡水38174元、沧州37611元、邯郸37394元、承德36986元、张家口34922元和邢台33397元。2018年,定州市和辛集市城镇私营单位就业人员年平均工资分别为36768元和37351元。

2018年全部规模以上企业就业人员年平均工资为56319元,与2017年相比,增长。分岗位看,中层及以上管理人员104829元,专业技术人员74082元,办事人员和有关人员52709元,社会生产服务和生活服务人员43258元,生产制造及有关人员49507元,中层及以上管理人员平均工资最高,是全部就业人员平均水平的1.86倍;社会生产服务和生活服务人员平均工资最低,是全部就业人员平均水平的76.8%。

116、2017年河北省城镇非私营单位在岗职工工资约为多少元?

- A、63043
- B、64644
- C、65240
- D、67388

117、2018年,分国民经济行业门类看,河北省年平均工资最高的行业比最低行业约多几倍?

- A、1.6
- B、2.6
- C、3
- D、4

118、2018年,高于全省城镇私营单位就业人员年平均工资水平的设区市有几个?

- A、1
- B、2



C、3

D、4

119、2018年各地区城镇非私营单位就业人员年平均工资,从低到高排列顺序正确的是?

A、廊坊唐山张家口衡水

B、承德定州秦皇岛唐山

C、衡水邢台辛集沧州

D、邯郸定州张家口廊坊

120、根据上述资料,可以推出的是:

A、2018年,信息传输、软件和信息技术服务业的平均工资高于全省平均水平

B、2018年,河北省全部规模以上企业中,岗位平均工资最高与最低之比为1.9:1

C、2018年,辛集市城镇私营单位就业人员年平均工资高于城镇非私营单位就业人员

D、2018年,河北省城镇非私营单位就业人员年平均工资增幅高于全部规模以上企业就业人员年平均工资增幅

参考答案

1. C

文段首句指出发展“雄安新区”有促进南北经济发展均衡的作用,接着以“华北地区”指出其问题,内部发展不平衡,京津冀的均衡发展水平远低于珠三角与长三角,尾句强调“雄安新区”的另一层涵义是通过京津冀一体化促进华北地区的均衡发展,文段为并列结构,指出“雄安新区”有均衡南北经济发展、均衡华北地区发展之意,仅D项包含其中一方涵义,故锁定D项。

A项“不均衡”、B项“不均衡”、C项“水平较低”均为问题表述,文段重点论述“雄安新区”的两方面作用,排除。

故正确答案为D。

【文段出处】《雄安新区:创新驱动均衡发展,千年大计重振华北》

2. D

文段首句指出绝大部分老年人希望在家里安度晚年,接着论述北京政府部门购买“喘息服务”,使长期照料失能、失智老人的家庭成员每月有固定的假期,尾句介绍“喘息服务”存在两种方式,故文段结构为“分总分”,重点在于中间的部分,即政府通过购买“喘息服务”承担公共养老的责任,对应D项。

A项“主要场所”文段并无此意,无中生有,排除。

B项“选择居家养老”,对应文段首句内容,并非文段所强调的重点,排除。

C项,“过去依靠家庭内部解决”文段的重点并非论述过去的情况,而是想强调当下的解决办法,选项表述非重点,排除。

故正确答案为D。

【文段出处】《北京试点由政府买单提供“喘息服务”》

3. B



文段首句引用习近平总书记的话, 说明人类命运共同体是中国传统和合思想在当代发展的表现, 接着论述和而不同对于世界兴旺的重要性, 尾句通过“只有……才”提出对策, 为文段重点, 强调人类应该带着不同文明参与到人类命运共同体的构建中, 对应 B 项, “人类不同文明”对应“各国”。

A、D 两项陈述事实, 而文段重点强调对策, 即人类不同文明应参与构建人类命运共同体, 非重点, 排除。

C 项“在当代的发展”表述不明确, 和合思想在当代的发展为构建人类命运共同体, 排除。

故正确答案为 B。

【文段出处】《和实生物, 美美与共》

4. C

文段首句指出人类文化艺术促进提升竞技运动精神的价值, 接着论述竞技运动出现种种不和谐的现象, 尾句通过“必须”提出解决问题的办法, 问“主要原因”, 故锁定文段第二句, “由此”、“使”为因果标志词, 前面是原因, 后面是竞技运动不协调的结果, 因此原因为“社会的物质生产和消费水平迅速提高, 而精神文化却相对贫乏”, 对应 C 项。

A 项“低层次的娱乐消遣”、B 项“超过对精神文化的追求”、D 项“嫉妒、虚荣和不信任的风气”均为“使”之后的内容, 为结果表述, 非原因, 排除。

故正确答案为 C。

5. A

文段首先介绍足球曾经是野蛮、危险的游戏, 接着又强调“足球深受人们喜爱, 这项运动屡禁不止”最后文段给结论, 为了让人们参加足球运动的同时又能改变这种野蛮形象, 人们增加了足球规则和足球礼仪。也就是说, 增加足球规则和足球礼仪可以解决足球运动原来面对的两个问题, 可见, 规则和礼仪对足球运动的重要性。

A 项, 是对主题句的同义替换, 当选。

B 项, 文段的主题是“足球礼仪和规则”不是“足球”, 排除 B。

C 项, 文段的主题是“足球礼仪和规则”不是“足球运动”, 排除 C。

D 项, 文段的主题是“足球礼仪和规则”不是“足球运动”, 排除 D。

故正确答案为 A。

【出处】《〈美的足球〉之规则与礼仪之美》

6. A

文段首句论述红色基因的重要性、意义, 接着论述红色基因成为中国人民的精神标识, 通过“需要”提出对策, 强调中国人民需要结合当下传承好红色基因, 故文段重点为提出对策的内容, 即传承红色基因要与时俱进, 对应 A 项。

B 项“党的思想结晶”、D 项“党精神风范的集中体现”均对应首句内容, 为背景引入的内容, 非重点, 排除。

C 项“中国人民的精神标识”对应“需要”之前的内容, 位于对策之前, 非重点, 排除。

故正确答案为 A。



【文段出处】《传承红色基因, 发扬光荣传统》

7. A

A 项表述错误, 文段为“长时间的午睡会让大脑彻底清除腺苷, 导致晚上失眠”, 条件是“长时间的午睡”才可能导致晚上失眠, 当选。

B 项“不宜超过一个小时”对应文段“时间控制在 30~60 分钟最好”, 即午睡不超过一小时, 表述正确, 排除。

C 项对应文段“保持清醒的时间越长, 进入深睡眠的可能性越高。这是大脑中一种被称为‘腺苷’的物质堆积增多造成的”, 即“腺苷”越多可能越容易进入深睡眠, 表述正确, 排除。

D 项对应“保持清醒的时间越长, 进入深睡眠的可能性越高”, 即没有马上睡觉可能有更好的睡眠质量, 表述正确, 排除。

本题为选非题, 故正确答案为 A。

【文段出处】《传承红色基因, 发扬光荣传统》

8. A

文段首句指出法国时装代表世界服装潮流, 接着论述巴黎的地理位置, 随后论述巴黎的艺术建筑和“街头艺术”, 由此文段为并列结构, 从多个方面论述法国巴黎的多姿多彩, 对应 A 项。

B 项“法国……地理特点”表述错误, 文段“巴黎在法国北部盆地的中央, 城跨塞纳河两岸”指的是巴黎的地理特点, 而非整个法国, 排除。

C 项“艺术建筑”、D 项“人文风景”均为并列文段的一方面, 表述片面, 排除。

故正确答案为 A。

9. C

文段首句论述中午阳光正射在沙漠上会让人感觉不舒服, 接着论述四周是茫茫的一片, 即使有驼马枯骨的微小白光, 也和周围的环境融为一体了, 故文段的“融入”意为驼马枯骨的微小白光与茫茫的沙漠成为一体了, 对应 C 项。

A、B 两项“驼马枯骨”, 文段强调的主体是“驼马枯骨微小的光”, 主体不一致, 均排除。

D 项“形成巨大反差”表述与文意不一致, 文段意为微小白光与沙漠阳光融为一体, 排除。

故正确答案为 C。

【文段出处】《风景谈》

10. D

文段开篇提出问题, 即中国发展之路在哪里, 接着引用学者的观点, 论述解释中国经济之难, 随后引出费正清的观点, 即中国的现代化是内在基因变革和内在发展冲动的结果, 尾句进一步说明中国的现代化道路具有自身内在性和动力源, 文段为分总结构, 重点在于结论的部分, 因此对应 D 项。

A 项“解释了中国发展的密码”表述不明确, 文段指出中国的现代化是由于其自身的内在性和动力源, 排除。

B 项“多种解读模式”文段并未提及, 无中生有, 排除。

C 项“没能解释中国经济”为结论句之前的内容, 非重点, 排除。



故正确答案为 D。

【文段出处】《亿万人民的共同事业》

11. D

接语选择题, 重点看尾句, “对此”中的“此”指代前文家长们对于“‘考试怎么考’、‘成绩怎么算’、‘高校怎么招’”问题的关注, “同时”表示并列, 即面对这些问题, 记者一方面梳理政策, 一方面采访了多位考试招生专家, 后文应围绕高考改革的新政策和专家的看法展开论述, 对应 D 项。

A 项“高校怎么招”、B 项“成绩怎么算”、C 项“考试怎么考”仅对应高考综合改革其中一个方面, 表述片面, 均排除。

故正确答案为 D。

【文段出处】《8 省高考改革方案发布: 关注考试怎么考高校怎么招》

12. A

文段首句指出去巴塞罗那的年轻学生是被安东尼·高迪的作品所吸引, 接下来指出毕加索的许多作品也陈列在巴塞罗那, 尾句提到达利的天才之作也珍藏在巴塞罗那。文段通过并列的形式, 指出巴塞罗那有着三位艺术大师的许多作品, 意在说明巴塞罗那的艺术地位, 对应 A 项。

B 项仅对应文段首句, 表述片面, 排除。

C、D 项“画家去世后其作品……”偏离文段核心话题, 画家去世后其作品归属地并非文段强调的重点, 文段强调巴塞罗那在艺术中的重要地位, 排除。

故正确答案为 A。

13. C

文段开篇提到了滑铁卢大战以战线短、时间短、影响大、结局意外而著称, 并引用雨果的话来加以佐证, 后面又详细介绍滑铁卢失败的原因, 最后用“这”总结前文, 指出滑铁卢大战结束了拿破仑的军事生涯, 改变了欧洲历史, 故 C 项说法正确, 当选。

A 项, 文中引用雨果的话是为了佐证前面提到的结局意外, 并非文段重点, 排除; B 项“战争失败的细节”文段没有提及, 排除; D 项“滑铁卢是‘失败’的代名词”无中生有, 排除。

故正确答案为 C。

14. C

文段介绍了乔布斯打造苹果手机追求情感体验、辩手共情到人内心深处最真实的情感、经典广告文案和游戏戳中情绪点以及暖心的表达获得不同效果, 最后用“这些”进行总结, 强调“感受”的重要性, 对应 C 项。

A 项“‘情感体验’时代已经来临”无中生有, 排除; B 项, 文中没有进行产品情感和质量哪个更重要的对比, 排除; D 项“自身感受”表述不准确, 文段提到的是“共情”、他人的“情绪点”, 排除。

故正确答案为 C。

【文段出处】《如何养蠢一个孩子? 管他, 管他, 管好他! 》

15. A



文段开篇提出不好好控制肥胖和糖尿病, 中国经济将受到拖累, 后面用“因此”指出政府可以制定政策、宣传教育, 企业应承担起一部分责任, 最后用“这”进行总结, 强调减肥关系到中国未来, 故减肥应从个人小事成为国家大事, 对应 A 项。

B 项“主导作用”文中没有提到, 排除; C 项“影响国家经济发展的质量”只是文段首句内容, 并非文段重点, 排除; D 项“个人努力”文中没有提到, 文段只是介绍了政府和企业的做法, 排除。

故正确答案为 A。

【文段出处】《腰带越长寿命越短! 你的腰围超标了吗? 》

16. C

文段首句意思是, 所谓意念诚实, 就是说不要自己欺骗自己, 像厌恶难闻气味那样厌恶邪恶, 像喜爱美丽的女子一样喜爱善良, 这样才能说心安理得, 所以君子在一个人独处时必定要谨慎。这句话强调, “君子慎独”, 君子独处时要秉持内心的操守, 思行一致, 追求内心的安定。接下来指出, 品德低下的人在私下里私欲尽显, 忽略良善, 一见到君子便极力隐藏自己的不善, 刻意表现自己的善良。殊不知, 别人看你, 就像能看见你的心肺肝脏一样清楚, 掩盖有什么用呢? 这就叫做内心的真实一定会表现到外表上来。所以, 品德高尚的人哪怕是在一个人独处的时候, 也一定要谨慎。依然是在强调“君子慎独”。尾句通过曾子的话进行论证, 指出个人的言论行动总是在群众的监督之下, 不允许做坏事, 做了也不可能隐瞒。文段意在强调“君子慎独”越是在隐蔽、没有人看到的地方, 自己独处的状态下, 君子越是要严格要求自己, 做到表里如一。对应 C 项。

A、B 两项偏离文段核心话题, 文段强调君子要严格要求自己, 不断修炼自己的品行, A、B 两项均未提到“修养”, 排除。

D 项, “内心”表述不全面, 文段指出除内心外还要注意自己的外在行为。

故正确答案为 C。

【文段出处】《大学》

17. C

文段开篇提到历史踏着千万具尸体而前行, 暴力和武功是早期宗法制的光辉和骄傲, 又提到对野蛮吞并战争歌颂夸扬, 最后引出“殷周青铜器”是为了歌颂夸扬战争而制作, 指出他们是祭祀的“礼器”, 具有献给祖先或铭记自己武力征伐的胜利的作用。故文段强调殷周青铜器所具有的特点, 对应 C 项。

A 项没有体现殷周青铜器的特征“对自己氏族、祖先和当代的种种野蛮吞并战争的歌颂和夸扬”, 排除; B 项为首句内容, 并非文段重点, 排除; D 项为第二句分述部分, 并非文段重点, 排除。

故正确答案为 C。

【文段出处】《历史从来不是在温情脉脉的人道牧歌声中进展》

18. B

文段开篇提到人们对 5G 有矛盾的心态, 后面通过“一方面……另一方面”对这种矛盾心态进行解释, 后面又指出出现矛盾心态的原因在于技术与消费者之间隔着“应用”的桥, 最后用“只有……才”



句式表示对策, 强调应用的变化可以使消费者感知到技术的变化, 故文段强调应用对应 5G 的重要性, 对应 B 项。

A 项“矛盾心态”是现象的描述, 并非文段重点, 排除; C 项“若即若离, 忽远忽近”是人们对 5G 矛盾心态的表现, 位于对策之前, 非重点, 排除; D 项“人们谈论的热门话题”为“一方面”部分的内容, 表述片面, 排除。

故正确答案为 B。

【文段出处】《5G 呼唤“杀手级应用”》

19. D

对比首句, ①⑤两句均适合做首句, 不好排除。观察发现, ⑤句指出五四运动为中国青年奠定了精神的基调, ②句介绍了一代代青年的奋斗表现, ②句是⑤句的具体解释说明。根据逻辑关系⑤②适合捆绑, 排除 B、C 项; 对比尾句, ②句介绍了一代代青年的奋斗表现, ④句“由此看来”表示总结, 强调努力拼搏是青年的鲜明标志, ④句更适合做尾句, D 项当选。

故正确答案为 D。

【文段出处】《立鸿鹄志做奋斗者》

20. B

对比首句, 特征不明显, 暂不排除; 观察发现, ②句指出倾听需要定力, ③句介绍了钟子期与伯牙的故事, ①句提到如果钟子期步履匆匆就会错过“高山流水”, 根据逻辑顺序应先指出倾听需要定力, 再列举钟子期和伯牙的故事, 并假设钟子期步履匆匆错过“高山流水”, ②③①构成捆绑, 锁定 B 项。

验证 B 项, 先提出人们都会将愿望从言语中流露出来, 又强调倾听需要定力并举例, 又指出浮躁的人难以聆听灵魂独白, “知己”很难, 符合逻辑和语境, 且与上下文联系紧密, 当选。

故正确答案为 B。

【文段出处】《有时, 我们需要将脚步放慢一点》

21. D

文段第一段引出鸡蛋是“好”还是“坏”这一问题, 第二段和第三段介绍了一篇研究的观点及对该观点的驳斥, 第四段通过中国的研究数据证明吃鸡蛋不会增加心血管死亡风险还能降低卒中的风险, 第五、六、七段介绍了吃得胆固醇越多不会使血液中胆固醇越多, 第八段进行总结, 指出鸡蛋是“好”还是“坏”需要看个体情况。故文段介绍了鸡蛋的“好”与“坏”, 对应 D 项。A 项“鸡蛋的真相”表述错误, 文段介绍的是鸡蛋对人体的好与坏, 排除; B 项与文意不符, 排除; C 项“中外研究对比”是第二至四段的内容, 并不能包含整篇文章意思, 排除。

故正确答案为 D。

【文段出处】《心内科专家跟你谈谈鸡蛋的“好”“坏”》

22. C

横线处与第三段结尾, 有“因此”引导, 故是对前文的总结。该段介绍了研究设计存在缺欠, 由文意以及该段的“但是”可知, 横线处词句与“吃鸡蛋会使引发心脏病发作、中风或过早死亡的相对风险



增加”这一结论相反, 表示该研究不能证明吃鸡蛋会增加心血管疾病的风险, 对应 C 项。A 项“发表在权威杂志上的论文”、B 项“研究结果的可信度”、D 项“消除设计上的缺陷”均并非文段重点, 排除。

故正确答案为 C。

【文段出处】《心内科专家跟你谈谈鸡蛋的“好”“坏”》

23. D

由第三段“这项研究的设计有几个缺陷, 其一, 参与者通过回忆填写的饮食习惯不一定可靠; 其二, 17 年间参与者的饮食习惯不可能一成不变; 其三, 结果得出的关联性不一定是因果关系。”可知, ABC 项均为缺陷之一, 排除。D 项文中没有提及, 无中生有, 当选。

故正确答案为 D。

【文段出处】《心内科专家跟你谈谈鸡蛋的“好”“坏”》

24. A

A 项, 由第六段“肝脏每天大约合成 1000 毫克胆固醇, 这相当于 5 个鸡蛋所含的胆固醇量”可知, 每个鸡蛋大约含有 200 毫克的胆固醇, 符合文意, 当选。

B 项, 由第六段“当你吃进去更多的胆固醇……正常水平”可知, 人体摄入的胆固醇高身体产生的胆固醇就会少, 维持胆固醇的正常水平, 不符合文意, 排除。

C 项, 由第四段“每天吃一个鸡蛋的人, 发生心血管事件风险降低 11%, 心血管事件死亡风险降低 18%。……每天吃一个鸡蛋不会增加心血管死亡风险, 甚至还能降低卒中的风险。”可知, 文中仅阐述了吃一个鸡蛋与心血管发病率的关系, 并未提出吃五个鸡蛋会怎样, 故无中生有, 排除。

D 项, 由第七段“对于的人群来说……导致低密度脂蛋白胆固醇升高”可知, 是的人吃两个鸡蛋也会导致低密度脂蛋白胆固醇升高, 不符合文意, 排除。

故正确答案为 A。

【文段出处】《心内科专家跟你谈谈鸡蛋的“好”“坏”》

25. B

A 项对应“您的胆固醇水平较高, 就应该适当控制鸡蛋或者蛋黄的摄入量”, 说明鸡蛋的胆固醇主要集中在蛋黄, 符合文意, 排除。

B 项“异常反应”偷换概念, 文段中为“超反应”, 且文段仅指出“如果您是鸡蛋的‘超反应’者, 应该控制鸡蛋或者蛋黄的摄入量”, 并未指出不是“超反应”的人群应该怎么做, 故与文段不符, 当选。

C 项对应“含有叶黄素等抗氧化物质, 是营养丰富的食品”, 说明鸡蛋中的抗氧化物质对人体有益, 符合文意, 排除。

D 项对应“关于鸡蛋与心血管健康的关系, 我们可以参考中国人自己的研究数据”, 说明中国人的研究更可靠, 符合文意, 排除。

本题为选非题, 故正确答案为 B。

【文段出处】《心内科专家跟你谈谈鸡蛋的“好”“坏”》

26. D



本题可以从第二空入手, 根据“月色”可知此时应是夜晚, 晦暗不明, 模糊不清。A项“游离”比喻离开集体或者联盟的事物, 月色与水气是不同物质, 并不是一个集体, 排除。B项“埋没”指埋起来或不发挥作用, 与文意无关, 排除。C项“迷蒙”和D项“朦胧”都可以形容景物模糊、看不清, 保留。

第三空, 根据“但我却还以为船慢”可知, 转折前后语义相反, 横线与“慢”对应, 应当体现出山脉实际上运动很快, 即船行很快。C项“奔腾”指跳跃着奔跑, D项“踊跃”形容争先恐后, 积极运动, 更能体现出连山运动极快, 可优选D项。

带入第一空验证, “夹杂”指掺杂在一起, 说明清香与水气一起扑面而来, 符合文意。

故正确答案为D。

【文段出处】《社戏》

27. B

第一空, 根据文意可知, 文学可以让心灵没有黑暗, 搭配“黑暗”, B项“驱散”指赶走、驱逐, 符合文意, 保留。C项“消除”指除去、使不存在, 符合文意, 保留。D项“驱赶”指驱逐、赶走, 符合文意, 保留。A项“遮蔽”指遮挡、掩盖, 不能使黑暗消失, 与文意不符, 排除。

第二空, 根据文意, 说明文学给心灵养分, 让心灵变得更饱满、有力。B项“滋补”指滋养、补养, 符合文意, 保留。C项“关爱”和D项“关怀”指关心、爱护, 主语为人, 与“文学”搭配不当, 排除。

带入第三空验证, “辽远的生活”搭配恰当, 当选。

故正确答案为B。

【文段出处】《文学说到底还是关乎心灵的事》

28. A

第一空, 对应“某些树木当植当伐; 某些花卉当疏当密; 何处须巧借地形, 顺势筑坡; 何处又宜少见轩敞”和“煞费心血”, 说明园林之内树木种植均依势而建, 园林艺术家都很用心, 文段强调用心。A项“匠心”指巧妙的心思, 符合文意, 保留。B项“技艺”指富有技巧性的工艺, C项“本领”指能力、技能, D项“技巧”指基本方法的灵巧运用, 这三项都强调技术, 而文段强调用心, 与文段不符, 排除。

带入第二空和第三空验证, 根据文意可知, 第二空形容园林。A项“别有洞天”指风景奇特或艺术引人入胜, 可以与文段搭配。第三空对应“不露痕迹”, A项“浑成”可指天然生成, 符合文意。

故正确答案为A。

【文段出处】《2014江苏高考语文试卷》

29. D

本题可以从第二空入手, 根据文意, 艺术家将食物变成了能够让人欣赏的艺术品, 所以对食物是一种提高。A项“转变”指从一种形式、状态变成另一种形式、状态, 不能体现食物的提高, 排除。B项“转化”指转变, 矛盾的双方经过斗争, 在一定条件下, 各自向着和自己相反的方面转变, 向着对立方面所处的地位转变, 与文意不符, 排除。C项“提升”指使位置、程度、水平、数量、质量等方面比原来高, 常搭配抽象的事物, 文段搭配“食物”, 为具体的事物, 搭配不当, 排除。D项“升华”比喻事物的提高和精炼, 可以与“食物”搭配, 符合文意, 当选。带入第一空验证, “媒介”指使双方发生关系的人或事物, 可以与文段搭配。



故正确答案为 D。

【文段出处】《食物是一种毁灭的艺术》

30. A

第一空, 横线处所填词语需要搭配“道德操守和处世方法”, C项, “传播”强调广泛散布, 散布范围不限于“家”, 亦可排除; D项“维护”指维以护之, 免受外害, 道德操守和处世方法是人们行为的指南, 而非维护的对象, 排除。

第二空, 横线处所填词语与“价值理念和道德规范”搭配, A、B两项置于此处均可;

第三空, A项“准则”强调行为或道德所遵循的标准或原则, “为人准则”搭配得当, B项“规矩”常为约束人的标准、法则, “为人规矩”搭配不当, 排除。

故正确答案为 A。

31. B

本题可从第二空入手, 横线搭配“长生草”, 根据“人们将长生草扔到屋顶上, 长生草就把根扎在瓦片间”可知, 长生草的生命力应当强, A项“坚强”、B项“顽强”可以搭配, 符合文意, 当选。C项“倔强”多指性格刚强不屈, 坚持自己的想法和做法, 不轻易为外力所改变, D项“坚毅”指坚定而有毅力, 主语均多为人, 与“长生草”搭配不当, 排除。

第三空, 对应“通过近百年的杂交培育, 目前已有 400 多个园艺品种”应体现出, 园艺家非常重视这种神奇植物的研究。A项“注意”与B项“关注”语意相近, 但B项“关注”程度略重, 当选。

带入第一空验证, “粗暴”符合长生草“野草”身份, 体现出古人利用野草来美化环境简单粗暴, 并不细心, 当选。

故正确答案为 B。

【文段出处】《永恒之莲——长生草》

32. D

本题可从第二空入手, 根据文意有智慧的人在享受每一秒, 愚钝的人在抱怨每一秒, 说明同样经历每分每秒, 但有一点差别, 结果就相差很大, D项“毫厘之差”比喻开始相差很小, 结果造成很大差距, 符合文意, 当选。

A项“泾渭分明”指界限清楚或是非分明, 与文意不符, 排除。B项“得过且过”形容胸无大志, 没有长远打算, 与文意不符, 排除。C项“南辕北辙”指目标和行动正好相反, 与文意不符, 排除。

带入第一空和第三空验证, “张皇奔走”和“迷惘”符合文意, 当选。

故正确答案为 D。

【文段出处】《老板打瞌睡》《2014 年黑龙江公务员考试》《书店的消失不应成为阅读的挽歌》

33. C

第一空, 对应“运营团队”, 说明集合多人的力量, A项“集思广益”指集合大家的智慧和意见, 可以收获到更大更好的效果, 符合文意, 保留。B项“精心策划”指对一件事情仔细安排, 不能体现集合多人的力量, 排除。C项“群策群力”指大家共同想办法, 一起出力, 符合文意, 保留。D项“同甘共苦”指共同享受幸福, 共同担当困苦, 文段并未体现一起担当困苦、一起幸福, 与文意不符, 排除。



第二空, 搭配“行为学理论”, A项“指导”指指示、教导, 与“理论”搭配不当, 排除。C项“支撑”指用以顶住之物, 符合文意, 当选。

故正确答案为C。

【文段出处】《你的深度思考能力, 是如何一步步被毁掉的?》

34. C

本题可以从第四空入手, 对应“我歌月徘徊”, C项“孤傲”指一种强调自我的心理态度, 符合文意, 当选。A项“浪漫”指富有诗意的, 充满幻想的, 与文意不符, 排除。B项“洒脱”指潇洒自然, 不拘束, 符合文意, 保留。D项“豁达”指心胸开阔, 性格开朗, 与文段不符, 排除。

带入前三空验证, “采菊东篱下”对应“洒脱”, “人有悲欢离合”对应“浪漫”, “独钓寒江雪”对应“豁达”, 符合文意。

故正确答案为C。

【文段出处】《初中语文练习题》

35. B

第一空, 对应“孕育”, 说明空格处形容中国特色社会主义文化的来源, B项“源自”、C项“萌芽”、D项“发端”都可以表示此意, 保留。A项“融会”融会贯通、领会, 与文意不符, 排除。

第二空, 对应“革命、建设、改革”, 说明形容中国特色社会主义文化的发展, 不好判断, 看第三空。

第三空, 对应“伟大实践”, 说明文化在实践中不断发展, B项“植根”指深入到人或事物当中去, 打下基础, 符合文意, 当选。C项“形成”与D项“发轫”都形容某种新事物开始出现, 与文意不符, 排除。

故正确答案为B。

【文段出处】《十九大报告》

36. B

本题可以从第三空入手, 根据后文“只顾眼前利益”可知, 所填词语应体现出企业只顾眼前, A项“目光短浅”意为眼光不远, 见识不深, B项“鼠目寸光”比喻目光短浅, 缺乏远见, 均符合文意, 保留。C项“胡作非为”指不顾法律和舆论任意干坏事; D项“利益熏心”指贪财图利的欲望迷住了心, 两项均无法体现出“只顾眼前”之意, 故排除C、D两项。

第二空, 搭配“品格”, B项“精益求精”指做事情已经很好了, 还要求更好, 可与“品格”搭配使用, 保留。A项“精雕细琢”指精心细致的雕刻琢磨, 属于做事的动作, 而非“品格”, 搭配不当, 排除。

第一空, 验证B项, “徜徉”指彷徨、心神不宁, 与“思绪”搭配恰当, 当选。

故正确答案为B。

37. D

第一空, 所填词语应与后文“开拓前进”相对应, 可体现出在困难中前行前进之意。C项, “披荆斩棘”指拨开荆, 砍掉棘, 比喻在前进道路上清除障碍, 克服困难; D项, “劈波斩浪”比喻排除前进中的



困难和障碍, 两项均符合文意, 保留。A、B 两项, “攻坚克难”只能体现出克服困难, 而无法对应“前进”, 故排除 A、B 两项。

第二空, 所填词语应与后文“开辟天地”相对应, 应体现出开辟出新天地之意。C、D 两项均可体现出前进中的克服困难和障碍之意, 语义均可, 但 D 项, “披荆斩棘”可指拨开荆, 砍掉棘, 可以更好的与“开辟天地”相对应, 故保留 D 项。

第三空, 验证 D 项, “攻坚克难”之后, 可以“创造业绩”, 符合文意。

故正确答案为 D。

【文段出处】《奋斗是青春最亮丽的底色》

38. B

第一空, 搭配“字体样式”, 且根据“酒后即兴而作”、“大小自由随性”可知, 横线处表示字体样式变化多、无规律的意思, B 项“变化多端”形容变化极多, C 项“千变万化”形容变化非常多, 均可形容字体变化多样的意思, 符合文意, 可选。A 项“行云流水”形容诗文、书画、思维等自然流畅, 与“字体样式”搭配不当, 且文段强调的是变化多, 而非流畅, 排除; D 项“变幻莫测”指事物变化很多不能预料, 变化多端, 难以揣测, 文段未提及“难以揣测”, 排除。

第二空, “尤其”表程度递进, 可知该空承接前文“大小自由随性”, 强调每个“之”字更是变化多样, 有自己的特点, B 项“别具一格”比喻另有一种独特的风格, 符合文意, 当选。C 项“飘逸洒脱”形容字写得十分有力, 豪迈爽朗, 与文意无关, 排除。

第三空, 代入验证, “义愤填膺”指胸中充满了正义的愤恨, 形容十分愤怒, 可表达颜真卿对其侄儿被杀害的悲愤之情, 符合文意, 当选。

故正确答案为 B。

39. C

第一空, 分析该空的语法可知, 横线处应填入一个名词, B 项“无稽之谈”指毫无根据的说法, C 项“天方夜谭”比喻虚诞夸饰的议论, 荒诞不经的说法, 该两项均为名词, 搭入恰当, 可选。A 项“离奇古怪”指十分奇特少见, D 项“荒诞不经”形容虚妄离奇, 不合情理, 均为形容词, 作定语, 与文段不搭, 排除。

第二空, “然而”表转折, 前后语意相反, 转折前论述亚特兰蒂斯文明的传说很荒诞, 故转折后应表示该传说是历代都存在的事实, C 项“口耳相传”指文化一代一代传下去, 可表示文明历代都存在的意思, 符合文意, 当选。B 项“口传心授”指师徒间口头传授, 内心领会, 文段未提及师徒, 排除。

第三空, 代入验证, “遥不可及”指非常遥远、难以得到的东西, 可以表示亚特兰蒂斯文明从未被人类真正接触的意思, 符合文意, 当选。

故正确答案为 C。

【文段出处】《神秘的第八洲——大西洲》

40. D



第一空, 根据“不再以受赞美、被宠爱为荣”可知, 秋是个对待名利寡淡的季节, B项“寡淡”指人们对人或物的兴趣、情意、情感等很低, 一点也不浓厚, D项“淡泊”指对于名利冷淡, 不看重, 均符合文意, 可选。A项“宁静”指平静、安静, C项“清冷”指清爽而微寒, 均与文意无关, 排除。

第二空, 分析文意可知, 秋只愿做一个可望不可即的秋, 把那些赞美和宠爱都留在了秋光外, 不去接触它, D项“隔离”指断绝接触, 断绝往来, 符合文意, 当选。B项“抛弃”指扔掉不要, 丢弃, 文段仅指将赞美与宠爱留在外边, 而非将其扔掉, 与文段语意不符, 排除。

故正确答案为D。

【文段出处】《短文学》

41. C

第一空, 根据“人类一直都没有停止探索地球的脚步”可知, 人类的求知欲没有满足的时候, B项“永无止境”指永远没有到头的时候, C项“永不满足”指永远不知道满足的意思, 均符合文意, 可选。A项“无法控制”指没有办法控制, D项“无法抑制”指情不自禁, 难以控制的意思, 文段并未提及人类的求知欲无法控制, 与文意无关, 排除。

第二空, 与“生机勃勃的植物”构成并列, 故该空也应形容动物生命力旺盛的意思, C项“奇趣盎然”指充满奇妙趣味、活力的意思, 可体现动物充满活力, 符合文意, 当选。B项“千奇百态”形容姿态多种多样, 与文意无关, 排除。

故正确答案为C。

【文段出处】《最美的科普书——地球奥秘》

42. B

第一空, 分析文意可知, 英雄的事迹和精神是推动社会前行的力量, A项“推动”、B项“激励”和C项“鞭策”, 均符合文意, 可选。D项“勉励”指劝人努力; 鼓励。一般用在长辈对晚辈的鼓励, 文段指的是英雄精神对社会的作用, 搭入文段不符, 排除。

第二空, 根据“光荣永远传承, 英雄永不独行”可知, 期盼“崇尚英雄”的精神能够永远流传, B项“蔚然成风”形容一件事情逐渐发展、盛行, 形成一种风气(多指好的), 符合文意, 当选。A项“蔚为大观”形容事物美好而繁多, 给人一种盛大的印象, 多指文物、盛大的景象, 与文段“崇尚英雄”搭配不当, 排除; C项“高山仰止”比喻对有气质、有修养或有崇高品德之人的崇敬、仰慕之情, 与前文的“崇尚”语意重复, 排除。

故正确答案为B。

【文段出处】《天地英雄气, 千秋尚凛然》

43. A

第一空, 分析文意可知, 天幕上的群星是向下看着地面的, A项“鸟瞰”指从高处往下看, B项“俯瞰”指俯视, 从高处往下看, 均符合文意, 可选。C项“注视”指注意地看, D项“凝视”指聚精会神地观看, 不眨眼睛, 神情专注, 均无法体现从上往下的角度, 排除。



第二空, 根据“在北斗星的周围”可知, 光环是绕着北斗星的, A项“环绕”指以某一事物为中心点, 在它周围又有一些事物, 符合文意, 当选。B项“萦绕”比喻声音在什么东西旁边旋转、回复, 与“光环”搭配不当, 排除。

第三空, 代入验证, “倾泻”指液体从高处倾倒或流泻下来, 可形容皓月向大地倾倒光华的意思, 符合文意, 当选。

故正确答案为 A。

【文段出处】《极光的故事》

44. A

本题可从第二空入手, 根据后文可知, 读书可以解答你百思不得其解的困惑, A项“豁然开朗”比喻对于百思不得其解的事物, 在突然间开阔了思路, 明白了其中的奥秘, C项“茅塞顿开”形容闭塞的思路, 由于得到了某种事物的启发, 忽然想通了, 均可表示读书解惑的作用, 可选。B项“醍醐灌顶”比喻听了高明的意见使人受到很大启发, 文段未提及“高明的意见”, 与文意不符, 排除; D项“幡然醒悟”形容迅速而彻底地认识到过错而醒悟, 文段未提及过错, 与文意不符, 排除。

第三空, 分析文意可知, 横线处表示书中都存在着未来你更期待的那个自己, A项“蕴藏”指蓄积深藏未露, C项“蕴含”指包含在内, 对比发现, “蕴藏”可表将来式, 能体现更期待的那个自己还在未来、还未出现的意思, 更贴合文意, 排除 C 项。

第一空, 代入验证, “焦躁”指着急而烦躁, 可对应后文的“平息下来”, 符合文意, 当选。

故正确答案为 A。

【文段出处】《我们读所有的书, 最终目的都是读到自己》

45. C

第一空, 不易判断。

第二空, 所填词语形容“轻敲”时的声音, B项“喃喃自语”形容小声地自言自语; C项“风动杨柳”指微风吹动杨柳摆动, D项“风摆荷叶”指微风拂动荷叶, 三项均可形容声音轻, 符合文意, 保留。A项, “余音绕梁”形容歌声或音乐优美, 余音回旋不绝, 无法对应“轻敲”, 排除。

第三、四空, “有的……有的……有的……”为三者并列, 三方面各不相同。C项, “动感十足”形容非常有活力, 非常有动力, “栩栩如生”指艺术形象非常逼真, 如同活的一样, 可与后文“神态盎然”组成三方面并列, 符合文意, 当选。B项“传神写照”及“跃然纸上”均形容描写得非常生动逼真; D项“呼之欲出”及“活灵活现”均形容十分逼真, 前后语义相近, 不能形成三方面并列, 故排除 B、D 两项。

故正确答案为 C。

46. C



采用直除的方法, 计算出 $33 \div 70 = 0.4714285714285\cdots$, 得数小数点后第 2 位开始出现循环, 循环数为

“714285”, 循环周期为 6 位数字。根据周期公式: $\frac{\text{总数}}{\text{周期}} = \text{周期个数} \cdots \text{余数}$, $\frac{406-1}{6} = 67 \cdots 3$, 余数是 3, 则循环数 714285 的第三位数字是 4, 则得数小数点后第 406 位上的数字是 4。

故正确答案为 C。

47. B

设黑球有 x 个, 则总球数 = 白球 + 黑球 = $6 + x$, 根据概率公式: $\frac{\text{满足条件的情况数}}{\text{总情况数}} = \frac{C_6^1}{C_{6+x}^1} = \frac{3}{11}$, 即 $\frac{6}{6+x} = \frac{3}{11}$, 解得 $x = 16$ 。则黑球比白球多 $16 - 6 = 10$ 个。

故正确答案为 B。

48. D

根据“乙车速度是甲车的 $\frac{4}{5}$ ”得, $v_{乙} = \frac{4}{5}v_{甲}$, 即 $\frac{v_{甲}}{v_{乙}} = \frac{5}{4}$ 。当时间一定时, 路程与速度成正比, 那么 $\frac{s_{甲}}{s_{乙}} = \frac{v_{甲}}{v_{乙}} = \frac{5}{4}$ 。根据“当甲车行至全程的 $\frac{2}{5}$ 时, 乙车距离中点还有 45 公里”, 设全程为 $5s$, 则 $s_{甲} = \frac{2}{5} \times 5s = 2s$, $s_{乙} = \frac{1}{2} \times 5s - 45 = \frac{5}{2}s - 45 = 2.5s - 45$, 则 $\frac{2s}{2.5s - 45} = \frac{5}{4}$, 整理得: $2s \times 4 = 5 \times (2.5s - 45)$, 解得 $s = 50$ 。那么 A、B 两地相距 $5 \times 50 = 250$ 公里。

故正确答案为 D。

49. A

根据题意, 某月份里, 星期五、星期六和星期日各有 5 天, 可根据选项代入, A 项可得下表所示:

星期一	星期二	星期三	星期四	星期五	星期六	星期日
				1	2	3
...	8	9	10
...	15	16	17
...	22	23	24
...	29	30	31

符合题意。那么该月的 1 日是星期五。

故正确答案为 A。

50. D



共有 5 个奇数, 4 个偶数。若让选出的四个数的和为偶数, 只需让这四个数中奇数的个数为偶数个, 讨论情况如下:

若选 0 个奇数, 4 个偶数, 选法只有 1 种;

若选 2 个奇数, 2 个偶数, 选法有 $C_4^2 \times C_5^2 = 6 \times 10 = 60$ 种;

若选 4 个奇数, 0 个偶数, 选法有 $C_5^4 = C_5^1 = 5$ 种;

符合要求的情况数为 $1 + 60 + 5 = 66$ 种。

故正确答案为 D。

51. C

题中所给数据都是百分数, 所求也是百分数, 考虑赋值。溶质 (白糖水) 不变, 赋值白糖水为 6 毫升, 根据题意可得:

	溶质	浓度	溶液
第一次加水后	6	3%	$\frac{6}{3\%} = 200$
第二次加水后	6	2%	$\frac{6}{2\%} = 300$

由上表可知: 每次加入的水量为 $300 - 200 = 100$ 毫升, 则第三次加入同样多的水后, $\text{浓度} = \frac{\text{溶质}}{\text{溶液}} = \frac{6}{300 + 100} = 1.5\%$ 。

故正确答案为 C。

52. B

分针速度为 $\frac{360 \text{度}}{60 \text{分钟}} = 6 \text{度/分钟}$, 时针速度为 $\frac{30 \text{度}}{60 \text{分钟}} = 0.5 \text{度/分钟}$ 。标准时间为 5 点 6 分, 由于座钟快 2 分钟, 则座钟实际显示时间为 5 点 8 分。5 点整分针与时针的夹角为 $5 \times 30 \text{度} = 150 \text{度}$, 过 8 分钟后, 分针与时针的夹角缩小 $(6 - 0.5) \times 8 = 44 \text{度}$, 则当座钟显示 5 点 8 分时, 分针与时针的夹角为 $150 - 44 = 106 \text{度}$ 。

故正确答案为 B。

53. D

设老张出发时离上班时间还有 t 分钟, 根据从家到单位的路程不变可得: $50 \times (t + 12) = 150 \times (t - 8)$, 解得 $t = 18$, 即出发时离上班时间还有 18 分钟。

故正确答案为 D。

54. C



根据题意, 赋值这堆沙子的总量为 120, 则每天每辆卡车可运的量为: $\frac{120}{4 \times 3} = 10$, 每辆三轮车可运的量为: $\frac{120}{5 \times 4} = 6$, 每辆手推车可运的量为: $\frac{120}{6 \times 20} = 1$ 。现由 2 辆卡车、3 辆三轮车、7 辆手推车共同运两天后, 剩余沙子的量为: $120 - 2 \times (2 \times 10 + 3 \times 6 + 7 \times 1) = 30$, 必须在两天运完, 每天至少需要手推车的数量为: $\frac{30}{2 \times 1} = 15$ 辆。

故正确答案为 C。

55. A

根据方阵的性质, 相邻两层花盆的数量差为 8, 则原空心方阵最外层花盆数量为 $\frac{64 - 8}{2} + 8 = 36$, 则题目所求为: $36 + 8 = 44$ 盆花。

故正确答案为 A。

56. B

根据题意, 每张扑克牌均被发了三次, 且均被记数加和三次, 总和为 $11 + 17 + 18 + 20 = 66$, 则四张牌的数字和为: $66 \div 3 = 22$ 。

故正确答案为 B。

57. A

设小明答对 x 题, 则答错 $(10 - x)$ 题, 根据其得分为 74 分可列方程: $10x - 3(10 - x) = 74$, 解得 $x = 8$ 。设小华答对 y 题, 则答错 $(10 - y)$ 题, 根据其得分为 22 分可列方程: $10y - 3(10 - y) = 22$, 解得 $y = 4$ 。设小红答对 z 题, 则答错 $(10 - z)$ 题, 根据得分 87 分可列方程: $10z - 3(10 - z) = 87$, 解得 $z = 9$ 。则他们共答对题目数量为: $x + y + z = 8 + 4 + 9 = 21$ 。

故正确答案为 A。

58. D

设 2 月份、3 月份夜间停车时间分别为 m 、 n 。则 2 月份白天停车时间 = $m \times (1 + 40\%) = 1.4m$, 三月份白天停车时间 = $n \times (1 - 40\%) = 0.6n$ 。根据 3 月份的总停车时间比 2 月份多 20% 可得方程: $n + 0.6n = (m + 1.4m) \times (1 + 20\%)$, 解得 $m : n = 1 : 1.8$ 。题干中无具体数值, 且求比例, 因此赋值 m 和 n 分别为 1 和 1.8。设白天时段和夜间时段停车费的单价分别为: a 、 b , 根据题意可得费用之间关系如下表格:

	夜间时间	夜间单价	白天时间	白天单价	总费用
2 月份	$m=1$	b	$1.4m=1.4 \times 1=1.4$	a	$b+1.4a$
3 月份	$n=1.8$	b	$0.6n=0.6 \times 1.8=1.08$	a	$1.8b+1.08a$

根据 3 月份停车费比 2 月份少 20% 可得: $1.8b + 1.08a = (b + 1.4a) \times (1 - 20\%)$, 解得 $a : b = 25 : 1$, 即白天时段与夜间时段停车费的单价之比为 25 : 1。

故正确答案为 D。

59. C



根据题干“当甲冲过终点时, 领先乙 50 米, 领先丙 120 米。当乙到达终点时”, 可得, 当甲跑 400 米时, 乙跑了 $400 - 50 = 350$ 米, 丙跑了 $400 - 120 = 280$ 米。根据时间相同, 速度与路程成正比可知乙丙的速度比 = 乙丙的路程之比 = $350 : 280 = 5 : 4$ 。当乙到达终点时, 即乙跑 400 米时, 根据路程之比等于速度之比可得, $400 : \text{丙跑的路程} = 5 : 4$, 则丙跑的路程 = 320 米, 此时乙领先丙的路程 = $400 - 320 = 80$ 米。

故正确答案为 C。

60. D

由 1、2、3、4 不重复使用数字组成的四位数中, 千位为 1 的个数有 $A_3^3 = 3 \times 2 \times 1 = 6$ 个, 千位为 2 的个数有 $A_3^3 = 3 \times 2 \times 1 = 6$ 个, 千位为 3 的个数有 $A_3^3 = 3 \times 2 \times 1 = 6$ 个, 且 3421 是所组成的千位为 3 的四位数中最大的, 因此按从小到大排列时 3421 排在第 18 位。

故正确答案为 D。

61. A

蚂蚁从 A 点出发到达 B 点后, 满足条件的路径有: B-C、B-F-C、B-F-D-C、B-F-D-E-C、B-E-C、B-E-D-C、B-E-D-F-C, 共 7 条。同理, 从 A 点出发到达 D 点、E 点、F 点后, 满足条件的路径分别有 7 条。因此, 一共有 $7 \times 4 = 28$ 种不同的方法可以到达顶点 C。

故正确答案为 A。

62. B

由于箱子的售价相同, 则要使花钱最少, 要尽量少买箱子; 由于水果的个数为定值, 则要使买的箱子个数最少, 要尽量买装水果多的箱子。桔子: $52 \div 11 = 4 \cdots 8$, 即买 4 个能装 11 个水果的箱子后, 还剩余 8 个桔子, 再买 2 个能装 4 个水果的箱子即可, 因此, 装桔子共需要 $4 + 2 = 6$ 个箱子。苹果: $47 \div 11 = 4 \cdots 3$, 可知若买 4 个能装 11 个水果的箱子, 则剩余的 3 个苹果不能装满任何一种规格的箱子; 若买 3 个能装 11 个水果的箱子, 则剩余 $47 - 3 \times 11 = 14$ 个苹果, 再买 2 个能装 7 个水果的箱子即可, 因此, 装苹果共需要 $3 + 2 = 5$ 个箱子。综上可知, 最少需要买 $6 + 5 = 11$ 个箱子, 则最少需要 $10 \times 11 = 110$ 元。

故正确答案为 B。

63. B

根据题意, “工作效率提高到原来的 2.5 倍, 比改进技术前少用了 12 小时”, 可以找到改进前后时间的等量关系, 即“改进前时间 - 改进后时间 = 12”, 设李师傅改进技术前每小时加工 x 个零件, 则改进技术后每小时加工 $2.5x$ 个零件, 根据等量关系可列式为: $\frac{1000}{x} - \frac{1000}{2.5x} = 12$, 解得 $x = 50$, 则改进技术后每小时加工 $2.5x = 2.5 \times 50 = 125$, 则改进技术后每小时比原来多加工 $125 - 50 = 75$ 个零件。

故正确答案为 B。

64. A

根据题意, 要求“把这两堆碎石都沉入大水池中, 水面会升高多少厘米”, 只需要求出这两堆碎石的体积再除以大水池的底面积即可, 而两堆碎石的体积等于中、小水池水面上升的体积即 $6 \times 6 \times 0.1 + 4 \times 4 \times 0.2 = 6.8$ 立方米, 则如果把这两堆碎石都沉入大水池中, 水面会升高 $6.8 \div (10 \times 10) = 0.068$ 米 = 6.8 厘米。



故正确答案为 A。

65. C

根据题意, “按获利50%定价”, 可知定价为 $120 \times (1 + 50\%) = 180$ 元, 前80%是按原定价售出, 则其利润为 $(180 - 120) \times 80 \times 80\% = 60 \times 80 \times 0.8$; 后20%是打5折售出, 则其利润为 $(180 \times 0.5 - 120) \times 80 \times 20\% = -30 \times 80 \times 0.2$ 。即总的利润 = 打折前利润 + 打折后利润 = $60 \times 80 \times 0.8 - 30 \times 80 \times 0.2 = 80 \times (48 - 6) = 80 \times 42 = 3360$ 元。

故正确答案为 C。

66. D

空间重构题目。根据相对面的判定规则, 同行或同列相隔一个面为相对面, 故展开图, 与正方体中的“诚”相对的字为“敬”。

故正确答案为 D。

67. A

元素组成不同, 无属性规律, 考虑数量规律。观察发现, 每幅图形中都包含有一个面, 排除 D。经观察发现, 题干图形出现多个字母, 第一行和第二行重复出现了 P、R、X, 第三行出现了 P、X, 故? 处可补一个包含 R 的图形, 只有 A 项符合。

故正确答案为 A。

68. C

本题为分组分类题目。元素组成不同, 优先考虑属性规律。观察图形特征,

图①、图③、图⑤既有直线又有曲线, 图②、图④、图⑥仅由直线构成。故①③⑤一组, ②④⑥一组, 只有 C 项符合。

故正确答案为 C。

69. C

元素组成相似, 优先考虑样式规律。观察发现, 题干每幅图的两个元素其中只有一个元素与前一副图相同, 另一个元素与前几幅图完全不同, 只有 C 符合。

故正确答案为 C。

70. A

观察图形, 元素组成相似, 外部轮廓相同, 但内部黑白球颜色不同, 考虑黑白运算。第一行: 黑+白=空、黑+黑=白、白+白=黑; 第二行验证规律成立, 除此之外, 空+黑=白, 黑+黑=白、白+空=空+白=空、第三行应用此规律, 只有 A 项符合。

故正确答案为 A。

注: 第三行根据运算规则, 菱形中心: 空+白=空, 排除 B、D; 剩下 AC 两项无法排除。黑白运算要注意运算的顺序, 但是此题目中前两行中没有黑+白的规则, 而第三行需要用到, 所以根据以往绝大部分运算题目的规则黑+白等于白+黑=空, 排除 C。只有 A 项符合。

71. D

第一步: 找出定义关键词。



“批准申请人的专利权”、“在专利申请之前制造相同产品的人仍可在原范围内继续制造和使用的权利”。

第二步: 逐一分析选项。

A 项: 某公司获得专利权符合“批准申请人的专利权”, 另一公司一年前就已经生产该产品符合“在专利申请之前制造相同产品的人仍可在原范围内继续制造的权利”, 符合定义, 排除;

B 项: 老周将祖传秘方申请专利符合“批准申请人的专利权”, 同样知道该秘方的弟弟继续使用秘方符合“在专利申请之前使用相同方法的人仍可在原范围内继续使用的权利”, 符合定义, 排除;

C 项: 甲公司获得某种产品专利权后符合“批准申请人的专利权”, 之前为生产某种产品安装好了全套设备的乙公司继续生产符合“在专利申请之前已作好制造的必要准备的人仍可在原范围内继续制造的权利”, 符合定义, 排除;

D 项: 虹光机械加工厂获得该项专利符合“批准申请人的专利权”, 之前很多工厂的专业技术人员都在研究激光切割刀不符合“在专利申请之前制造相同产品, 或使用相同方法, 或已作好制造或使用的必要准备的人”, 不符合定义, 当选。

本题为选非题, 故正确答案为 D。

72. D

第一步: 找出定义关键词。

“政府对自己做出的行为或承诺应守信用”、“不得随意变更、反复无常”。

第二步: 逐一分析选项。

A 项: 市环保局对下级部门县级环保局的处罚的更改是因为处罚过重, 此行为只是对处罚进行了修改, 并没有“随意变更、反复无常”, 未违背信赖保护原则, 排除;

B 项: 市场监管局的规定是涉嫌行政垄断被废除, 不是政府自己随意更改, 并没有“随意变更、反复无常”, 未违背信赖保护原则, 排除;

C 项: 某市公安局拟对钱某做出吊销他的特种行业经营许可证, 后经调查证实钱某的行为并未违法, 因此未进行处罚, 并没有“随意变更、反复无常”, 未违背信赖保护原则, 排除;

D 项: 老马引荐大型央企到该市进行投资符合奖励的规定, 但是事后市政府拒绝给付奖励, 违背了“政府对自己做出的行为或承诺应守信用”, 当选。

本题为选非题, 故正确答案为 D。

73. B

第一步: 找出定义关键词。

“刑事诉讼中”、“检察院对犯罪嫌疑人的犯罪事实不清, 证据不确实、充分”、“作出不起诉决定”。

第二步: 逐一分析选项。

A 项: 说明张三没有李四的犯罪证据, 不符合“检察院对被告人是否犯罪或罪行轻重难以确证”。此外, “起诉侵权”属于民事纠纷, 不符合“刑事诉讼”, 不符合定义, 排除;



B项: 因涉嫌投毒被起诉, 符合“刑事诉讼”, 因证据不足说明有证据但不充分, 符合“检察院对犯罪嫌疑人的犯罪事实不清, 证据不确实、充分”、“作出不起诉决定”符合定义, 当选;

C项: 赵六证明了自己不会使用网银, 所以是有证据证明被告人无罪的, 不符合“检察院对犯罪嫌疑人的犯罪事实不清, 证据不确实、充分”, 不符合定义, 排除;

D项: 钱七和马八两人互殴属于民事纠纷, 不符合“刑事诉讼”, 不符合定义, 排除。

故正确答案为B。

74. C

第一步: 找出定义关键词。

“初学者被置于不受重视的部门, 受到无端的批评、指责, 得不到必要的指导和提携”、“帮助年轻人消除不切实际的幻想, 对人与事物有更深入的了解, 为今后的发展打下基础”。

第二步: 逐一分析选项。

A项: 厨师刚入职时切葱姜蒜至少半年, 符合“初学者被置于不受重视的部门”, 符合定义, 排除;

B项: 近一年的时间里, 师傅只让小高整理各种工具, 符合“初学者被置于不受重视的部门, 得不到必要的指导和提携”, 符合定义, 排除;

C项: 李雷自己开了一家烟酒店, 李雷自己就是老板, 十几年来勉强维持生计, 说明他也不属于初学者, 不符合“初学者被置于不受重视的部门, 受到无端的批评、指责, 得不到必要的指导和提携”, 不符合定义, 当选;

D项: 小马每天的主要工作就是接待来访人员、接打电话、打扫卫生等, 一直持续了三年, 符合“初学者被置于不受重视的部门, 受到无端的批评、指责, 得不到必要的指导和提携”, 符合定义, 排除。

本题为选非题, 故正确答案为C。

75. A

第一步: 找出定义关键词。

人身关系: “以人身利益为内容”、“不直接体现财产利益”。

身份关系: “以特定的身份利益为内容”、“不直接体现财产利益”。

第二步: 逐一分析选项。

A项: 穆某收养庞某, 二人是养父子关系, 符合“以特定的身份利益为内容”、“不直接体现财产利益”, 符合定义, 当选;

B项: 汤某将房产赠与孙某涉及到财产利益, 不符合“不直接体现财产利益”, 不符合定义, 排除;

C项: 买卖关系涉及到财产利益, 不符合“不直接体现财产利益”, 不符合定义, 排除;

D项: 房某借给康某一万元涉及到财产利益, 不符合“不直接体现财产利益”, 不符合定义, 排除。

故正确答案为A。

76. A

第一步: 找出定义关键词。

附条件的民事法律行为: “将来发生的”、“不确定的”、“合法事实”。



附期限的民事法律行为: “在民事法律行为中约定一定期限”、“把该期限作为行为人的民事权利、义务发生、变更、消灭的前提”。

第二步: 逐一分析选项。

A 项: 如果我女儿到外地工作, 说明这是“将来发生的”, 但是女儿并不是一定会去外地, 符合“不确定的”的“合法事实”, 符合定义, 当选;

B 项: 太阳从西方升起是将来一定不会发生的事实, 不符合“将来发生的”, 不符合定义, 排除;

C 项: 乙须在合同订立 20 日内支付全部货款是将来发生的确定的事实, 符合“在民事法律行为中约定一定期限”, 属于附期限的民事法律行为, 不符合定义, 排除;

D 项: 丙将乙打伤, 则给丙 5000 元属于不合法的事实, 不符合“合法事实”, 不符合定义, 排除。

故正确答案为 A。

77. A

第一步: 找出定义关键词。

“医学检查并没有发现患者存在身体缺陷”、“患者认为自己具有某种明显缺陷或者某些别人没有发现的体缺陷”、“患者在公众场合露面或者发言, 会觉得非常窘迫”。

第二步: 逐一分析选项。

A 项: 刘梅总在外出前画淡妆不符合“患者认为自己具有某种明显缺陷或者某些别人没有发现的体缺陷”, 也不符合“患者在公众场合露面或者发言, 会觉得非常窘迫”, 不符合定义, 当选;

B 项: 晓丽认为自己的小腿太粗符合“患者认为自己具有某种明显缺陷”, 总是身着长裤或者长裙说明她对自己的小腿不自信, 符合“患者在公众场合露面会觉得非常窘迫”, 符合定义, 排除;

C 项: 大壮认为自己皮肤太黑, 符合“患者认为自己具有某种明显缺陷”, 不愿意同皮肤白皙的女同学有任何交往说明他不自信, 符合“患者在公众场合露面或者发言, 会觉得非常窘迫”, 符合定义, 排除;

D 项: 小袁有点驼背符合“患者认为自己具有某种明显缺陷”, 总感觉服务员在背后议论他的驼背说明他不自信, 符合“患者在公众场合露面或者发言, 会觉得非常窘迫”, 符合定义, 排除。

本题为选非题, 故正确答案为 A。

78. A

第一步: 找出定义关键词。

“人们的思维对要求出现强烈的反弹”。

第二步: 逐一分析选项。

A 项: 妈妈想让她把头发剪短, 小芳偏要留长发, 小芳的思维与妈妈的要求完全相反, 符合“人们的思维对要求出现强烈的反弹”, 符合定义, 当选;

B 项: 小明对自己喜欢的蛋糕很执着, 并没有出现要求, 也未体现思维与要求相反, 不符合“人们的思维对要求出现强烈的反弹”, 不符合定义, 排除;

C 项: 想忘记女友的晓华发现根本忘不了, 属于自己的想法和结果相反, 但并没有出现别人的要求, 不符合“人们的思维对要求出现强烈的反弹”, 不符合定义, 排除;



D项: 小张想把同事的长相和名字记清但是结果是他记不准, 并没有出现别人的要求, 不符合“人们的思维对要求出现强烈的反弹”, 不符合定义, 排除。

故正确答案为A。

79. B

第一步: 找出定义关键词。

“非共同犯罪人”、“明知他人犯罪”、“为其提供隐藏处所、财物, 帮助其逃匿或者作假证明包庇的行为”。

第二步: 逐一分析选项。

A项: 开麻将馆为赌博提供场所和各种便利, 属于共同犯罪, 不符合定义, 排除;

B项: 老张酒后驾车将路人撞死, 表哥老李得知事情经过, 符合“非共同犯罪人”、“明知他人犯罪”, 老李将老张送至山区老家并把肇事车辆藏入山洞中, 符合“为其提供隐藏处所、财物, 帮助其逃匿或者作假证明包庇的行为”, 符合定义, 当选;

C项: 小田盗窃, 老赵将小田盗窃的手机卖给手机回收店, 二人平分赃款, 属于共同犯罪, 不符合定义, 排除;

D项: 警察来到老魏家问询前, 老魏才得知其哥哥五天前杀人潜逃, 说明之前老魏并不知道其哥哥杀人, 不符合“明知他人犯罪”, 不符合定义, 排除。

故正确答案为B。

80. B

第一步: 找出定义关键词。

“被别人用习惯思维的逻辑推理误解”、“屈服于惯性思维”。

第二步: 逐一分析选项。

A项: 并非结婚前必须买房, 结婚前也可以不买房, 所以结婚前必先买房符合“被别人用习惯思维的逻辑推理误解”, 体现出了“屈服于惯性思维”, 符合定义, 排除;

B项: 努力才会有收获是正确的, 是一种正确的逻辑推理, 不符合“被别人用习惯思维的逻辑推理误解”, 不符合定义, 当选;

C项: 并非进学校读书才叫学习, 例如社会历练也是一种学习, 故进学校读书才叫学习符合“被别人用习惯思维的逻辑推理误解”, 体现出了“屈服于惯性思维”, 符合定义, 排除;

D项: 并非到了婚嫁年龄必须结婚, 到了婚嫁年龄也可以不结婚, 所以到婚嫁年龄必须结婚符合“被别人用习惯思维的逻辑推理误解”, 体现出了“屈服于惯性思维”, 符合定义, 排除。

本题为选非题, 故正确答案为B。

81. A

第一步: 判断题干词语间逻辑关系。

毛笔是书法家写字时使用的工具, 二者是工具的对应关系。

第二步: 判断选项词语间逻辑关系。



A 项: 警械是警察在履行职责时依法所使用的专门器械, 二者是工具的对应关系, 与题干逻辑关系一致, 当选;

B 项: 海军驾驶辽宁舰, 辽宁舰不是工具, 与题干逻辑关系不一致, 排除;

C 项: 农民种植庄稼, 庄稼是产物, 并非工具, 与题干逻辑关系不一致, 排除;

D 项: 司机拥有驾驶证才能驾驶, 驾驶证是驾驶的依据, 并非工具, 与题干逻辑关系不一致, 排除;

故正确答案为 A。

82. A

第一步: 判断题干词语间逻辑关系。

“一骑红尘妃子笑”出自杜牧的《过华清宫绝句三首》, 这句诗讲的是杨贵妃喜欢吃荔枝, 皇帝着人用快马运来新鲜的荔枝, 本句诗没有明确写荔枝, 而是通过描写妃子笑来侧面描写荔枝, 二者是对应关系。

第二步: 判断选项词语间逻辑关系。

A 项: “白毛浮绿水”出自骆宾王的《咏鹅》, 这句诗主要描写的是鹅游水嬉戏的神态, 本句诗没有明确写鹅, 而是通过白毛和绿水来侧面描写鹅, 二者是对应关系, 与题干逻辑关系一致, 当选;

B 项: “鲈鱼雪片肥”出自元稹《酬友封话旧叙怀十二韵》, 这句诗直接描写了鲈鱼的鲜美, 与题干逻辑关系不一致, 排除;

C 项: “醉卧沙场君莫笑”出自王翰的《凉州词二首》, 这句诗主要描写的是西北边陲军旅生活的一个场景, 并不是主要描写酒, 与题干逻辑关系不一致, 排除;

D 项: “东风夜放花千树”出自辛弃疾的《青玉案》, 这句诗主要描写的是元宵节的美景, 但元宵节是一个节日, 不是实物, 与题干逻辑关系不一致, 排除;

故正确答案为 A。

83. D

第一步: 判断题干词语间逻辑关系。

狐狸是狡猾的, 狡猾是狐狸的性格特点, 二者是对应关系。

第二步: 判断选项词语间逻辑关系。

A 项: 老虎是凶险的, 但凶险不是老虎的性格特点, 与题干逻辑关系不一致, 排除;

B 项: 豹子的速度很快, 但是速度不是豹子的性格特点, 与题干逻辑关系不一致, 排除;

C 项: 鸽子是纯洁的, 但纯洁不是鸽子的性格特点, 与题干逻辑关系不一致, 排除;

D 项: 狗是忠诚的, 忠诚是狗的性格特点, 与题干逻辑关系一致, 当选。

故正确答案为 D。

84. A

第一步: 判断题干词语间逻辑关系。

玻璃是窗户的组成部分, 二者是组成关系。

第二步: 判断选项词语间逻辑关系。

A 项: 琴键是钢琴的组成部分, 二者是组成关系, 与题干逻辑关系一致, 当选;



B 项: 使用画笔在画布上绘画, 二者是配套使用关系, 与题干逻辑关系不一致, 排除;

C 项: 电脑和鼠标是配套使用关系, 与题干逻辑关系不一致, 排除;

D 项: 秤杆和秤砣是配套使用关系, 与题干逻辑关系不一致, 排除。

故正确答案为 A。

85. B

第一步: 判断题干词语间逻辑关系。

马路上有斑马线, 斑马线是马路的组成部分, 二者是组成关系, 斑马线具有通行的功能, 二者是对应关系。

第二步: 判断选项词语间逻辑关系。

A 项: 彩票和纸张无明显逻辑关系, 与题干逻辑关系不一致, 排除;

B 项: 摄像头是手机的组成部分, 二者是组成关系, 摄像头具有拍照的功能, 二者是对应关系, 与题干逻辑关系一致, 当选;

C 项: 刹车的目的是让汽车停止行驶, 二者不是功能对应关系, 与题干逻辑关系不一致, 排除;

D 项: 落叶松是森林的组成部分, 二者是组成关系, 落叶松不具有环保的功能, 二者不是功能对应, 与题干逻辑关系不一致, 排除。

故正确答案为 B。

86. A

第一步: 判断题干词语间逻辑关系。

东北是寒冷的, 二者是属性对应, 暖气是为了降低寒冷, 二者是对应关系。

第二步: 判断选项词语间逻辑关系。

A 项: 南方是闷热的, 二者是属性对应, 电扇是为了降低闷热, 二者是对应关系, 与题干逻辑关系一致, 当选;

B 项: 西北地区容易刮风, 防风镜是为了防止沙尘进入眼睛, 与题干逻辑关系不一致, 排除;

C 项: 华中和夏天之间不是属性对应, 与题干逻辑关系不一致, 排除;

D 项: 华南是潮湿的, 二者是属性对应, 烘干机是为了烘干衣服, 与题干逻辑关系不一致, 排除。

故正确答案为 A。

87. A

第一步: 判断题干词语间逻辑关系。

太阳发射出阳光, 二者是对应关系, 并且太阳和阳光都是自然产物。

第二步: 判断选项词语间逻辑关系。

A 项: 月亮会发射出月光, 二者是对应关系, 并且月亮和月光都是自然产物, 与题干逻辑关系一致, 当选;

B 项: 台灯会发射出灯光, 二者是对应关系, 但是台灯和灯光是人为产物, 与题干逻辑关系不一致, 排除;



C 项: 野炊会产生炊烟, 二者是对应关系, 但是野炊和炊烟都是人为产物, 与题干逻辑关系不一致, 排除;

D 项: 蜡烛会发出烛光, 二者是对应关系, 但是蜡烛和烛光都是人为产物, 与题干逻辑关系不一致, 排除。

故正确答案为 A。

88. B

第一步: 判断题干词语间逻辑关系。

教师在学校里面工作, 二者是人物和工作地点的对应。

第二步: 判断选项词语间逻辑关系。

A 项: 作者写书, 读者读书, 二者是并列关系, 与题干逻辑关系不一致, 排除;

B 项: 雇员在公司里面工作, 二者是人物和工作地点的对应, 与题干逻辑关系一致, 当选;

C 项: 犯人在监狱服刑, 二者是人物和地点的对应, 但不是工作地点, 与题干逻辑关系不一致, 排除;

D 项: 病人在医院里看病, 二者是人物和地点的对应, 但不是工作地点, 与题干逻辑关系不一致, 排除。

故正确答案为 B。

89. C

逐一代入选项。

A 项: 芯片是手机的组成部分, 二者是组成关系, 演员演电影, 二者是对应关系, 前后逻辑关系不一致, 排除;

B 项: 手机具有通讯的功能, 二者是功能对应, 电影具有娱乐性, 二者是属性对应, 前后逻辑关系不一致, 排除;

C 项: 销售手机, 二者是动宾结构, 放映电影, 二者是动宾结构, 前后逻辑关系一致, 当选;

D 项: 在有网络的条件下, 手机能够使用更多的功能, 二者是条件对应, 电影在荧幕上放映, 二者是地点对应关系, 前后逻辑关系不一致, 排除;

故正确答案为 C。

90. C

逐一代入选项。

A 项: 各种样式的家具, 样式是家具的特点, 二者是属性对应, 城墙具有防御的功能, 二者是功能对应, 前后逻辑关系不一致, 排除;

B 项: 合页是家具的组成部分, 二者是组成关系, 城门和城墙是并列关系, 前后逻辑关系不一致, 排除;

C 项: 木材是制作家具的原材料, 二者是对应关系, 墙砖是建设城墙的原材料, 二者是对应关系, 前后逻辑关系一致, 当选;

D 项: 制造家具, 二者是动宾结构, 在城墙上巡逻, 二者是地点对应, 前后逻辑关系不一致, 排除。



故正确答案为 C。

91. A

依据题干信息甲、乙、丙、丁 4 人都说对了。丁说：“必须在廊坊建立分公司”可见廊坊必须出现在选项中，排除 C 项。又因为 A 项是“且关系”表示缺一不可，B、D 项是“或关系”表示可能会有廊坊。

故本题答案 A 项。

92. D

第一步：找到论点论据。

论点：戒酒有助于减肥。

论据：将参与者分为两组，一组不戒酒，保持以前的饮酒习惯；另一组完全戒酒。四个月对实验参与者测量体重，发现戒酒组成员的体重平均减少了 3 公斤，而非戒酒组成员的体重基本不变。

本题论点和论据都在讨论戒酒和减肥之间的关系，话题一致，加强预设的方式是补充论据。同时本题属于分组实验类的题目，可以考虑补充实验的前提是一致的。

第二步：逐一分析选项。

A 项：题干做实验的过程中是对实验参与者测量体重，也就是实验者只需要和自己比就行，不需要对照比较，无法加强，排除；

B 项：题干做实验的过程中是对实验参与者测量体重，也就是实验者只需要和自己比就行，不需要对照比较，无法加强，排除；

C 项：除戒酒外，每个实验参与者的饮食习惯基本相同，意味着现在所有参与人员是同一饮食标准，由于不知道之前每个人的饮食习惯，因此无法确定是戒烟的原因，无法加强，排除；

D 项：除戒酒外，每个实验参与者的其他生存条件基本不变，意味着这个实验中参与者是自己前后除了戒酒，其余没有变化，说明体重下降确实是戒酒的因素，补充论据加强，当选。

故正确答案为 D。

93. A

第一步：翻译题干。

题干中小芳的话化简为“所有 A 是 B”，大丽的观点：不同意。

第二步：通过提问判断选项的正确。

而大丽的观点是小芳的话的矛盾命题，“有的 A 不是 B”，即有的人爱吃雪花梨皮肤却不白。

故正确答案为 A。

94. D

第一步：翻译题干。

题干的逻辑形式为：A 是 B，C 不是 B，所以 C 不是 A

第二步：逐一分析选项。

A 项：A 是 B，C 是 D，所以 C 不是 A，与题干逻辑形式不一致，排除；

B 项：A 是 B，C 不是 A，所以 C 不是 B，与题干逻辑形式不一致，排除；



C项: A是B, C不是B, 所以C不是D(此处A代表的是白洋淀的渔民, 而选项是白洋淀), 与题干逻辑形式不一致, 排除;

D项: A是B, C不是B, 所以C不是A, 与题干逻辑形式一致, 当选。

故正确答案为D。

95. A

本题属于数独型分析推理, 信息量最大优先并结合选项快速做题。信息量最大的空格为第三行前两个空, 横行不能填入冬、春, 第一列不能填入秋, 第二列不能填入夏, 所以第三行应该是: 夏、秋、冬、春, 如图所示。

同理第四行前第最后一个空, 横行不能填入夏、秋, 列不能填入春, 所以第四行应该是: 春、夏、秋、冬, 如图

A	B	C	D
秋			
夏	秋	冬	春
春	夏	秋	冬

故A处只能是冬, 排除BD, 又因为B不能为秋, 排除C。

故正确答案为A。

96. D

第一步: 找出论点和论据。

论点: 新能源电动汽车将在未来十年内取代燃油汽车

论据: 越来越多的企业和个人因节能环保、绿色低碳而考虑购买新能源电动汽车

第二步: 逐一分析选项。

A项: 说的是燃油汽车的安全性高于电动汽车, 至于其他方面的情况不确定, 所以并不确定燃油汽车会不会被电动汽车取代, 无法削弱, 排除;

B项: 说的是燃油汽车的销售价格低, 与燃油汽车会不会被电动汽车取代没有关系, 话题不一致, 为无关项, 排除;

C项: 说的是电动汽车对环境的污染严重, 对环境污染严重与其是否会普及, 会不会取代燃油汽车没有关系, 为无关项, 排除;

D项: 说的是电动汽车的普及对电力的需求无法得到满足, 也就是说电动汽车的普及是没有办法做到的, 直接否定论点, 为削弱项, 当选。



故正确答案为 D。

97. C

第一步: 找出论点和论据。

论点: 许多影视放映场所为了增加其票房收入, 把一些并不包含有关限制内容的影视片也标以“少儿不宜”

论据: 无明显论据

根据提问方式, 是要找论点成立的必要条件, 所以属于加强论证。

第二步: 逐一分析。

I 中“少儿不宜”的影视片对成年人无害, 与增加其票房收入无直接关系, 如果“少儿不宜”的影视片对成年人有害, 其实也是有可能增加其票房收入的, 所以属无关选项, 不能加强;

II 中成年观众在数量上要大大超过少儿观众, 通过限制少儿观众满足成年观众从而增加其票房收入, 加强论点;

III 中成年人普遍对标明“少儿不宜”的影视片感兴趣, 一定程度上增加了成年观众, 从而增加其票房收入, 加强论点。

故正确答案为 C。

98. C

第一步: 分析题干信息。

论点: 提高机场停车费收入

论据: T1 收费标准: 由每小时 5 元改成了 2 小时之内收费 10 元, 而后每小时收费 5 元; T2 的收费标准: 每 12 小时 20 元, 没有发生变化

第二步: 逐一分析选项。

A 项: 说的是长时间将车停在机场的一般将车停在 T2 区, 但是 T2 区的收费标准没有变, 机场 T2 区停车费收入也就没有增加, 至于 T1 区的停车情况没有提到, 停车费用也没提到, 不能加强, 排除;

B 项: 说的是 T1 区的运行成本一直高于停车费收入, 论点要讨论的是 T1 收费标准修改后可以提高机场停车费收入, 话题不一致, 为无关项, 排除;

C 项: 说的是在 T1 区内一次停车超过 1 小时的车辆很少, 也就是在 T1 区停车的时间都在 1 小时以内, 按照以前的收费标准, 一辆车的收费是 5 元, 根据改后的收费标准, 每辆车的收费是 10 元, 也就是停车费用明显增加, 为加强项, 当选;

D 项: 说的是 T1 区扩建后不会出现停车位紧张的情况, 每天停车的数量, 时间都没有涉及, 停车费的收入是增加还是减少也没有提到, 不能加强, 排除。

故正确答案为 C。

99. D

第一步: 翻译题干

①脱脂、脱单、脱贫处理不当→心理问题

②解决脱脂、脱单、脱贫→改变不良的生活方式



③-脱脂、脱单、脱贫有效解决→-幸福到来

第二步: 逐一分析选项

A 项: 翻译为“脱脂、脱单、脱贫有效解决→幸福很快就会到来”, 是对③的否前, 否前推不出必然结论, 排除;

B 项: 翻译为“-幸福到来→-脱脂、脱单、脱贫有效解决”, 是对③的肯后, 肯后推不出必然结论, 排除;

C 项: 翻译为“心理问题→三大问题处理不当”, 是对①的肯后, 肯后推不出必然结论, 排除;

D 项: 翻译为“解决脱脂、脱单、脱贫→改变不良的生活方式”, 是对②的肯前必肯后, 可以推出, 当选。

故正确答案为 D。

100. B

第一步: 找出论点和论据。

论点: 中国垄断稀土资源, 对世界其他国家“有极大的破坏性”, 要求中国放宽对稀土产业的控制

论据: 1998 年以来, 中国开始减少稀土开采, 控制稀土出口配额, 加强稀土行业的集中度

第二步: 逐一分析选项。

A 项: 说的是稀土的重要性, 中国需要足够的战略储备, 论点讨论的是中国垄断稀土资源, 对世界其他国家的影响不好, 话题不一致, 为无关项, 排除;

B 项: 说的是中国稀土储量占全球储量的 36%, 而产量占世界总产量的 85%, 说明中国没有垄断稀土资源, 反而对世界稀土产业的贡献是极大的, 直接否定论点, 当选;

C 项: 说的是从 1980 年起, 中国一些地方对稀土滥采滥挖, 造成资源的严重浪费和对环境的极大破坏, 并没有提到中国对稀土的垄断, 也没有提到对其他国家的影响, 无法削弱, 排除;

D 项: 说的是中国的稀土的产量不足以满足其他国家对稀土的需求, 并不能说明中国垄断稀土资源, 与论点话题不一致, 为无关项, 排除。

故正确答案为 B。

101. D

由题目问“2018 年 1-4 月, 太阳能电池产量数值”, 材料时间为 2019 年 1-4 月, 判定本题为基期计算问题。

结合表中数据可得“2019 年 1-4 月, 太阳能电池产量为 125.9 万千瓦, 同比增长 -6.7%”, 根据公式 $\frac{\text{现期}}{\text{基期}} = 1 + r$, 则所求量 = $\frac{125.9}{1 - 6.7\%} > 125.9$ 万千瓦, 只有 D 项满足。

故正确答案为 D。

102. B

结合表中数据可得“2019 年 1-4 月, 铁矿石原矿产量 10055.7 万吨; 2019 年 4 月, 铁矿石原矿产量 2338.9 万

吨”, 题目所求为: $10055.7 - 2338.9 = 7716.8$ 万吨。

故正确答案为 B。



103. A

由题目问“2018年1-3月, 锂离子电池产量”, 材料时间为2019年1-4月和2019年4月, 判定本题为基期和差问题。结合表中数据可得“2019年1-4月, 锂离子电池产量1052.5万只, 同比增长2.7%; 2019年4月, 锂离子电池产量406.9万只, 同比增长52.8%”, 题目所求为:

$$\frac{1052.5}{1+2.7\%} - \frac{406.9}{1+52.8\%} \approx \frac{1052.5}{1.03} - \frac{406.9}{1.53} \approx 1022 - 266 = 756 \text{ 万只, 与 A 项接近。}$$

故正确答案为 A。

104. C

结合表中数据, 2019年1-3月, 下列工业主要产品产量分别为:

乳制品: $117.3 - 28.9 \approx 88$ 万吨; 钢材: $8902.6 - 2526.3 \approx 6400$ 万吨。可得乳制品 < 钢材, 排除 A 项。

化学纤维: $31.6 - 7.9 \approx 24$ 万吨, 饮料: $196.7 - 50.5 \approx 146$ 万吨。可得化学纤维 < 饮料, 排除 B 项。

生铁: $7306.9 - 2015.3 \approx 5300$ 万吨; 钢材: $8902.6 - 2526.3 \approx 6400$ 万吨; 水泥: $2365.4 - 1023.1 \approx 1300$ 万吨; 单晶硅: $182704.3 - 51555.5 \approx 130000$ 万克 = 0.13万吨, 产量满足: 钢材 > 生铁 > 水泥 > 单晶硅, 正确。

故正确答案为 C。

105. D

A 项: 结合表中数据, 2019年4月汽车产量同比增长-7.5%; 1-4月同比增长2.7%。1-4月同比增速由4月和1-3月混合而成, 结合混合增长率结论“居中不正中”, 则2019年1-3月汽车产量同比增长率应大于2.7%, 故为正增长, 正确;

B 项: 结合表中数据, 2019年1-4月, 集成电路产量同比增长-14.3% < 0, 故同比呈萎缩态势, 正确;

C 项: 结合表中数据, 2019年4月服装产量同比增长-15.3%; 1-4月同比增长-13.7%。1-4月同比增速由4月和1-3月混合而成, 结合混合增长率结论“居中不正中”, 则2019年1-3月汽车产量同比增长率应大于-13.7%, 正确;

D 项: 结合表中最后一列, 2019年1-4月, 新能源汽车同比增速(8368.2%)大于化学纤维(47.3%), 错误。

本题为选非题, 故正确答案为 D。

106. C

由题干“按照2017年价格计算, 2018年……约为多少元”, 可判定本题为现期计算问题。定位材料第一段: “2018年, 全国居民人均消费支出19853元, 比上年名义增长8.4%, 扣除价格因素, 实际增长6.2%”。根据公式: 现期 = 基期 × (1 + 增长率), 由于按2017年价格计算, 则基期为2017年的量, 增长率为实际增长率。则题干所求

$$= \frac{19853}{1+8.4\%} \times (1+6.2\%) \approx \frac{19853}{1.08} \times 1.06 \approx 19485, \text{ 与 C 项最接近。}$$

故正确答案为 C。

107. B



由题干“2018…比…高”且选项都是百分数, 可判定本题为增长率计算问题。定位材料第一段: “2018年, ……其中, 城镇居民人均消费支出 26112 元, …; 农村居民人均消费支出 12124 元, …”。根据公式:

$$\text{增长率} = \frac{\text{现期} - \text{基期}}{\text{基期}} = \frac{\text{现期}}{\text{基期}} - 1, \text{ 则题干所求} = \frac{26112}{12124} - 1 = 2^+ - 1 = 1^+, \text{ 仅 B 项符合。}$$

故正确答案为 B。

108. B

定位图形可知: 支出最少的项目是其它用品及服务, 比重为 2.40%; 支出最多的项目是食品烟酒, 比重为 28.40%。则题干所求 = 28.40 - 2.40 = 26%, 即 26 个百分点。

故正确答案为 B。

109. A

由题干“2017年……支出排在前三(降序)的是”, 结合材料时间为 2018 年, 可判定本题为基期比较问题。定位材料第二段: “(2018 年) 全年全国居民人均食品烟酒消费支出 5631 元, 比上年增长 4.8%; ……人均居住消费支出 4647 元, 增长 13.1%; ……人均交通通信消费支出 2675 元, 增长 7.1%; 人均教育文化娱乐消费支出 2226 元,

增长 6.7%; 人均医疗保健消费支出 1685 元, 增长 16.1%”, 根据公式: $\text{基期} = \frac{\text{现期}}{1 + \text{增长率}}$, 则 2017 年各种消费支出分别为: 食品烟酒: $\frac{5631}{1 + 4.8\%} = 5000^+$; 居住: $\frac{4647}{1 + 13.1\%} = 4000^+$; 交通通信: $\frac{2675}{1 + 7.1\%} = 2500^+$; 教育文化: $\frac{2226}{1 + 6.7\%} < 2226$; 医疗保健: $\frac{1685}{1 + 16.1\%} = 1000^+$ 。则排前三(降序)即从大到小排序的是: 食品烟酒、居住、交通通信。

故正确答案为 A。

110. D

定位文字材料第二段可知: 人均居住消费支出增长 13.1%, 人均生活用品及服务消费支出增长 9.1%, 人均交通通信消费支出增长 7.1%, 人均医疗保健消费支出增长 16.1%。则增长速度最快的是人均医疗保健消费支出。

故正确答案为 D。

111. D

根据题干“增长人数最多的一年是”, 可判定本题为增长量比较问题。定位柱形图可知, 2014-2018 年普通本专科招生人数分别为 721 万人、738 万人、749 万人、761 万人、791 万人, 根据公式“增长量 = 现期量 - 基期量”可得, 2015 年增长 738 - 721 = 17 万人、2016 年增长 749 - 738 = 11 万人、2017 年增长 761 - 749 = 12 万人、2018 年增长 791 - 761 = 30 万人, 增长最多的为 2018 年。

故正确答案为 D。

注: 本题题干不严谨, 应表述为“2014-2018 年, 普通本专科招生人数增长最多的一年是”。但由于材料给只给了 2014-2018 年的招生人数, 没有给 2014-2018 年在校生人数和毕业生人数, 所以只能按招生人数来做题。

112. B



根据题干“下降最少的一年是”, 可判定本题为增长量比较问题。定位柱形图可知, 2014-2018 年中等职业教育招生人数分别为 620 万人、601 万人、593 万人、582 万人、557 万人, 根据公式“增长量=现期量-基期量”可得, 2015 年增长量=601-320=-19, 即下降 19 万人, 2016 年增长量=593-601=-8, 即下降 8 万人, 2017 年增长量=582-593=-11, 即下降 11 万人, 2018 年增长量=557-582=-25, 即下降 25 万人, 下降最少的为 2016 年。

故正确答案为 B。

113. A

定位文字材料可知: 2018 年初中在校生 4652.6 万人, 普通小学在校生 10339.3 万人, 因此九年义务教育阶段

的在校生人数为 4652.6+10339.3=14991.9 万人。

故正确答案为 A。

114. A

定位文字材料可知, 2018 年研究生教育毕业生 60.4 万人, 普通高中毕业生 779.2 万人, 普通小学毕业生 1616.5 万人, 特殊教育毕业生 8.1 万人, 毕业生人数最少的是特殊教育。

故正确答案为 A。

115. C

A 项: 定位文字材料可知, 2018 年普通小学招生 1867.3 万人, 在校生 10339.3 万人, 毕业生 1616.5 万人, 招生人数、在校生人数、毕业生人数均是最多的, 正确;

B 项: 定位柱形图可知, 2014-2018 年普通本专科招生人数分别为 721 万人、738 万人、749 万人、761 万人、791 万人, 人数逐年增加, 即高中毕业后进入大学念书的人逐年增加, 正确;

C 项: 定位柱形图可知, 2014-2018 年普通高中招生人数分别为 797 万人、797 万人、803 万人、800 万人、793 万人, 并没有逐年下降, 错误;

D 项: 定位文字材料可知, 2018 年普通本专科毕业生 753.3 万人, 研究生教育招生 85.8 万人, $\frac{85.8}{753.3} > 10\%$, 即继续接受研究生教育的超过大学毕业生的一成, 正确。

本题为选非题, 故正确答案为 C。

116. C

根据题干“2017 年……约为多少元?” 结合材料时间为 2018 年, 可判定本题为基期计算问题。定位材料第一段可知: “2018 年, 河北省城镇非私营单位在岗职工平均工资 71633 元, 比上年增长 9.8%”。根据公式,

基期量 = $\frac{\text{现期量}}{1 + \text{增长率}}$, 因此, 2017 年河北省城镇非私营单位在岗职工工资 = $\frac{71633}{1 + 9.8\%} \approx \frac{71633}{1.10} \approx 65121$, 与 C 选项最接近。

故正确答案为 C。

117. C



根据题干“2018年……比……多几倍”, 可判定本题为一般增长率问题。定位材料第二段可知: 2018年平均工资最高的行业是科学研究、技术服务业, 年平均工资为93052元; 年平均工资最低的行业是农、林、牧、渔业, 年平均工资为23402元。因此年平均工资最高的行业比最低的行业多

$$= \frac{93052 - 23402}{23402} = \frac{93052}{23402} - 1 \approx \frac{93052}{23000} - 1 \approx 3 \text{倍。}$$

故正确答案为C。

118. D

定位文字材料第三段, 2018年, 全省城镇私营单位就业人员年平均工资为39512元。分设区市看, 廊坊49259元、唐山41716元、石家庄(不含辛集)40756元、秦皇岛40535元、保定(不含定州)39197元、衡水38174元、沧州37611元、邯郸37394元、承德36986元、张家口34922元和邢台33397元。因此高于全省平均水平的设区市有廊坊49259元、唐山41716元、石家庄(不含辛集)40756元、秦皇岛40535元, 共4个。

故正确答案为D。

119. B

定位文字材料第一段, 2018年, 河北省城镇非私营单位就业人员年平均工资为68717元, 分设区市看, 全省有5个市就业人员年平均工资超过全省平均水平, 分别是廊坊85563元、石家庄(不含辛集市)73903元、唐山71894元、秦皇岛71316元, 沧州70361元。就业人员平均工资排在第6位到第11位的分别是保定(不含定州市)66548元, 张家口64084元、邢台61527元、承德61475元、衡水60987元、邯郸59888元。2018年, 定州市和辛集市城镇非私营单位就业人员平均工资分别为66563元和56890元。

A选项四个城镇从低到高排列为: 衡水<张家口<唐山<廊坊, 错误;

B选项四个城镇从低到高排列为: 承德<定州<秦皇岛<唐山, 正确;

C选项四个城镇从低到高排列为: 辛集<衡水<邢台<沧州, 错误;

D选项四个城镇从低到高排列为: 邯郸<张家口<定州<廊坊, 错误。

故正确答案为B。

120. A

A选项, 定位材料第二段, “分国民经济行业门类看, 高于全省平均工资的行业有8个。年平均工资最高的三个行业中, 科学研究、技术服务业93052元, 电力、热力、燃气及水的生产和供应业91575元, 信息传输、软件和信息技术服务业86861元”。因此信息传输、软件和信息技术服务业平津工资高于全省平均水平, 选项表述正确;

B选项, 定位材料第四段可知, 中层及以上管理人员平均工资最高, 是全部就业人员平均水平的1.86倍; 社会生产服务和生活服务人员平均工资最低, 是全部就业人员平均水平的76.8%。因此, 岗位平均工资最高与最低之比为: 12.4: 1, 并非1.9: 1, 选项表述错误;



C 选项, 定位材料第三段可知, 2018 年, 辛集市城镇私营单位就业人员年平均工资为 37351 元; 定位材料第一段可知, 2018 年, 辛集市城镇非私营单位就业人员平均工资为 56890 元。37351 元 < 56890 元, 即辛集市城镇私营单位就业人员年平均工资低于城镇非私营单位就业人员年平均工资, 并非高于, 选项表述错误;

D 选项, 定位材料第一段可知, 2018 年, 河北省城镇非私营单位就业人员年平均工资的增幅为 9.0%; 定位材料第四段可知, 2018 年全部规模以上企业就业人员年平均工资的增幅为 13.1%。9.0% < 13.1%, 即河北省城镇非私营单位就业人员年平均工资增幅低于全部规模以上企业就业人员年平均工资增幅, 并非高于, 选项表述错误。

故正确答案为 A。